


# Урок математики



# ТЕМА УРОКА: РЕШЕНИЕ ЛОГИЧЕСКИХ


## ЗАДАЧ





## Шарики

Раскрась шарики так,  
чтобы красный шарик был  
больше жёлтого шарика,  
но меньше зелёного.






# Рабочая тетрадь

## Пирамидка

У пирамидки самое большое кольцо — жёлтое. Над жёлтым кольцом — красное. Зелёное кольцо между красным и синим. Синее кольцо рядом с коричневым. Раскрась кольца пирамидки.




аблицу.



# Рабочая тетрадь

## Мышка, сыр и кошка

Рассмотри рисунки и заполни таблицу.



Предложения	Верно + / Неверно -
1. Сыр между кошкой и мышкой.	
2. Мышка не рядом с сыром.	
3. Кошка левее мышки.	
4. Сыр левее всех.	
5. Сыр справа от мышки.	





# Рабочая

## Слова

Девочки писали слова. Оля написала больше Ани, а Гульнара меньше, чем Аня.

Обведи верную схему.

1. Оля —————  
Гульнара —————  
Аня —————

2. Оля —————  
Гульнара —————  
Аня —————

3. Оля —————  
Гульнара —————  
Аня —————



# Рабочая

## Виды спорта

# тетрадь

Мальчики занимаются плаванием, шахматами и боксом. Арлан не умеет боксировать, Марат не умеет плавать, а Славе папа подарил новую шахматную доску. Чем занимается каждый мальчик?

Заполни таблицу.

	плавание	шахматы	бокс
Арлан			
Марат			
Слава			

Допиши имена мальчиков.

Плавание — \_\_\_\_\_.

Шахматы — \_\_\_\_\_.

Бокс — \_\_\_\_\_.

