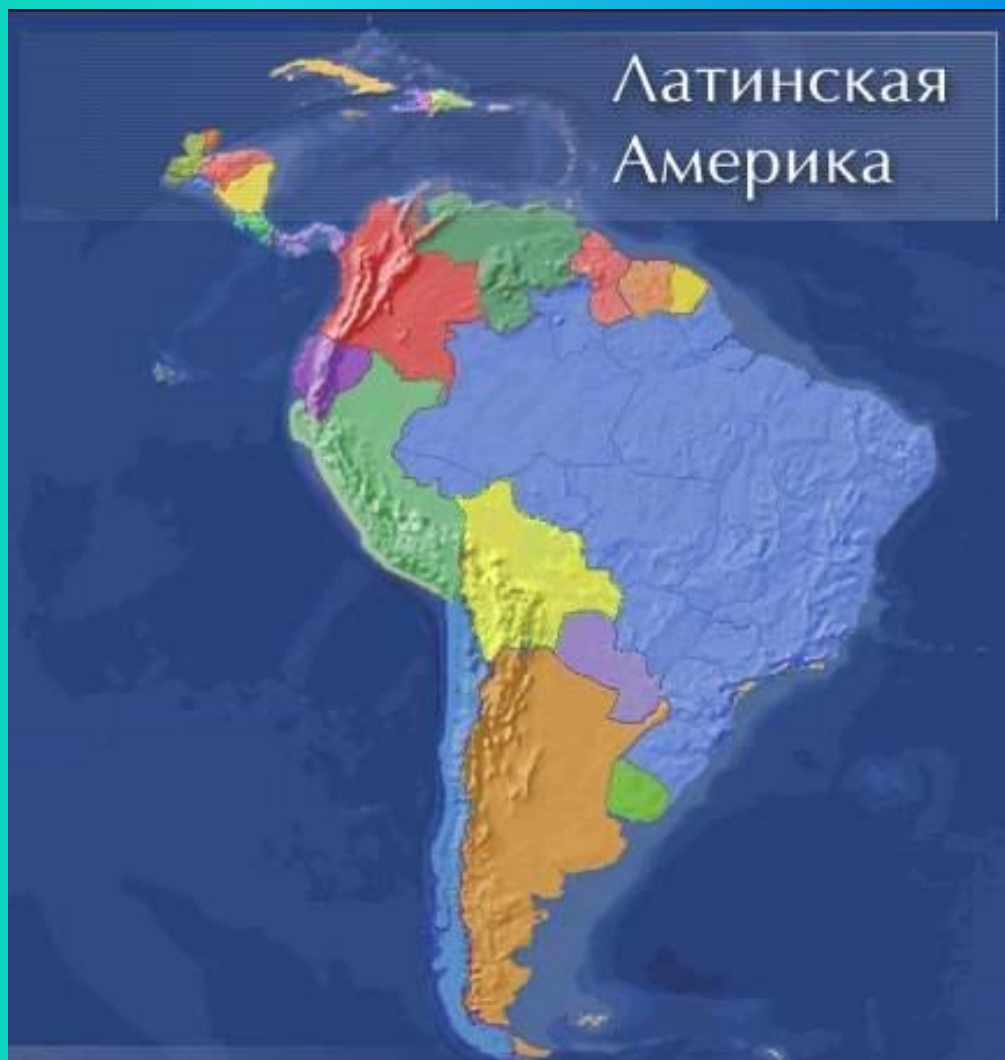


# Латинская Америка



# Латинская Америка



Латинская Америка – регион, расположенный между США и Антарктидой.

В него входят:


- 1) Мексика
- 2) страны Центральной Америки
- 3) Вест-Индия
- 4) Южная Америка

Площадь – 21 млн.кв.км

Население – 520 млн.человек

# Политическая карта

Латинская Америка



**33**  
суверенных  
государства

владения  
Великобритании  
(7) и США (1)

заморские  
департаменты  
Франции (3)

Заморские части  
Королевства  
Нидерландов (2)

Свободно  
ассоциированное  
с США государство  
(1)





## Страны Южной Америки

- 1) Аргентина
- 2) Бразилия
- 3) Боливия
- 4) Венесуэла
- 5) Гайана
- 6) Гвиана  
(Французская)
- 7) Колумбия
- 8) Парагвай
- 9) Перу
- 10) Суринам
- 11) Уругвай
- 12) Чили
- 13) Эквадор



# Политическая карта

## Мексика и Центральная Америка

- Мексика
- Белиз
- Гватемала
- Гондурас
- Коста-Рика
- Никарагуа
- Панама
- Сальвадор





# Политическая карта

## Вест-Индия (Карибские страны)

- 1) Багамские острова
- 2) Гаити
- 3) Доминиканская республика
- 4) Куба
- 5) Ямайка



# Административно-территориальное устройство

В Латинской Америке преобладают *унитарные государства*, но самые крупные страны - *федерации*



*Аргентина*



*Венесуэла*



*Мексика*

*Бразилия*



*Сент-Китс  
и Невис*


# Общая характеристика стран Латинской Америки

Страны Латинской Америки – бывшие колонии Португалии и Испании

Страны Латинской Америки стали независимыми в начале XIX в.

Этнический состав: индейцы, европейские переселенцы (креолы), африканцы

Высокие темпы роста населения, большая доля молодежи



Экономическая зависимость от США

Религиозный состав – в большинстве католики





# Природные ресурсы Латинской Америки

## Богатые природные ресурсы

**Нефть**

**Венесуэла, Мексика, Эквадор**

**Железная руда**

**Бразилия, Венесуэла, Чили, Перу, Мексика**

**Медная руда**

**Чили, Перу, Мексика**

**Бокситы**

**Ямайка, Суринам, Бразилия**

**Драг. металлы**

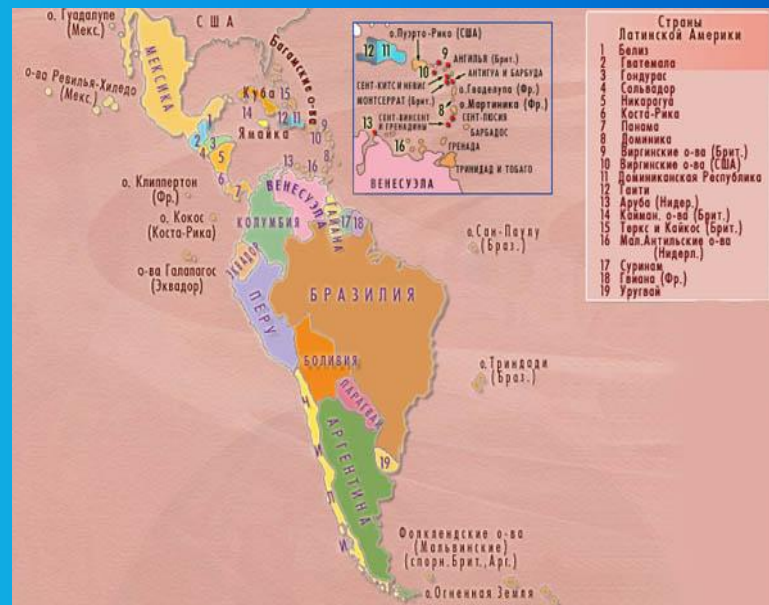
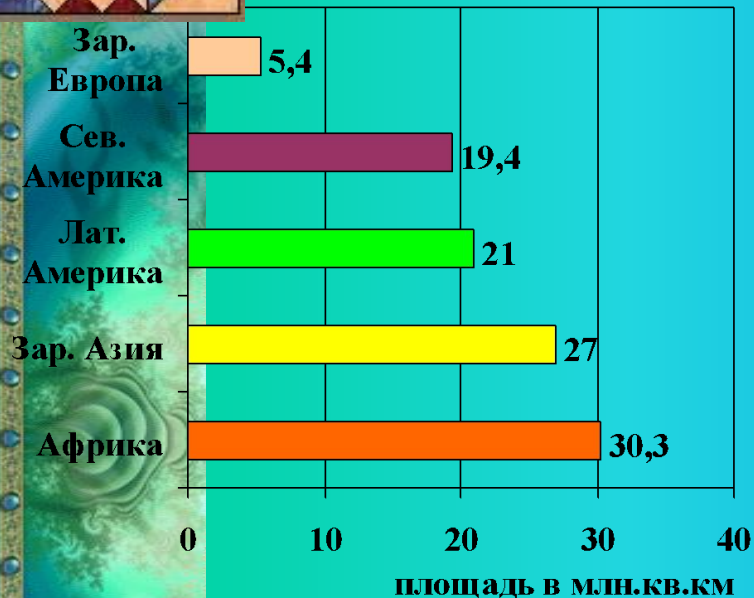
**Колумбия, Бразилия, Перу**

**Значительные гидроресурсы**

**Тропические леса**

**Рекреационные ресурсы**

# Площадь Латинской Америки.



Состав. Политическая карта

## Состав субрегионов Латинской Америки.

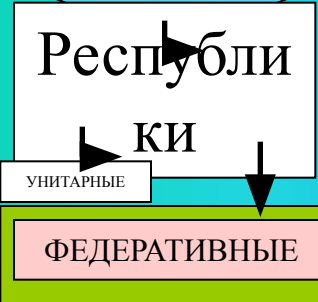
Мексика	Центральная Америка	Вест-Индия	Андские страны	Страны бассейна Ла-Платы	Бразилия
<i>Мексика</i>	<i>Гватемала Сальвадор Гондурас Белиз Никарагуа Коста-Рика</i>	<i>Куба, Гаити, Доминиканская Республика, Багамские острова, Ямайка,</i>	<i>Венесуэла Колумбия Эквадор Перу Боливия</i>	<i>Парагвай Уругвай Аргентина</i>	<i>Бразилия</i>

# Политическая карта региона.

Государство	Форма правления	Форма территориального устройства
Тринидад и Тобаго	Р	У
Колумбия	Р	У
Венесуэла	Р	Ф
Эквадор	Р	У
Перу	Р	У
Боливия	Р	У
Чили	Р	У
Бразилия	Р	Ф
Парагвай	Р	У
Уругвай	Р	У
Аргентина	Р	Ф
Мексика	Р	Ф
Гватемала	Р	У
Гондурас	Р	У
Сальвадор	Р	У
Никарагуа	Р	У
Коста-Рика	Р	У
Панама	Р	У
Куба	Р	У

46  
госу  
дарс

сувере  
нных



Бразилия,  
Мексика,  
Аргентина,  
Венесуэла,  
Сент-Китс  
и Невис.

В настоящее время в пределах региона расположено 46 государств и владений некоторых стран Европы и США. Независимых государств в регионе 33.

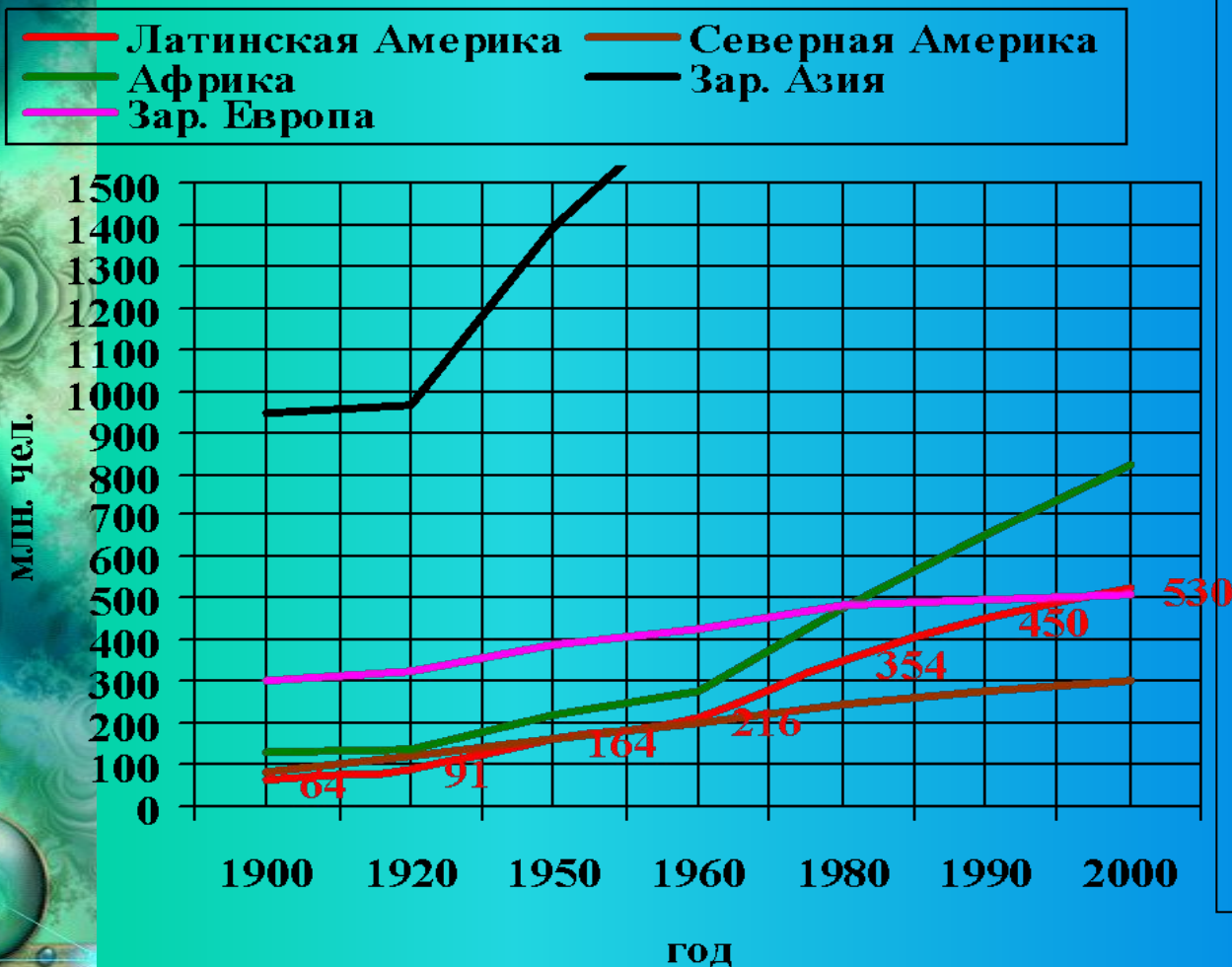
По форме правления страны Латинской Америки отличаются большей однородностью. Все они являются республиками. Особое место занимает Куба — единственная страна региона, относящаяся к социалистическим государствам.

По форме административно-территориально-го устройства в Латинской Америке преобладают унитарные государства. Четыре самых крупных её страны и одно государство Вест-Индии имеют федеративное устройство.



# Население Латинской Америки

Прик. Динамика роста численности населения Латинской Америки.



## ЗАДАНИЕ.

Проанализируйте график динамики роста численности населения

Латинской Америки и ответьте на следующие вопросы:

1. Какова численность населения Латинской Америки?
2. Во сколько раз возросла численность населения региона с начала XX века?
3. Сравните динамику роста численности населения Латинской Америки с другими регионами.

# Воспроизводство населения и естественный прирост.

лаза стр. 10-11.

«Рождаемость»

«Смертность»

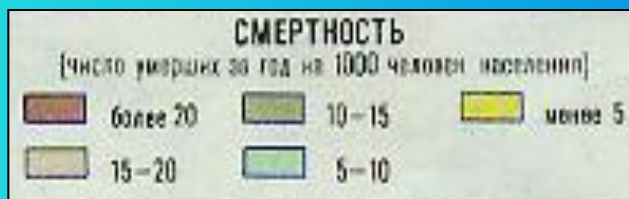
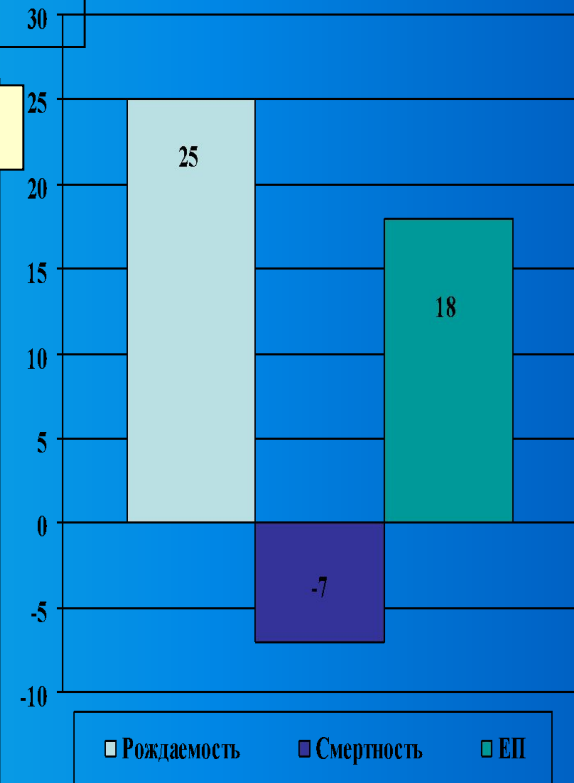
Щелкни мышкой 2 раза.

2. Рассмотрим тематическую карту «Смертность». Как видно, на карте преобладает светло-зелёная окраска, следовательно, число умерших за год на 1000 жителей Лат. Америки составляет в среднем 7 чел.

«Рождаемость». Как видно, на карте преобладающий цвет – желтый, следовательно, число родившихся за год на 1000 жителей Лат. Америки составляет в среднем 25 чел. (Рассмотрев карту, щелкни мышку 2 раза).

Теперь проанализируем, полученные сведения из карт и рассмотрим диаграмму «Естественный прирост». Зелёный столбик показывает количество родившихся за год на 1000 жителей (25), синий столбик – количество умерших за год на 1000 жителей (7). А сиреневый столбик показывает разницу между числом родившихся и умерших ( $25 - 7 = 18$ ). Значит численность населения Лат. Америки растет со скоростью 18 чел. на 1000 жителей в год. («Если тебе не лень?» Рассчитайте, зная численность населения Лат. Америки на 2000 г, сколько жителей стало в это регионе в 2001 и т.д.).

Естественный прирост населения Латинской Америки.



*Проанализировав карты и диаграмму, можно сделать вывод, что для Лат. Америки характерен II тип воспроизводства. Это влияет на численность и возрастную структуру населения региона.*



# ЭтНИЧЕСКИЙ СОСТАВ НАСЕЛЕНИЯ.



Для этнического расового состава населения Латинской Америки характерна большая сложность, что связано с особенностью её исторического развития. Многие представители крупных этносов образовались в этом регионе уже в новое время. В их формировании участвовали три главных элемента: коренное индейское население, эмигранты из стран Европы и рабы, вывозившиеся из Африки.




Древний храм ацтеков.



Сохранившиеся памятники доколумбового периода свидетельствуют о высоком уровне развития культуры ацтеков, майя и инков.

Эта культура была полностью разрушена испано-португальскими завоевателями.

Эрнандес Кортес в 1521 г. с невероятной жестокостью разрушил государство ацтеков. Франциско Писсаро с такой же жестокостью уничтожил государство инков. В 1532 г. он обманным путем захватил Верховного Инку Атаульпу, который в обмен на свою свободу предложил неслыханный выкуп: заполнить золотом комнату, в которой он был в заключении. Верховный Инка сдержал свое слово, но испанцы, получив золото, казнили его. До прибытия Колумба численность коренного населения составляла 20 млн. чел., а в 1521 г. – 7,3 млн. чел.



Мачу-Пикчу – древний город инков.





# ЭТНИЧЕСКИЙ СОСТАВ НАСЕЛЕНИЯ.

Почти полное истребление индейцев поставило перед колонизаторами вопрос о рабочей силе, который был разрешен путем ввоза негров-рабов из Африки. Общая численность привезенных в Америку негров составила 10 млн. чел.

Так сложились три главных расово-этнических элемента.



# Языковой состав.



Более однородный. Преобладает испанский и португальский языки. Испанский язык служит государственным в 18 странах (250 млн. чел.). Португальский язык в одной стране Бразилии - 170 млн. чел. В Мексике, Боливии, Парагвае наряду с испанским языком официаль-



# ПЛОТНОСТЬ НАСЕЛЕНИЯ ЛАТИНСКОЙ АМЕРИКИ



## ХАРАКТЕРНЫЕ ЧЕРТЫ РАЗМЕЩЕНИЯ:

- наименее заселенный регион мира со средней плотностью 25 чел. на км. кв.;
- сильно выражена не-равномерность размещения;
- высока доля высоко-горного населения

ПЛОТНОСТЬ НАСЕЛЕНИЯ на 1 кв.км

5	более 100 человек
4	от 50 до 100 человек
3	от 10 до 50 человек
2	от 1 до 10 человек
1	до 1 человека
□	Незаселенные территории

ЧИСЛО ЖИТЕЛЕЙ В ГОРОДАХ

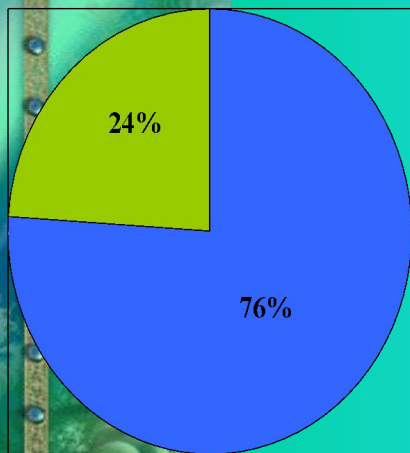
○	свыше 7 млн. человек
○	от 1 до 5 млн. человек
○	от 300 тыс. до 1 млн. человек
○	от 100 тыс. до 300 тыс. человек
•	от 20 тыс. до 100 тыс. человек
Лима	- агломерации



# УРБАНИЗАЦИЯ

Характерна ложная ур-банизация.

■ ГОРОД ■ СЕЛО



Формирование трущобных районов, «по-ясов нищеты», в которых живет до 50% населения многих городов.

## Доля городского населения в странах Латинской Америки

Страна	Доля городского населения (%)
Уругвай	91
Аргентина	88
Багамские Острова	87
Венесуэла	86
Чили	84
Бразилия	79
Куба	76
Мексика	74
Колумбия	73
Тринидад и Тобаго	72
Перу	71
Доминиканская Республика	63
Никарагуа	63
Боливия	61
Эквадор	60
Панама	56
Ямайка	54
Парагвай	53
Коста-Рика	50
Суринам	49
Белиз	47
Гондурас	44
Сальвадор	43
Гватемала	39
Гайана	36
Ганти	32

Крупнейшие города с населением более 10 млн. чел.





# Хозяйство Латинской Америки. Промышленность и сельское хозяйство.

Латинскую Америку можно отнести к промышленно развитым регионам, хотя все его страны, принято относить к группе развивающихся.


Доля региона в мировом валовом продукте составляет 8,5%.

$\frac{4}{5}$  всей промышленной продукции приходится на тройку экономических лидеров – Бразилию, Мексику, Аргентину.

В мировом сельскохозяйственном производстве региону принадлежит видное место.











# Хозяйство Латинской Америки. I

## ПРОМЫШЛЕННОСТЬ.

Долгое время промышленность региона характеризовалась в первую очередь развитием горнодобывающих отраслей. Однако, в последнее время ведущая роль стала переходить к обрабатывающей промышленности (особенно черная, цветная металлургия, нефтепереработка, а так же электроника и машиностроение).

В Бразилии получили развитие электроника, автомобиле-, судо-, самолетостроение; в Мексике, Аргентине – производство автомобилей, станков.

Первый сектор – это высокотоварное, плантационное хозяйство. Крупнейшие в мире производители бананов – Коста-Рика, Колумбия, Эквадор, Гондурас, Панама. На судах-рефрижераторах весь сбор бананов вывозится в Европу, США, причем по дороге они дозревают. На Кубе  $\frac{1}{2}$  всех обрабатываемых земель занята плантациями сахарного тростника. Сахарные заводы производят более 5 млн т сахара в год. Сахарная промышленность – отрасль специализации Кубы.

Второй сектор – это

# Хозяйство Латинской Америки. Транспорт.

Транспортная оснащённость Латинской Америки слабая. Недостаточно развиты внутренний водный, трубопроводный транспорт, несмотря на большую протяжённость железных дорог их пропускная способность очень низкая, лучше развит – воздушный и автомо-бильный. Огромную роль играет морской транспорт и морские порты, все дороги в регионе ведут к морскому порту.



Дорога в Анд

Грузовой состав. Бразилия.



Панамский канал.



Речные трам



Вьюжной транспорт.





# Особенности экономики стран Латинской Америки

По уровню развития опережают развивающиеся страны Азии и Африки

Снижается доля с/х, растет доля обрабатывающей промышленности

На Бразилию, Мексику, Аргентину приходится 2/3 промышленного производства

В добывающей промышленности 80% - добыча топлива, 20% - рудного сырья

С/х занимает относительно высокую долю в ВВП, особенно в Центральной Америке

В с/х высокотоварные хозяйства сочетаются с мелкотоварным

Ведущая отрасль с/х – растениеводство, специализация в с/х:

Кофе – Бразилия, Колумбия, Гватемала

Сахар – Гайана, Куба, Белиз  
Бананы – Эквадор, Гондурас, Панама

