

ИСТОРИЯ РОССИЙСКОЙ КУЛЬТУРЫ С АНАСТАСИЕЙ МАНОХИНОЙ

КУЛЬТУРА ДРЕВНЕЙ РУСИ X-НАЧАЛА XII

- способ существования человечества, социума;
- то, что отличает человека от животного,
- создаваемую человеком часть окружения.
- Самое простое определение культуры – «то, что создано человеком».

Ремесло́ — мелкое
ручное производство,
основанное на применении
ручных орудий труда.

Кольчуга



САМЫЕ РАСПРОСТРАНЕННЫЕ ВИДЫ ЮВЕЛИРНЫХ ИЗДЕЛИЙ В ДРЕВНОСТИ:



СЕРЬГИ В
ТЕХНИКЕ ЗЕРНИ

СЕРЬГИ В
ТЕХНИКЕ СКАНИ




1.СЕРЬГИ

САМЫЕ РАСПРОСТРАНЕННЫЕ ВИДЫ ЮВЕЛИРНЫХ ИЗДЕЛИЙ В ДРЕВНОСТИ:



ВИСОЧНЫЕ КОЛЬЦА

САМЫЕ РАСПРОСТРАНЕННЫЕ ВИДЫ ЮВЕЛИРНЫХ ИЗДЕЛИЙ В ДРЕВНОСТИ:

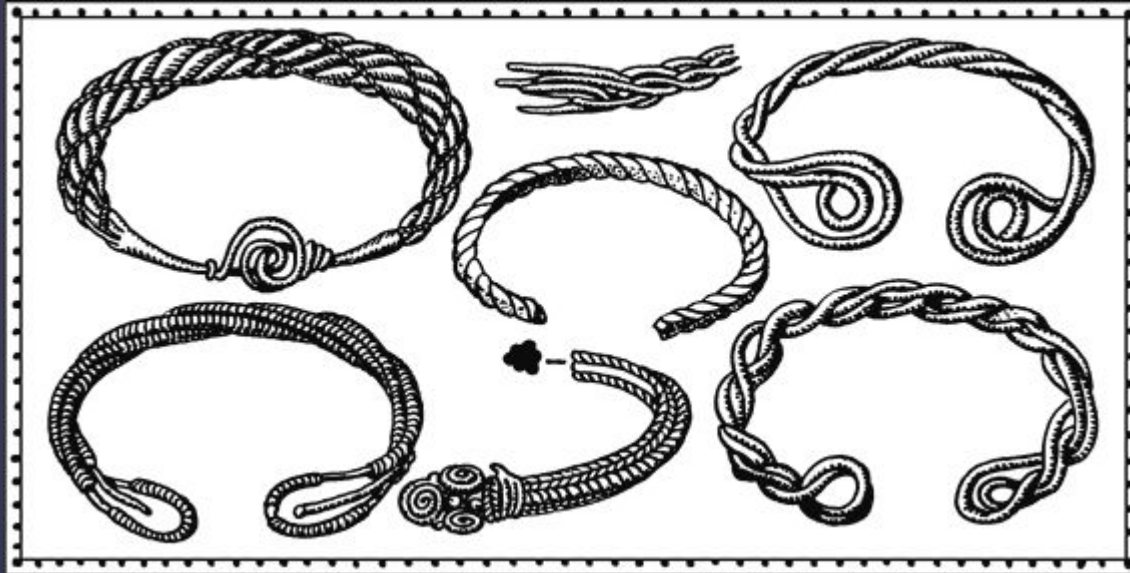


1-2 - Владимирские курганы; 3-4 - Гловские курганы; 5 - Новгород; 7 - кург. у с. Васильки Владимирской обл.; 8 - Новгород; 9 - кург. у пос. Вознесенский Владимирской губ.; 10 - Гловские курганы; 11-13 - С.-Петербургские курганы; 14 - курганы у д. Босна Костромской обл.; 15 - Гловские курганы; 16 - Вятские курганы; 17 - Старая Рязань; 18 - С.-Петербургские курганы; 19 - Новгород; 20 - Новгород; 21 - Новгород; 22 - курганы у д. Колчино Калужской обл.; 23 - Нов-

гор: 24-25 - Гловские курганы; 26 - С.-Петербургские курганы; 27 - Новгород; 28 - Новгород; 29 - С.-Петербургские курганы; 30 - Новгород; 31 - Новгород; 32 - Новгород; 33 - Новгород; 34 - Гродно; 35 - Гловские курганы; 36 - С.-Петербургские курганы; 37 - Новгород; 38-39 - Шарово, клад. Московская обл.; 40 - курган у Николово Московской обл.; 41-42 - Гловские курганы; 43 - Новгород; 44 - Новгород; 45 - Новгород

ПЕРСТНИ

САМЫЕ РАСПРОСТРАНЕННЫЕ ВИДЫ ЮВЕЛИРНЫХ ИЗДЕЛИЙ В ДРЕВНОСТИ:



БРАСЛЕТЫ

ТЕХНИКА СКАНИ :

на поверхность изделия наносился орнамент из скрученной тонкой серебряной или золотой проволоки.



Техника зерни :
мельчайшие серебряные или золотые
зерна накладывали по рисунку на
пластины и припаивали, создавая
сложный орнамент.



Зернь

Техника черни:

на металлические пластины мастера наносили резцом рисунок, затем в углубления разогретых пластин вбивали молоточком тонкие серебряные нити, а пространство между ними покрывали чернью .

- Чернь по серебру



Перегородчатая эмаль:

стекловидная масса разных оттенков покрывала пространство между припаянными золотыми или серебряными полосами.

Перегородчатая эмаль



Гончарный круг





Рис. 65. Ручной гончарный круг (по фотографии конца XIX в.).


Письменность на Руси

XII век

863г



XI век





Середина
XIV века

Литература-Летописание(летопись)

Повесть
временных лет
Нестор

До 1113 .
Смерть
Святополка

X-XI вв.



Литература-житийный жанр

Древнерусская литература (основные жанры)

Культура Древней Руси.
Христианская культура и
языческие традиции



Летописание. Нестор – Повесть
временных лет, 1113г.


Житие (агиография).
Житие князей Бориса и Глеба

Слово (поучение). Митрополит
Илларион – Слово о Законе
и благодати

Хождения (хожения). Хождение
игумена Даниила в пустыню

Слово о Законе и Благодати

Иларион



Поучение детям



Владимир
Мономах

Устное народное творчество

```
graph TD; A[Устное народное творчество] --> B[песни]; A --> C[былины]; A --> D[пословицы]; A --> E[загадки]; C --> F[сказки]; C --> G[легенды]
```

песни

былины

пословицы

загадки

сказки

легенды

Каменное строительство

Крещение
Руси


988г.

Десятинная церковь в Киеве реконструкция
М.Н. Холостенко



996г.

XI в.



нефы

арки

апсиды


купола

своды

закомары

плинфы

Техника мозаики



Техника фрески




Спасо-Преображенский собор в Чернигове

30-е годы XI в.




Софийский собор в Новгороде



XI в.

**Софийский
собор
в
Новгороде**



Георгиевский собор Юрьева монастыря монастыря под Новгородом

п.п XII в.

Георгиевский собор Юрьева монастыря в Новгороде



В.М. Васнецов Богатыри.

1881-1898 гг.



В.М. Васнецов Прощание Олега с конем

1899г.



М.О. Микешин «Тысячелетие России» Великий Новгород



1862г

-1000 г.
=862г.



Нестор-летописец С.А. Никитина



М.М. Антакольский
Нестор летописец, 1890




Нестор летописец
Реконструкция С.А.Никитина

М.М. Антокольский Нестор- летописец 1890г



М.М. Антакольский
Нестор летописец, 1890



Нестор летописец
Реконструкция С.А.Никитина

Рассмотрите изображение и выполните задания 1–2.



1 Какие суждения о данном изображении являются верными? Выберите два суждения из пяти предложенных. Запишите в таблицу цифры, под которыми они указаны.

- 1) Один из авторов памятника — М. О. Микешин.
- 2) А. С. Пушкин был современником установки памятника.
- 3) В создании памятника принимал участие И. П. Мартос.
- 4) Памятник установлен в Новгороде при Александре II.
- 5) Монумент установлен на территории Московского Кремля.

Ответ:

2 Какие из представленных репродукций картин относятся к тому же событию, которое дало название памятнику, изображённому в задании 1? В ответе запишите две цифры, под которыми они указаны.



Ответ:

Рассмотрите изображение и выполните задания 3–4.



3

Какие суждения о данном изображении являются верными? Выберите два суждения из пяти предложенных. Запишите в таблицу цифры, под которыми они указаны.

- 1) Князь правил в X в., погиб во время сбора дани с племени древлян.
- 2) Князь известен походами в Дунайскую Болгарию, погиб от рук печенегов на днепровских порогах.
- 3) Преемник(-ца) князя провел(-а) реформу, изменившую систему сбора налогов.
- 4) Князь был правителем в Новгороде-Северском.
- 5) О военном походе князя против половцев создано замечательное литературное поэтическое произведение.

Ответ:

<input type="text"/>	<input type="text"/>
----------------------	----------------------

4

Какие из представленных репродукций картин могут отражать события из жизни князя, изображённого на памятной монете, представленной в задании 3? В ответе запишите две цифры, под которыми они указаны.

1)



3)



2)



4)



Ответ:

--	--

Рассмотрите изображения и выполните задания 5–6.



Вид спереди



Вид сзади

5

Какие суждения о данном изображении являются верными? Выберите два суждения из пяти предложенных. Запишите в таблицу цифры, под которыми они указаны.

- 1) Памятник Ярославу Мудрому, автор работы — И. П. Мартос.
- 2) Работа скульпторов П. К. Клодта и А. А. Тона; памятник находится в Киеве.
- 3) Памятник установлен в Новгороде, автор — М. О. Микешин.
- 4) Князь, которому поставлен памятник, известен как Великий, Креститель, Святой, Красное Солнышко.
- 5) Князь, которому установлен памятник, принял свод законов, известный как Русская Правда.

Ответ:

--	--

6

Какие из представленных монет были отчеканены в период правления князя, памятник которому вы видите в задании 5? В ответе запишите две цифры, под которыми они указаны.

1)



3)



2)



4)



Ответ:

--	--

Рассмотрите изображение и выполните задания 7–8.



7

Какие суждения о данном изображении являются верными? Выберите два суждения из пяти предложенных. Запишите в таблицу цифры, под которыми они указаны.

- 1) Летопись сообщает, что для постройки собора «...Дарова ему [государю] Бог двух мастеров русских по реку [по имени] Постника и Барму, и была премудры и удобны таковому чудному делу».

- 2) Для постройки собора «Мастера же присланы были от императора Фридерика Первого [Фридриха Барбароссы], с которым [князь] Андрей в дружбе был».
- 3) Архитектурный ансамбль, расположенный на острове Кижы Онежского озера, состоящий из двух церквей и колокольни, окружённых единой оградой.
- 4) В начале XV в. для украшения храма были приглашены художники Андрей Рублёв и Даниил Чёрный, часть их росписей сохранилась.
- 5) Собор построен по приказу Ярослава Мудрого.

Ответ:

--	--

8

На каких из представленных марок показаны архитектурные памятники, построенные в том же веке, что и храм, изображённый в задании 7? В ответе запишите две цифры, под которыми они указаны.



1)



3)



2)

4)

Ответ:

--	--

Рассмотрите изображение и выполните задания 9–10.



9 Какие суждения о данном изображении являются верными? Выберите два суждения из пяти предложенных. Запишите в таблицу цифры, под которыми они указаны.

- 1) Великий князь правил в X в., при нём Русь приняла крещение.
- 2) Он был строителем первых оборонительных рубежей на южной русской границе.
- 3) Князь имел прозвище, которое в переводе на русский язык звучит как «Единоборец».
- 4) Князь известен как законодатель, ему приписывается введение сборника правовых норм Древнерусского государства.
- 5) По приказу князя были построены соборы Святой Софии в Киеве и Новгороде.

Ответ:

--	--

10 На каких из представленных реконструкций портретов по черепам исторических деятелей показаны два государственных деятеля, принадлежавших к той же династии русских князей, что и князь, чьё изображение дано в задании 9? В ответе запишите две цифры, под которыми они указаны.

1)



3)



2)



4)



Ответ:

Рассмотрите изображение и выполните задания 11–12.



11

Какие суждения о данном изображении являются верными? Выберите два суждения из пяти предложенных. Запишите в таблицу цифры, под которыми они указаны.

- 1) Собор постройки XIV в.
- 2) Собор постройки XII в.
- 3) Собор построен по приказу московского князя, имевшего прозвище Донской.
- 4) Собор сооружён по приказу Всеволода Большое Гнездо.
- 5) Собор находится в Новгороде Великом.

Ответ:

--	--

12

На каких из представленных изображений показаны архитектурные памятники, построенные в том же веке, что и собор, показанный в задании 11? В ответе запишите две цифры, под которыми они указаны.

1)



3)



2)



4)



Рассмотрите изображение и выполните задания 13–14.



13

Какие суждения о данном изображении являются верными? Выберите два суждения из пяти предложенных. Запишите в таблицу цифры, под которыми они указаны.

- 1) Советская боевая награда — орден для командного состава периода Великой Отечественной войны.
- 2) Показанный знак ордена был учреждён Екатериной I в 1725 г. и предназначался для награждения как военных, так и гражданских лиц.
- 3) Русский князь, чьим именем назван орден, жил в XIII в.
- 4) Князь, чьим именем назван орден, прославил своё имя в борьбе с Золотой Ордой.
- 5) Орден был высшей боевой наградой в имперский и советский периоды.

Ответ:

<input type="text"/>	<input type="text"/>
----------------------	----------------------

14

В каких из представленных на марках событий князь, чьё изображение даётся в задании 13, принимал непосредственное участие? В ответе запишите две цифры, под которыми они указаны.



Ответ:

Рассмотрите изображение и выполните задания 1–2.



1. Какие суждения о данном изображении являются верными? Выберите два суждения из пяти предложенных. Запишите в таблицу цифры, под которыми они указаны.

- 1) Данная монета выпущена в период существования СССР.
- 2) Событие, которому посвящена медаль, связано с именем князя Владимира Святого.
- 3) На данном изображении представлен символ царской власти в России.
- 4) Одним из авторов памятника, изображённого на монете, является А.М. Опекушин.
- 5) Частью памятника, представленного на монете является изображение державы – символа власти российского монарха.

Ответ:

--	--

2. Какие из представленных зданий находятся в том же городе, что и памятник, изображённый на монете? В ответе запишите две цифры, которыми обозначены эти здания.

1)



2)



3)



4)



Рассмотрите изображение и выполните задания 3–4.



3. Какие суждения о городе, старинный план которого вы видите, являются верными? Выберите два суждения из пяти предложенных. Запишите в таблицу цифры, под которыми они указаны.

- 1) В отличие от других русских земель в этом городе редко созывалось народное вече.
- 2) В период политической раздробленности русских земель в этом городе установилась сильная княжеская власть.
- 3) С 1113 по 1125 г. в городе правил князь Владимир Мономах.
- 4) Через этот город в древности проходил торговый путь «из варяг в греки».
- 5) Город, изображённый на плане, был присоединён к Московскому государству в 1478 г.

Ответ:

--	--

4. Какие из представленных памятников архитектуры были построены в том же веке, в котором изображённый на плане город был присоединён к Московскому государству? В ответе запишите две цифры, которыми обозначены эти памятники архитектуры.

1)



2)



3)



4)



Ответ: _____



*Князь Рюрик. Фреска.
Грановитая палата Московского Кремля*

1. Какие суждения о данном изображении являются верными? Выберите два суждения из пяти предложенных. Запишите в таблицу **цифры**, под которыми они указаны.
- 1) Этот князь был приглашен на княжение вместе со своими братьями в 862 г.
 - 2) Этот князь объединил Киев и Новгород.
 - 3) При этом князе была принята Русская Правда.
 - 4) С именем Рюрика связано начало русской государственности.
 - 5) Князь был убит во время Дунайских походов.

Ответ:

--	--

2. Кто из представленных ниже правителей принадлежал к династии Рюриковичей? В ответе запишите **две цифры**, под которыми они указаны.



1)

Князь Олег



2)

Князь Ярослав Мудрый



3)

Царь Михаил Федорович



4)

Царь Федор Алексеевич

Ответ:

--	--

Рассмотрите изображение и выполните задания.



7

1. Какие суждения о данном изображении являются верными? Выберите два суждения из пяти предложенных. Запишите в таблицу **цифры**, под которыми они указаны.

- 1) Это памятник княгине Ольге.
- 2) Памятник установлен в Киеве.
- 3) Время ее правления — XIV в.
- 4) Ко времени ее правления относится принятие Русской Правды.
- 5) С именем этой княгини связано Крещение Руси.

Ответ:

<input type="text"/>	<input type="text"/>
----------------------	----------------------

2. Кто из представленных ниже лиц был современником этой княгини?
В ответе запишите две цифры, под которыми они указаны.



1)

Князь Иван III



2)

Князь Игорь



3)

Князь Владимир Мономах



4)

Князь Святослав

Ответ:

--	--

Рассмотрите изображение и выполните задания.



1. Какие суждения о данном изображении являются верными? Выберите два суждения из пяти предложенных. Запишите в таблицу **цифры**, под которыми они указаны.
- 1) Эта скульптура установлена в Москве.
 - 2) На изображении представлен памятник князю Владимиру Святославичу.
 - 3) Этот князь вошел в историю как князь Владимир Красное Солнышко.
 - 4) С именем этого князя связаны Дунайские походы.
 - 5) Этот князь объединил Киев и Новгород.

Ответ:

--	--

2. Какие из памятников, представленных ниже, относятся к эпохе Древней Руси? В ответе запишите две цифры, под которыми они указаны.



1)

*Храм
Василия Блаженного*



2)

*Памятник
основателям Киева*



3)

*Памятник К. Минину
и Д. Пожарскому*



4)

*Золотые ворота
в Киеве*

Ответ:

--	--

Рассмотрите изображение и выполните задания.



В.М. Васнецов. Андрей Боголюбский

10

1. Какие суждения о данном изображении являются верными? Выберите два суждения из пяти предложенных. Запишите в таблицу **цифры**, под которыми они указаны.
- 1) Андрей Боголюбский — сын князя Юрия Владимировича Долгорукого.
 - 2) С именем Андрея Боголюбского связано создание одного из шедевров русского зодчества — храма Покрова на Нерли.
 - 3) С именем Андрея Боголюбского связано сражение с монголами на реке Сити.
 - 4) При этом князе был заложен белокаменный Московский Кремль.
 - 5) Этому князю посвящена древнерусская повесть «Задонщина».

Ответ:

<input type="text"/>	<input type="text"/>
----------------------	----------------------

2. Какие из представленных ниже памятников зодчества были возведены при этом князе? В ответе запишите две цифры, под которыми указаны эти памятники зодчества.



1)

*Успенский собор
во Владимире*



2)

*Софийский собор
в Киеве*



3)

*Софийский собор
в Новгороде*



4)

*Церковь Покрова
на Нерли*

Ответ:

--	--

Рассмотрите изображение и выполните задания.



1. Какие суждения о данном изображении являются верными? Выберите два суждения из пяти предложенных. Запишите в таблицу **цифры**, под которыми они указаны.
- 1) Монумент был воздвигнут в 1862 г. в честь тысячелетнего юбилея легендарного призвания варягов на Русь.
 - 2) Монумент был воздвигнут в Киеве.
 - 3) В числе изображенных на памятнике исторических деятелей — вся династия Романовых.
 - 4) Памятник находится в Великом Новгороде.
 - 5) Автор монумента — скульптор П. Клодт.

Ответ:

<input type="text"/>	<input type="text"/>
----------------------	----------------------

2. Какие из представленных ниже памятников зодчества находятся в том же городе, что и изображенный выше? В ответе запишите **две цифры**, под которыми они указаны.



1)

*Спасский собор
Андроникова монастыря*



2)

*Золотые ворота
во Владимире*



3)

*Церковь
Федора Стратилата*



4)

*Георгиевский собор
Юрьева монастыря*

Ответ:

--	--