

# **УРОК ГЕОГРАФИИ**

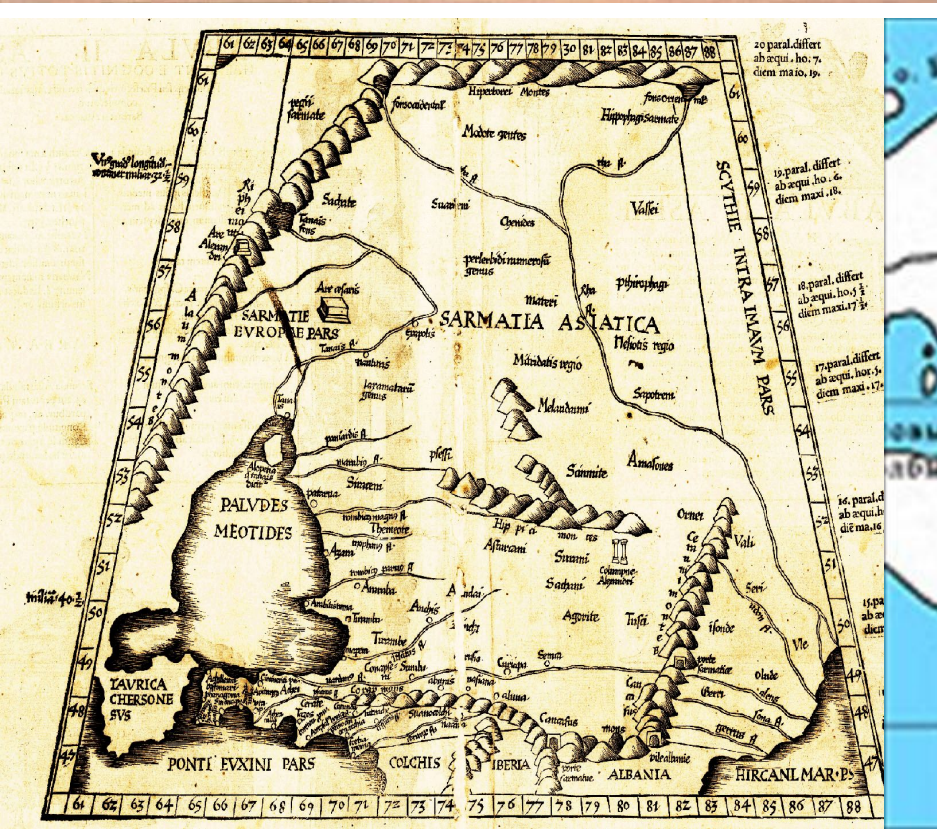
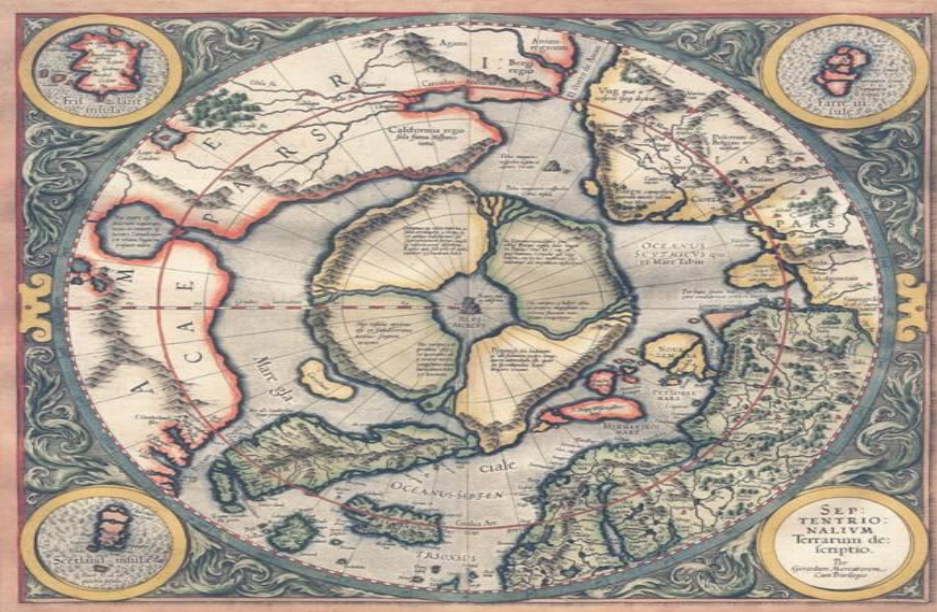
## **«ПЛАН МЕСТНОСТИ»**

# История плана местности

- Одно из древнейших изображений, напоминающее план местности относится к III тыс. до н. э. — на серебряной вазе из Майкопского кургана показаны две реки, стекающие с залесенных гор и впадающие в озеро, а так же пасущиеся вокруг животные. На территории Греции найдены изображения долины реки с богатой растительностью, дикими животными и плывущей флотилией — им 3500 лет.










***ПЛАН (от лат . planum - плоскость) –  
это простейший вид карты.***

**План местности - это  
чертеж небольшого  
участка местности в  
крупном масштабе в  
условных знаках.**

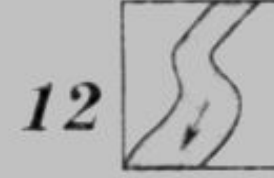
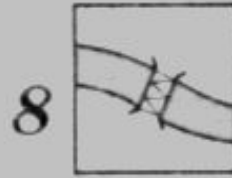

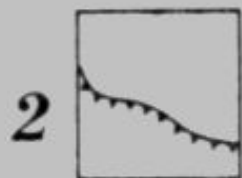
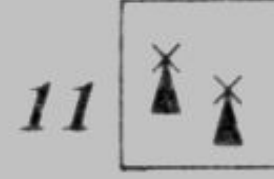





**Условные  
знаки – это  
символы,  
обозначающи  
е различные  
объекты.**



С помощью условных знаков можно узнать характеристики географического объекта, определить его положение относительно других объектов

# Подпишите названия условных знаков



1. \_\_\_\_\_
2. \_\_\_\_\_
3. \_\_\_\_\_
4. \_\_\_\_\_
5. \_\_\_\_\_
6. \_\_\_\_\_
7. \_\_\_\_\_
8. \_\_\_\_\_
9. \_\_\_\_\_
10. \_\_\_\_\_
11. \_\_\_\_\_
12. \_\_\_\_\_

# Замените топографические знаки словами

В  решили организовать поход. Из  по  мы вышли на . Она привела нас в  к , откуда по  мы пересекли . Мы подошли к , перешли на другой берег в . Здесь мы побывали в  и увидели , напились студеной воды из , побывали в . Затем мы сели в поезд на . Он вез нас по  мимо . Мы вернулись в  на окраине которого стоит наша .



# Домашнее задание

- Знать, что такое «план местности»
- Составьте рассказ, используя условные знаки.

**СПАСИБО ЗА УРОК!!!)**