

День рождения Крошки Енота



- Сынок, сегодня у тебя день рождения!
Отправляйся к Волшебному озеру
за сладкой травкой для торта.
По пути собирай золотые орехи.
Они тебе пригодятся,
чтобы угостить Хранителя озера.



Какое число предшествует числу 12?



Какое число на 1 больше 15?



В каком числе 1 десяток и 3 единицы?



Чему равна сумма чисел 17 и 2?



На сколько 19 больше 4?



Уменьшаемое 20, вычитаемое 3.
Чему равна разность?



Какое число надо увеличить на 4, чтобы получить 12?



Какое число получится, если 7 увеличить на 2?



Какое число нужно вычесть из 18,
чтобы получилось 8?

9

15

13

19

11

14

8

17

16

10



Число 6 меньше неизвестного числа на 8.
Чему равно неизвестное число?



- Спасибо за орехи, Крошка Енот!
Так и быть, пропущу тебя к Волшебному озеру.
Но, чтобы собрать траву,
ты должен пройти еще одно испытание.
Желаю удачи!



На парте было 7 тетрадей.
Света положила 3 тетради в портфель.
Сколько тетрадей осталось на парте?

$$7 - 3 + 7$$

$$7 + 3 + 7$$

$$7 + 3$$

$$7 - 3$$

$$7 + 3 + 3$$

Юле 7 лет, а ее брат на 3 года старше.
Сколько лет брату?

$$7 - 3 + 7$$

$$7 + 3 + 7$$

$$7 + 3$$

$$7 - 3$$

$$7 + 3 + 3$$

В городе 7 музеев и 3 театра.

На сколько больше в городе музеев, чем театров?

$$7 - 3 + 7$$

$$7 + 3 + 7$$

$$7 + 3$$

$$7 - 3$$

$$7 + 3 + 3$$

На первой клумбе расцвело 7 тюльпанов,
а на второй - на 3 тюльпана меньше.
Сколько тюльпанов расцвело на второй клумбе?

$$7 - 3 + 7$$

$$7 + 3 + 7$$

$$7 + 3$$

$$7 - 3$$

$$7 + 3 + 3$$

Таня отрезала от ленты сначала 7 дм,
а затем 3 дм.

Сколько всего дециметров Таня отрезала от ленты?

$$7 - 3 + 7$$

$$7 + 3 + 7$$

$$7 + 3$$

$$7 - 3$$

$$7 + 3 + 3$$

Во дворе 7 девочек.

Из них 3 девочки прыгают через веревочку,
а остальные играют в куклы.

Сколько девочек играют в куклы?

$$7 - 3 + 7$$

$$7 + 3 + 7$$

$$7 + 3$$

$$7 - 3$$

$$7 + 3 + 3$$



На полке было 7 дисков с мультфильмами
и 3 диска с фильмами.

На полку поставили еще 3 диска.

Сколько дисков стало на полке?

$$7 - 3 + 7$$

$$7 + 3 + 7$$

$$7 + 3$$

$$7 - 3$$

$$7 + 3 + 3$$

Коле 7 лет, а Саше 3 года.
На сколько лет Саша младше, чем Коля?

$$7 - 3 + 7$$

$$7 + 3 + 7$$

$$7 + 3$$

$$7 - 3$$

$$7 + 3 + 3$$

Катя собрала 7 стаканов малины,
а Маша на 3 стакана больше.
Сколько всего стаканов малины
собрали девочки?

$$7 - 3 + 7$$

$$7 + 3 + 7$$

$$7 + 3$$

$$7 - 3$$

$$7 + 3 + 3$$

В одной корзине было 7 яблок,
а в другой на 3 яблока меньше.
Сколько яблок в двух корзинах?

$$7 - 3 + 7$$

$$7 + 3 + 7$$

$$7 + 3$$

$$7 - 3$$

$$7 + 3 + 3$$

- Можно возвращаться!

Я должен помочь маме испечь праздничный торт!



Найди лишнее слово

ВОРОНА

ГОЛУБЬ

ГРАЧ

ВОРОБЕЙ



Найди лишнее слово

ЛЕДЯНОЙ

МОРОЗНЫЙ

ХОЛОДНЫЙ

ТЕПЛЫЙ



Найди лишнее слово

МОРКОВЬ

ЯБЛОКО

ОГУРЕЦ

СВЕКЛА



Найди лишнее слово

ВЕДРО

СТАКАН

ЧАШКА

КРУЖКА



Найди лишнее слово

ТЕТРАДЬ

АЛЬБОМ

КНИГА

БЛОКНОТ



Найди лишнее слово

МОЛОТОК

УДОЧКА

ПИЛА

КЛЕЩИ



Найди лишнее слово

СЫРОЕЖКА

ЛИСИЧКА

ОПЕНОК

МУХОМОР



Найди лишнее слово

АВТОБУС

САМОЛЕТ

ТРАМВАЙ

ТРОЛЛЕЙБУС



Найди лишнее слово

ХЛЕБ

МОЛОКО

ЧАЙ

ЛИМОНАД



Найди лишнее слово

ЗИМА

ЛЕТО

ЯНВАРЬ

ОСЕНЬ




- Спасибо за помощь, Крошка Енот!



- Прекрасный торт!
Замечательный праздник!
А теперь, Крошка Енот, я нарисую твой портрет!



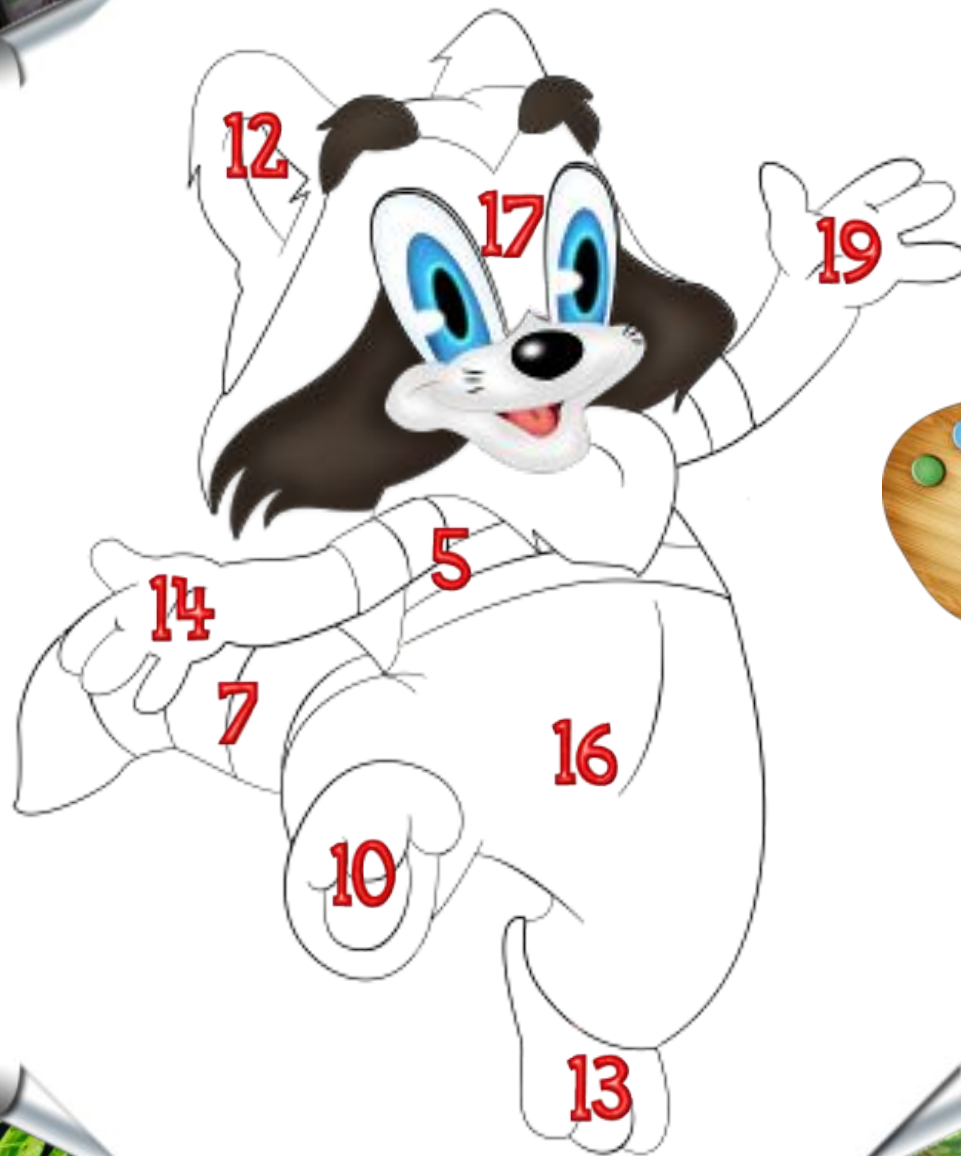
Реши примеры, найди ответ на рисунке



$$6 + 5$$



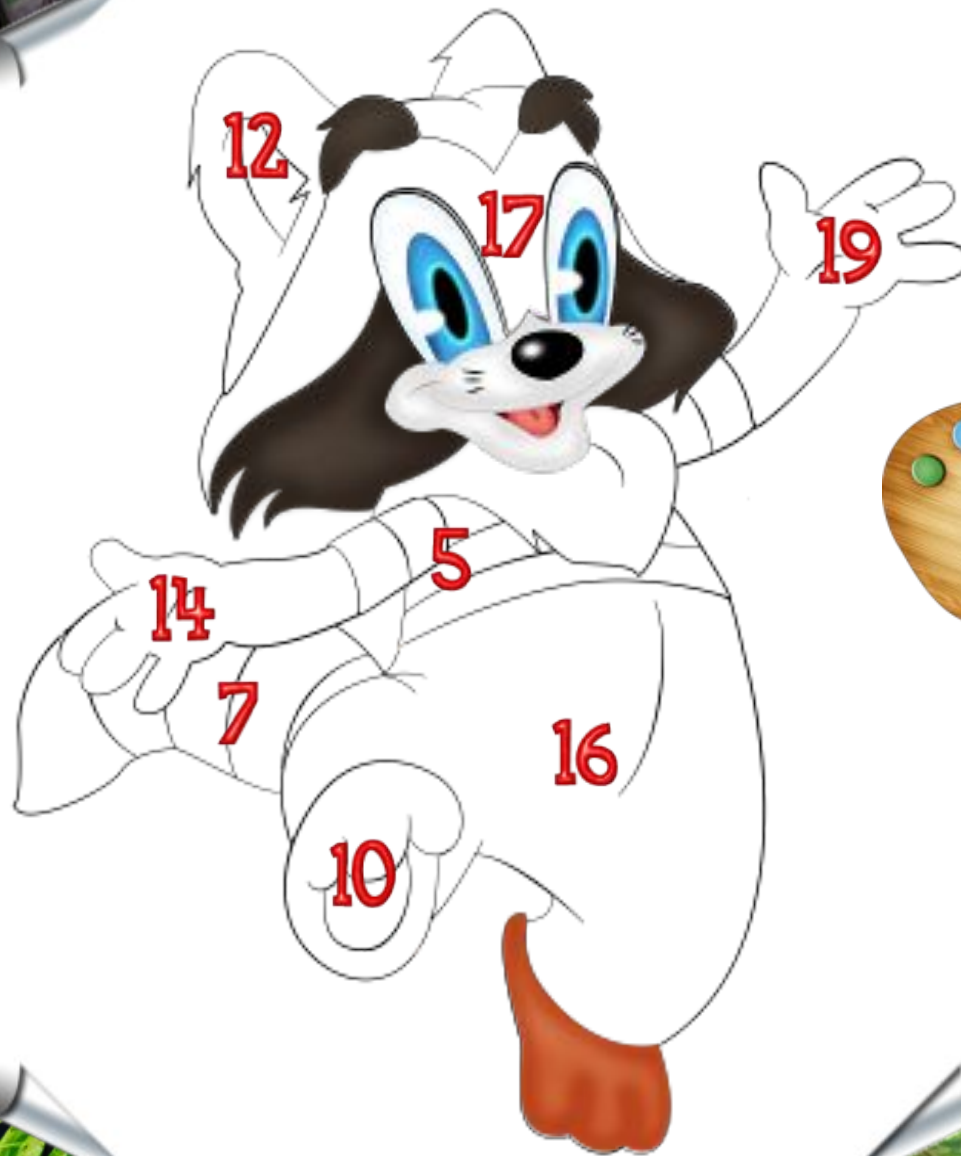
Реши примеры, найди ответ на рисунке



$$16 - 3$$



Реши примеры, найди ответ на рисунке



$$11 + 8$$


Реши примеры, найди ответ на рисунке



$$9 + 7$$



Реши примеры, найди ответ на рисунке



$$8 + 4$$



Реши примеры, найди ответ на рисунке



$$14 - 4$$



Реши примеры, найди ответ на рисунке



$$15 - 1$$



Реши примеры, найди ответ на рисунке



$$7 + 10$$



Реши примеры, найди ответ на рисунке



$$13 - 8$$



Реши примеры, найди ответ на рисунке



$$12 - 5$$



До новых встреч, грузья!



← Ссылки

Выход →

Источники

Автор отрисовок
персонажей мультфильма "Крошка Енот",
предметов и фонов -
Запертова Елена (г. Москва)

Музыка

Нарезки мелодии к мультфильму «Крошка Енот» (композитор В. Шаинский)

Фоны

Джунгли, лес, озеро, бамбук

Клипарт

Бабочки, золотой орех, пальмы, трава 1, трава 2, трава 3