

Сложные вопросы I-DRIVE

Тема 1

Что из нижеперечисленного не соответствует термину «опасность для движения»?

1. Изменение условий дорожного движения, угрожающее безопасности участников дорожного движения, вынуждающее водителя остановиться.
2. Изменение условий дорожного движения, угрожающее безопасности участников дорожного движения, вынуждающее водителя увеличить скорость.
3. Изменение технического состояния транспортного средства, угрожающее безопасности участников дорожного движения, вынуждающее водителя снизить скорость движения.
4. Все соответствуют.

В чем должен убедиться водитель, передавая управление транспортным средством лицу, имеющему при себе водительское удостоверение соответствующей категории?

1. В том, что это лицо не находится в утомленном состоянии.
2. В том, что это лицо не находится в состоянии алкогольного опьянения.
3. В том, что это лицо не находится под воздействием лекарственных препаратов, снижающих внимание и быстроту реакции.
4. Обязан убедиться во всем вышеперечисленном.

Что запрещается водителю?

1. Управлять транспортным средством под воздействием лекарственных средств, снижающих внимание и быстроту реакции.
2. Двигаться на транспортном средстве с металлическими шипами по дороге общего пользования с усовершенствованным покрытием.
3. Участвовать в дорожном движении на транспортном средстве с загрязнениями, не позволяющими видеть информацию на регистрационном знаке с расстояния 40 метров и менее.
4. Пользоваться во время движения аппаратом радио- и телефонной связи, не оборудованным техническим устройством, позволяющим вести переговоры без использования рук.
5. Все перечисленное.

Что запрещается водителю?

1. Управлять транспортным средством под воздействием лекарственных средств, повышающих внимание и быстроту реакции.
2. Двигаться на транспортном средстве с ошипованными шинами по дороге общего пользования с усовершенствованным покрытием.
3. Пользоваться во время движения аппаратом радио- и телефонной связи, оборудованным техническим устройством, позволяющим вести переговоры без использования рук.
4. Участвовать в дорожном движении на транспортном средстве с загрязнениями, не позволяющими видеть информацию на регистрационном знаке с расстояния 40 метров и менее.
5. Все перечисленное.

Как должен двигаться пешеход, ведущий велосипед по обочине, обозначенной световозвращателями, в светлое время суток?

1. По ходу движения транспортных средств.
2. Навстречу движению транспортных средств.
3. По обочине любого направления движения.

Как должен двигаться пешеход, ведущий велосипед по краю проезжей части дороги, обозначенный световозвращателями, в светлое время суток?

1. По ходу движения транспортных средств.
2. Навстречу движению транспортных средств.
3. По краю проезжей части дороги любого направления движения.

Как должен двигаться пешеход, ведущий велосипед по обочине, обозначенный световозвращателями, в темное время суток?

1. По ходу движения транспортных средств.
2. Навстречу движению транспортных средств.
3. По обочине любого направления движения.

тема2

Разрешено ли водителю легкового автомобиля проехать показанный на рисунке перекресток в прямом направлении 1 мая в среду?



1. Да, разрешено.
2. Нет, запрещено.

Какой из показанных на рисунке знаков устанавливается в пределах опасного участка дороги или непосредственно перед ним?



1



2



3



4



5

A Drive.by

1. Знак 1.
2. Знак 2.
3. Знак 3.
4. Знак 4.
5. Знак 5.

Какой из показанных на рисунке знаков устанавливается в пределах опасного участка дороги или непосредственно перед ним?



1. Знак 1.
2. Знак 2.
3. Знак 3.
4. Знак 4.
5. Знак 5.

Какое назначение может иметь показанная тонкая желтая линия горизонтальной дорожной разметки?




1. Обозначение границ полос движения на опасных участках дороги.
2. **Разделение транспортных потоков противоположных направлений.**
3. Обозначение границ проезжей части дороги, на которые въезд запрещен.
4. Любое из вышеперечисленных.

Какое назначение может иметь показанная тонкая белая линия горизонтальной дорожной разметки?



1. Обозначение полос движения в пределах перекрестка.
2. Обозначение границ полос движения на опасных участках дороги.
3. Обозначение границ полос движения, на которых осуществляется реверсивное регулирование.
4. Любое из вышеперечисленных.

Какое назначение может иметь показанная тонкая белая линия горизонтальной дорожной разметки?



1. Разделение транспортных потоков противоположных направлений.
2. Обозначение границ проезжей части дороги, на которые въезд запрещен.
3. Любое из вышеперечисленных.


О чем информирует показанный на рисунке знак?



A Drive.by


1. О том, что движение к Москве будет осуществляться по автомагистрали.
2. О том, что движение к Москве будет осуществляться по дороге, не являющейся автомагистралью.

Как определяется в показанной ситуации зона действия дорожного знака «Рекомендуемая скорость»?



1. Зона действия распространяется до ближайшего обозначенного перекрестка.
2. Зона действия определяется протяженностью опасного участка дороги, обозначенного предупреждающим дорожным знаком.
3. Зона действия распространяется до места установки дорожного знака «Конец зоны ограничения максимальной скорости».

Какой из показанных на рисунке дорожных знаков называется «Рекомендуемая скорость»?



ADrive.by


1. Только знак 3.
2. Только знак 4.
3. Только знак 5.
4. Знаки 4 и 5.
5. Знаки 3 и 4.

Распространяется ли зона действия дорожного знака «Рекомендуемая скорость» на участок дороги за показанным на рисунке перекрестком?



1. Да, распространяется.
2. Нет, не распространяется.

Какие из показанных на рисунке дорожных знаков не распространяют свое действие на транспортные средства, принадлежащие гражданам, проживающим в обозначенной зоне, при отсутствии иных возможностей их подъезда?



1. Знаки 1 и 5.
2. Знаки 3 и 4.
3. Знаки 2 и 4.
4. Знаки 2, 3 и 4.
5. Все показанные на рисунке знаки.

Какой из показанных на рисунке дорожных знаков не распространяет свое действие на транспортные средства, принадлежащие гражданам, проживающим в обозначенной зоне, при отсутствии иных возможностей их подъезда?



1



2



3



4



5

A Drive.by

1. Знак 1.

2. Знак 2.

3. Знак 3.

4. Знак 4.

5. Знак 5.

Разрешено ли водителю грузового автомобиля с технически допустимой общей массой не более 3,5 тонны совершить обгон трактора в показанной ситуации?



1. Разрешено.
2. Запрещено.
3. Разрешено в том случае, если скорость движения трактора менее 30 км/ч.

В каких направлениях водителю желтого легкового автомобиля разрешается продолжить движение на ближайшем по ходу движения перекрестке?




1. Только прямо.
2. Прямо и направо.
3. Прямо, направо и налево.
4. Во всех направлениях.

Разрешается ли водителю желтого легкового автомобиля развернуться на ближайшем по ходу движения перекрестке?



1. Да, разрешается.
2. Нет, не разрешается.

В каких направлениях водителю синего легкового автомобиля разрешается продолжить движение на ближайшем по ходу движения перекрестке?



1. Только направо.
2. Направо и налево.
3. Во всех направлениях.

Что обозначает вертикальная дорожная разметка, показанная на рисунке?



1. Боковые поверхности дорожных ограждений на опасных участках дорог.
2. Боковые поверхности начальных и конечных участков дорожных ограждений.
3. Боковые поверхности дорожных ограждений в местах, где запрещена остановка.
4. Боковые поверхности дорожных ограждений на закруглениях дорог малого радиуса закругления.

О чем информирует участников дорожного движения показанный дорожный знак?



1. О расстоянии до места стоянки или отдыха.
2. О номере дороги, на которой установлен данный знак.
3. О номере дороги, в направлении к которой осуществляется движение.

Показанный на рисунке дорожный знак запрещает обгон:



ADrive.by

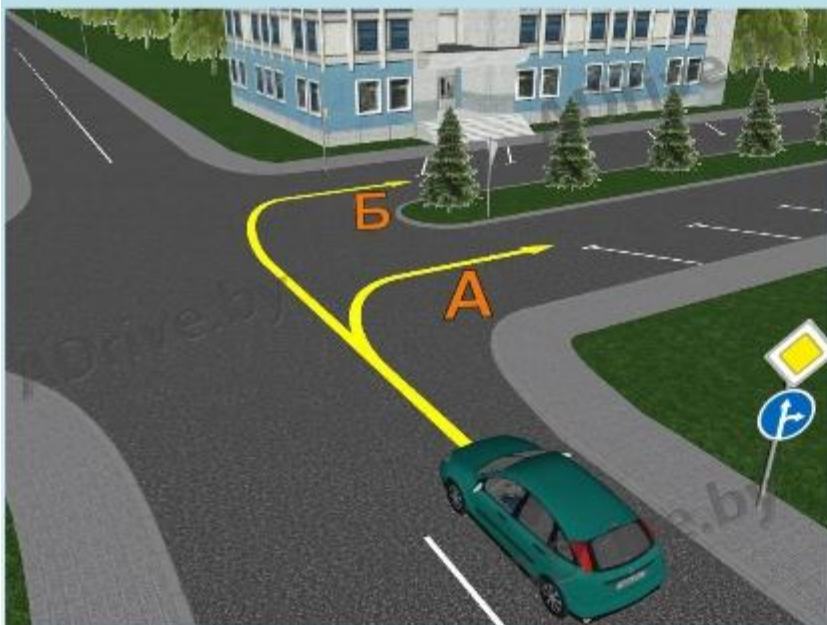
1. Автобусам.
2. Легковым автомобилям.
3. Грузовым автомобилям с технически допустимой общей массой не более 3,5 тонны.
4. Всем перечисленным транспортным средствам.
5. **Всем перечисленным транспортным средствам обгон разрешен.**

Разрешено ли Вам, управляя легковым автомобилем, совершить обгон автобуса в показанной ситуации?



1. Да, разрешено.
2. Разрешено только в том случае, если скорость движения автобуса не превышает 50 км/ч.
3. Нет, не разрешено.

По какой из показанных на рисунке траекторий разрешено продолжить движение водителю зеленого легкового автомобиля?



1. Только по траектории А.
2. Только по траектории Б.
3. По траекториям А и Б.
4. Запрещено по любой из показанных траекторий.

Какие из показанных на рисунке дорожных знаков информируют о направлениях движения к населенным пунктам или другим объектам?



1



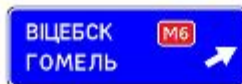
2



3



4



5

ADrive.by

1. Только знак 5.
2. Знаки 4 и 5.
3. Знаки 1, 4 и 5.
4. Знаки 1, 2, 4 и 5.
5. Все показанные на рисунке знаки.

Какие из показанных на рисунке дорожных знаков информируют о направлениях движения к населенным пунктам или другим объектам?



1



2



3




4

A Drive.by

1. Только знак 1.
2. Знаки 3 и 4.
3. Знаки 1, 3 и 4.
4. Все показанные на рисунке знаки.

Какие из показанных дорожных знаков информируют водителей о приближении к опасному участку дороги, движение по которому требует принятия мер, соответствующих дорожной обстановке?



1. Только знак 4.
2. Знаки 3 и 4.
3. Знаки 3, 4 и 5.
4. Все показанные знаки.

Какой из показанных дорожных знаков информирует водителей о приближении к опасному участку дороги, движение по которому требует принятия мер, соответствующих дорожной обстановке?



1



2



3



4



5

ADrive.by

1. Знак 1.
2. Знак 2.
3. Знак 3.
4. Знак 4.
5. Знак 5.

Какой из показанных дорожных знаков информирует водителей о приближении к опасному участку дороги, движение по которому требует принятия мер, соответствующих дорожной обстановке?



1



2



3



4



5

1. Знак 1.
2. Знак 2.
3. Знак 3.
4. Знак 4.
5. Знак 5.

Тема 3

Кому из пешеходов в показанной ситуации обязан уступить дорогу водитель легкового автомобиля?



1. Только пешеходу А.
2. Только пешеходу Б.
3. Обязан уступить дорогу обоим пешеходам.

Водителю легкового автомобиля в показанной ситуации:



1. Разрешено продолжать движение в намеченном направлении.
2. Запрещено продолжать движение в намеченном направлении.
3. Разрешено продолжать движение в намеченном направлении только после проезда трамвая.

Водителю легкового автомобиля, намеревающемуся повернуть налево, в показанной ситуации:



1. Разрешено продолжать движение в намеченном направлении.
2. Запрещено продолжать движение в намеченном направлении.
3. Разрешено продолжать движение в намеченном направлении только после проезда трамвая.

В показанной ситуации (на светофоре включен желтый мигающий сигнал) при повороте налево водитель легкового автомобиля:



1. Имеет преимущество.
2. Должен уступить дорогу только трамваю.
3. Должен уступить дорогу только грузовому автомобилю.
4. Должен уступить дорогу обоим транспортным средствам.

Двигаясь прямо на перекрестке, Вы:



1. Имеете преимущество.
2. Обязаны уступить дорогу колесному трактору.

Как поступить водителю красного легкового автомобиля, создающего препятствие для движения транспортных средств, если ему необходимо повернуть направо?



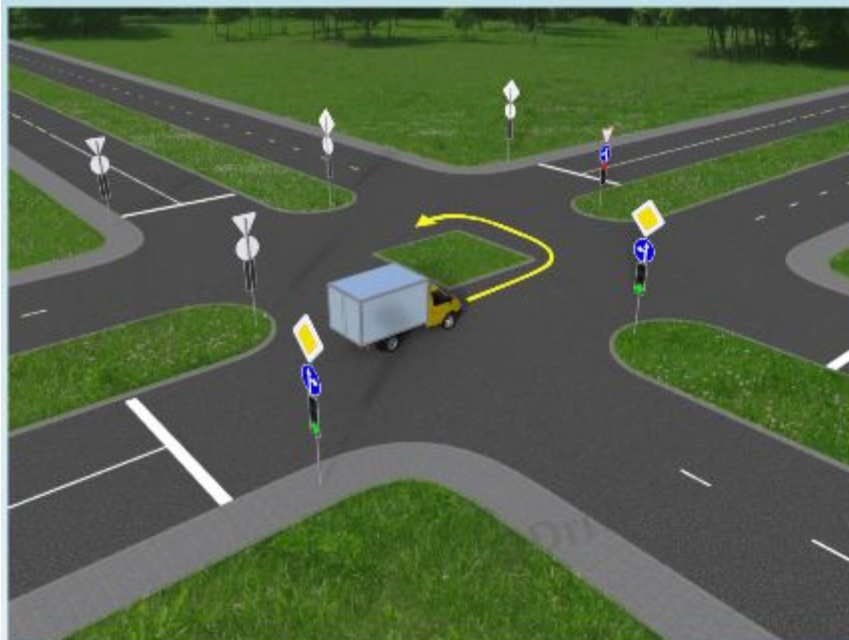
1. Проехать перекресток прямо.
2. Повернуть направо, остановившись перед пешеходным переходом.
3. Остаться в занимаемой полосе движения в ожидании разрешающего сигнала светофора.

При проезде показанного на рисунке перекрестка водитель грузового автомобиля:




1. Обязан уступить дорогу обоим трамваям.
2. Обязан уступить дорогу только трамваю попутного направления.
3. Имеет преимущество перед другими участниками дорожного движения.

Должен ли водитель грузового автомобиля с технически допустимой общей массой не более 3,5 тонны остановиться перед запрещающим сигналом светофора в показанной ситуации, если ему необходимо развернуться на перекрестке?




1. Да, должен.
2. Нет, не должен.

Должен ли водитель грузового автомобиля с технически допустимой общей массой не более 3,5 тонны остановиться перед желтым мигающим сигналом светофора в показанной ситуации?



1. Да, должен.
2. Нет, не должен.

Должен ли водитель грузового автомобиля с технически допустимой общей массой не более 3,5 тонны остановиться перед запрещающим сигналом светофора в показанной ситуации?



1. Да, должен.
2. Нет, не должен.

Как необходимо поступить в показанной ситуации, если Вам необходимо развернуться на перекрестке?



1. Проехать перекресток первым.
2. Уступить дорогу водителю автобуса.

Водитель легкового автомобиля в показанной ситуации:



1. Имеет преимущество.
2. Обязан уступить дорогу только автобусу.
3. Обязан уступить дорогу обоим транспортным средствам.

В показанной ситуации водитель красного легкового автомобиля:




1. Имеет преимущество.
2. Обязан уступить дорогу только трамваю.
3. Обязан уступить дорогу только зеленому легковому автомобилю.
4. **Обязан уступить дорогу обоим транспортным средствам.**

Водитель легкового автомобиля в показанной ситуации:



1. Имеет преимущество.
2. Обязан уступить дорогу только автобусу.
3. Обязан уступить дорогу только грузовому автомобилю.
4. **Обязан уступить дорогу обоим транспортным средствам.**

При проезде показанного на рисунке перекрестка водитель легкового автомобиля:



1. Имеет преимущество.
2. Обязан уступить дорогу только трамваю.
3. **Обязан уступить дорогу только автобусу.**
4. Обязан уступить дорогу обоим транспортным средствам.

тема4

Разрешается ли Вам, управляя легковым автомобилем, произвести опережение по показанной на рисунке траектории?



1. Да, разрешается.
2. Нет, не разрешается.

Разрешается ли водителю желтого легкового автомобиля произвести опережение по показанной на рисунке траектории?



1. Да, разрешается.
2. Нет, не разрешается.

Тема 5

Разрешено ли водителю грузового автомобиля в светлое время суток перевозить груз так, как показано на рисунке, при наличии пассажиров в кузове-фургоне?



1. Разрешено, если груз выступает не далее 1 метра от внешнего края открытой и зафиксированной в таком положении задней двери.
2. Разрешено, если он будет обозначен опознавательным знаком «Крупногабаритный груз».
3. **Запрещено.**

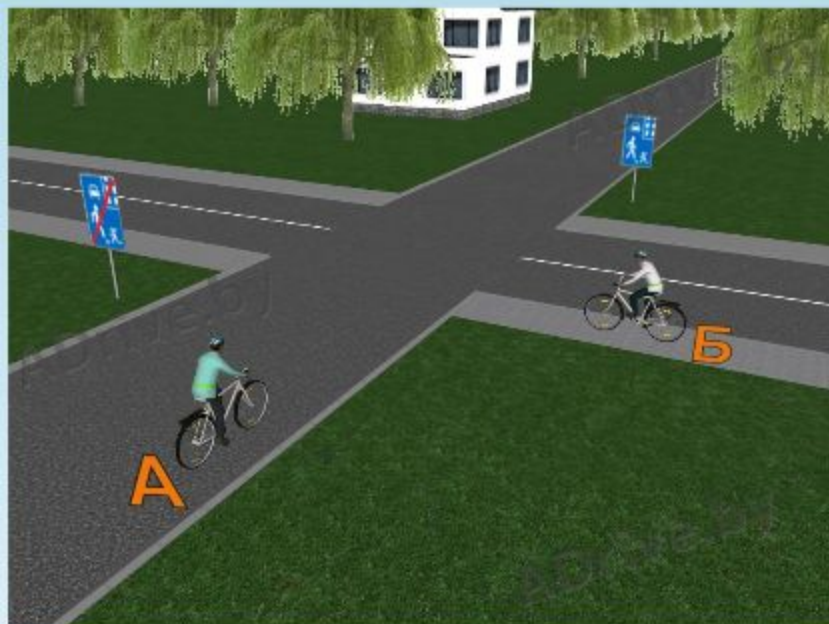
В каких случаях запрещается разворот гужевому транспортному средству?

1. Если при наличии одной попутной полосы имеются две встречные полосы движения.
2. Если на дороге имеется трамвайный путь, расположенный на обособленной от проезжей части дороги полосе.
3. Разворот запрещается в обоих перечисленных случаях.
4. Разворот разрешается в обоих перечисленных случаях.

В каких случаях запрещается разворот гужевому транспортному средству?

1. Если видимость дороги хотя бы в одном направлении движения менее 100 метров.
2. Если на дороге имеется трамвайный путь или в данном направлении имеется более одной полосы движения.
3. Разворот запрещается в обоих перечисленных случаях.

Кто из велосипедистов в показанной ситуации пользуется преимуществом в движении?



1. Велосипедист А.
2. Велосипедист Б.

Разрешается ли перевозить ребенка в возрасте до 12 лет на переднем сиденье автомобиля при отсутствии специального детского удерживающего устройства?

1. Разрешается.
2. Разрешается, кроме легковых автомобилей.
3. Запрещается.

Разрешается ли Вам произвести буксировку с помощью жесткой сцепки автомобиля, у которого не заводится двигатель, если этот автомобиль оборудован вакуумным усилителем рабочей тормозной системы?

1. Да, разрешается.
2. Разрешается только в случае, если масса буксируемого автомобиля не превышает половины массы буксирующего.
3. Нет, не разрешается.

Кто из пешеходов при движении по прилегающей территории нарушает Правила дорожного движения?



1. Пешеход, движущийся по краю проезжей части дороги при наличии тротуара.
2. Пешеход, движущийся по центру проезжей части дороги при наличии тротуара, создающий необоснованно препятствие для движения автомобиля.
3. Оба пешехода нарушают Правила дорожного движения в показанной ситуации.
4. Оба пешехода не нарушают Правила дорожного движения в показанной ситуации.

В каком из перечисленных случаев противотуманные фары могут использоваться вместо ближнего света фар?

1. На мотоцикле или мопеде.
2. При движении в транспортной колонне.
3. При ухудшении видимости транспортного средства на дороге.
4. Во время обучения управлению механическим транспортным средством на дорогах.
5. Могут использоваться во всех перечисленных случаях.

В каком из перечисленных случаев противотуманные фары не могут использоваться вместо ближнего света фар?

1. В условиях недостаточной видимости дороги.
2. При ухудшении видимости транспортного средства на дороге.
3. Во время обучения управлению механическим транспортным средством на дорогах.
4. Не могут использоваться во всех перечисленных случаях.

Нарушают ли Правила дорожного движения водители, двигаясь по автомагистрали с указанными скоростями по причинам, не связанным с техническими?



1. Нарушает только водитель колесного трактора, движущийся со скоростью 45 км/ч.
2. Нарушает только водитель легкового автомобиля, движущийся со скоростью 35 км/ч.
3. Нарушают оба водителя.
4. Не нарушают оба водителя.

Нарушают ли Правила дорожного движения водители, двигаясь по автомагистрали со скоростью менее 40 км/ч (автобус не может развивать скорость более 40 км/ч)?



1. Нарушает только водитель автобуса.
2. Нарушает только водитель легкового автомобиля.
3. Нарушают оба водителя.


Как правильно обозначить транспортное средство при остановке в темное время суток на освещенном участке дороги вне населенного пункта?

1. Включить габаритные или стояночные огни.
2. Включить противотуманные фары и фонари.
3. Включить аварийную световую сигнализацию.
4. Включение внешних световых приборов в данной ситуации необязательно.

Как правильно обозначить транспортное средство при остановке в темное время суток на неосвещенном участке дороги вне населенного пункта?


1. Включить габаритные или стояночные огни.
2. Включить противотуманные фары и фонари.
3. Включить аварийную световую сигнализацию.
4. Включение внешних световых приборов в данной ситуации необязательно.

Разрешается ли водителю грузового автомобиля с технически допустимой общей массой не более 3,5 тонны проехать прямо через показанный перекресток?



1. Разрешается, если водитель работает в обозначенной зоне, при отсутствии иных возможностей подъезда.
2. Разрешается, если водитель проживает в обозначенной зоне, при отсутствии иных возможностей подъезда.
3. Разрешается в обоих перечисленных случаях.

Разрешается ли водителю грузового автомобиля с технически допустимой общей массой не более 3,5 тонны проехать прямо через показанный перекресток?



1. Разрешается только при обслуживании граждан, проживающих в обозначенной зоне, при отсутствии иных возможностей подъезда.
2. Разрешается только при обслуживании торговых и других организаций, расположенных в обозначенной зоне, при отсутствии иных возможностей подъезда.
3. Разрешается в обоих перечисленных случаях.

Тема 6

В каком случае из перечисленных при наличии трещины (трещин) на ветровом стекле автомобиля разрешается участвовать в дорожном движении?

1. Если трещина (трещины) находятся вне зоны, очищаемой стеклоочистителями.
2. Если трещина (трещины) находятся вне зоны, очищаемой стеклоочистителем со стороны водителя.
3. Если трещина (трещины) находятся только в зоне, очищаемой стеклоочистителем с пассажирской стороны.
4. Разрешается участвовать в дорожном движении во всех перечисленных случаях.

При движении по дороге из-под колес встречного автомобиля в ветровое стекло попал камень, образовавшаяся трещина попала в зону, очищаемую стеклоочистителем со стороны водителя. Как должен поступить водитель в такой ситуации?

1. Прекратить дальнейшее движение.
2. Продолжать движение, однако при ближайшей возможности заменить ветровое стекло.
3. Следовать к месту стоянки или ремонта с соблюдением мер предосторожности по обеспечению безопасности дорожного движения.