



ТЕМАТИЧЕСКИЙ КОНТРОЛЬ:

«ПЛАН  
МЕСТНОСТИ»

# Тест по теме «План местности»

## 1 вариант

**1. Как называется масштаб, записанный в таком виде:  
1:100 000?**

- А) Именованный;**
- Б) Численный;**
- В) Линейный;**
- Г) Дробный.**

## 2 вариант

**1. Как называется масштаб, записанный в таком виде: в 1 см – 100 км?**

- А) Именованный;**
- Б) Численный;**
- В) Линейный;**
- Г) Дробный.**

# Тест по теме «План местности»

## 1 вариант

**2. Во сколько раз расстояние на местности больше расстояния на плане, если местность изображена в масштабе 1:30 000?**

- А) в 300 раз**
- Б) в 30 раз**
- В) в 30 000 раз**
- Г) в 3 раза**

## 2 вариант

**2. Определите масштаб плана местности, если улица длиной 500 м, изображенная на нем, равна 5 см.**

- А) в 1 см – 1 км**
- Б) в 1 см – 100 м**
- В) в 1 см – 50 м**
- Г) в 1 см – 5 м**



# Тест по теме «План местности»

## 1 вариант

**3. Какой азимут соответствует направлению на юго-восток?**

- А)  $0^\circ$**
- Б)  $45^\circ$**
- В)  $135^\circ$**
- Г)  $180^\circ$**

## 2 вариант

**3. Какой азимут соответствует направлению на северо-восток?**

- А)  $0^\circ$**
- Б)  $45^\circ$**
- В)  $135^\circ$**
- Г)  $180^\circ$**

## Тест по теме «План местности»

### 1 вариант

**4. Численный масштаб 1:500 000, переведите его в именованный масштаб.**

### 2 вариант

**4. Численный масштаб 1:15 000, переведите его в именованный масштаб.**



## Тест по теме «План местности»

### 1 вариант

**5. Именованный масштаб в 1 см – 3 км, переведите его в численный масштаб.**

### 2 вариант

**5. Именованный масштаб в 1 см – 200 м, переведите его в численный масштаб.**

## Тест по теме «План местности»

### 1 вариант

**6. Расстояние от поселка до озера 15 км. Изобразите отрезок пути, если масштаб 1:300 000**

### 2 вариант

**6. Расстояние от поселка до озера 9 км. Изобразите отрезок пути, если масштаб 1:300 000**



## Тест по теме «План местности»

### 1 вариант

**7. От указанного объекта изобразите направление с помощью условных знаков:**

**От фруктового сада на восток грунтовая дорога к роднику, который находится на расстоянии 500 м. Масштаб в 1 см – 100 м.**

### 2 вариант

**7. От указанного объекта изобразите направление с помощью условных знаков:**

**От смешанного леса на юго-восток грунтовая дорога к роднику, который находится на расстоянии 500 м. Масштаб в 1 см – 100 м.**



## Тест по теме «План местности»

### 1 вариант

**8. Изобразите холм, абсолютная высота которого 142 м. Горизонтали проведите через 40 м. Северный склон крутой, южный пологий.**

### 2 вариант

**8. Изобразите холм, абсолютная высота которого 13 м. Горизонтали проведите через 3 м. Восточный склон крутой, западный пологий.**

# ПРОЧИТАЙТЕ РАССКАЗ:

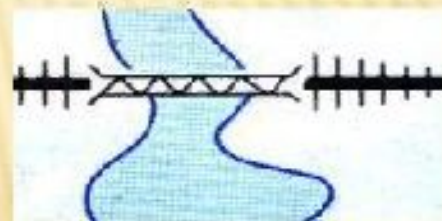
Наш путь шёл от




по



до




через



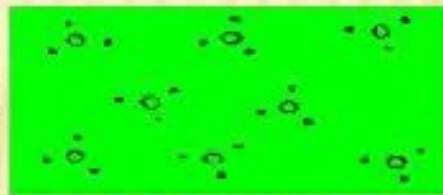
Затем мы двигались по



вдоль



к



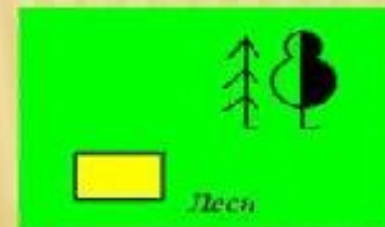
К вечеру мы вошли



прошли 2 км по



и у



сделали привал .



# ДОМАШНЕЕ ЗАДАНИЕ:

- СДЕЛАТЬ САМОПРОВЕРКУ ПРАКТИЧЕСКОЙ РАБОТЫ, ИСПОЛЬЗУЯ ПРЕЗЕНТАЦИЮ!