

Сложение вида

+ 2, + 3




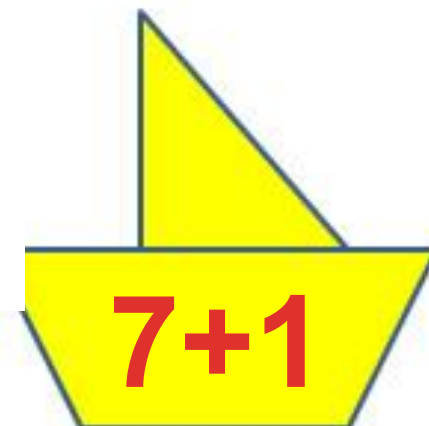
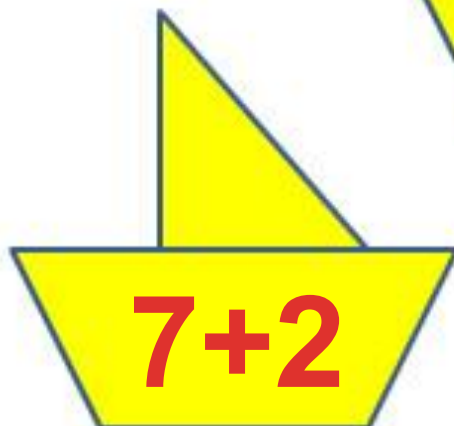
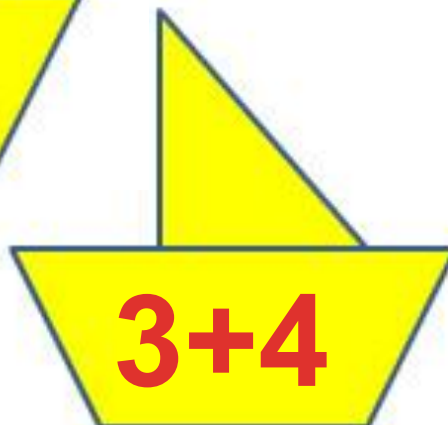
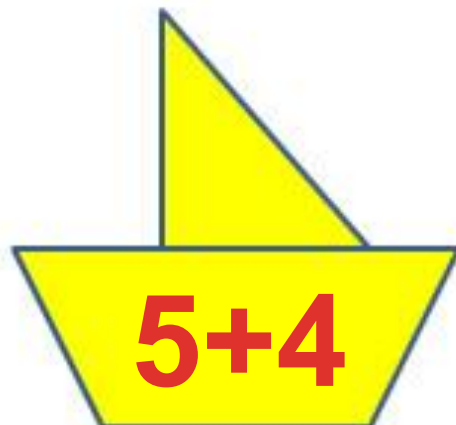
Урок № 99

УСТНЫЙ СЧЁТ

$$2 + 2 =$$

$$6 - 4 =$$






Приведи кораблики к 9 причалу.

Составь задачи по выражениям.



$$10 + 2 = 12$$

$$10 - 2 = 8$$



В одной вазе **5** роз, а в другой на **2** больше. Сколько роз во второй вазе? Сколько всего роз в двух вазах?

$$5 + 2 = 7$$



$$5 + 7 = 12$$



**? на 2
больше**

Два мальчика играли на гитарах, а один на балалайке.
На чём играл Юра, если Миша с Петей и Петя с Юрой
играли на разных инструментах?


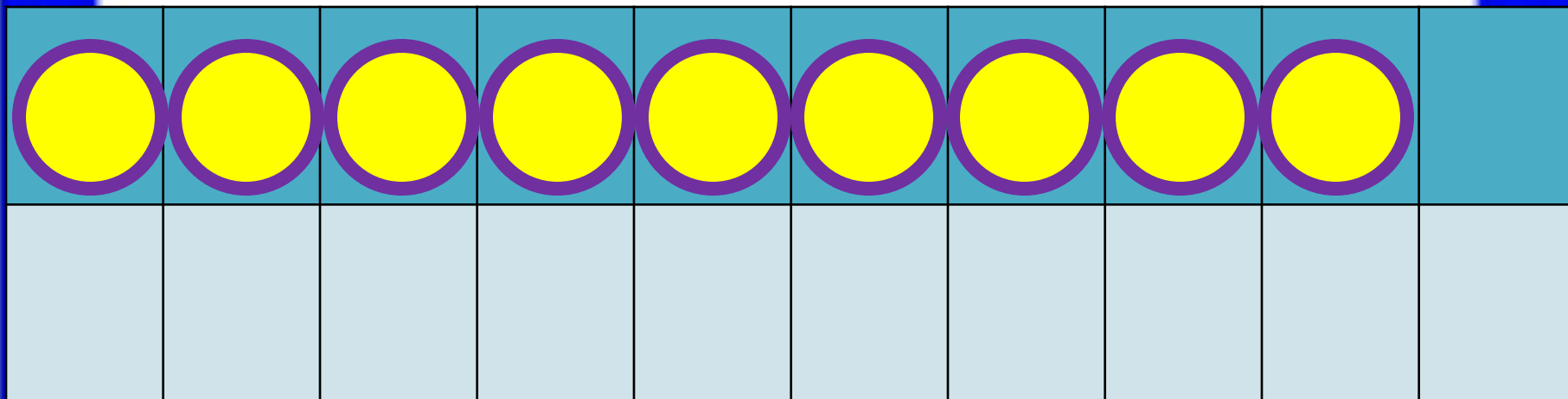


Юра играл на гитаре.




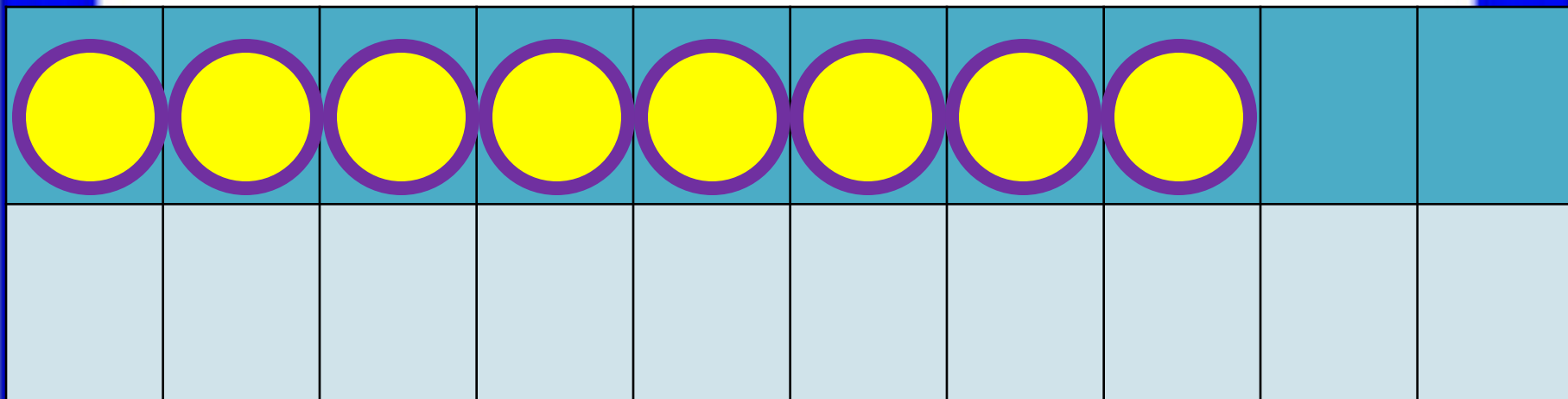
НОВЫЙ МАТЕРИАЛ






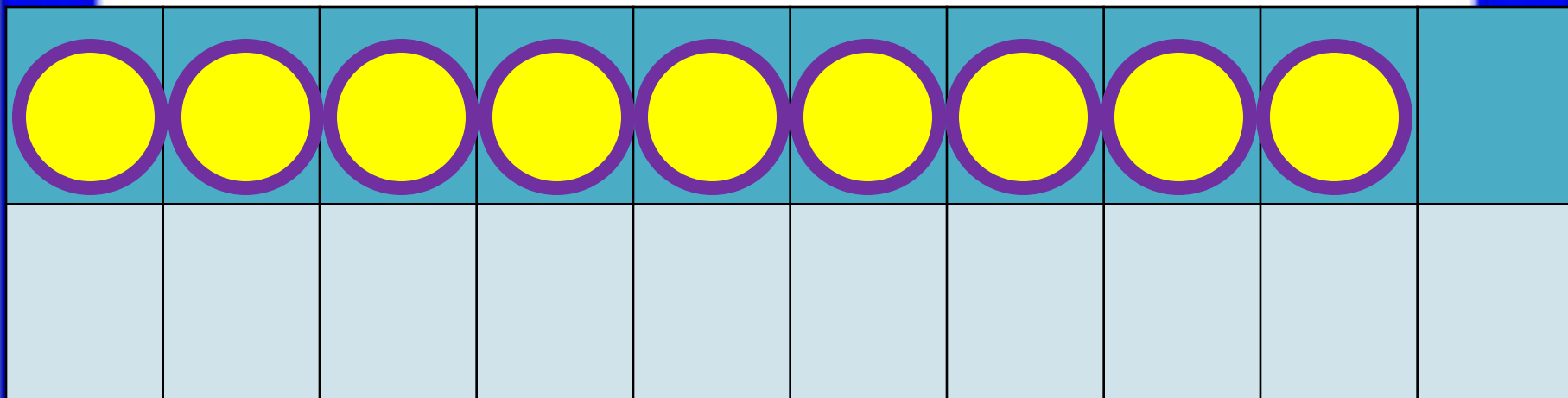
$$9 + 2$$

$$9 + 1 + 1$$



$$8 + 3$$

$$8 + 2 + 1$$



$$9 + 3$$

$$9 + 1 + 2$$



Запомни!

$$9 + 2 = 11$$

$$8 + 3 = 11$$

$$9 + 3 = 12$$

РАБОТА ПО УЧЕБНИКУ



Стр. 66

Объясни, как к числу 9 прибавить 2.



$$\begin{array}{r} 9 + 2 \\ \hline 9 + 1 + 1 \end{array}$$



Рассуждая так же, вычисли.

$$\begin{array}{r} 9 + 3 \\ \hline 9 + 1 + \square \end{array}$$

$$\begin{array}{r} 8 + 3 \\ \hline 8 + 2 + \square \end{array}$$

Запомни!

$$9 + 2 = 11$$

$$9 + 3 = 12$$

$$8 + 3 = 11$$

1.	$8 - 5 - 2$	$0 + 9 - 8$	$8 - 6 + 10$
	$10 - 7 - 2$	$8 + 2 - 4$	$7 - 5 + 10$
	$10 - 8 - 2$	$6 + 0 - 5$	$9 - 7 + 10$

2. Зина купила 6 тетрадей в клетку, а тетрадей в линейку на 2 меньше. Сколько всего тетрадей купила Зина?

3. В большом ведре помещается 10 л воды, а в маленьком — 4 л. Сколько всего ... ?

4. Мама собрала 16 кг яблок. Из 6 кг яблок она сварила варенье. Сколько ... ?

5. Определи, как зовут каждую девочку.



Это Таня и Оля.



Это Оля и Катя.

12 20

10 9


1 дм 9 см

12 см 1 дм

7 4

0 1

РАБОТА В ТЕТРАДИ



Стр. 34

2

$7 + 4 =$	$9 + 6 =$	$8 + 3 =$
$8 + 5 =$	$7 + 7 =$	$6 + 5 =$

3

Первая сказка в книге занимает 9 страниц, а вторая — на 3 страницы больше. Сколько страниц занимает вторая сказка?

- Ответ:

4

$7 +$	$= 11$	$9 +$	$= 11$	$11 -$	$= 4$	
<input type="checkbox"/>	$8 +$	$= 11$	$6 +$	$= 11$	$11 -$	$= 2$

конец