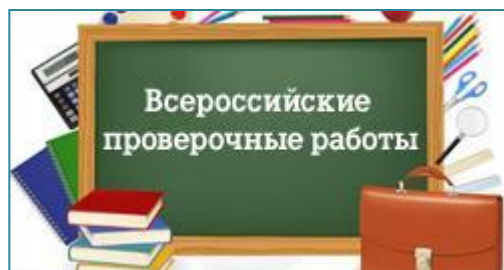


Готовимся к Всероссийской проверочной
работе

Окружающий мир 4 класс

Тренировочные задания

«Человек и общество»



1. Определите, где верно подписаны части герба России?

1. Большая корона

1. Большая корона

2. Малая корона

2. Малая корона

3. Скипетр

3. Скипетр

4. Держава

4. Держава

А.

Б.



2. Определите в каком порядке сверху вниз расположены цвета флага России?

А. Белый, красный, синий

Б. Белый, синий, красный

В. Красный, синий, белый

Г. Синий, белый, красный



3. Конституция Российской Федерации устанавливает права и обязанности каждого гражданина.

Выберите утверждение, которое определяет обязанность граждан нашей страны.



А. Защита своей чести и имени

Б. Защита Отечества

В. Свободное высказывание своего мнения

Г. Свободный выбор профессии

4. В разные времена наше государство называлось по - разному. Укажите последовательность смены названий с течением времени.

А. СССР

2.

Б. Российская Федерация

3.

В. Российская империя

1.

5. На экскурсии по родному городу Миша и Аня познакомили друзей с указанными достопримечательностями. В каком городе они живут?

Медный всадник



Эрмитаж



Петергоф



А. Москва

Б. Санкт - Петербург

В. Саратов

Г. Нижний Новгород


6. Рассмотрите фотографии. Какие из этих достопримечательностей можно увидеть в столице России?



А.



Б.



В.



Г.

7. Учительница попросила ребят кратко охарактеризовать место человека в мире. Кто из них прав?

А. СЕРЁЖА: ЧЕЛОВЕК - ЧАСТЬ ПРИРОДЫ.

Б. КОЛЯ: ЧЕЛОВЕК - ЧЛЕН ОБЩЕСТВА.

В. ОЛЯ: ЧЕЛОВЕК - ЧАСТЬ ПРИРОДЫ И ОДНОВРЕМЕННО ЧЛЕН ОБЩЕСТВА.

8. Ребята поспорили, какая наука изучает внутренний мир человека. Кто прав в споре?

А. ВИТЯ: «БИОЛОГИЯ».

Б. НИНА: «ЭКОЛОГИЯ».

В. ОЛЕГ: «ПСИХОЛОГИЯ».

Г. ОЛЯ: «АНАТОМИЯ».



9. Учительница попросила продолжить фразу:
«Внутренний мир человека - это ...». Кто
ответил верно?

А. ВИТЯ: «...сердце, лёгкие, желудок, печень и другие органы».

Б. НИНА: «... глаза, уши, рот, нос, руки, ноги».

В. ОЛЕГ: «... современные города, дороги, фабрики, заводы, автомобили, книги, компьютеры».

Г. ОЛЯ: «... переживания человека, особенности его характера, человеческие качества».

10. Прочитайте объявления о режиме работы разных учреждений. Сделайте выводы по каждому объявлению.



А. Сможет ли Аня купить своей сестрёнке игрушку, если придёт за покупкой сразу после полудня?

ДА. НЕТ.



Б. Смогут ли учащиеся **3** класса посетить музей **4** мая в **15** часов?

ДА. НЕТ.

11. Перед вами названия государственных праздников России, укажите порядок их следования в течение года.

4.

А. День народного единства

1.

Б. День защитника Отечества

3.

В. День России

2.

Г. День Победы

12. М. В. Ломоносов (1711 – 1765) –
выдающийся русский учёный.

Выберите источник, который поможет
подготовить сообщение о его жизни и
деятельности.



А. Энциклопедия «Знаменитые
путешественники»

Б. Справочник «Выдающиеся россияне»

В. Телефонный справочник Московского
университета

Г. Книга «Истории о великих русских
монархах»

13. М. В. Ломоносов (1711 – 1765) – выдающийся русский учёный. Определите, в каком веке он жил и работал?

А. В XIX веке

Б. В XIV веке

В. В XVIII веке

Г. В XVII веке



14. Выберите высказывания, которые относятся к прошлому.

А. Устройство первого компаса было описано в китайской книге **1044** года.

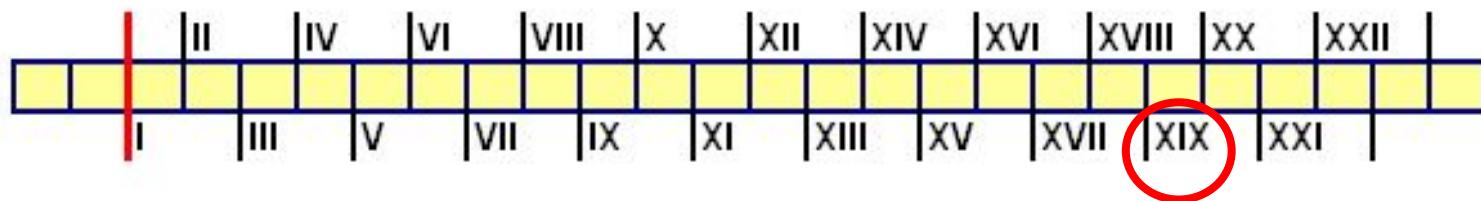
Б. К середине **XXI** века основным видом личного транспорта станут электромобили.

В. В нашем городе идёт строительство нового футбольного стадиона.

Г. В **1609** году Галилео Галилей сконструировал первый телескоп.

Д. Первый полёт на Марс корабля с пилотами планируется в **2033** году.

15. В семье Антона и Наташи хранится медаль, которую их предок по отцовской линии получил за храбрость в сражениях **Отечественной войны 1812 г.** В этой войне народ России одержал победу над вторгшейся на её территорию французской армией Наполеона Бонапарта. По ленте времени определите, в каком веке была получена медаль, хранящаяся в семье?



16. Установите соответствие между датами и историческими событиями.

ДАТА

СОБЫТИЕ

А. 1242 год

Б. 1812 год

В. 1961 год

Г. 1703 год

1. Полёт в космос
Ю. Гагарина

2. Ледовое побоище

3. Отечественная война с
Наполеоном

4. Основание Санкт -
Петербурга

17. Установите соответствие между датами и историческими событиями.

ДАТА

СОБЫТИЕ

А. 1380 год

1. Начало Первой мировой войны

Б. 1914 год

2. Куликовская битва

В. 1812 год

3. Отечественная война с Наполеоном

Г. 1941 год

4. Начало Великой Отечественной войны

18. В **1948** году Организацией Объединённых Наций была принята

А. Всеобщая декларация прав человека

Б. Конституция Российской Федерации

В. Международная Красная книга

Г. Конвенция о правах ребёнка



19. Ребёнком считается **каждый юный житель планеты, не достигший**

А. 12 лет

Б. 16 лет

В. 18 лет

Г. 15 лет



20. Отметьте авторов музыки и слов Государственного Гимна Российской Федерации

А. Д. Д. Шостакович

Б. Д. Б. Кабалевский

В. С. В. Михалков

Г. А. В. Александров

Д. В. В. Маяковский

Е. С. Я. Маршак



21. Укажите, какой из этих праздников профессиональный

А. День Конституции

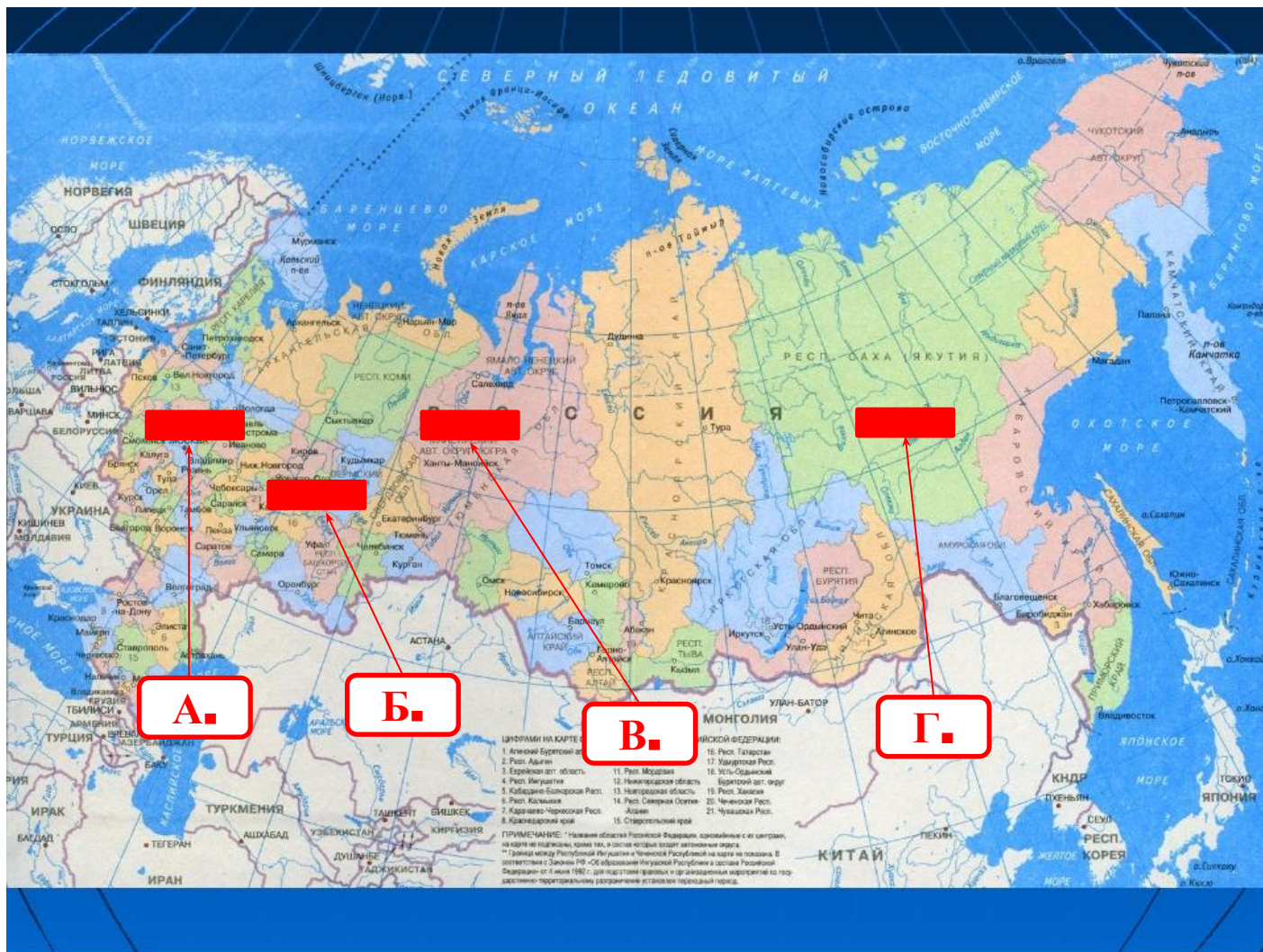
Б. День медицинского работника

В. День Государственного флага России

Г. День России



22. Какая стрелка на карте указывает на столицу нашей страны?



23. Какой из городов был столицей Древней Руси?

А. Новгород

Б. Смоленск

В. Чернигов

Г. Киев

Д. Суздаль



24. Какой князь вошёл в историю как креститель Руси?


А. Олег

Б. Ярослав Мудрый

В. Владимир

Г. Юрий Долгорукий

Д. Игорь



25. В каком году произошло Крещение Руси?

А. 889 год

Б. 988 год

В. 955 год

Г. 1908 год



26. Главой Руси был ■ ■ ■ ■

А. КОРОЛЬ

Б. ЦАРЬ

В. КНЯЗЬ

Г. ИМПЕРАТОР



27. Выберите верное утверждение об образе жизни древних славян.

А. Древние славяне носили одежду из белого хлопка.

Б. Основным строительным материалом у древних славян было дерево.

В. Древние славяне готовили пищу в больших стальных котлах.

Г. Древние славяне вели кочевой образ жизни, следуя за табунами лошадей.



28. Выберите, на каком материке расположена территория Российской Федерации

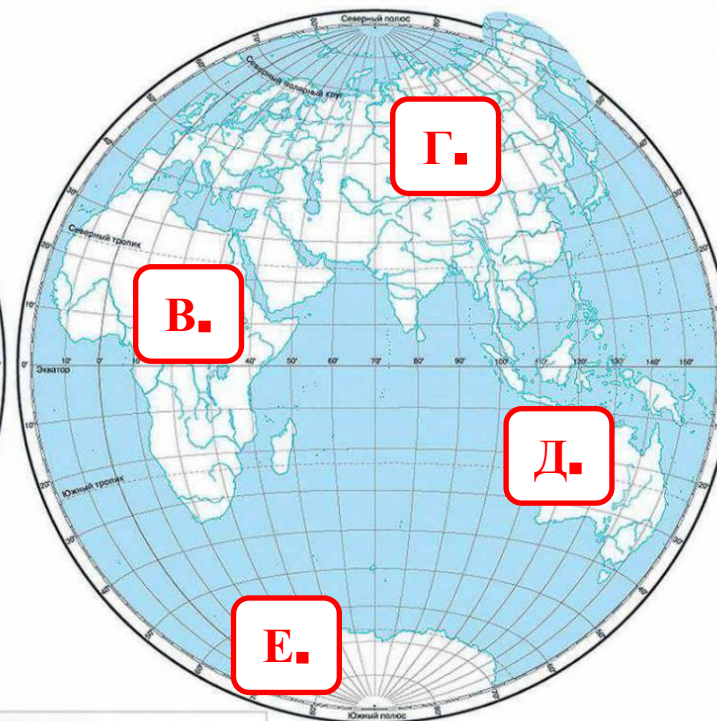
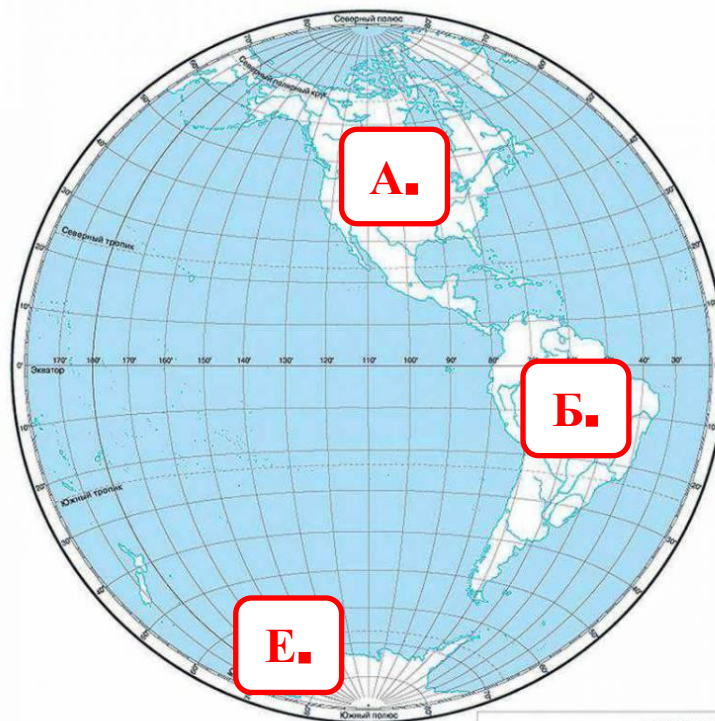
Масштаб 1:30 000 000

ФИЗИЧЕСКАЯ КАРТА ПОЛУШАРИЙ
(контурная карта)

Для общеобразовательных учреждений

ЗАПАДНОЕ ПОЛУШАРИЕ

ВОСТОЧНОЕ ПОЛУШАРИЕ



УСЛОВНЫЕ ОБОЗНАЧЕНИЯ

29. Выберите, на каком материке были найдены следы существования древнейших людей

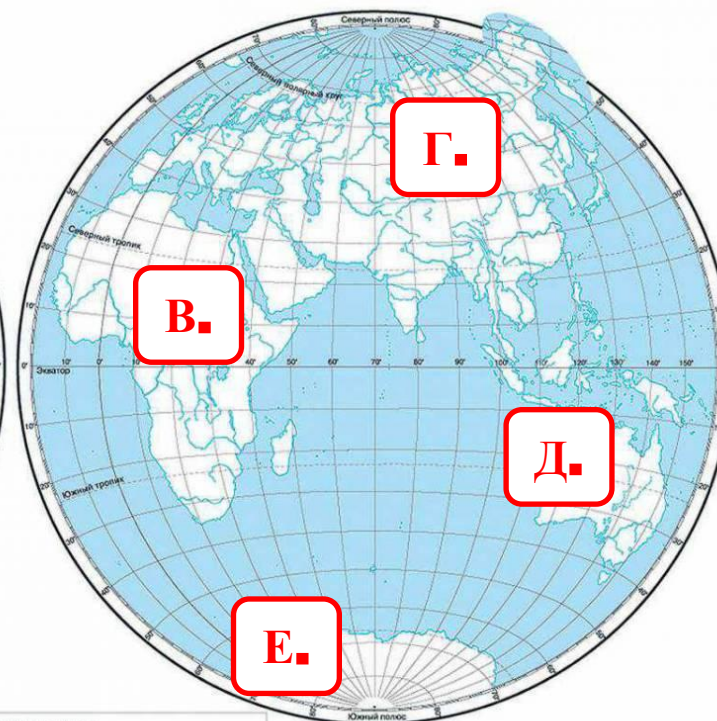
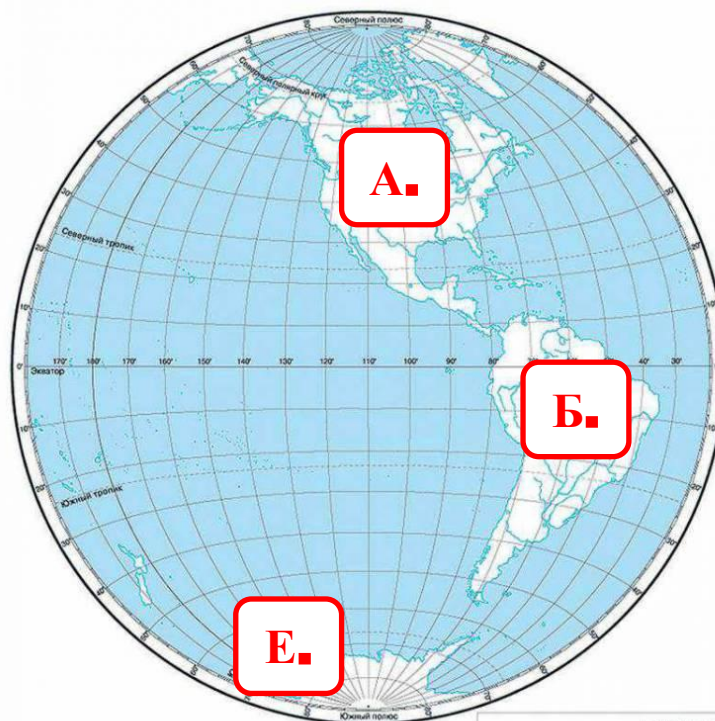
Масштаб 1:30 000 000

ФИЗИЧЕСКАЯ КАРТА ПОЛУШАРИЙ
(контурная карта)

Для общеобразовательных учреждений

ЗАПАДНОЕ ПОЛУШАРИЕ

ВОСТОЧНОЕ ПОЛУШАРИЕ



УСЛОВНЫЕ ОБОЗНАЧЕНИЯ

30. В **1612** году народным ополчением Кузьмы Минина и Дмитрия Пожарского польские захватчики были разгромлены и изгнаны из Москвы. Какой праздник в современной России отмечается в память об этих событиях?

А. День России - **12 июня**

Б. День народного единства -
4 ноября

В. День Конституции -
12 декабря

Г. День Победы - **9 мая**



Использованная литература

Демидова М. Ю. Готовимся к Всероссийской проверочной работе. Окружающий мир. Рабочая тетрадь. **4** класс. М.: Просвещение, **2016**.

Интернет ресурсы

- regionlib.ru
- vmurmanske.ru
- detkivkletke.ru
- kaluga.bezformata.ru
- allphoto.in.ua
- www.proznanie.ru
- 900igr.net
- vizit-nt.ru
- lib.exdat.com
- www.proshkolu.ru
- mimege.ru
- imgplusdb.com
- via-life.ru

Источник шаблона

Сайт <http://linda6035.ucoz.ru/>