




Российская академия наук  
Российская академия образования  
Издательство «Просвещение»

П Е Р С П Е К Т И В А

Л. Г. Петерсон

# МАТЕМАТИКА



1 класс

У Ч У С Ь У Ч И Т Ь С Я

ЧАСТЬ  
ТРЕТЬЯ



$$80 + 10 - 30 = 60$$

$$60 - 30 - 20 + 50 = 60$$



$$40 - 20 + 60 = 80$$

$$10 + 40 + 30 - 70 = 10$$

$$70 - 50 + 40 = 60$$

$$50 - 10 - 30 + 60 = 70$$

- 2 а) Завод выпустил за день 80 автомобилей. Из них 20 были грузовые, а остальные – легковые. Сколько легковых машин выпустил завод?



- б) Люба собрала 40 съедобных грибов и 10 червивых. Сколько грибов собрала Люба?

- в) Составь задачи, чтобы они решались так:

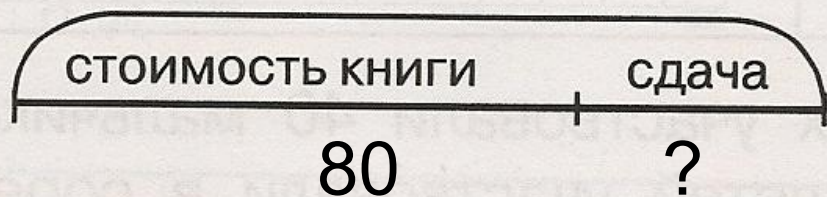
$$10 + 50 + 20$$

$$90 - 60$$

$$20 + 40 - 50$$

Игорь покупал книгу. Он отдал в кассу две купюры по 50 рублей. Сколько сдачи ему надо получить, если книга стоит 80 рублей?

$$50+50$$



1)  
2)  
Ответ:

4

$$x + 20 = 70$$

$$80 - x = 40$$

$$x - 40 = 30$$

5) Расшифруй ребусы:

а) яяяяяя

б)

а	а	а	а
а а	а а	а а	а а
а а а	а а а	а а а	а а а
а а а а	а а а а	а а а а	а а а а

6 Однажды в весёлом расположении духа Винни-Пух пришёл к Кролику, и они пошли покупать в подарок ослику Иа-Иа большой красивый воздушный шарик. В кошельке лежали две монеты достоинством в 5 руб., шесть монет — в 10 руб. и купюра в 50 руб. Какими способами можно заплатить 60 рублей?




**5 5**

**10 10 10 10 10 10**

**50**

- 7 Измерь отрезок АБ длиной 20 клеточек мерками а, б, в и г.



- 8★ Ваня прошёл 20 шагов, а Саша – 19 шагов. Кто из них прошёл большее расстояние?

- 9★ У Димы 50 марок, а у Саши 30 марок. На сколько больше марок у Димы, чем у Саши? Сколько марок Дима должен отдать Саше, чтобы у них марок стало поровну?



100 200 300  
 893 883 873  
 Δ 10 Δ Δ 20 Δ Δ Δ 30