




Мы рады видеть вас!

На карте - огромная планета Земля  
Реки и горы, равнины, моря  
Точка на карте зовётся «объект» –  
Такое понятие ввёл человек.  
Сегодня мы с вами знаем о том,  
Что каждая точка имеет свой дом  
Чтобы её отыскать в целом мире  
Ей указали этаж и квартиру.  
Сложно найти этот адрес ребятам  
Если не следовать координатам.  
Этаж называется широтой  
Номер квартиры – его долготой.



# Географические координаты

Я, йыратс тарип сноБ, яувтсвуч дереп  
йомеунимен йеовс йоничнок яинезыргу  
итсевос, юащеваз иовс ащиворкос умот,  
отк тёдйан утэ уксипаз. Далк тыраз ан  
евортсо, мещюеми ытанидроок 28 ш.ю.,  
110 д.з. аН угереб авортсо тётсар оверед, в  
елпуд огороток – атрак. ИдйаН ёе и  
ащиворкос иовт.

остров Пасхи в  
Тихом океане

задания	ответ	Количество баллов
Расшифровка письма		
Координаты г. Санкт-Петербург		
Герой романа «20000 лье под водой»		
Герой романа «Таинственный остров»		
Герой романа «Дети капитана Гранта»		
Шхуна «Пилигрим»		
Перестрелка		

## Цели:

- Повторить знания и умения по теме «Географические координаты»;
- Научиться применять знания и умения в практической деятельности;
- Учиться работать в группе.

- Что такое географическая широта?

Это величина дуги в градусах между экватором и параллелью, проведённой через точку

- Как она определяется?

Определяется от экватора

- Какая она бывает?

Северная и южная

- Что такое географическая долгота?

Величина дуги в градусах от начального меридиана до какой-либо точки


- Как она определяется?

Определяется от начального меридиана

- Какая она бывает?

Западная и восточная





город Санкт – Петербург

58°с.ш. и 32°в.д.

- Герой романа Жюль Верна «20000 лье под водой» начал своё кругосветное путешествие по морским глубинам под  $34^{\circ}$  с.ш. и  $139^{\circ}$  в.д. В каком океане он начал свой путь и вблизи каких островов?

Тихий океан  
Японские острова

- Герои другого романа «Таинственный остров» отправились в путешествие на воздушном шаре в точке  $38^{\circ}$ с.ш. и  $78^{\circ}$ з.д. По политической карте определите, героями какой страны они были?


Соединённые штаты Америки

- Потерпевший крушение капитан Грант, герой романа «Дети капитана Гранта», сумел добраться до острова Табор с координатами  $37^{\circ}$ с.ш. и  $139^{\circ}$ в.д. Вблизи какого материка находился долгое время капитан Грант?

Евразия

- Шхуна «Пилигрим» была под  $44^{\circ}$  ю.ш. и  $165^{\circ}$  долготы к западу от Гринвича. В каком океане находились герои романа Жюль Верна?

Тихий океан



А теперь ребята, встать  
Руки медленно поднять  
Пальцы сжать, потом разжать  
Руки вниз и так стоять.  
Наклонитесь вправо, влево  
И беритесь вновь за дело.



Домашнее задание (по выбору):

1. Составить кроссворд по терминам;
2. Придумать задание на определение географических координат.



Я знаю, что такое...

Я могу...

Я научился...





Спасибо за  
внимание