


# Прямоугольные треугольники



# Устная работа

- Сформулировать пять признаков равенства прямоугольных треугольников
- Сформулировать свойства прямоугольных треугольников

# Задачи на ГОТОВЫХ чертежах





**A**



**A<sub>1</sub>**



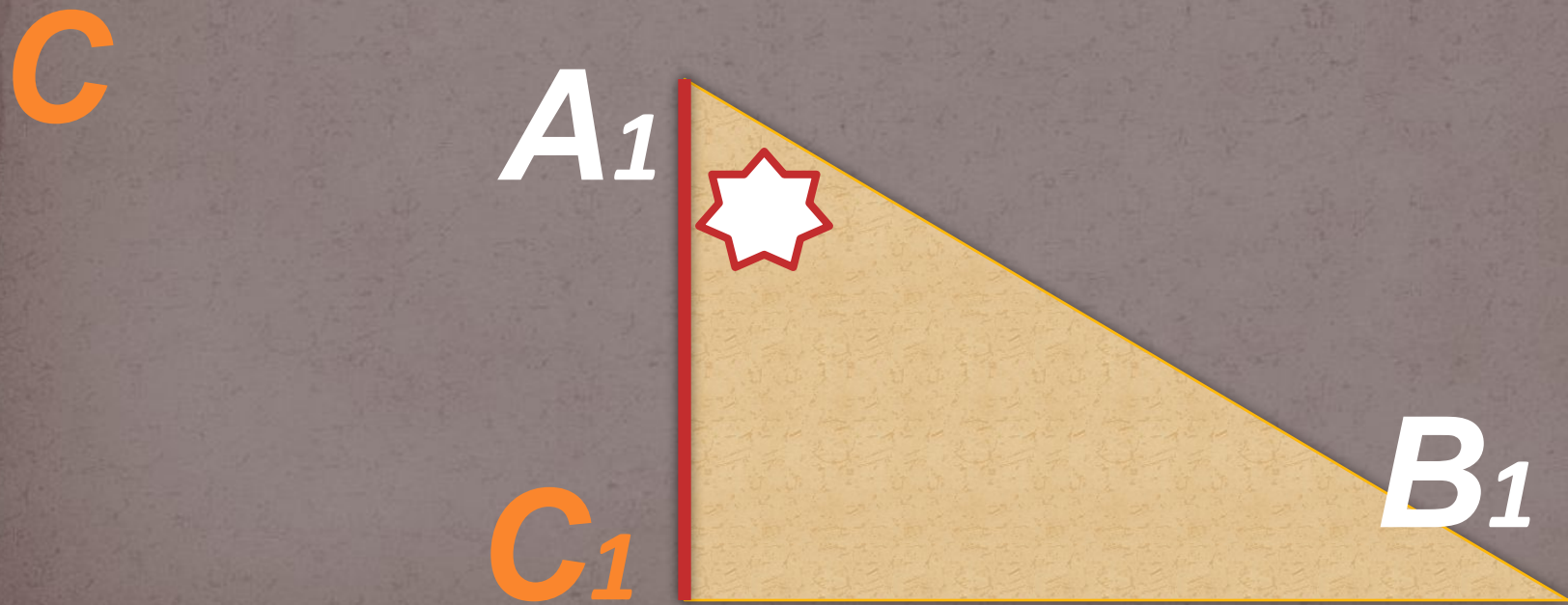
**C**

**B**

**C<sub>1</sub>**

**B<sub>1</sub>**







$A_1$

$B_1$

$C_1$

$A$

$C$

$B$



**A**

**C**

**A<sub>1</sub>**

**C<sub>1</sub>**

**B**

**B<sub>1</sub>**



**B**

**C**

**A<sub>1</sub>**



**A**

**C<sub>1</sub>**



**B<sub>1</sub>**





A

$60^{\circ}$


B

$30^{\circ}$

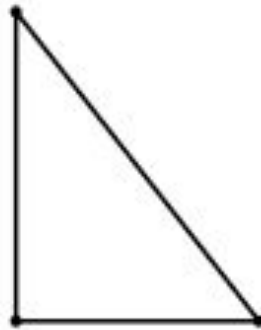
C



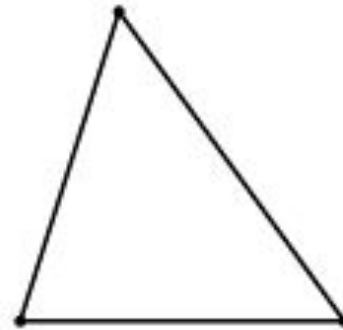
# Самостоятельная работа



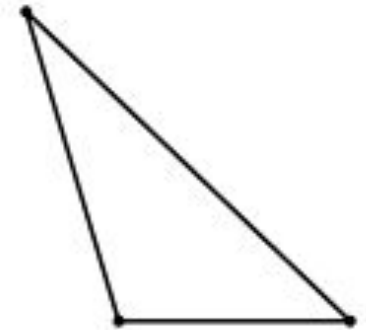
## ВИДЫ ТРЕУГОЛЬНИКОВ



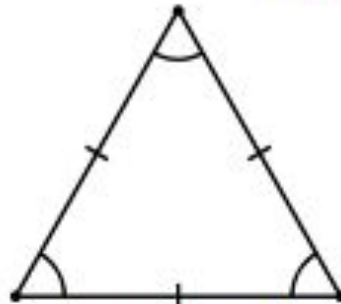
Прямоугольный



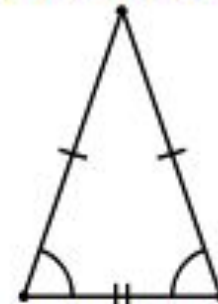
Остроугольный



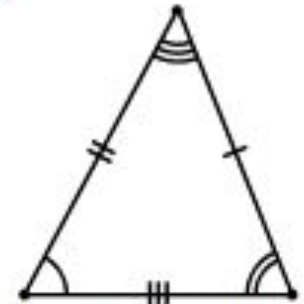
Тупоугольный



Равносторонний



Равнобедренный



Разносторонний



*Домашнее задание:*

*творческая работа на  
составление задач по теме  
«Прямоугольные  
треугольники»*