

## Проверка работы 12 мая

7.

$$\begin{array}{l} 4 + 8 = 12 \\ 12 - 9 = 3 \\ 6 + 7 = 13 \end{array} \quad \begin{array}{l} 5 + 6 = 11 \\ 11 - 3 = 8 \\ 9 + 8 = 17 \end{array}$$

6.

$$\begin{array}{l} (12 \overset{5}{-} 7) \overset{11}{+} 4 = 9 \\ 11 - (6 \overset{11}{+} 5) = 0 \end{array} \quad \begin{array}{l} 9 + (6 \overset{0}{-} 6) = 9 \\ 8 + (13 \overset{8}{-} 5) = 16 \end{array}$$

Больших - 3ш.  
Маленьких - 12ш.  на ? больше (-)

$$12 - 3 = 9 \text{ (ш.)}$$

Ответ: на 9 больших шаров меньше.

# Работа в тетради № 1

Прочитай ответы с помощью зеркала. Запиши их.

$6 + 8 = 14$


$9 + 9 = 18$

$16 - 7 = 9$

$14 - 8 = 6$

# Работа в тетради № 2

Раскрась отражение царевны в зеркале.



# Сегодня работу начнём с повторения

П.т. С. 86 – 87 . Старайся работать быстро, уверенно и самостоятельно.  
Засеки время, которое тебе потребовалось для выполнения этого задания.

## Проверка завтра

А сегодня у нас новая тема. Учебник с. 134

# Тема урока. Симметрия





**Зеркальное  
отражение –**

**симметри  
я.**



**Нижняя часть точно повторяет верхнюю часть.**

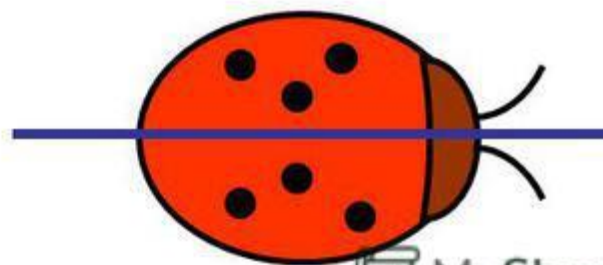
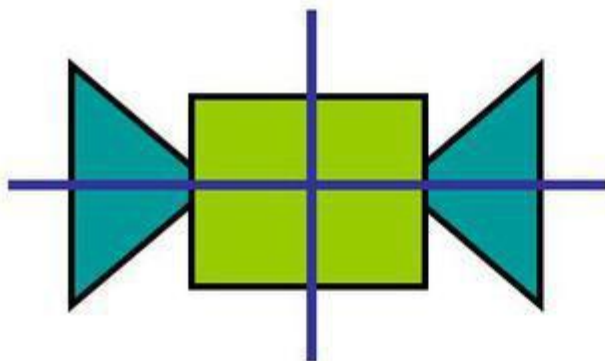
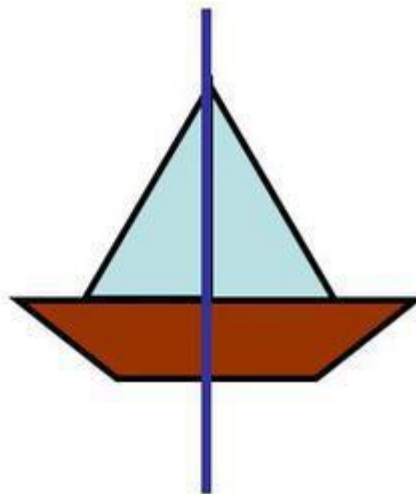

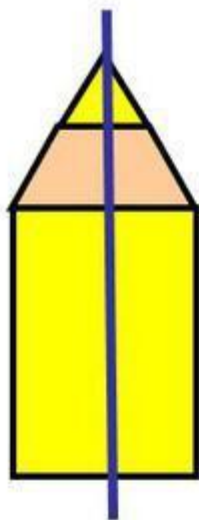
# Примеры симметрии в жизни



Левая часть точно повторяет правую часть.



# Симметричные фигуры

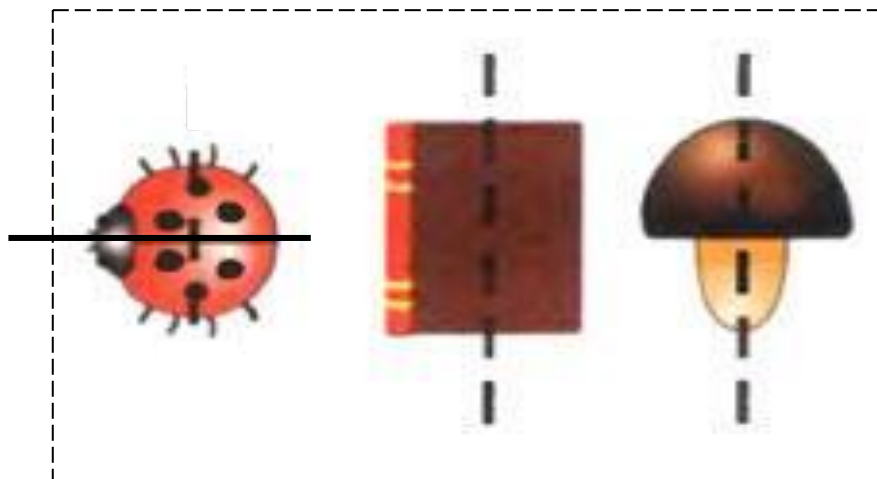


Назови лишнюю картинку



рыбка

Назови лишнюю картинку

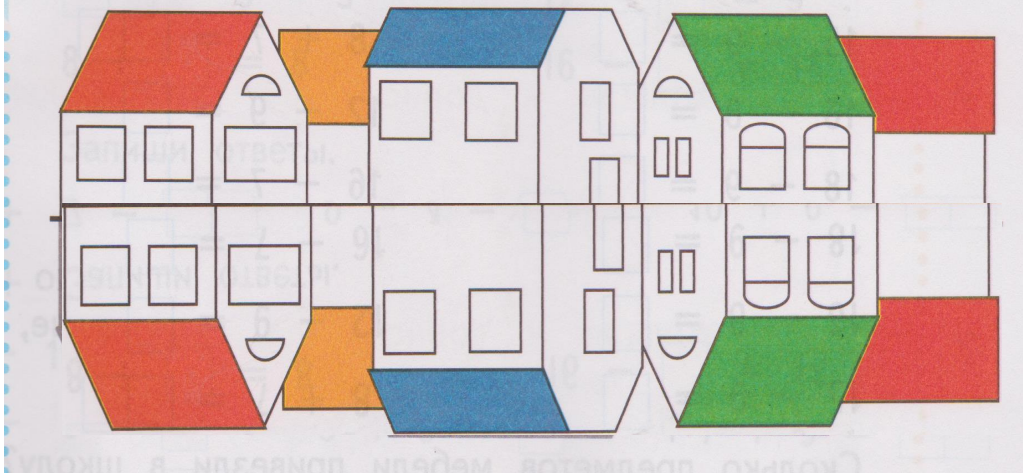


книга

# Переходим в печатную тетрадь с. 85

№ 1

В воде озера отражаются дачные домики. Раскрась цветными карандашами отражения их крыш.

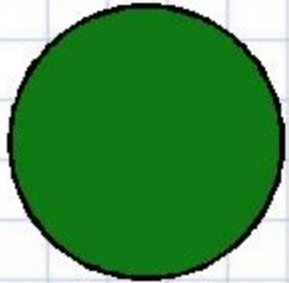


# Работа в тетради № 2


# Работа в тетради № 3

Оцени свою работу


## Рефлексия



**Мне все понятно.  
Я молодец!**



**У меня не всё  
получилось, но я  
старался!**



**Мне надо быть  
внимательнее!**

