



Части множества




**Громко прозвенел звонок-
Начинается урок
Наши ушки на макушке,
Глазки хорошо открыты.
Слушаем, запоминаем,
Ни минутки не теряем.**





Посчитай!









Кто лишний?





Физпауза



*Раз, два, три, четыре, пять!
Будем пальчики считать —
Крепкие, дружные,
Все такие нужные.
На другой руке опять:
Раз, два, три, четыре, пять!
Пальчики быстрые,
Хоть не очень... чистые.*

ЧАСТИ МНОЖЕСТВА

- Рассмотри рисунок. Какие части выделены в множестве одежды пунктирными линиями? Сколько элементов в множестве платьев на рисунке? в множестве брюк? в множестве курток?



На сколько частей можно разбить множество одежды на рисунке по цвету? по размеру? Сколько элементов в множестве одежды синего цвета? большого размера?

- Найди на каждом рисунке указанную часть множества.



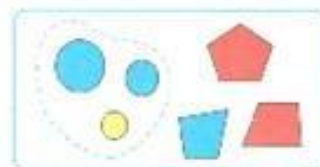
Мячи.



Чашки.


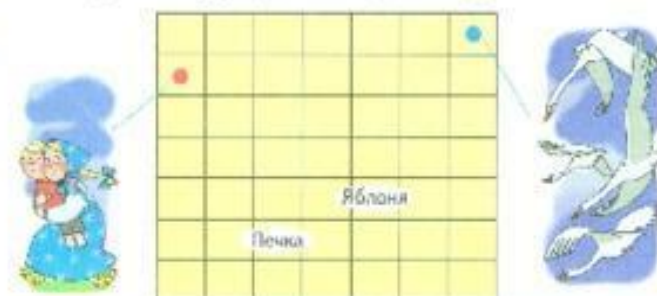
Сколько элементов в множестве мячей на рисунке? в множестве чашек? Какие ещё части можно выделить в множестве игрушек на рисунке? в множестве посуды?

- Рассмотри множество фигур в каждой рамке. Назови ту часть множества, которая обведена пунктирной линией.



Какие ещё части ты можешь выделить в этих множествах?

- Алёнушка с братцем Иванушкой убежали от Бабы-яги. Она послала за ними в погоню гусей-лебедей. Узнай по стрелочному письму, где спрятались Алёнушка и Иванушка и куда прилетели гуси-лебеди.





Найди часть множества





*Я тетрадь свою открою
И с наклоном положу.
Я, друзья, от вас не скрою-
Ручку я вот так держу.
Сяду прямо, не согнусь,
За работу я возьмусь.*



Расставил Андрюшка
В два ряда игрушки.
Рядом с **мартышкой-**
Плюшевый мишка.
Вместе с **лисой-**
Зайка косой.
Следом за ними-
Ёж и **лягушка.**
Сколько игрушек
Расставил Андрюшка?



Мама ежика
Нашла две свинушки,
А маленький ёжик-
Четыре волнушки.

Сложили грибы возле
дома ежи.
И ты их, пожалуйста,
тоже сложи!

$$2 + 4 = 6$$





Итог урока

Повторили

Узнали

Научились

