



**Өткен сабақты  
шысықтау.**





30

10

20



20

30

10



10

20

30



*Дүние жүзі бойынша  
жүгері өсіруден  
көрнекті орын алатын  
мемлекет*



# Америка Құрама Штаттары





30 — 10 — 20

20 — 30 — 10



10 — 20 — 30

**Шай өндіретін елдерді  
ата.**



# Үндістан, Қытай







30 — 10 — 20

20 — 30 — 10



10 — 20 — 30

Күріш ең алғаш қай  
мемлекетте шықты.



# Қытайда





30 — 10 — 20



20 — 30 — 10



10 — 20 — 30



**Талшықты дақылдың ең  
маңыздысын ата және оның  
алқабы мен өндіруі жөнінен  
қай ел бірінші орынды  
алады?**



Мақта, егістік алқабы  
мен мақта жинау  
жөнінен 1 – ші орынды  
ежелден Азия елдері  
иеленген.





30

10

20



20

30

10



10

20

30



Сергітпе дақылдарды  
ата.





Шай, кофе, какао





30

10

20



20

30

10



10

20

30





# *Видео сұрақ*





Суретте  
көрсетілген-  
дер  
қандай  
дақылға  
жатады?

# *Майлы дақылдар*





30

10

20



20

30

10



10

20

30



# Бидайдың негізгі шыққан ошағы



*Алдыңғы Азия мен  
Жерорта теңіз аймағы*







30 10 20

20 30 10



10 20 30

*Бидайдың негізгі  
шыққан ошағы Алдыңғы Азия  
мен Жерорта теңізі аймағы  
екенін анықтаған ғалымды  
атаңыз*



*Бидайдың негізгі  
шыққан ошағы Алдыңғы  
Азия мен Жерорта теңізі  
аймағы екенін анықтаған  
академик Н. И Вавилов*





30 10 20

20 30 10



10 20 30



# *Видео сұрақ*





**Бұл  
қандай**

**дақылға**

**жатады?**



*Мақта талшықты  
дақылға жатады*



*13.02.2012жс*

Жаңа сабақ





13.02.2012

# *АШЫҚ САБАҚ*

## **§ 39. Мал шаруашылығы және балық шаруашылығы.**



# **Сабақтың мақсаты:**

*Дүние жүзілік шаруашылықта мал шаруашылығының және балық шаруашылығының өзіндік алатын орыны туралы мәлімет беру. Мал шаруашылығы салалары мен мал шаруашылығы өнімдерін өндірудегі жетекші елдер туралы мәлімет беру.*



# **Ауыл шаруашылығы**





```
graph TD; A[Ауыл шаруашылығы] --> B[Өсімдік шаруашылығы]; A --> C[Мал шаруашылығы];
```

**Өсімдік  
шаруашылығы**

**Мал  
шаруашылығы**

**Мал шаруашылығы –  
ауыл шаруашылығының  
маңызды әрі жетекші  
саласы. Ол да өсімдік  
шаруашылығы тәрізді өте  
ежелден келе жатқан және  
барлық жерге кең  
таралған шаруашылық.**

Мал  
шаруашылығы



Ірі қара  
өсіру

Шошқа  
шаруашылы  
ғы

Қой  
шаруашылы  
ғы

Құс  
шаруашылы  
ғы



# Ет өндіруден жетекші елдер

№	Елдер	Өндіру көлемі, млн т	Ет өндірудегі үлесі, %
1	Қытай	55,3	24,5
2	АҚШ	35,8	16,6
3	Бразилия	11,7	5,4
4	Франция	6,5	3,0
5	Германия	6,2	2,9
6	Үндістан	4,6	2,2
7	Ресей	4,4	2,0
8	Испания	4,4	2,0
9	Мексика	4,1	1,9
10	Ұлыбритания	3,8	1,8
	Дүние жүзі бойынша	216,2	100,0

**Сүт  
өндіру**

**АҚШ**

**Ресей**

**Үндістан**

**Бразилия**

**Батыс Еуропа**



# Ірі қара шаруашылығы







# Ірі қара өнімі



*Шошқа шаруашылығы дүниежүзілік ет өнімінің 40%-ға жуығын береді. Қазір оның саны 0,8 млрд-тан асып отыр.*

**Шошқа  
шаруашылы  
ғы**





**Ет- жүн  
бағытында**

**Биязы**

**Жартылай  
биязы**

*Ет- жүн бағытындағы тауарлар өндірісі Солтүстік және Оңтүстік Американың , Аустралия мен Оңтүстік Еуропаның, Орталық және Орта Азияның, Оңтүстік Африканың қоңыржай және субтропиктік белдеулерінің құрғақ аудандарында жақсы дамыған.*

# Биязы жүнді қой шаруашылығы









Алдыңғы  
Азия

Орта Азия Қаракөл елтірісінің дайындауы Орталық Азия

**Дүние жүзіндегі қойы ең көп ел – Аустралия (130 млн астам) , одан кейін Қытай (112 млн астам)**

**Жүн өндіруден жетекші елдерге : Аустралия, Қытай, Жаңа Зеландия, Уругвай және Ресей.**

*XX ғасырдың екінші жартысынан бастап, Солтүстік Америка мен Батыс Еуропа елдерінде бройлер балапандарын өсіретін ірі құс өсіру кешендері қалыптаса бастады.*

*Бүгінгі таңда құстың саны жөнінен Қытай, АҚШ, Ресей, ал жұмыртқа өндіруден Қытай, АҚШ, Жапония, Ресей және Үндістан ерекше көзге түседі.*

*Балық аулау теңіз жағалық елдерінің барлығында таралғанымен, дүние жүзінде ауланатын балықтың жартысынан астамы 6 елдің – Жапония, Қытай, АҚШ, Чили, Перу және Ресейдің үлесіне тиеді.*

*Балықтар материктік қайраңдар мен жылы және суық мұхит ағыстары түйіскен аудандардан көбірек ауланады.*



Бекіту

I- топ: Әдепті

III- топ: Көркем сөйлейтін

II- топ: Мәдениетті



# 1 – тур (10 ұпай)



**НЕ?**




**Қашан?**



**Қайда?**

# *Ненің суреті?*



**Түйе**

**Жылқы**

**Қой**

**Сиыр**



*Солтүстік Америка мен  
Батыс Еуропа елдерінде  
бройлер балапандарын  
өсіретін ірі құс өсіру  
кешендері **қашан**  
қалыптаса бастады?*

*XX ғасырдың екінші  
жартысынан  
бастап*



*Дүние жүзінің **қай**  
елдерінде қаракөл  
елтірісін дайындау  
жолға қойылған.*

**Алдыңғы Азия,  
Орта Азия және  
Оңтүстік Африка елдері.**





**2 – тур**

**Адасқан сөздер(8 ұпай)**





# 1-

## Топ

Дуние жүзі бойынша ірі қараның мал басы 1,3 млрд-қа жетіп отыр. Ет – жүн бағытындағы және биязы, жартылай биязы жүн бағытындағы болып бөлінеді. *Бүгінгі таңда құстың саны жөнінен Қытай, АҚШ, Ресей, ал жұмыртқа өндіруден Қытай, АҚШ, Жапония, Ресей және Үндістан ерекше көзге түседі.*

## 2- Топ

*Шошқа шаруашылығы дүниежүзілік ет өнімінің 40%-ға жуығын береді.*

*Дүние жүзіндегі қойы ең көп ел – Аустралия (130 млн астам), одан кейін Қытай (112 млн астам)*

*Балықтар материктік қайраңдар мен жылы және суық мұхит ағыстары түйіскен аудандардан көбірек ауланады.*

# 3- Топ

*Балық аулау теңіз жағалық елдерінің барлығында таралғанымен, дүние жүзінде ауланатын балықтың жартысынан астамы 6 елдің – Жапония, Қытай, АҚШ, Чили, Перу және Ресейдің үлесіне тиеді. Дүние жүзі бойынша қой саны 102 млрд- қа жетіп отыр. Дүние жүзінде етті ең көп өндіретін елдер қатарына АҚШ, Қытай, Бразилия, Аргентина және Ресей жатады.*

# 3 – тур

Кім жылдам! (10 ұпай)

1,3 млрд-  
XX ғ 2  
жартысы-  
  
40 %-  
0.8-

35%-  
130 млн  
астам-  
20-30-  
100 млн  
Т-

5-6-  
9/10-  
112  
млн  
астам-  
40%-

**1,3 млрд**- Дж бойынша ірі қара мал басының саны.

**XX ғ 2 жартысынан** бастап ,  
*Солтүстік Америка мен Батыс Еуропа елдерінде бройлер балапандарын өсіретін ірі құс өсіру кешендері қалыптаса бастады.*

**40 %-Шошқа**

**шаруашылығының дж-гі  
ет өніміндегі улесі**

**Қазір оның саны 0,8 млрд-  
тан асып отыр.**

Өндірілетін сүттің барлығын дерлік, ал еттің 35%-ын осы ірі қара малы береді.

Дүние жүзіндегі қойы ең көп ел – Аустралия (130 млн астам), одан кейін Қытай (112 млн астам)

**Сондықтан қазіргі таңда дүниежүзілік су айдындарында 20-30 мыңға дейінгі ірілі- ұсақты балық және басқа да теңіз өнімдерін аулайтын кемелер жүзіп жүр.**

**Қазіргі кезде дж бойынша ауланатын балық пен өндірілетін теңіз өнімдері жылына 100 млн т-ға жетіп отыр.**



Дамушы елдерде бұл көрсеткіш өте төмен, тіпті жалпы өнімді аса көп өндіретін Қытай мен Үндістанда, ол Канада және АҚШ-пен салыстырғанда 5-6-есе төмен. Оның 9/10-ын теңіздер мен мұхиттардан, ал қалған бөлігі тұщы сулардан ауланады.

Дүние жүзіндегі қойы ең көп ел – Аустралия (130 млн астам) , одан кейін Қытай (**112 млн астам**)

40 %-Шошқа

шаруашылығының дж-гі ет өніміндегі улесі



**Үйге тапсырма: § 39. Мал шаруашылығы және балық шаруашылығы.**

**(Оқу, мазмұнын айту, тақырып соңындағы сұрақтарға жауап беру.)**



Бағалау.

Мадақтау.

