



**Земля - планета людей.**



- **Проанализируйте представленную информацию:**
- Большинство учёных считает, что восточная часть Африки была прародиной человечества. Именно тут были выявлены многочисленные находки, свидетельствующие о пребывании древних людей.
- Именно в Африке существовали могущественные государства Древнего мира: Древний Египет, Карфаген.
- Однако сейчас именно Африка является самой отсталой частью мира.

□ Какой вопрос у вас возникает?



***В чём причины социальной и экономической отсталости стран Африки?***



# *В чём причины социальной и экономической отсталости стран Африки?*

▣ **Какие у вас будут гипотезы?**

- Народы каких рас населяют Африку?
- Быстро или медленно растёт численность населения материка?
- Какие религии исповедуют жители Африки?

***Сформулируйте  
тему урока***

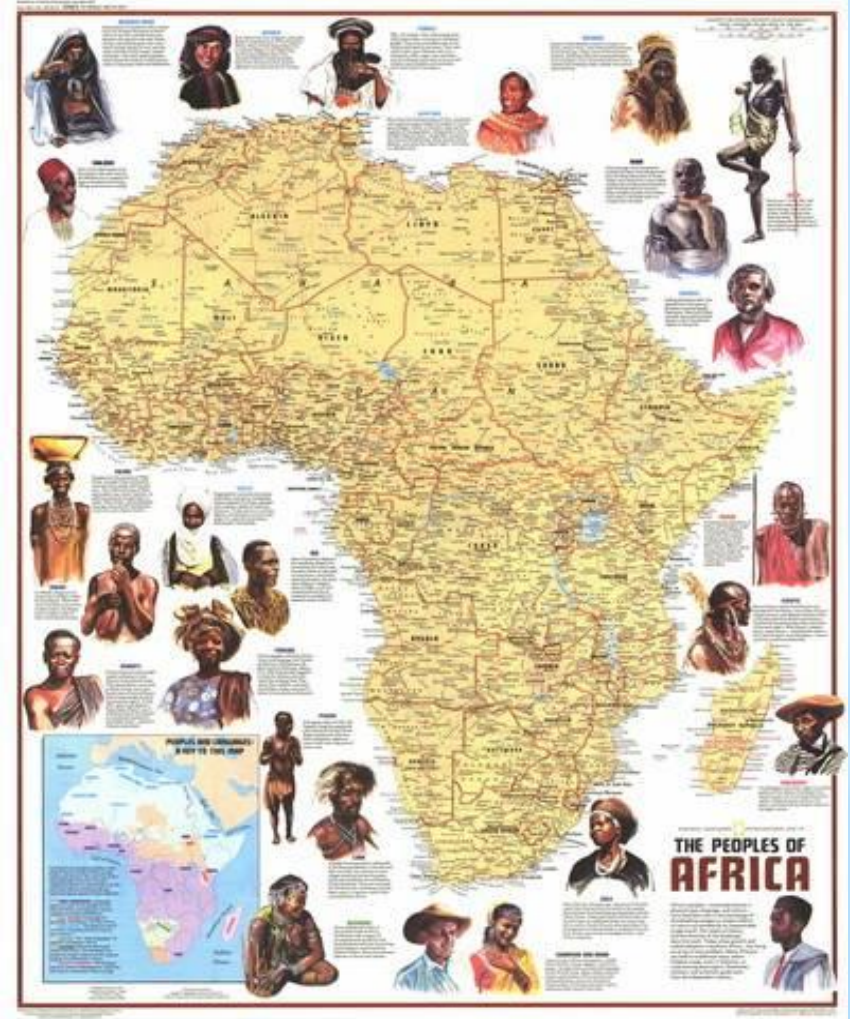




# Африка в мире

# Африка в мире

- ❖ Край древнейших цивилизаций
- ❖ Бескрайние просторы под палящими лучами солнца
- ❖ И успокоительная влага величайших рек континента
- ❖ Контраст нищеты и богатства стран
- ❖ Край неведомых диких зверей
- ❖ И не зависимо от цвета кожи и национальности
- ❖ Наши корни здесь





**Африка долго была изолирована от остального мира. Лишь север материка был давно известен европейцам: Средиземноморье с античных времён включает в себя не только Южную Европу и крайний запад Азии, но и Африканское побережье.**



**Обширные внутренние районы Африки стали известны европейцам лишь с середины XIX в. Вскоре почти весь континент был ими разделен на колонии.**



**В недрах Африки колонизаторы обнаружили богатейшие ископаемые, в лесах — ценные породы деревьев.**

**В жарком климате (при наличии воды) можно было собирать несколько урожаев в год, причём руками африканцев — почти бесплатно.**

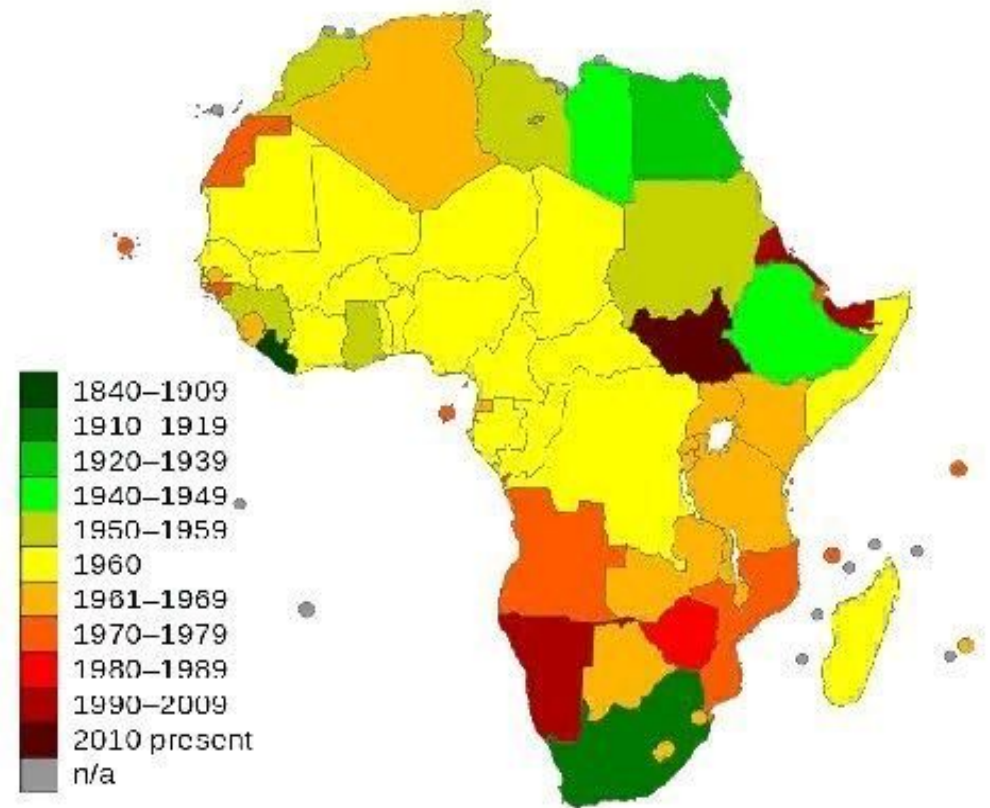




# Освобождение от колониальной зависимости не привело к существенному повышению уровня жизни населения.

Кроме того, огромные территории, занятые малопродуктивными для жизни человека пустынями и непроходимыми экваториальными лесами, порожистость рек, затрудняющая их транспортное использование, низкое плодородие многих видов африканских почв, распространение опасных тропических болезней до сих пор сдерживают развитие Африки.

Даты получения странами Африки независимости



## Последствия колониального гнёта:

Низкий уровень  
жизни

Внутренние  
конфликты

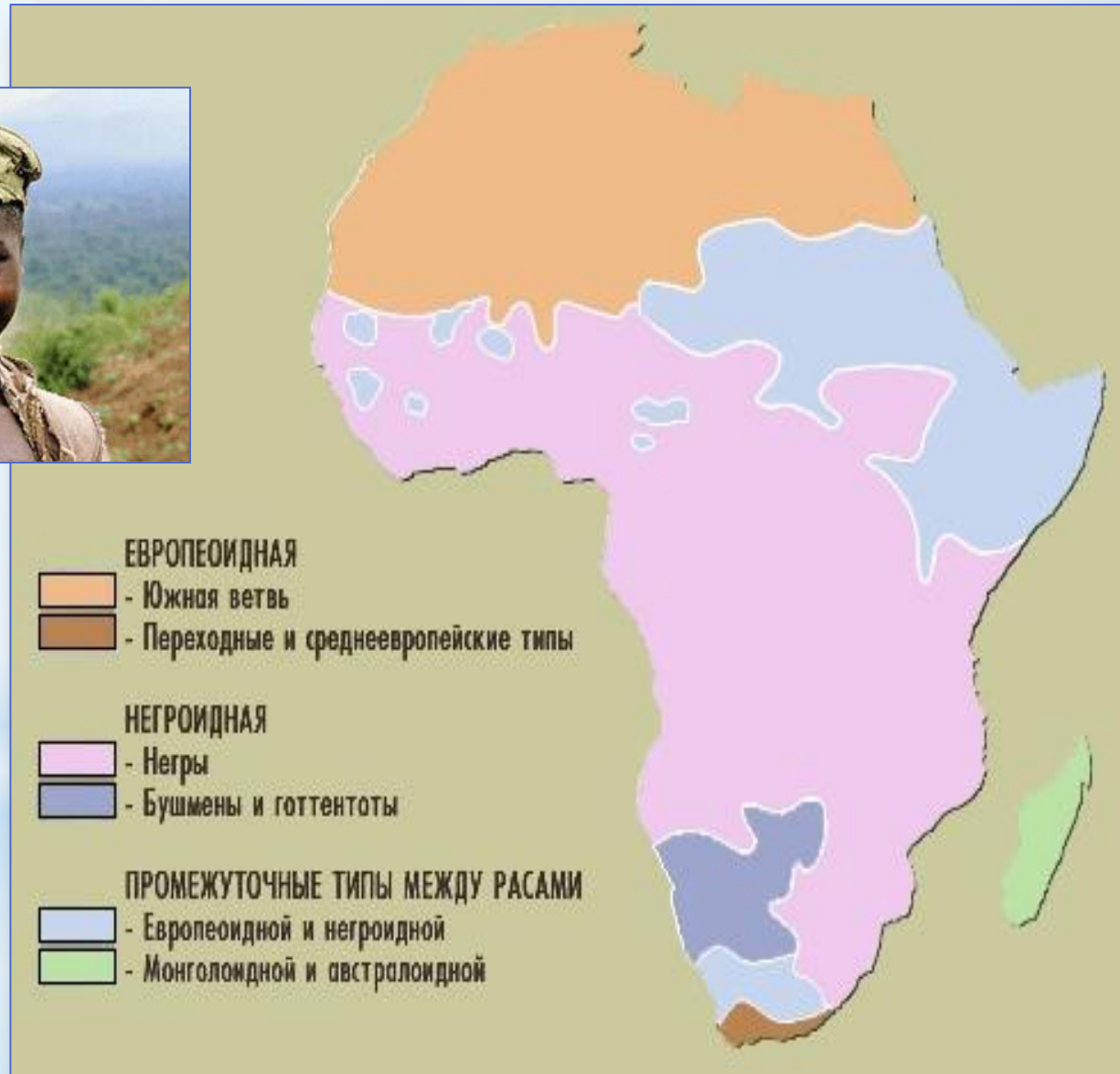
Экономическая  
отсталость

## Самые острые проблемы Африки

- Продовольственная  
проблема
- Экологическая проблема
- Проблема образования и  
медицинского  
обслуживания



# Расовый состав



# Расы

экваториальная

монголоидная

европеоидная

*Основные признаки*

темный цвет кожи, волос и глаз, спирально завитые или волнистые волосы, малоразвитый и широкий нос, губы толстые выдающиеся вперед

Кожа светлая или смуглая с желтоватым оттенком, волосы прямые и жесткие (обычно черного цвета), лицо крупное, значительно уплощено, узкий разрез глаз

кожа от светлой до смуглой с розоватым или красноватым оттенком, волосы мягкие, волнистые или прямые (обычно светлые), лоб прямой

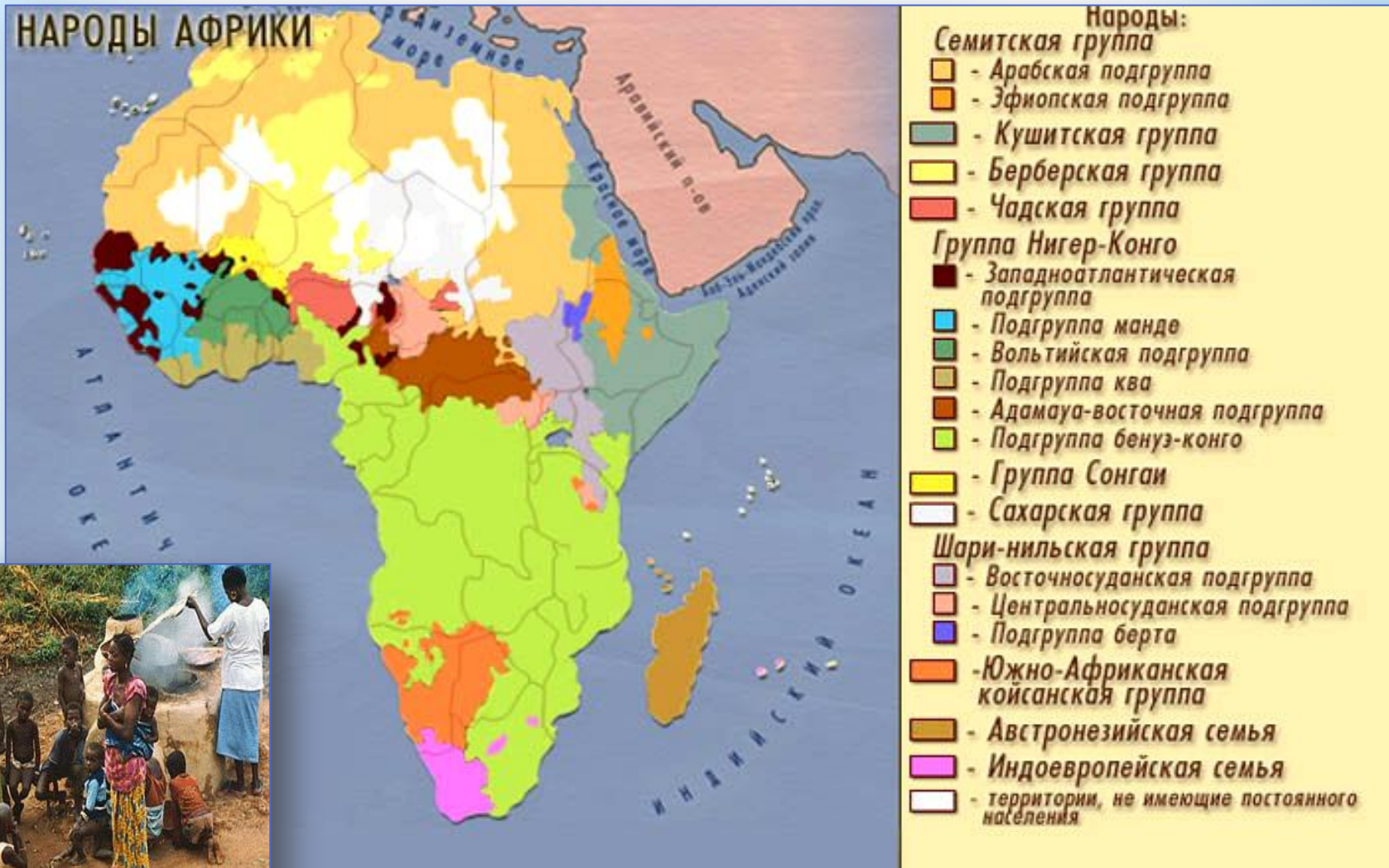
пигмеи, народы банту, нилоты

Э + М: бушмены, готтентоты  
Э + Е: эфиопы

берберы, арабы, туареги



# Народы Африки

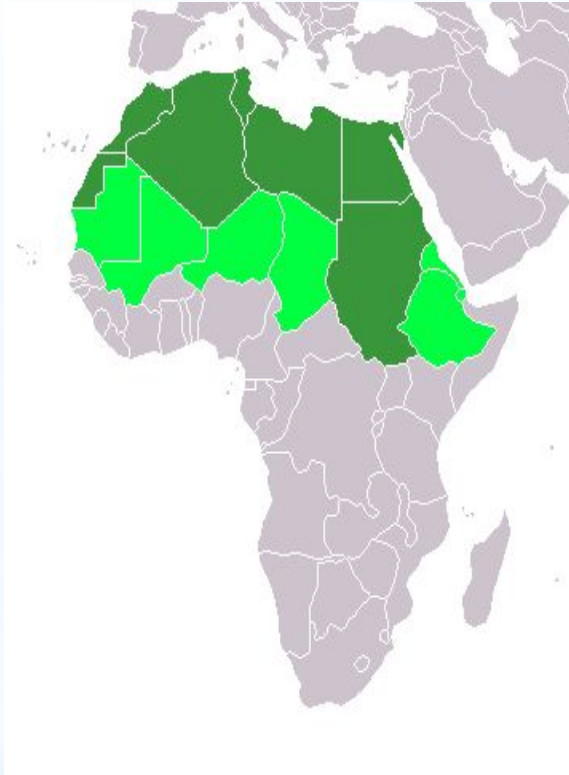




# Народы Северной Африки



берберы



арабы



туарег





# Народы Центральной Африки



банту



Рондавел- типичное жилище народов банту



пигмеи



йоруба





# Народы Южной Африки



бушмены



Готтентоты



Буры они же африканеры



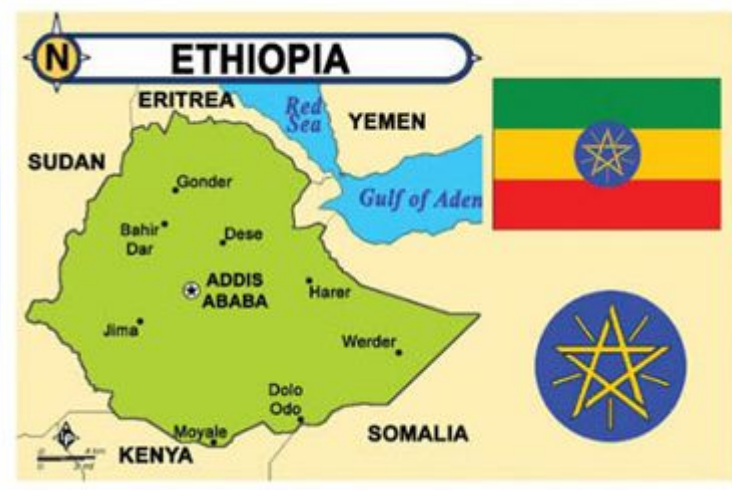
# Смешенные и переходные расы



малагасийцы



эфиопы



# НИЛОТСКИЕ ПЛЕМЕНА



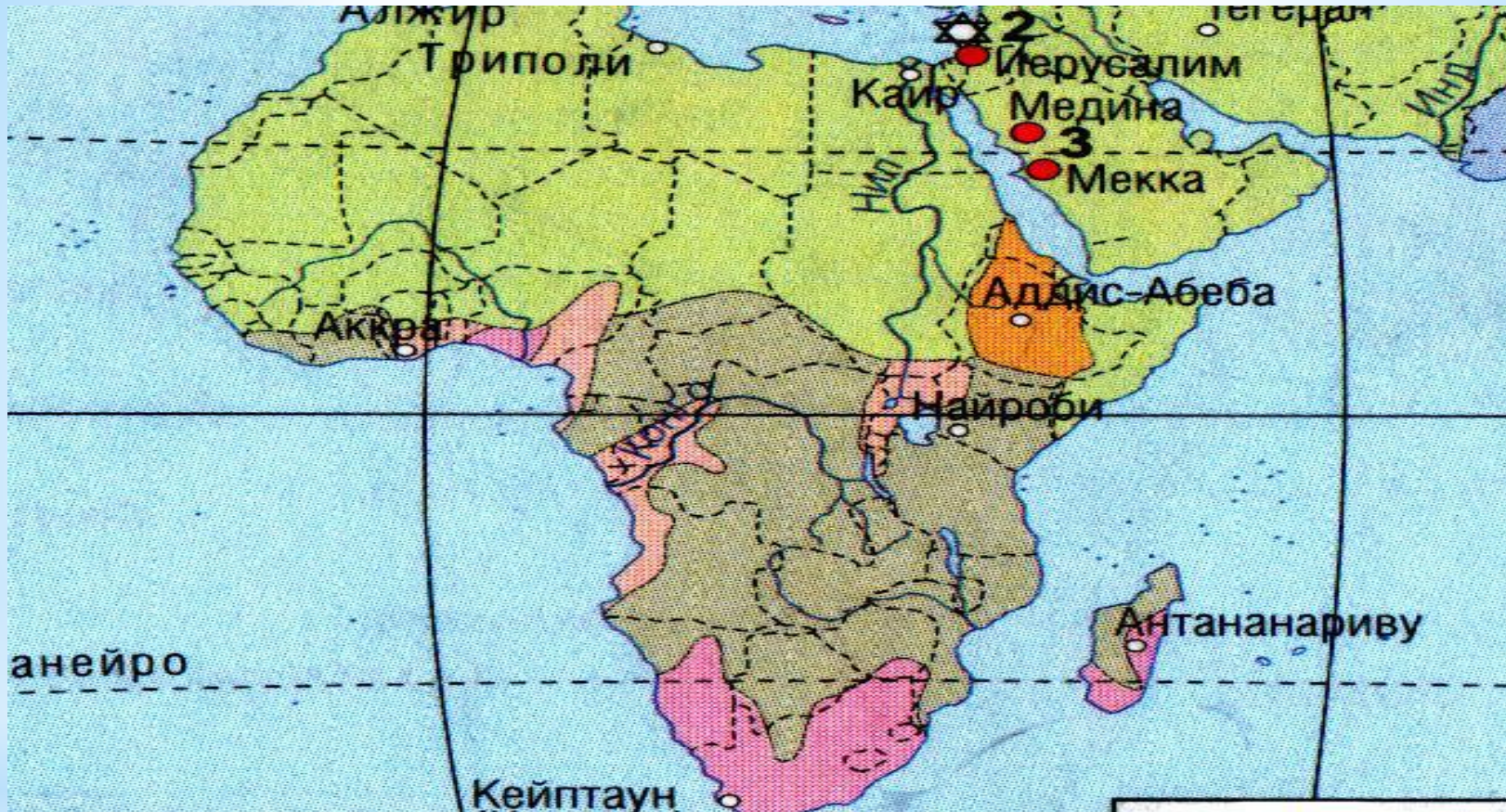
TopXlist.ru Топ Самых



После замужества женщины **племени мурси** разрезают нижнюю губу и вставляют туда специальную пластинку.



# Религии Африки.



## РЕЛИГИИ Африки

Христианство



Католичество



Протестантство



Православие



Ислам



Традиционные религии



□ Используя текст учебника стр. 105, заполните схему «Особенности населения Африки».

4

1

2

3

4

□ Используя карту стр. 242-243 определите особенности размещения населения Африки.  
Средняя плотность населения континента –

около **30 чел./км<sup>2</sup>**

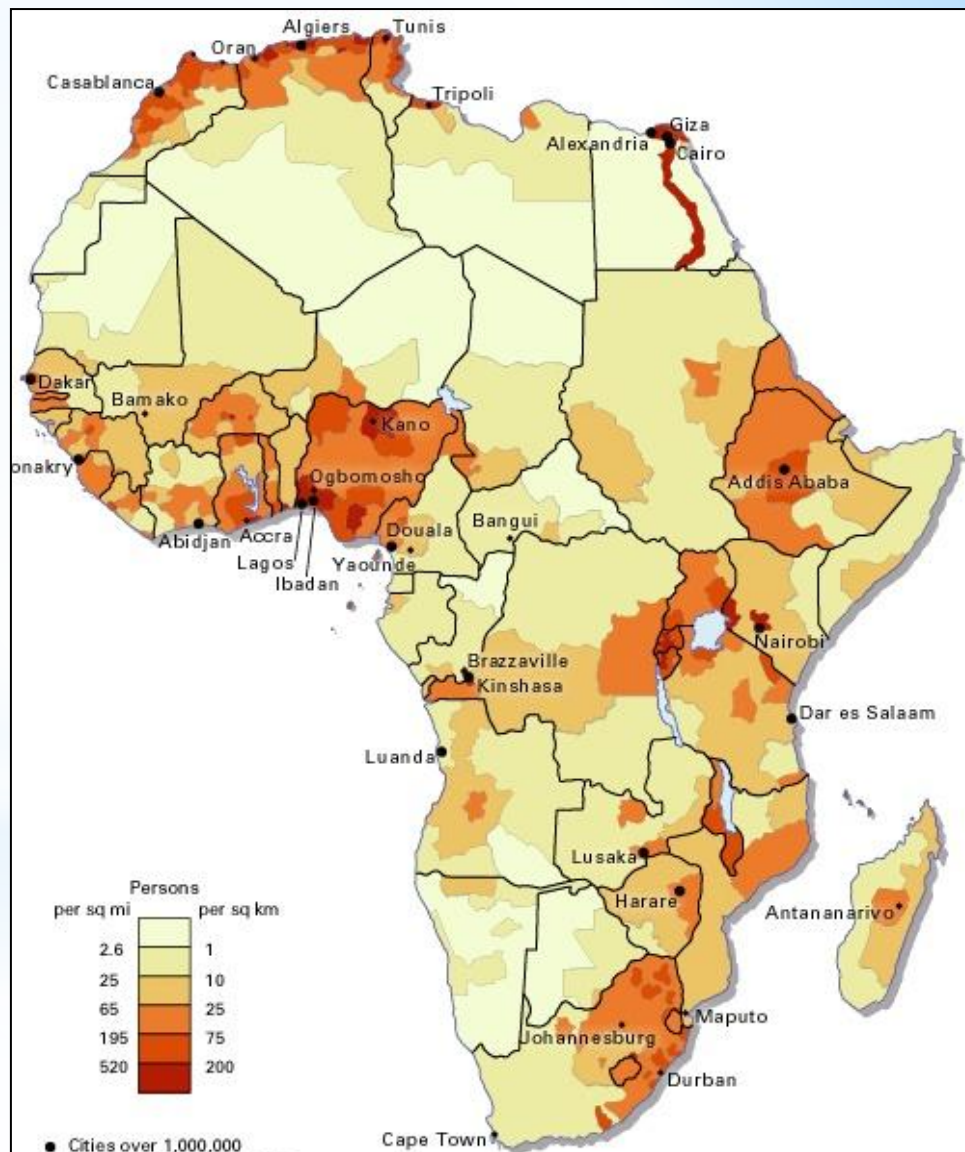
## ПЛАН

1. Как размещено по территории.

2. Наибольшая плотность населения и в какой части материка.

3. Наименьшая плотность населения и в какой части материка.

4. Причины.



**□ Больше половины населения Африки живёт на один доллар в день. У большинства стран нет обязательного образования. Отрасль охраны здоровья развита слабо (последнее время высока вероятность расширения территории заболевания эбола).**





# Чем занимаются африканцы?

Полезные ископаемые, ценные породы древесины, сельскохозяйственные культуры (хлопчатник, кофе, какао, чай, арахис) вывозят за пределы континента.

Многое из этих товаров стали своего рода символом некоторых африканских стран.

Сейчас континент обеспечивает около  $\frac{1}{2}$  мировой добычи алмазов,  $\frac{1}{5}$  урана, фосфоритов и золота,  $\frac{1}{10}$  нефти. Здесь собирают  $\frac{2}{3}$  мирового урожая какао,  $\frac{2}{5}$  просо и сорго.

КЕНИЯ



КОТ-Д'ИВУАР



НИГЕРИЯ



МАРОККО



БОТСВАНА



ЕГИПЕТ



ЮАР



□ Используя текст на с. 134-135, определите особенности хозяйственной деятельности населения Африки.

Горнодобывающая промышленность

Растениеводство

Животноводство





# Чем занимаются африканцы?

Для себя африканцы производят относительно простые инструменты и оборудование, одежду, посуду, продовольственные товары.



В рационе питания жителей преобладают зерновые (сорго, просо, кукуруза, пшеница), а в экваториальном поясе — клубнеплоды (ямс, кассава) и бананы.



Животноводство в Африке только пастбищное; на обрабатываемых землях корма для животных не производят — ведь даже для людей не хватает продовольствия.



Из Африки вывозят полезные ископаемые и продукцию плантационного хозяйства (какао, кофе, чай, арахис, хлопок).

Для себя африканцы выращивают зерновые культуры и клубнеплоды.





Восточная Африка расположена в зоне Великого Африканского разлома и знаменита своими озерами, вулканами и национальными парками.

4

Туристы желающие поучаствовать в африканском сафари направляются в Кению и Танзанию.



5

Южная Африка - оконечность материка, богатая алмазами, драгоценными камнями. Самая живописная часть Африки: пейзажи пустынь Намиб, Калахари, причудливые уступы Драконовых гор.



 - Южная Африка

*В чём причины социальной и экономической отсталости стран Африки?*



?




# Задание на дом:


§ 27, работа с картой



**Высокий уровень 8,5 -10  
баллов**




**Средний уровень 7 - 8 баллов**



**Низкий уровень 5-6 баллов**



**Недостаточный уровень 1-4  
баллов**





**Какую работу мы сегодня выполняли?**

**– Чему научились?**

**– Кто или что вам помогало справиться?**

**– Кто доволен сегодня своей работой?**

**– Кто получил от**



**евнике? За что?**

# Рефлексия.

Красный – многое получалось, узнал(а) и понял(а) новую тему, настроение хорошее.



Желтый – не многое получалось, не все было понятно, настроение среднее.



Зеленый – многое не получалось, многое было не понятно, настроение плохое.



Голубой – ничего не получилось, всё не понятно, настроение сонное.

