

Тема

8

Вопрос

56



По какой траектории Вам разрешено выполнить поворот направо?

1. Только по А
2. Только по Б.
3. По любой из указанных.

Тема

8

Вопрос

57



Вам можно продолжить движение:


1. Только по траектории А.
2. По траекториям А или В
3. По любой траектории из указанных.

Тема

8

Вопрос

58



По какой траектории Вам разрешено продолжить движение?

1. Только по А
2. По А или Б.
3. По любой из указанных.

Тема

8

Вопрос

59



Вам разрешено выполнить поворот направо:

1. Только по траектории А
2. Только по траектории Б.
3. По любой траектории из указанных.

Тема

8

Вопрос

60



Разрешается ли Вам выполнить поворот направо по указанной траектории в данной ситуации?

1. Разрешается
2. Запрещается.

Тема

8

Вопрос

61



Разрешено ли Вам выполнить поворот направо в данной ситуации?

1. Разрешено.
2. Разрешено, если при этом не будут созданы помехи транспортным средствам, движущимся с других направлений.
3. Запрещено

Тема

8

Вопрос

62



На перекрестке Вы намерены повернуть направо. Как Вам следует поступить?

1. Перестроиться на правую полосу, затем осуществить поворот.
2. Продолжить движение по левой полосе до перекрестка, затем повернуть.
3. Возможны оба варианта действий

Тема

8

Вопрос

63



Как Вам следует поступить при повороте направо?

1. Перестроиться на правую полосу, затем осуществить поворот.
2. Продолжить движение по второй полосе до перекрестка, затем повернуть.
3. Возможны оба варианта действий



Тема

8

Вопрос

64



Из какой полосы разрешено въехать на данный перекресток?

1. Только из правой.
2. Только из левой.
3. Из любой

Тема

8

Вопрос

65



В каком направлении разрешено продолжить движение водителю легкового автомобиля?

1. Только по кругу
2. Только направо.
3. В любом направлении из перечисленных.

Тема

8

Вопрос

66



В каких направлениях Вам можно продолжить движение по второй полосе?

1. Только налево.
2. Налево и в обратном направлении
3. Направо, налево и в обратном направлении.

Тема

8

Вопрос

67



В каких направлениях Вам можно продолжить движение по левой полосе на грузовом автомобиле с разрешенной максимальной массой не более 3,5 т?

1. Только прямо.
2. Прямо и направо.
3. Прямо, налево и в обратном направлении

Тема

8

Вопрос

68



По какой траектории Вам разрешается выполнить поворот налево?

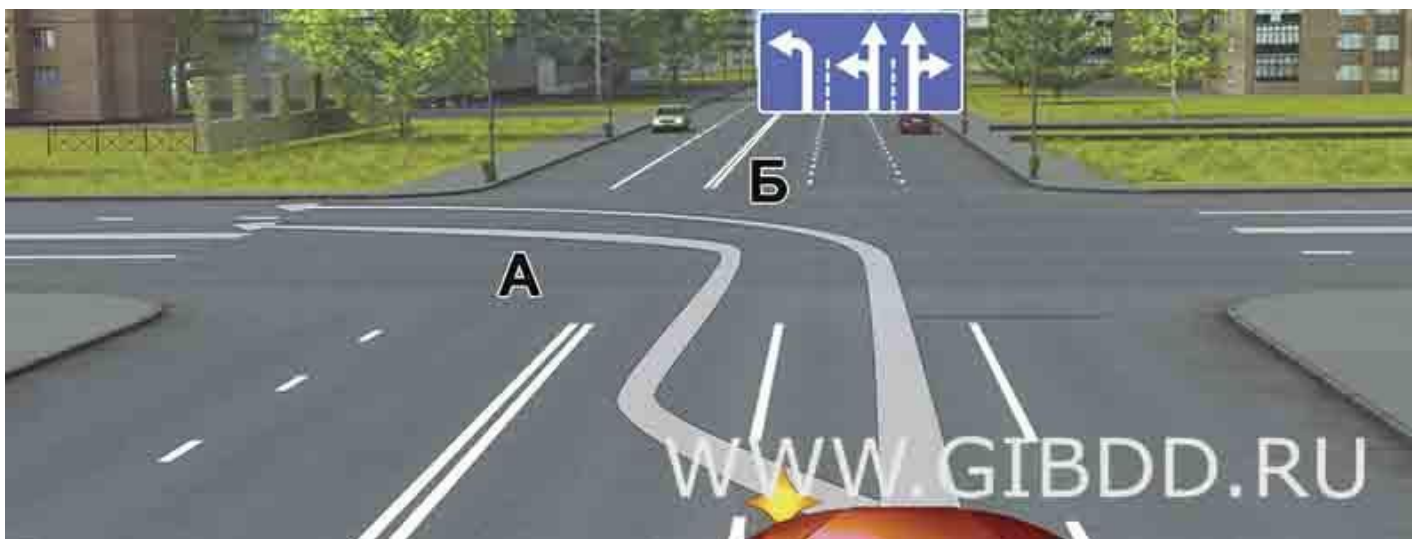
1. Только по А.
2. Только по Б
3. По любой из указанных.

Тема

8

Вопрос

69



По какой траектории Правила разрешают Вам произвести поворот налево?


1. Только по А.
2. Только по Б.
3. По любой

Тема

8

Вопрос

70



Вам можно выполнить поворот налево:

1. Только по траектории А
2. Только по траектории Б.
3. По любой траектории из указанных.

Тема

8

Вопрос

71



По какой траектории Вам разрешается выполнить поворот налево?

1. Только по А.
2. Только по Б
3. По любой из указанных.



Тема

8

Вопрос

72



По какой траектории Вам можно выполнить поворот налево?

1. Только по А.
2. Только по Б
3. По любой из указанных.

Тема

8

Вопрос

73



По какой траектории Вам разрешается выполнить поворот налево?

1. Только по А.
2. Только по Б.
3. По любой из указанных

Тема

8

Вопрос

74



По какой траектории Вам разрешено продолжить движение налево?

1. Только по А.
2. Только по Б.
3. По любой из указанных

Тема

8

Вопрос

75



Вам можно продолжить движение при повороте налево:

1. Только по траектории А.
2. Только по траектории В.
3. По любой траектории из указанных

Тема

8

Вопрос

76



Кто из водителей нарушает правила поворота на перекрестке?

1. Оба
2. Только водитель мотоцикла, поворачивающий налево.
3. Только водитель автомобиля.
4. Никто не нарушает.