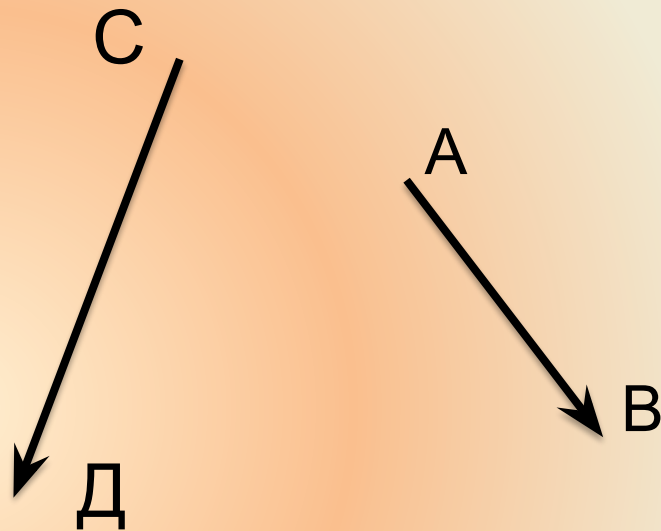


Самостоятельная работа по теме «Векторы»

Учитель МБОУ «ООШ» с. Усть – Лыжа
Шарипова С.Ф.

Постройте сумму векторов
по правилу треугольника



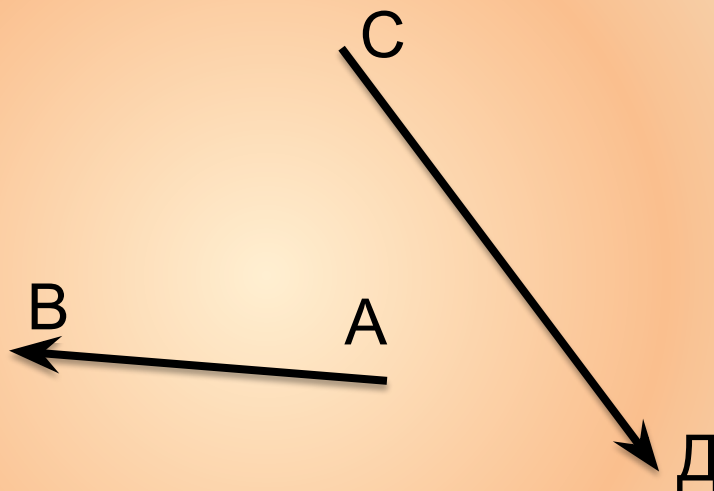
Найдите:

а) сумму векторов $\vec{m} (2;-3)$, $\vec{v} (4;-5)$

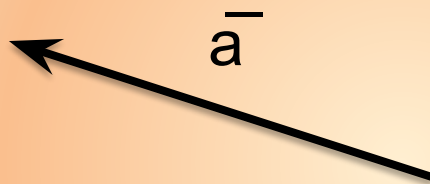
б) разность векторов $\vec{a} (0;-7)$, $\vec{v} (4;-3)$

в) произведение вектора $\vec{n} (-4;2)$ на число
1,5

Постройте
разность векторов



Постройте вектор $-2\vec{a}$



Дано: $\vec{a}(-1;4)$, $\vec{b}(2;-3)$.

найди: координаты вектора $\vec{c} = -\vec{a} + 2\vec{b}$