

**А****Б****В**

Какие из указанных табличек распространяют действие установленных с ними знаков на грузовые автомобили с разрешенной максимальной массой не более 3,5 т?

1. Только Б.
2. Только В.
3. Б и В.
4. Все.


?**1****2****3****4****5**Пропустить
задачу

**А****Б****В**

Какие из указанных табличек распространяют действие установленных с ними знаков на грузовые автомобили с разрешенной максимальной массой не более 3,5 т?

1. Только Б.
2. Только В.
3. Б и В.
4. Все.

3?**1****2****3****4****5**Пропустить
задачуПодтвердить
ответ 3



А



Б



В

Требования каких знаков из указанных вступают в силу непосредственно в том месте, где они установлены?

- 1. Только Б.**
- 2. А и Б.**
- 3. Всех.**



1


2

3

4

5

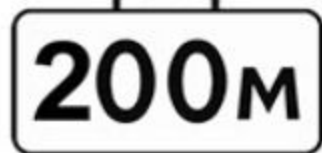
Пропустить
задачу



А



Б



В

Требования каких знаков из указанных вступают в силу непосредственно в том месте, где они установлены?

1. Только Б.
2. А и Б.
3. Всех.

2?

1

2

3

4

5

Пропустить
задачу

**Подтвердить
ответ 2**

Осталось

13

Вопрос


53

Наверно

0

90%





В чем особенность скоростного режима на этом участке дороги?

- 1. Рекомендуемая скорость движения - 40 км/ч.**
- 2. Минимальная допустимая скорость движения - 40 км/ч.**
- 3. Минимальная допустимая скорость движения по левой полосе - 40 км/ч.**

?

1

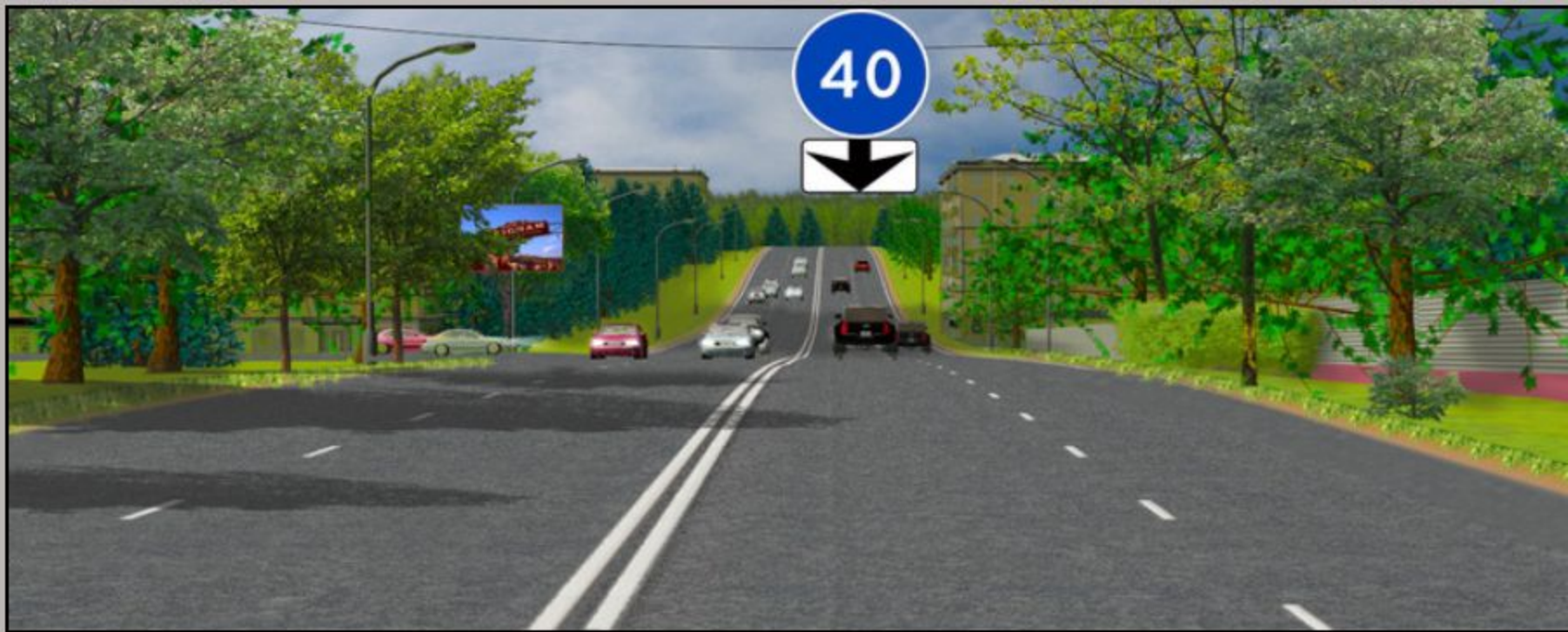
2

3

4

5

Пропустить
задачу



В чем особенность скоростного режима на этом участке дороги?

- 1. Рекомендуемая скорость движения - 40 км/ч.**
- 2. Минимальная допустимая скорость движения - 40 км/ч.**
- 3. Минимальная допустимая скорость движения по левой полосе - 40 км/ч.**

3?

1

2

3

4

5

Пропустить
задачу

**Подтвердить
ответ 3**



Разрешено ли Вам поставить автомобиль на стоянку в этом месте?

- 1. Разрешено.**
- 2. Разрешено, если Вы проживаете рядом с этим местом.**
- 3. Запрещено.**



1

2

3

4

5

Пропустить
задачу



Разрешено ли Вам поставить автомобиль на стоянку в этом месте?

- 1. Разрешено.**
- 2. Разрешено, если Вы проживаете рядом с этим местом.**
- 3. Запрещено.**

1?

1

2

3

4

5

Пропустить
задачу

**Подтвердить
ответ 1**



А

Б

В

Какой из указанных знаков распространяет свое действие только на ту полосу, над которой он установлен?

- 1. Только А.**
- 2. Только Б.**
- 3. Б и В.**



1

2

3

4

5

Пропустить
задачу



A



Б



В

Какой из указанных знаков распространяет свое действие только на ту полосу, над которой он установлен?

- 1. Только А.**
- 2. Только Б.**
- 3. Б и В.**

1?

1

2

3

4

5

Пропустить
задачу

Подтвердить
ответ 1



Какие из указанных знаков устанавливают непосредственно перед железнодорожным переездом?

- 1. Только А.**
- 2. Только Б.**
- 3. Только В.**
- 4. А и В.**

?

1

2

3

4

5

Пропустить
задачу



А



Б



В

Какие из указанных знаков устанавливают непосредственно перед железнодорожным переездом?

1. Только А.
2. Только Б.
3. Только В.
4. А и В.

3?

1

2

3

4

5

Пропустить
задачу

Подтвердить
ответ 3

Осталось

0

Верно

56

Неверно

0

86%

3



А



Б



В

Какие из указанных знаков разрешают движение со скоростью 60 км/ч

- 1. Только Б.
- 2. Б и В.
- 3. Все.



1

2

3

4

5

Пропустить
задачу



А



Б



В

Какие из указанных знаков разрешают движение со скоростью 60 км/ч

- 1. Только Б.
- 2. Б и В.
- 3. Все.

2?

1

2

3

4

5

Пропустить задачу

Подтвердить ответ 2



Можно ли Вам остановиться в указанном месте для посадки пассажира?

- 1. Можно.**
- 2. Можно, если Вы управляете такси.**
- 3. Нельзя.**

?

1

2

3

4

5

Пропустить
задачу



Можно ли Вам остановиться в указанном месте для посадки пассажира?

- 1. Можно.**
- 2. Можно, если Вы управляете такси.**
- 3. Нельзя.**

1?

1

2

3

4

5

Пропустить
задачу

Подтвердить
ответ 1

Где начинают действовать требования Правил, относящиеся к населенным пунктам?

- 1. Только с места установки дорожного знака «Начало населенного пункта» на белом фоне.**
- 2. С места установки дорожного знака с названием населенного пункта на белом или синем фоне.**
- 3. В начале застроенной территории, непосредственно прилегающей к дороге.**

?

1

2

3

4

5

Пропустить
задачу

Где начинают действовать требования Правил, относящиеся к населенным пунктам?

- 1. Только с места установки дорожного знака «Начало населенного пункта» на белом фоне.**
- 2. С места установки дорожного знака с названием населенного пункта на белом или синем фоне.**
- 3. В начале застроенной территории, непосредственно прилегающей к дороге.**

1?

1

2


3

4

5

Пропустить
задачу

Подтвердить
ответ 1

**А****Б****В**

Какие из указанных знаков разрешают проезд на автомобиле к месту проживания или работы?

- 1. Только А.**
- 2. Только В.**
- 3. А и В.**
- 4. Все.**

?**1****2****3****4****5**Пропустить
задачу

Осталось

5

Верно


60

Неверно

0

03%

2

**А****Б****В**

Какие из указанных знаков разрешают проезд на автомобиле к месту проживания или работы?

1. Только А.
2. Только В.
3. А и В.
4. Все.

3?**1****2****3****4****5**Пропустить
задачуПодтвердить
ответ 3



Эти знаки обязывают соблюдать дистанцию:

- 1. Менее 70 м на протяжении 100 м.**
- 2. Не менее 70 м на протяжении 100 м.**
- 3. От 70 м до 100 м.**

?

1**2****3**

4

5

Пропустить
задачу



Эти знаки обязывают соблюдать дистанцию:

1. Менее 70 м на протяжении 100 м.
2. Не менее 70 м на протяжении 100 м.
3. От 70 м до 100 м.

2?

1

2

3

4

5

Пропустить
задачуПодтвердить
ответ 2



А



Б



В

Какие из указанных знаков разрешают движение грузовым автомобилям с разрешенной максимальной массой не более 3,5 т?

- 1. Только А.**
- 2. А и В.**
- 3. Все.**



1

2

3

4

5

Пропустить
задачу



А



Б



В

Какие из указанных знаков разрешают движение грузовым автомобилям с разрешенной максимальной массой не более 3,5 т?

1. Только А.
2. А и В.
3. Все.

2?

1

2


3

4

5

Пропустить
задачу

Подтвердить
ответ 2



Знаки предупреждают Вас о том, что:

- 1. На протяжении 150 м возможно появление пешеходов на проезжей части.**
- 2. Через 150 м находится пешеходный переход.**
- 3. Через 150 м находится пешеходная дорожка.**

?

1

2

3

4

5

Пропустить
задачу



Знаки предупреждают Вас о том, что:

- 1. На протяжении 150 м возможно появление пешеходов на проезжей части.**
- 2. Через 150 м находится пешеходный переход.**
- 3. Через 150 м находится пешеходная дорожка.**

2?

1

2

3

4

5

Пропустить
задачу

**Подтвердить
ответ 2**

Осталось

2

Верно

63

Неверно

0

060%

1/2



А



Б



В

Какие из указанных знаков разрешают выполнить разворот?

- 1. Только А.**
- 2. Б и В.**
- 3. Все.**

?

1

2

3

4

5

Пропустить
задачу



А



Б



В

Какие из указанных знаков разрешают выполнить разворот?

1. Только А.
2. Б и В.
3. Все.

3?

1

2

3

4

5

Пропустить
задачу

**Подтвердить
ответ 3**

Осталось

1

Верно

64

Неверно

0

98%

3



Вам разрешено продолжить движение:

- 1. Только прямо.**
- 2. Прямо или в обратном направлении.**
- 3. Во всех направлениях.**

?

1

2

3

4

5

Пропустить
задачу



•

x

x

x

x



Вам разрешено продолжить движение:

1. Только прямо.
2. Прямо или в обратном направлении.
3. Во всех направлениях.

2?

1

2

3

4

5

Пропустить
задачу

Подтвердить
ответ 2


.

x

x

x

x



Вы имеете право продолжить движение на перекрестке:

- 1. Только в направлении В.**
- 2. В направлениях А и В.**
- 3. Во всех указанных направлениях, кроме Г.**

?

1

2

3

4

5

Пропустить
задачу




.

x

x

x

x



Вы имеете право продолжить движение на перекрестке:

1. Только в направлении В.
2. В направлениях А и В.
3. Во всех указанных направлениях, кроме Г.

2?

1

2

3

4

5

Пропустить
задачу

Подтвердить
ответ 2



.

x

x

x

x



Разрешено ли Вам ставить автомобиль на стоянку в этом месте по нечетным числам месяца?

- 1. Разрешено.**
- 2. Разрешено только после 19 часов.**
- 3. Запрещено.**

?

1

2

3

4

5

Пропустить
задачу



.

x

x

x

x



Разрешено ли Вам ставить автомобиль на стоянку в этом месте по нечетным числам месяца?

1. Разрешено.
2. Разрешено только после 19 часов.
3. Запрещено.

2?

1

2

3

4

5

Пропустить
задачу

Подтвердить
ответ 2



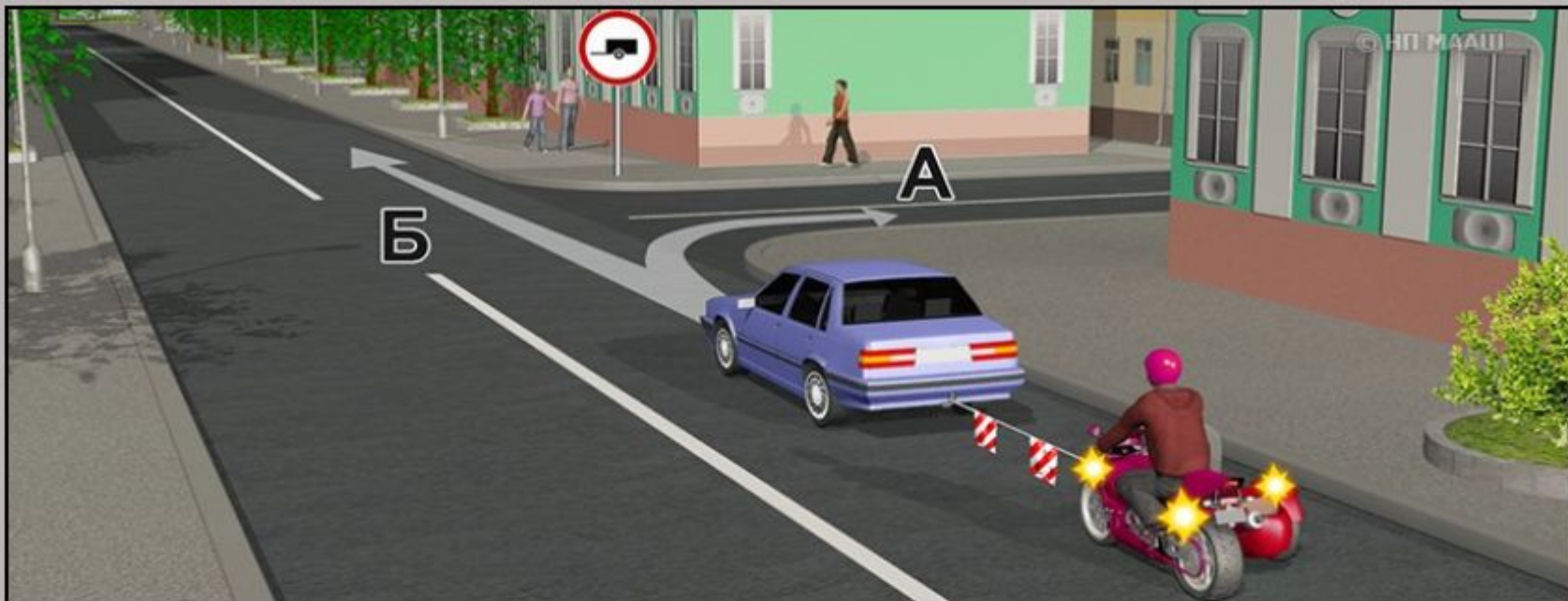
.

x

x

x

x



Продолжить буксировку можно:

- 1. Только в направлении А.**
- 2. Только в направлении Б.**
- 3. В любом направлении из указанных.**

?

1


2

3

4


5

Пропустить
задачу



.

x x x x



Продолжить буксировку можно:

1. Только в направлении А.
2. Только в направлении Б.
3. В любом направлении из указанных.

1?

1

2

3

4

5

Пропустить
задачу

Подтвердить
ответ 1



.

x

x

x

x



В зоне действия данного знака остановка:

- 1. Запрещена.**
- 2. Разрешена только маршрутным транспортным средствам и транспортным средствам, используемым в качестве легкового такси.**
- 3. Разрешена только транспортным средствам, управляемым инвалидами I и II групп, перевозящим таких инвалидов или детей-инвалидов.**

?

1

2

3

4

5

Пропустить
задачу



.

x

x

x

x



В зоне действия данного знака остановка:

1. Запрещена.

2. Разрешена только маршрутным транспортным средствам и транспортным средствам, используемым в качестве легкового такси.

3. Разрешена только транспортным средствам, управляемым инвалидами I и II групп, перевозящим таких инвалидов или детей-инвалидов.

1?

1

2

3

4

5

Пропустить
задачу

Подтвердить
ответ 1



.

x

x

x

x



Можно ли Вам поставить автомобиль на стоянку за путепроводом?

- 1. Можно.**
- 2. Можно не ближе 5 м от опоры путепровода.**
- 3. Нельзя.**

?

1

2

3

4

5

Пропустить
задачу

x

x

x

x



Можно ли Вам поставить автомобиль на стоянку за путепроводом?

1. Можно.
2. Можно не ближе 5 м от опоры путепровода.
3. **Нельзя.**

3?

1

2


3

4

5

Пропустить
задачу

Подтвердить
ответ 3



.

x

x

x

x



Разрешена ли Вам стоянка в указанном месте?

- 1. Разрешена.**
- 2. Разрешена только с включенной аварийной сигнализацией.**
- 3. Запрещена.**

?

1

2

3

4

5

Пропустить
задачу



.

x

x

x

x



Разрешена ли Вам стоянка в указанном месте?

1. Разрешена.
2. Разрешена только с включенной аварийной сигнализацией.
3. Запрещена.

3?

1

2

3

4

5

Пропустить
задачу

Подтвердить
ответ 3



.

x

x

x

x



Разрешено ли осуществлять посадку (высадку) пассажиров либо загрузку (разгрузку) транспортного средства в зоне действия этого знака?

- 1. Разрешено.**
- 2. Разрешено, если это займет не более 5 минут.**
- 3. Запрещено.**

?

1

2

3

4

5

Пропустить
задачу

x

x

x

x



Разрешено ли осуществлять посадку (высадку) пассажиров либо загрузку (разгрузку) транспортного средства в зоне действия этого знака?

- 1. Разрешено.**
- 2. Разрешено, если это займет не более 5 минут.**
- 3. Запрещено.**

1?

1

2


3

4

5

Пропустить
задачу

Подтвердить
ответ 1



.

x

x

x

x



В зоне действия этого знака разрешается использовать звуковой сигнал:

- 1. Только для предупреждения об обгоне.**
- 2. Только для предотвращения дорожно-транспортного происшествия.**
- 3. В обоих перечисленных случаях.**

?

1


2

3

4

5

Пропустить
задачу



.

x

x

x

x



В зоне действия этого знака разрешается использовать звуковой сигнал:

1. Только для предупреждения об обгоне.
2. Только для предотвращения дорожно-транспортного происшествия.
3. В обоих перечисленных случаях.

2?

1

2

3

4

5

Пропустить
задачу

Подтвердить
ответ 2





Разрешено ли Вам выполнить обгон?

- 1. Разрешено.**
- 2. Разрешено, если скорость мотоцикла не более 30 км/ч.**
- 3. Запрещено.**

?

1

2

3

4

5

Пропустить
задачу



.

x

x

x

x



Разрешено ли Вам выполнить обгон?

1. Разрешено.
2. Разрешено, если скорость мотоцикла не более 30 км/ч.
3. Запрещено.

1?

1

2


3

4

5

Пропустить
задачу

Подтвердить
ответ 1



.

x

x

x

x



Этот дорожный знак:

- 1. Рекомендует двигаться со скоростью 40 км/ч.**
- 2. Требуется двигаться со скоростью не менее 40 км/ч.**
- 3. Запрещает движение со скоростью более 40 км/ч.**

?

1

2

3

4

5

Пропустить
задачу




.

x

x

x

x



Этот дорожный знак:

1. Рекомендует двигаться со скоростью 40 км/ч.
2. Требуется двигаться со скоростью не менее 40 км/ч.
3. Запрещает движение со скоростью более 40 км/ч.

3?

1

2

3

4

5

Пропустить
задачу

Подтвердить
ответ 3



.

x

x

x

x



Разрешено ли Вам ставить автомобиль на стоянку в этом месте по четным числам месяца?

- 1. Разрешено.**
- 2. Разрешено только после 19 часов.**
- 3. Запрещено.**

?

1

2

3

4

5

Пропустить
задачу





Разрешено ли Вам ставить автомобиль на стоянку в этом месте по четным числам месяца?

- 1. Разрешено.**
- 2. Разрешено только после 19 часов.**
- 3. Запрещено.**

1?

1

2

3

4

5

Пропустить
задачу

Подтвердить
ответ 1

x x x x



Разрешена ли Вам стоянка в указанном месте?

- 1. Разрешена.**
- 2. Разрешена только в светлое время суток.**
- 3. Запрещена.**

?

1

2

3

4

5

Пропустить
задачу





Разрешена ли Вам стоянка в указанном месте?

1. Разрешена.
2. Разрешена только в светлое время суток.
3. Запрещена.

1?

1

2

3

4

5

Пропустить
задачу

Подтвердить
ответ 1



•

x

x

x

x



Разрешено ли Вам при управлении легковым автомобилем с прицепом продолжить движение в прямом направлении?

- 1. Разрешено.**
- 2. Разрешено, если Вы проживаете в обозначенной знаком зоне.**
- 3. Запрещено.**

?

1

2

3

4

5

Пропустить
задачу



Разрешено ли Вам при управлении легковым автомобилем с прицепом продолжить движение в прямом направлении?

- 1. Разрешено.**
- 2. Разрешено, если Вы проживаете в обозначенной знаком зоне.**
- 3. Запрещено.**

1?

1

2

3

4

5

Пропустить
задачу

Подтвердить
ответ 1





Разрешено ли Вам произвести остановку для посадки пассажира?

- 1. Разрешено.**
- 2. Разрешено только по четным числам месяца.**
- 3. Разрешено только по нечетным числам месяца.**
- 4. Запрещено.**

?

1

2

3

4

5

Пропустить
задачу





Разрешено ли Вам произвести остановку для посадки пассажира?

- 1. Разрешено.**
- 2. Разрешено только по четным числам месяца.**
- 3. Разрешено только по нечетным числам месяца.**
- 4. Запрещено.**

1?

1

2

3

4

5

Пропустить
задачу

Подтвердить
ответ 1





Разрешено ли Вам произвести остановку в указанном месте?

- 1. Разрешено.**
- 2. Разрешено только для посадки или высадки пассажиров.**
- 3. Запрещено.**

?

1

2

3

4

5

Пропустить
задачу





Разрешено ли Вам произвести остановку в указанном месте?

1. Разрешено.
2. Разрешено только для посадки или высадки пассажиров.
3. Запрещено.

1?

1

2

3

4

5

Пропустить
задачу

Подтвердить
ответ 1





Эти знаки предупреждают Вас:

- 1. О приближении к железнодорожному переезду с тремя путями.**
- 2. О наличии через 150-300 м железнодорожного переезда без шлагбаума.**
- 3. О наличии через 50-100 м железнодорожного переезда.**

?

1

2

3

4

5

Пропустить
задачу

.

x

x

x

x

x

x

x

x

x

x



Эти знаки предупреждают Вас:

1. О приближении к железнодорожному переезду с тремя путями.
2. О наличии через **150-300 м** железнодорожного переезда без шлагбаума.
3. О наличии через **50-100 м** железнодорожного переезда.

2?

1

2

3

4

5

Пропустить
задачу

Подтвердить
ответ 2

.

x

x

x

x

x

x

x

x

x

x



Этот знак предупреждает о приближении к перекрестку, на котором Вы:

1. Имеете право преимущественного проезда.
2. Должны уступить дорогу всем транспортным средствам, движущимся по пересекаемой дороге.
3. Должны уступить дорогу только транспортным средствам, приближающимся справа.

?

1


2

3

4

5

Пропустить
задачу



.

x

x

x

x

x

x

x

x

x

x

x



Этот знак предупреждает о приближении к перекрестку, на котором Вы:

1. Имеете право преимущественного проезда.
2. Должны уступить дорогу всем транспортным средствам, движущимся по пересекаемой дороге.
3. Должны уступить дорогу только транспортным средствам, приближающимся справа.

3?

1

2

3

4

5

Пропустить
задачу

Подтвердить
ответ 3





Данные знаки предупреждают о приближении:

- 1. К месту производства работ на дороге.**
- 2. К железнодорожному переезду со шлагбаумом.**
- 3. К железнодорожному переезду без шлагбаума.**

?

1

2

3

4

5

Пропустить
задачу



.

x

x

x

x

x

x

x

x

x

x



Данные знаки предупреждают о приближении:

1. К месту производства работ на дороге.
2. К железнодорожному переезду со шлагбаумом.
3. К железнодорожному переезду без шлагбаума.

2?

1

2

3

4

5

Пропустить
задачу

Подтвердить
ответ 2



.

x

x

x

x

x


x

x

x

x

x



Этот знак:

- 1. Показывает направления движения на перекрестке.**
- 2. Указывает, что на пересекаемой дороге движение осуществляется по двум полосам.**
- 3. Запрещает разворот на перекрестке.**

?

1

2

3

4

5

Пропустить
задачу



.

x

x

x

x

x


x

x

x

x

x



Этот знак:

1. Показывает направления движения на перекрестке.
2. Указывает, что на пересекаемой дороге движение осуществляется по двум полосам.
3. Запрещает разворот на перекрестке.

1?

1

2

3

4

5

Пропустить
задачу

Подтвердить
ответ 1



.

x

x

x

x

x

x

x

x

x

x



Этот дорожный знак предупреждает:

- 1. О приближении к скользкому участку дороги.**
- 2. О приближении к мокрому или загрязненному участку дороги.**
- 3. О приближении к участку дороги, где возможен выброс гравия (щебня) из-под колес.**

?

1

2

3

4

5

Пропустить
задачу



.

x

x

x

x

x

x

x

x

x

x



Этот дорожный знак предупреждает:

1. О приближении к скользкому участку дороги.
2. О приближении к мокрому или загрязненному участку дороги.
3. О приближении к участку дороги, где возможен выброс гравия (щебня) из-под колес.

3?

1

2

3

4

5

Пропустить
задачу

Подтвердить
ответ 3



.

x

x

x

x

x

x

x

x

x

x



Разрешен ли Вам съезд на дорогу с грунтовым покрытием?

- 1. Разрешен.**
- 2. Разрешен только при технической неисправности транспортного средства.**
- 3. Запрещен.**

?

1

2

3

4

5

Пропустить
задачу



.

x

x

x

x

x

x

x

x

x

x

x



Разрешен ли Вам съезд на дорогу с грунтовым покрытием?

- 1. Разрешен.**
- 2. Разрешен только при технической неисправности транспортного средства.**
- 3. Запрещен.**

1?

1

2


3

4

5

Пропустить
задачу

Подтвердить
ответ 1



.

x

x

x

x

x


x

x

x

x

x



На каком расстоянии до неровного участка дороги устанавливается этот знак вне населенного пункта?

- 1. 150 - 300 м.**
- 2. 50 - 100 м.**
- 3. Непосредственно перед неровным участком дороги.**

?

1

2

3

4

5

Пропустить
задачу



•

x

x

x

x

x


x

x

x

x

x



На каком расстоянии до неровного участка дороги устанавливается этот знак вне населенного пункта?

- 1. 150 - 300 м.**
2. 50 - 100 м.
3. Непосредственно перед неровным участком дороги.

1?

1

2


3

4

5

Пропустить
задачу

Подтвердить
ответ 1





На каком расстоянии до скользкого участка дороги устанавливается данный знак в населенном пункте?

- 1. 150-300 м.**
- 2. 50-100 м.**
- 3. Непосредственно перед началом скользкого участка.**

?

1


2

3

4

5

Пропустить
задачу



.

x

x

x

x

x

x

x

x

x

x



На каком расстоянии до скользкого участка дороги устанавливается данный знак в населенном пункте?

1. 150-300 м.
2. 50-100 м.
3. Непосредственно перед началом скользкого участка.

2?

1

2

3

4

5

Пропустить
задачуПодтвердить
ответ 2



Этот знак предупреждает о приближении к тоннелю, в котором:

1. Будет затруднен разъезд со встречными транспортными средствами.
2. Отсутствует искусственное освещение.
3. Очередность движения регулируется светофором.

?

1


2

3

4

5

Пропустить
задачу





Этот знак предупреждает о приближении к тоннелю, в котором:

1. Будет затруднен разъезд со встречными транспортными средствами.
2. Отсутствует искусственное освещение.
3. Очередность движения регулируется светофором.

2?

1

2

3

4

5

Пропустить
задачу

Подтвердить
ответ 2





Данный дорожный знак:

- 1. Предупреждает Вас о приближении к месту пересечения с трамвайной линией.**
- 2. Предупреждает Вас о приближении к трамвайной остановке.**
- 3. Обязывает Вас остановиться непосредственно перед пересечением с трамвайной линией.**

?

1


2

3

4

5

Пропустить
задачу



•

x

x

x

x

x

x

x

x

x

x



Данный дорожный знак:

- 1. Предупреждает Вас о приближении к месту пересечения с трамвайной линией.**
2. Предупреждает Вас о приближении к трамвайной остановке.
3. Обязывает Вас остановиться непосредственно перед пересечением с трамвайной линией.

1?

1

2

3

4

5

Пропустить
задачу

Подтвердить
ответ 1



Подтвердите или укажите другой ответ (клавиши 1-5). Пробел - пропуск задачи



Этот знак:

- 1. Предупреждает Вас о наличии узкого участка дороги, но не устанавливает очередность движения.**
- 2. Запрещает Вам проезд через мост.**
- 3. Обязывает Вас уступить дорогу встречному транспортному средству.**

?

1

2

3

4

5

Пропустить
задачу

.

x

x

x

x

x

x

x

x

x

x

x

x

x

x

x

x



Этот знак:

1. Предупреждает Вас о наличии узкого участка дороги, но не устанавливает очередность движения.
2. Запрещает Вам проезд через мост.
3. **Обязывает Вас уступить дорогу встречному транспортному средству.**

3?

1

2

3

4

5

Пропустить
задачу

Подтвердить
ответ 3

.

x

x

x

x

x

x

x

x

x

x

x

x

x

x

x

x



Разрешается ли Вам въехать на мост одновременно с водителем мотоцикла?

- 1. Разрешается.**
- 2. Разрешается, если Вы не затрудните ему движение.**
- 3. Запрещается.**

?

1


2

3

4

5

Пропустить задачу





Разрешается ли Вам въехать на мост одновременно с водителем мотоцикла?

1. Разрешается.
2. Разрешается, если Вы не затрудните ему движение.
3. Запрещается.

2?

1

2

3

4

5

Пропустить
задачу

Подтвердить
ответ 2



.

x

x

x

x

x

x

x

x

x

x

x

x


x

x

x

x

x



Где Вы должны остановиться?

- 1. Перед знаком (А).**
- 2. Перед перекрестком (Б).**
- 3. Перед краем пересекаемой проезжей части (В).**

?

1

2

3

4

5

Пропустить
задачу



•

x

x

x

x

x

x

x

x

x

x

x


x

x

x

x

x



Где Вы должны остановиться?

1. Перед знаком (А).
2. Перед перекрестком (Б).
3. Перед краем пересекаемой проезжей части (В).

3?

1

2


3

4

5

Пропустить
задачу

Подтвердить
ответ 3



•

x

x

x

x

x

x

x

x

x

x

x

x

x

x

x

x

x



Можно ли Вам въехать на мост первым?

- 1. Можно.**
- 2. Можно, если Вы не затрудните движение встречному автомобилю.**
- 3. Нельзя.**

?

1


2

3

4

5

Пропустить
задачу



•

x

x

x

x

x

x

x

x

x

x

x

x

x

x

x

x

x

x

x

x



Можно ли Вам въехать на мост первым?

1. Можно.
2. Можно, если Вы не затрудните движение встречному автомобилю.
3. Нельзя.

1?

1

2


3


4

5

Пропустить
задачу

Подтвердить
ответ 1





Вам можно продолжить движение:

- 1. Только по траектории А.**
- 2. Только по траектории Б.**
- 3. По любой траектории из указанных.**

?

1

2

3

4

5

Пропустить
задачу

.

x

x

x

x

x


x

x

x

x

x



Вам можно продолжить движение:

- 1. Только по траектории А.**
- 2. Только по траектории Б.**
- 3. По любой траектории из указанных.**

1?

1

2

3

4

5

Пропустить
задачу

Подтвердить
ответ 1

.

x

x

x

x

x

x

x

x

x

x



Вам можно выполнить разворот:

- 1. Только по траектории А.**
- 2. Только по траектории Б.**
- 3. По любой траектории из указанных.**

?

1

2

3

4

5

Пропустить
задачу



.

x

x

x

x

x

x

x

x

x

x



Вам можно выполнить разворот:

- 1. Только по траектории А.**
- 2. Только по траектории Б.**
- 3. По любой траектории из указанных.**

2?

1

2

3

4

5

Пропустить
задачу

Подтвердить
ответ 2



.

x

x

x

x

x

x

x

x

x

x



Вам разрешено выполнить разворот:

- 1. Только по траектории А.**
- 2. Только по траектории Б.**
- 3. По любой траектории из указанных.**

?

1

2

3

4

5

Пропустить
задачу



.

x

x

x

x

x

x

x

x

x

x



Вам разрешено выполнить разворот:

- 1. Только по траектории А.**
- 2. Только по траектории Б.**
- 3. По любой траектории из указанных.**

2?

1

2

3

4

5

Пропустить
задачу

Подтвердить
ответ 2



.

x

x

x

x

x

x

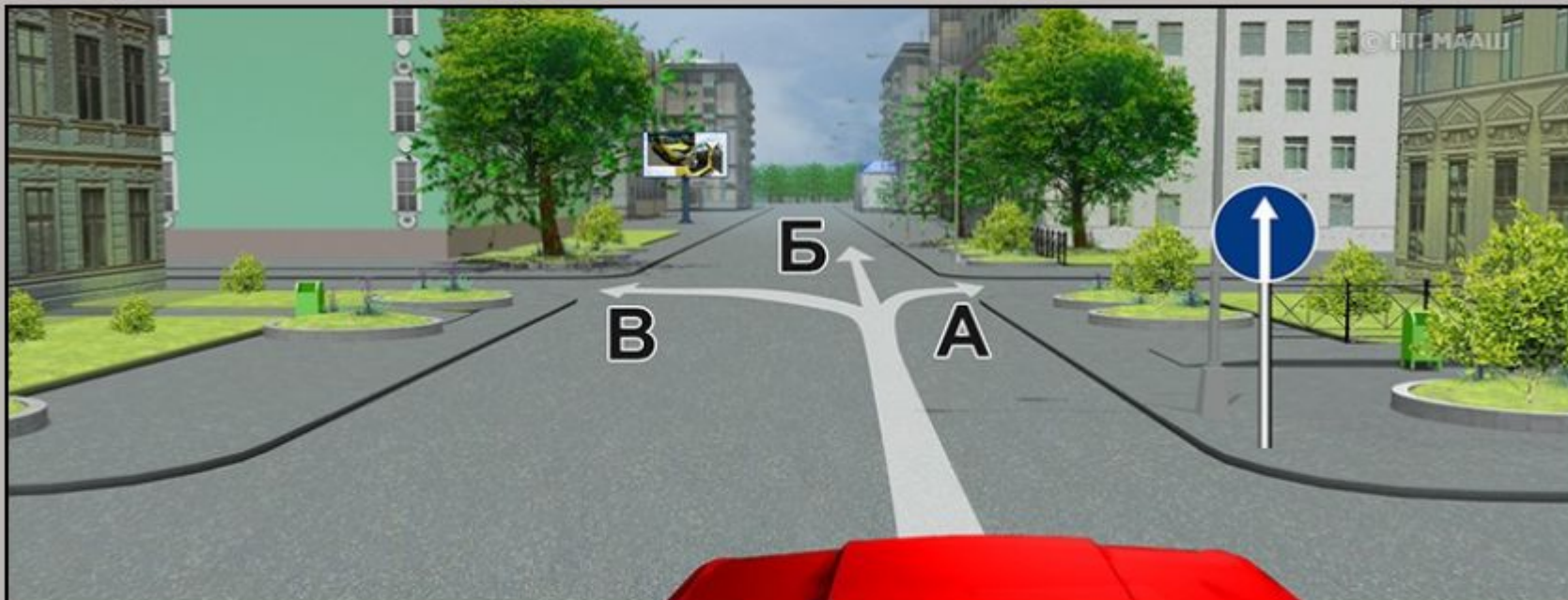
x

x

x

x

x



Вы можете продолжить движение на следующем перекрестке:

- 1. Только в направлении Б.**
- 2. В направлениях А и Б.**
- 3. В любом направлении из указанных.**

?

1


2

3

4

5

Пропустить
задачу



.

x

x

x

x

x

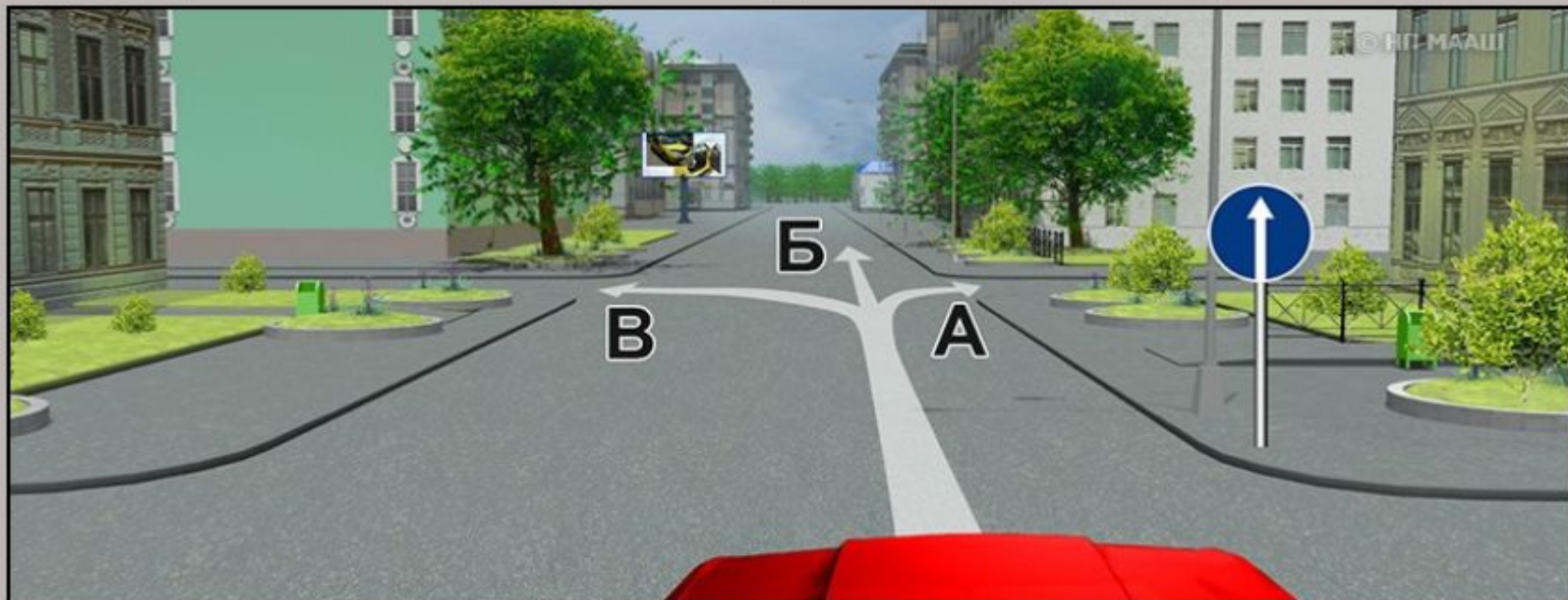
x

x

x

x

x



Вы можете продолжить движение на следующем перекрестке:

1. Только в направлении Б.
2. В направлениях А и Б.
3. В любом направлении из указанных.

3?

1

2


3

4

5

Пропустить
задачу

Подтвердить
ответ 3





Как следует поступить, если Вам необходимо развернуться?

- 1. Развернуться на этом перекрестке при отсутствии на нем других транспортных средств.**
- 2. Проехать прямо и развернуться за перекрестком.**
- 3. Проехать прямо и развернуться только на следующем перекрестке.**

?

1

2

3

4

5

Пропустить
задачу



•

x

x

x

x

x

x

x

x

x

x

x



Как следует поступить, если Вам необходимо развернуться?

1. Развернуться на этом перекрестке при отсутствии на нем других транспортных средств.
2. Проехать прямо и развернуться за перекрестком.
3. Проехать прямо и развернуться только на следующем перекрестке.

2?

1

2

3

4

5

Пропустить
задачу

Подтвердить
ответ 2





Вам разрешено продолжить движение на перекрестке:

- 1. Только прямо.**
- 2. Прямо и налево.**
- 3. Прямо и в обратном направлении.**
- 4. В любом направлении.**

?

1

2

3

4

5

Пропустить
задачу



.

x

x

x

x

x

x

x

x

x

x



Вам разрешено продолжить движение на перекрестке:

1. Только прямо.
2. Прямо и налево.
3. Прямо и в обратном направлении.
4. В любом направлении.

1?

1

2

3

4

5

Пропустить
задачу

Подтвердить
ответ 1





Вам можно продолжить движение на перекрестке:

- 1. Только в направлении Б.**
- 2. В направлениях А и Б.**
- 3. В направлениях Б и В.**

?

1

2

3

4

5

Пропустить
задачу





Вам можно продолжить движение на перекрестке:

1. Только в направлении Б.
2. В направлениях А и Б.
3. В направлениях Б и В.

2?

1

2

3

4

5

Пропустить
задачу

Подтвердить
ответ 2





Можно ли Вам за перекрестком въехать во двор?

- 1. Можно.**
- 2. Можно, если Вы проживаете в этом доме.**
- 3. Нельзя.**

?

1

2

3

4

5

Пропустить
задачу





Можно ли Вам за перекрестком въехать во двор?

- 1. Можно.**
- 2. Можно, если Вы проживаете в этом доме.**
- 3. Нельзя.**

1?

1

2

3

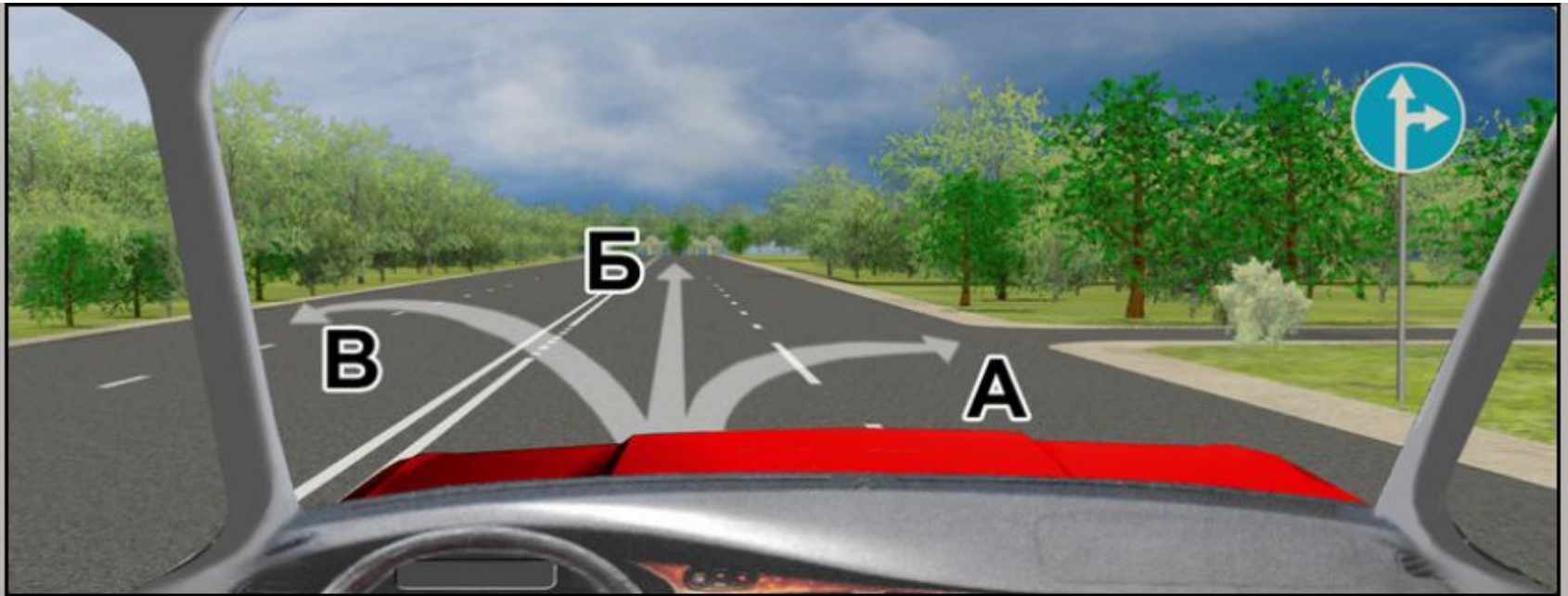
4

5

Пропустить
задачу

Подтвердить
ответ 1





Вам разрешено продолжить движение:

- 1. Только в направлении Б.**
- 2. В направлениях А или Б.**
- 3. В любом направлении из указанных.**

?

1

2

3

4

5

Пропустить
задачу



•

x

x

x

x

x

x

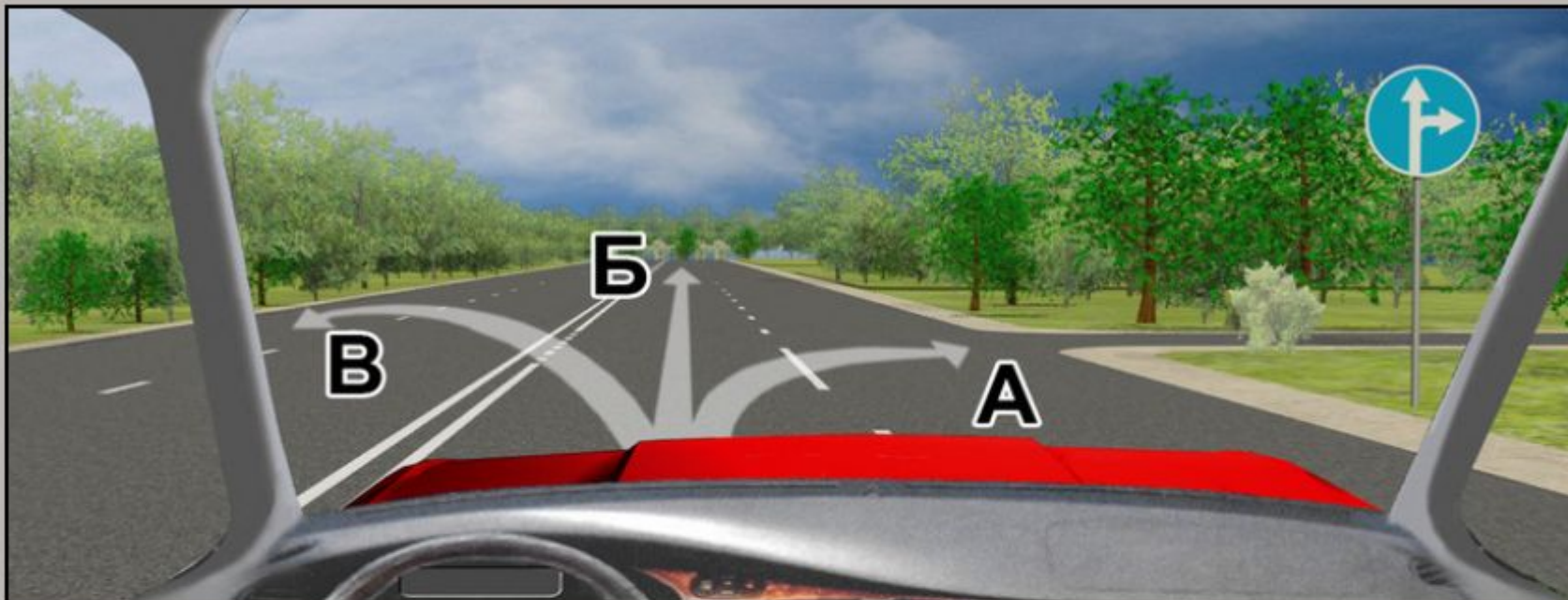
x

x

x

x

x



Вам разрешено продолжить движение:

1. Только в направлении Б.
2. В направлениях А или Б.
3. В любом направлении из указанных.

1?

1

2

3

4

5

Пропустить
задачу

Подтвердить
ответ 1



.

x

x

x

x

x

x

x

x

x

x



В какой из дворов Вам можно въехать в данной ситуации?

- 1. Повороты во дворы запрещены.**
- 2. Только во двор направо.**
- 3. Только во двор налево.**
- 4. В любой.**

?

1

2

3

4

5

Пропустить
задачу



•

x

x

x

x

x

x

x

x

x

x



В какой из дворов Вам можно въехать в данной ситуации?

1. Повороты во дворы запрещены.
2. Только во двор направо.
3. Только во двор налево.
4. В любой.

2?

1

2

3

4

5

Пропустить
задачу

Подтвердить
ответ 2

