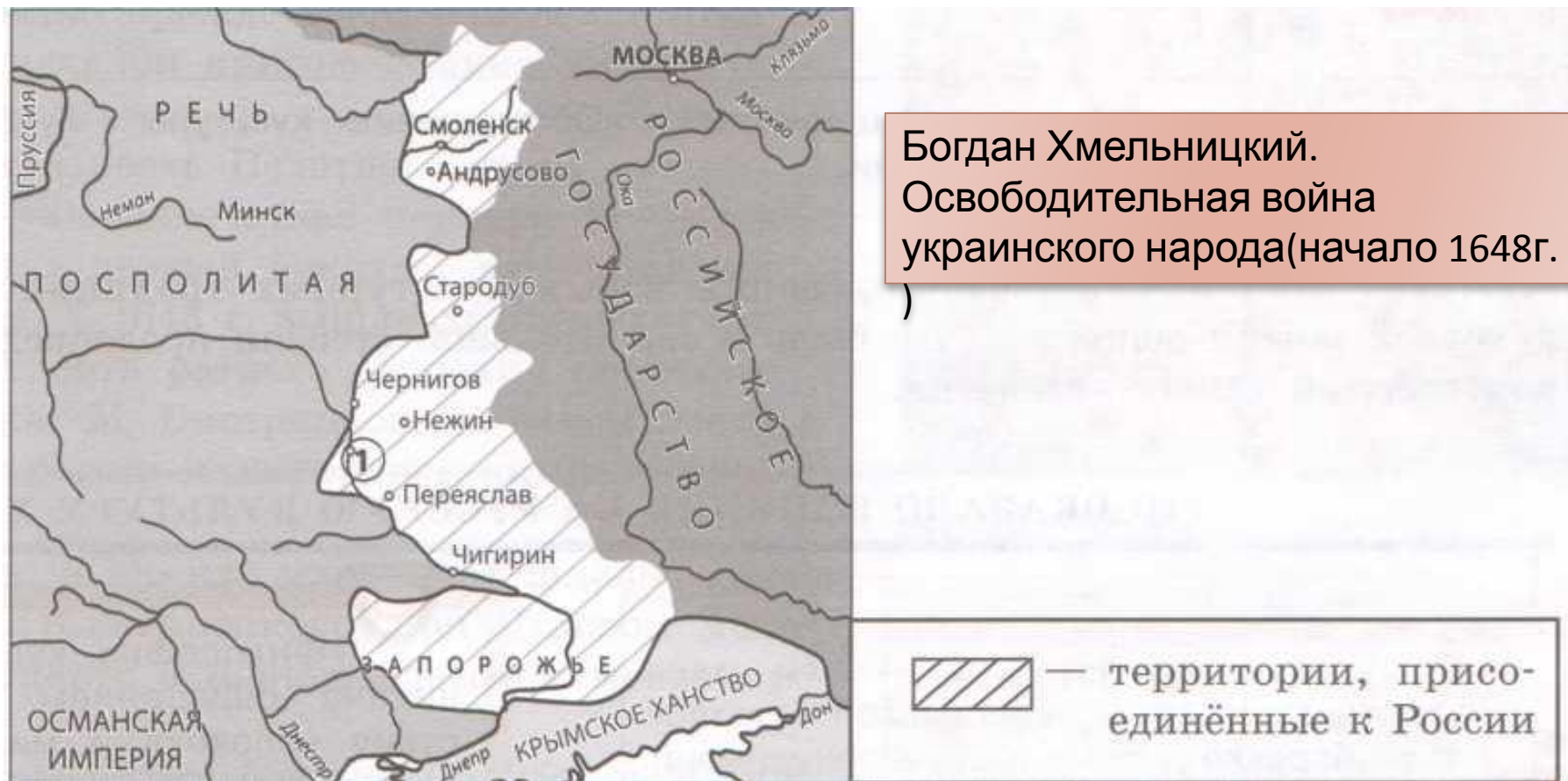


Внешняя политика. вторая половина 17 века.

Опрос у доски

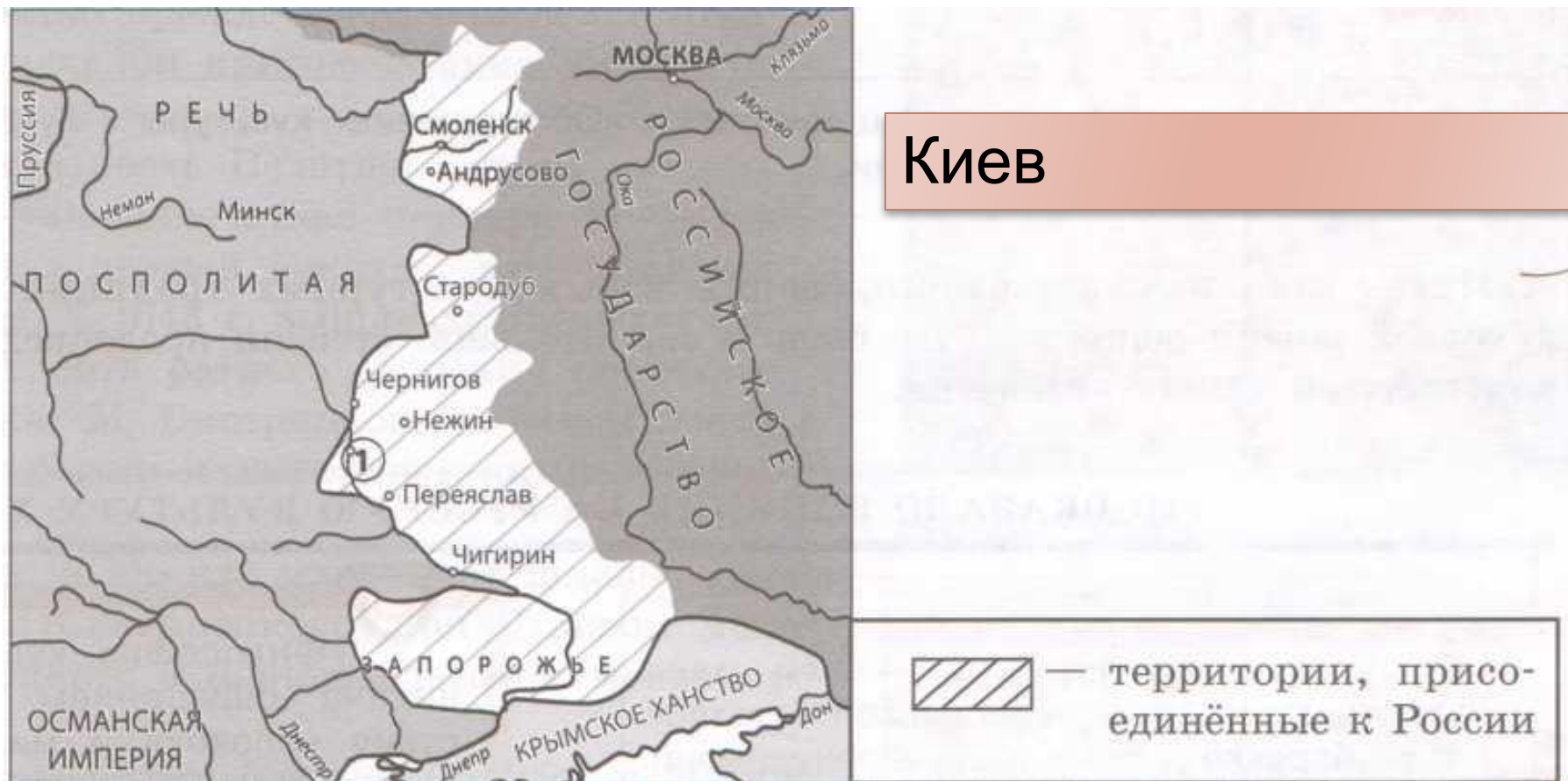
Рассмотрите схему и выполните задание 1-4



Скажите имя руководителя восстания, следствием которого стала война, итоги которой отображены на схеме



Рассмотрите схему и выполните задание 1-4



Скажите название города Левобережной Украины, обозначенного на схеме цифрой «1»




Рассмотрите схему и выполните задание 1-4



Андрусово

Андрусовское
перемирие 1667г

 — территории, присоединённые к России

Укажите где был подписан мир, по которому заштрихованные на схеме земли перешли к России.



Рассмотрите схему и выполните задание 1-4

**Какие суждения, относящиеся к событиям, обозначенным на схеме, являются верными?
Выберите три суждения из шести предложенных.**

Присоединение заштрихованных на схеме территорий произошло в 1681 г.

До присоединения к России заштрихованные на схеме территории принадлежали Речи Посполитой.

Указанные на схеме территории были утрачены Россией в ходе Ливонской войны

Договор о признании заштрихованных на схеме территорий за Россией был заключён в Смоленске.

Присоединению заштрихованных на схеме территорий способствовало восстание против насилия власти.

Война началась из-за перехода населения заштрихованных на схеме территорий в подданство России.

Вопрос 2

Назовите имя короля Речи Посполитой, осуществившего поход на город, осаждаемый войском М. Шеина, обозначенный на схеме цифрой «1».

Смоленск



Вопрос 3

Укажите название крепости, которую поляки прозвали «красной» из-за больших потерь. Эта крепость остановила наступление Владислава на Москву

Белая



Вопрос 4

Напишите название города, находившегося в Северских землях и утраченного Россией в ходе Смуты, обозначенного на схеме цифрой «2»



Чернигов

**Какие суждения, относящиеся к событиям, обозначенным на схеме, являются верными?
Выберите три суждения из шести предложенных.**

Целью похода русской армии был возврат земель, утраченных по Деулинскому перемирию

Король Речи Посполитой, чьи действия обозначены на карте, пользовался поддержкой Швеции

Город обозначенный на карте цифрой «1», принадлежал в тот момент России.

Мирный договор по итогам войны, обозначенный на карте, был подписан в Поляновке

Во время событий, обозначенных на схеме, в России правил Михаил Федорович

Военные действия способствовали началу освободительной войны



Вопрос 1

Ответ: 321

Расположите в хронологической последовательности исторические события.

1) Открытие экспедицией С. Дежнева пролива между Азией и Америкой

2) Начало Смоленской войны

3) Столбовский мирный договор

1617

1632

1648

Вопрос 2

Используя данные статистической таблицы, завершите представленные ниже суждения, соотнеся начало и варианты завершения

годы	Дворяне и дети боярские	казаки	иноземцы
1630	27433	11192	2783
1651	37596	21124	2707

Начало:

- А) К 1651г. Преобладающей группой ратных людей России являлась группа
Б) За период с 1630 по 1651г. Количество казаков
В) Наиболее слабой динамикой среди групп ратных людей за 21 год характеризовалась группа

Завершение:

- 1)Сократилось
- 2)дворян и детей боярских
- 3)Казаков
- 4)Иноземцев
- 5)увеличилось

А	Б	В
2	5	4



Вопрос 3

Ниже приведен перечень терминов. Все они, за исключением одного, обозначают служилых людей «по отечеству»

- 1) бояре; 2) дворяне; 3) окольные; 4) казаки;
5) дети боярские*

Найдите порядковый номер термина, «выпадающего» из данного ряда.

Ответ: 4



Вопрос 1

Соотнесите имена землепроходцев и события экспедиций

Семён Дежнёв

в 1643-1646 гг. во главе отряда казаков прошёл из Якутска по рекам Лена, Алдан, вышел по Амуру в Охотское море.

Василий
Поярков

в 1649-1650 гг. совершил поход в Даурию, прошёл по реке Амур и составил карту (чертёж) приамурских земель.

Ерофей
Хабаров

экспедиция 1648 г. вдоль Чукотки и Камчатки. Открыт пролив, отделяющий Азию от Северной Америки. Самая восточная точка Евразии носит его имя.



Вопрос 2

К какому веку относится церковная реформа патриарха Никона?

1) XIV в.

2) XV в.

3) XVI в.

4) XVII в.



Вопрос 3

Рассмотрите схему и выполните



Укажите землепроходца, руководившего экспедицией, которая первой прошла по маршруту, обозначенному на схеме.

1) Е.П. Хабаров

2) И.Ф.

Крузенштерн

3) В.Д.

Поярков

4) С.И. Дежнёв

Вопрос 4

Ответ: 1342

Расположите в хронологической последовательности исторические события.

- 1) Поляновский мир
- 2) созыв последнего Земского собора
- 3) принятие Соборного уложения царя Алексея Михайловича
- 4) хлебный бунт

1634

1649

1650

1653