

Случай вычитания

16 –

стр. 87



Школа России
Математика 1 класс



Запиши ответы.

1. Первое слагаемое **7**, второе **6**. Вычисли сумму.
2. Уменьшаемое **14**, вычитаемое **5**. Чему равна разность?
3. Увеличь **6** на **5**.
4. Из какого числа вычли **8** и получили **8**?
5. Какое число при счёте называют за числом **19** ?
6. На сколько число **8** меньше, чем **18** ?
7. Вычисли разность **13** и **9**.
8. Запиши число, в котором **1** десяток и **7** единиц.
9. Запиши число, которое при счёте идёт перед **14**.

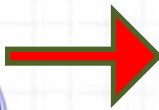
У клоуна было **8** мячиков . Он достал из-под фуражки ещё **5** и из рукава **2**. Сколько мячей стало у клоуна ? (устно)



На арене выступало **9** собачек. **7** собачек село на тумбочки, а остальные запрыгнули в домик. Сколько собачек оказалось в домике?(устно)



Найди примеры с ответом 16, запиши их в тетрадь.



$$8 + 8$$



$$9 + 8$$



$$9 + 7$$



$$7 + 8$$




$$9 + 9$$



$$9 + 5$$



$$10 + 6$$



$$7 + 9$$

Состав числа

16

9

8

7

16

7

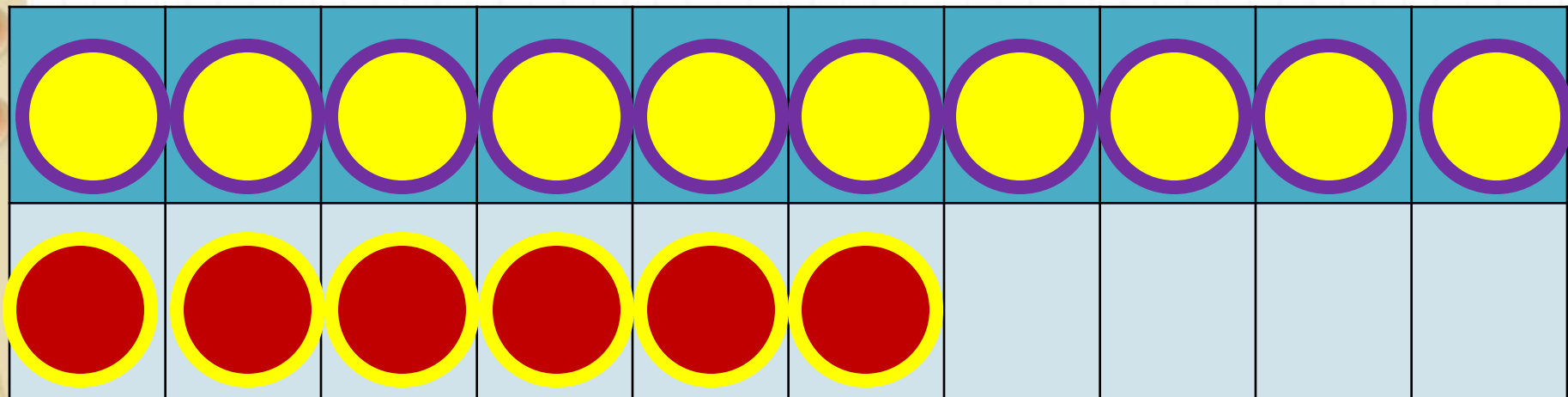
8

9

1

Из какого числа будем
учиться вычитать?

состав

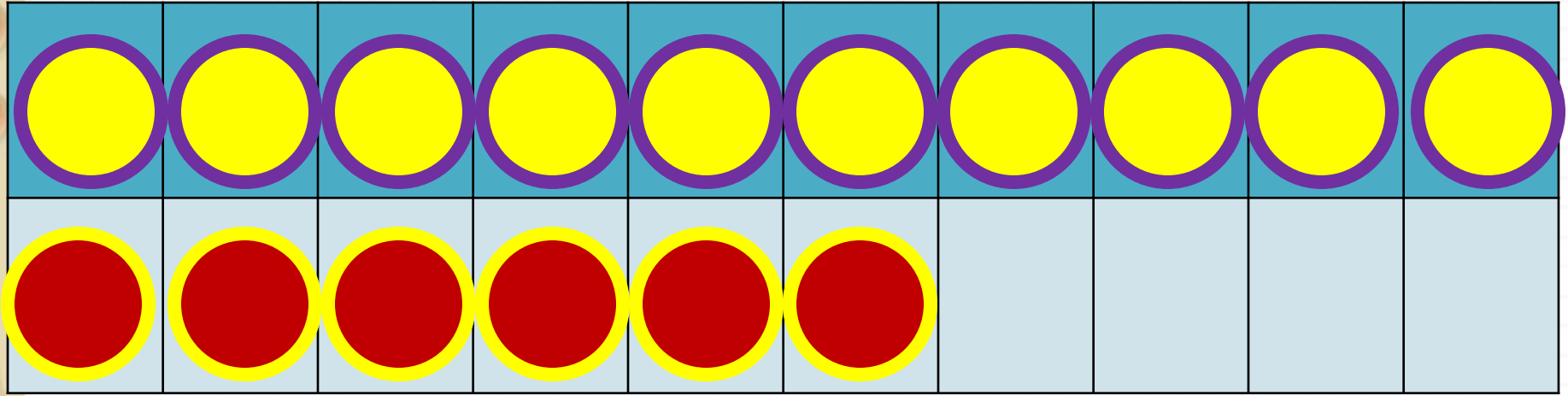


2

способ

$$16 - 7$$

$$16 - 6 - 1$$



$$16 - 8$$

$$16 - 6 - 2$$

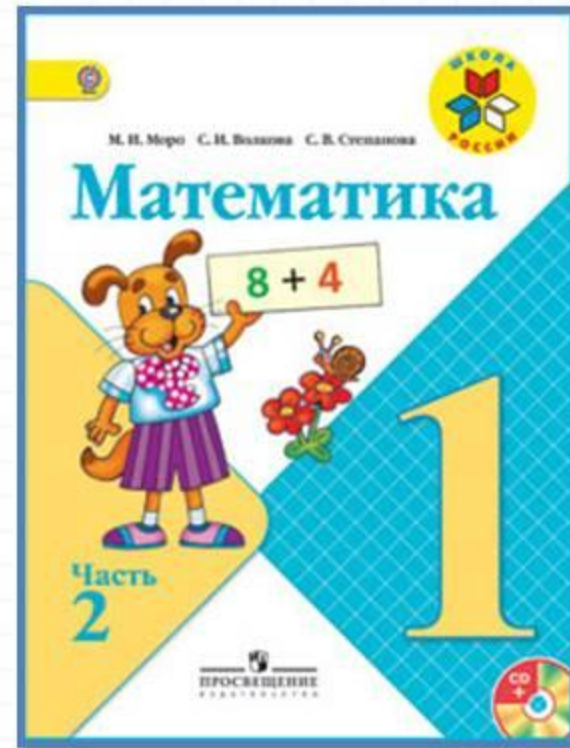
Запомни!(наизусть)

$$16 - 7 = 9$$

$$16 - 8 = 8$$

$$16 - 9 = 7$$

Работа по учебнику



стр. 87

Стр. 87

□ № 1

□ № 2

□ № 3

□ № 5 (под горизонтальной чертой)

Работа в тетради

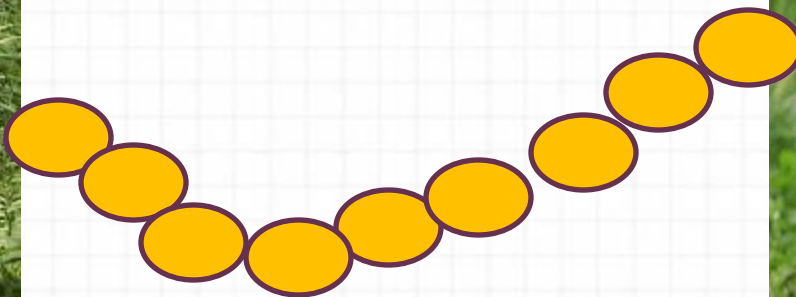
стр. 44



Задания на смекалку



Бульдог и такса едят связку из **9** сосисок с двух сторон. Пока такса ест **1** сосиску, бульдог съедает **2**. Сколько сосисок достанется бульдогу, а сколько таксе?



Рефлексия

С каким вычислительным приёмом мы познакомились сегодня на уроке?

Кто запомнил таблицу вычитания из числа 16?

Кому было трудно?

Какое задание было трудно выполнять?

Оцените своего товарища:

-молодец, всё решено правильно;

-хорошо, ошибки есть, но совсем немного;

-тебе нужна помощь учителя.

Кому нужна помощь учителя?

