

Титульный лист


СЧЕТ ЛЕТ В ИСТОРИИ


УРОК ИСТОРИИ ДРЕВНЕГО МИРА, 5 КЛАСС

Что такое история?

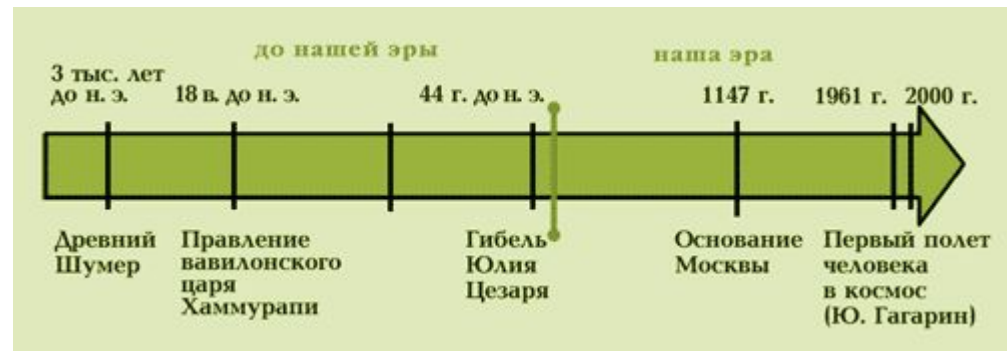
Что такое исторические источники?

Исторические источники





Счет лет в истории





План урока:



1. Историческая хронология
2. Календарь
3. Наша эра и лента времени



ГОД (365
ДНЕЙ)

БЕК (100
ЛЕТ)

ТЫСЯЧЕЛЕНИЕ
(1000 ЛЕТ = 10
БЕКОВ)

1 I
2 II
3 III
4 IV
5 V

6 VI
7 VII
8 VIII
9 IX
10 X

11 XI
12 XII
20 XX
30 XXX
40 XXXX

50 L
60 LX
90 XC
100 C
500 D
1000 M

Римские
цифры

Историческая хронология

Арабские
цифры



Практикум

1. 1240 год = 13 веку. Чтобы определить какой это век, нужно закрыть две последние цифры. Остается цифра – 12, значит прошло 12 полных веков, а идет 13-й, значит 1240 г = это 13 век.
2. 2015 =
3. 882 =



$$I=1$$

$$X=10, \text{ его половина } V=5$$

Например - 9 век, как IX (10-1)






Календарь первобытного общества

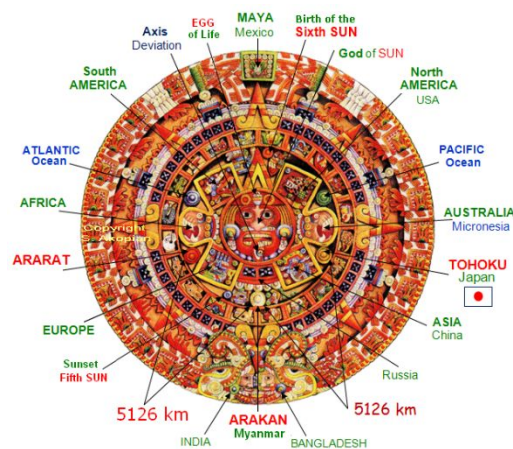
Название "календарь" происходит от латинского слова "календариум", означающего "долговая книжка".

March 2013						
Sun	Mon	Tue	Wed	Thu	Fri	Sat
					1	2
3	4	5	6	7	8	9
10	11	12	13	14	15	16
17	18	19	20	21	22	23
24	25	26	27	28	29	30
31						

Счет по лунным месяцам



Солнечный календарь египтян



Календарь мая

Календарь




Календарь наших дней

#64764185

Наша эра

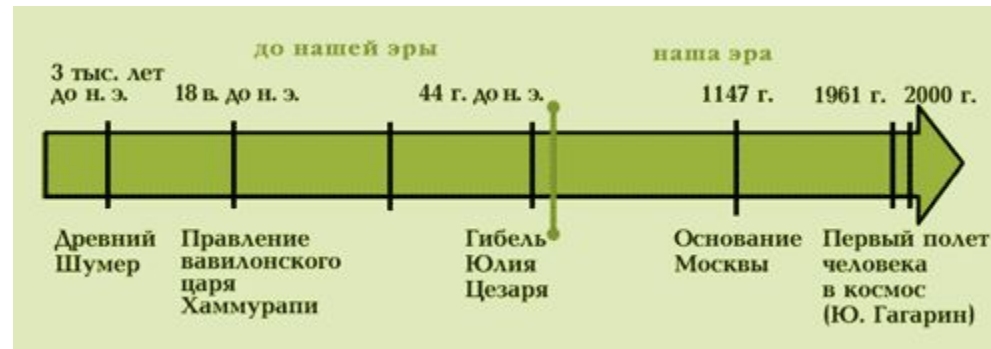
Первым годом нашей эры считается условный год рождения Иисуса Христа. От этого первого года ведется наш современный календарь.



Наша эра обычно обозначается сокращенно н. э.



Все, что случилось до первого года, относится ко времени до нашей эры (сокращенно до н. э.).

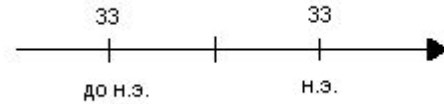


Лента времени

Древний мир					Средние века										Новое время				Новейшее время				
3	2	1	1	2	3	4	5	6	7	8	9	10	11	12	13	14	15	16	17	18	19	20	21
До нашей эры			Наша эра																				

Учимся решать задачи

1. Какой год был раньше и на сколько был раньше: 33г. до н.э. или 33г. н.э.?



Первый шаг - с помощью простого карандаша и линейки чертим линию времени;

Второй шаг - если события произошли в разные эры, то делим линию времени на 2 части и подписываем их - с левой стороны - до н. э., а с правой стороны - н.э.;

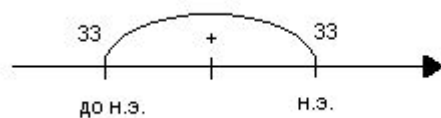
Третий шаг - на линии времени отмечаем нужные даты;

Четвертый шаг - записываем решение задачи;

Пятый шаг - записываем ответ.



Ответ



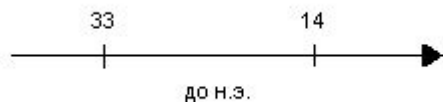
33г. до н.э. + 33г. н.э. = 66 лет

Ответ: 33г до н.э. был раньше на 66 лет





2. Какой год был раньше и на сколько раньше: 33г. до н.э. или 14г. до н.э. ?



Первый шаг - с помощью простого карандаша и линейки чертим линию времени;

Второй шаг - если события произошли в одну эру, то делить линию времени не нужно;

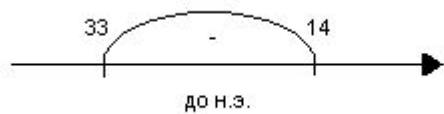
Третий шаг - на линии времени отмечаем нужные даты;

Четвертый шаг - записываем решение задачи;

Пятый шаг - записываем ответ.

Отве

Т



33г. до н.э. - 14г. до н.э. = 19 лет

Ответ: 33г. до н.э. был раньше на 19 лет.

Практикум

- 1. Сколько лет тому назад (т.н.) произошла Марафонская битва ?*
- 2. Какое событие было раньше и на сколько раньше: Куликовская битва (1380г) или основание Санкт-Петербурга (1703г)?*
- 3. Сколько лет тому назад (т.н.) закончилась Северная война ?*



ОТВЕТ

1. $490 \text{ г. до н.э.} + 2015 \text{ г. н.э.} = 2505 \text{ г. т.н.}$

Ответ: Марафонская битва произошла 2502 г. т.н.

2. $1703 \text{ г. н.э.} - 1380 \text{ г. н.э.} = 323 \text{ г.}$

Ответ: Куликовская битва была раньше на 323 года.

3. $2015 \text{ г. н.э.} - 1721 \text{ г. н.э.} = 294 \text{ г. т.н.}$

Ответ: Северная война закончилась 291 г. т.н.



В тетради письменно сделать следующие задания (потренируйтесь):

1. Составить 3 задачи на счет лет в истории.

2. Записать римскими цифрами:

6 - ...9 - ...11 - ...13 - ...8 - ...16 - ...17 - ...4 - ...19 - ...22 - ...3 - ...

3. Записать арабскими цифрами:

V - ...VIII - ...XIX - ...IV - ...III - ...XVI - ...XIV - ...IX - ...VII - ...XII - ...XX - ...XXII -

4. Определить век:

1132 год - ...567 год - ...48 год - ...38 год до н.э. - ...1700 год - ...309 год - ...2013 год - ...

