


Математика 2 класс  
УМК «Школа России»

# Периметр многоугольника



The background features a large white grid on a light brown background. On the left side, there are partial images of a notebook with a pencil, a calculator, and a pen. On the right side, there is a cartoon character with brown hair and a green shirt, with two yellow question marks floating above them.

11

**Классная  
работа**

**4 ч. 30  
МИН.**



**Определить время**



**7 ч. 30  
мин.**





**2 ч. 40  
мин.**



**Вставь пропущенное слово.  
Периметр – это сумма .....  
сторон многоугольника.**

**1.**



**двух**

**всех**

**длин**



Найди периметр данной  
фигуры.



8

20

10



2.

**Найди вычисление  
периметра, соответствующее  
данной фигуре.**



$$8+9-3+10=24$$

$$8+9+4+10+4=35$$

$$8+9+3=20$$






**3.**



Какие компоненты действий  
необходимы для  
нахождения периметра  
многоугольника?

4.



слагаемое  
сумма

множитель  
произведени  
е

делимое  
частное



Детям во дворе поставили новую квадратную песочницу. Какова длина её бордюра, если одна сторона песочницы – 2м?



4м

8м

10м

5.



Найди периметр дорожного знака, если известно, что каждая сторона равна 10см.



50см

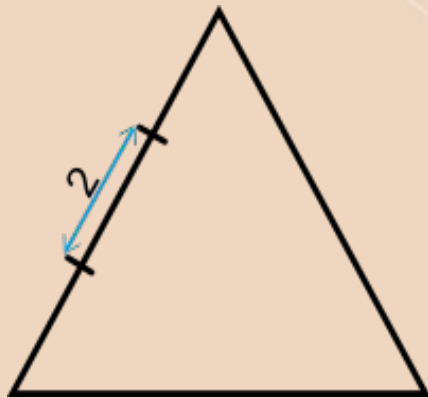
70см

80см



6.

**Вычисли периметр  
треугольника.**





**18см**

**6см**

**12см**



Известно, что стороны всех трёх фигур равны. Чей периметр больше?



периметр  
треугольни  
ка

периметр  
квадрата

периметр  
пятиугольни  
ка

8.



**$P = 40\text{см}$ . Чей это периметр?**

**9.**



**периметр  
доски**




**периметр  
платка**



**периметр  
шарфа**





**В каком случае необходимо  
знать правило вычисления  
периметра?**

**при посадке картофеля**

**при определении скорости  
самолёта**

**при вычислении длины забора**



По потолку прямоугольной формы длиной 8м, а шириной 4м необходимо закрепить пластиковый плинтус. Сколько метров плинтуса надо купить?



11.

12м


24м

4м





Квадрат со стороной 10см разделили одним отрезком на два равных прямоугольника. Найди периметр прямоугольника.



30см

40см

20см

12.



**Стр.52 №5**



$$14^8 - 6 \quad 12^7$$

$$15^4 - 9 \quad 14^5$$

$$19^{21} + 10 \quad 10^{21}$$

$$16^9 - 7 \quad 11^9$$

-2