

Электрический ток в вакууме

Вакуум – разряженный газ

Различают низкий, средний и
высокий вакуум.

Высокий вакуум соответствует такому разряжению, при котором средняя длина свободного пробега молекул больше размеров сосуда.

Задача

$$P_{\min} = 10^{-12} \text{ мм.рт.ст.}$$

$$T = 300 \text{ К}$$

$$V = 1 \text{ см}^3$$

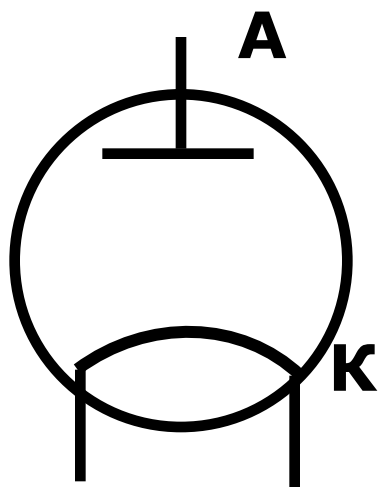
N-?

$$1 \text{ мм.рт.ст.} = 133 \text{ Па}$$

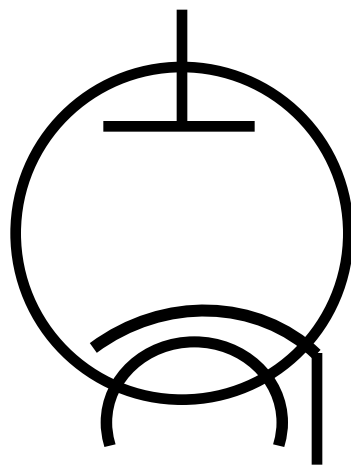
$$p = nkT = \frac{N}{V} kT$$

$$N = \frac{pV}{kT} = \frac{10^{-12} \cdot 133 \cdot 10^{-6}}{1,38 \cdot 10^{-23} \cdot 300} = 3,2 \cdot 10^4$$

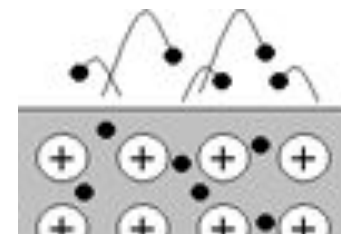

Создав в вакууме эмиссию электронов
(термоэлектронную, фотоэлектронную, электрическую),
построим простейший вакуумный
прибор, проводящий ток - **ДИОД**



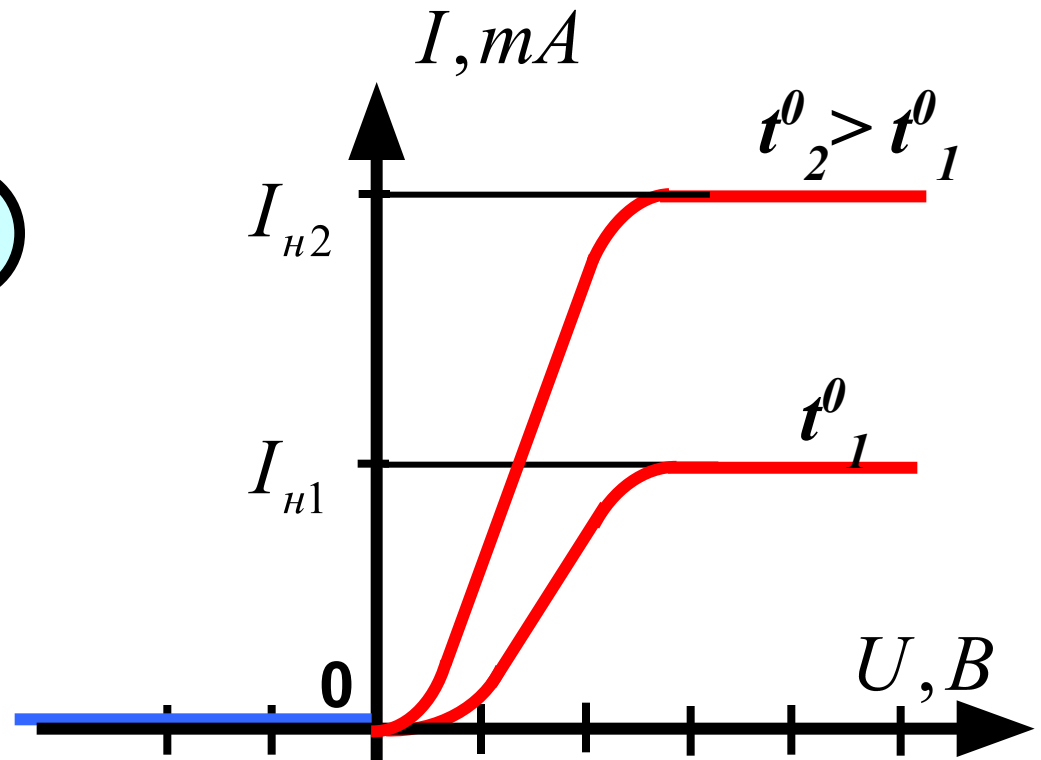
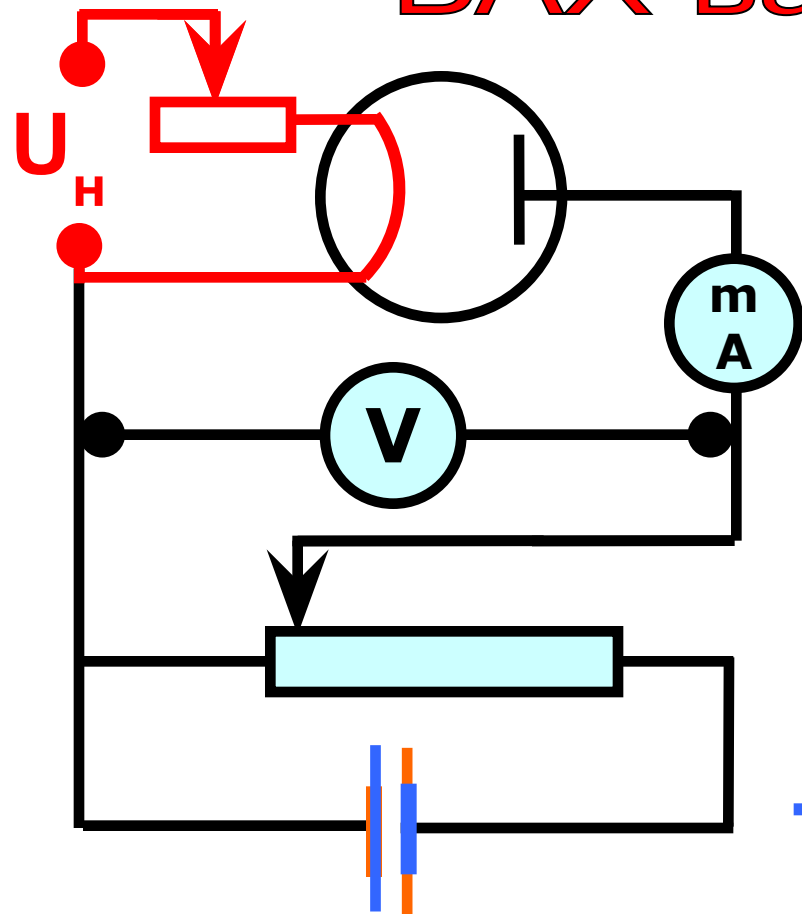
Прямой накал



Косвенный накал



ВАХ вакуумного диода

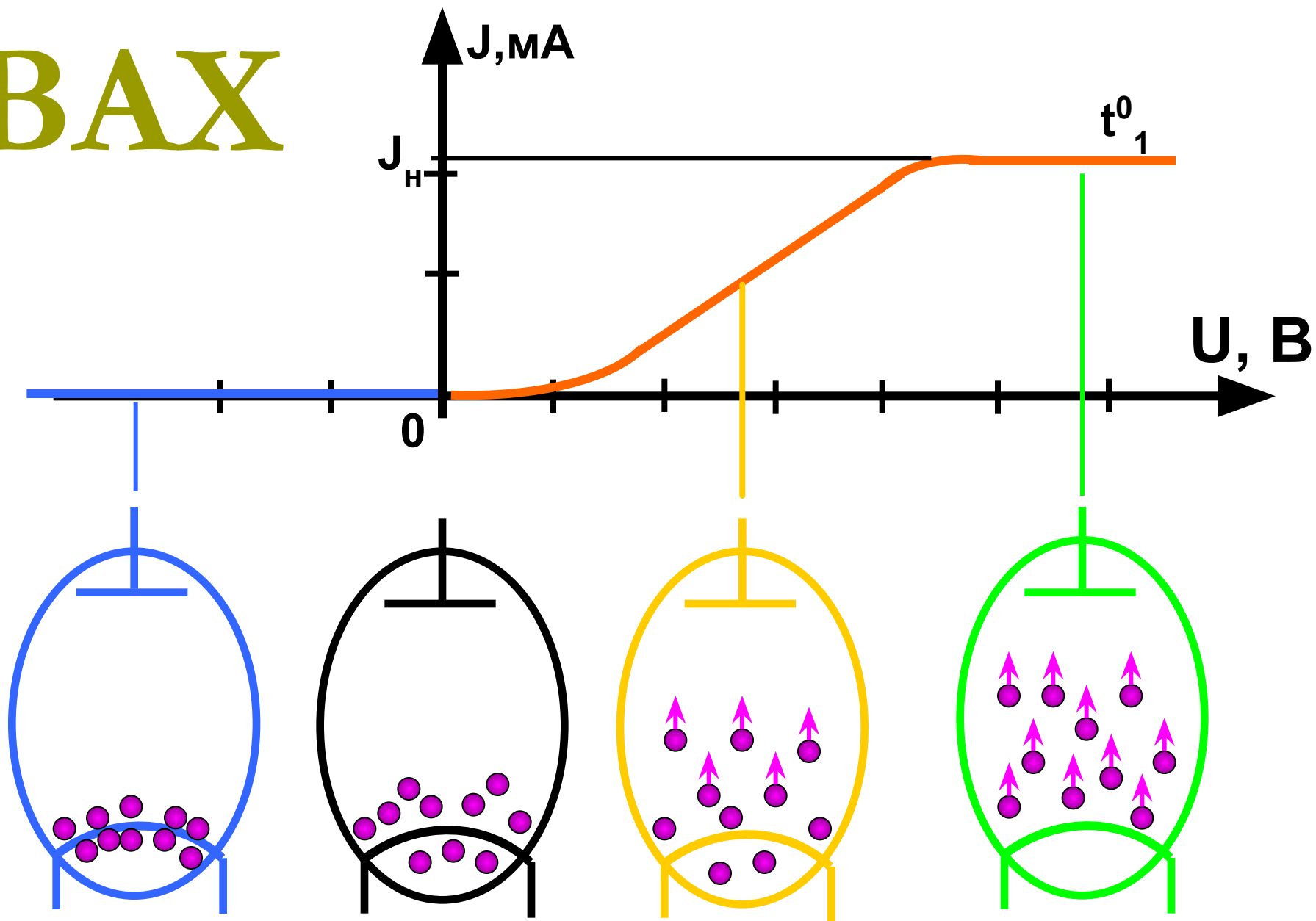


I_H – ток насыщения

$$I_H = \frac{q}{t} = \frac{eN}{t}$$

Все заряды, рожденные термоэлектронной эмиссией, достигают анода.

BAX




Ток насыщения

$$I_{\text{н}} = \frac{q}{t} = \frac{eN}{t}$$

Все заряды, рожденные термоэлектронной эмиссией, достигают анода.

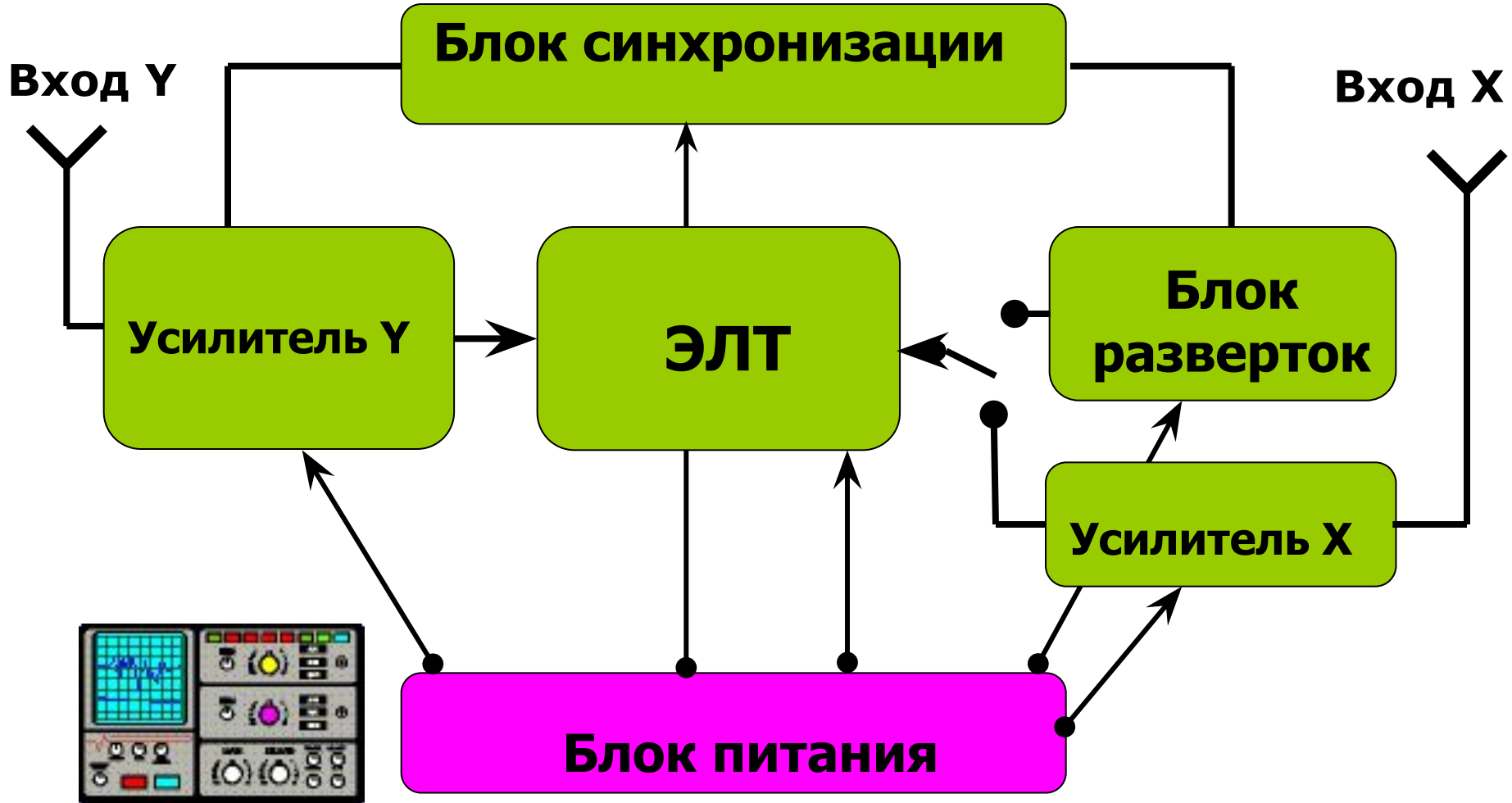
Электронно-лучевая трубка



Задание на дом.

- Разобрать материал презентации. Рассмотрите решение задач, особенно те, кто будет сдавать ЕГЭ (задачи оттуда).
- Учить п. 120-121

Блок-схема электронного осциллографа



В электронно-лучевой трубке поток электронов с кинетической энергией $8 \cdot 10^3$ эВ движется между пластинами плоского конденсатора длиной $4 \cdot 10^{-2}$ м. Расстояние между пластинами $2 \cdot 10^{-2}$ м. Какое напряжение нужно подать на пластины конденсатора, чтобы смещение электронного пучка на выходе оказалось $8 \cdot 10^{-3}$ м.

Дано:

$$\ell = 4 \cdot 10^{-2} \text{ м}$$

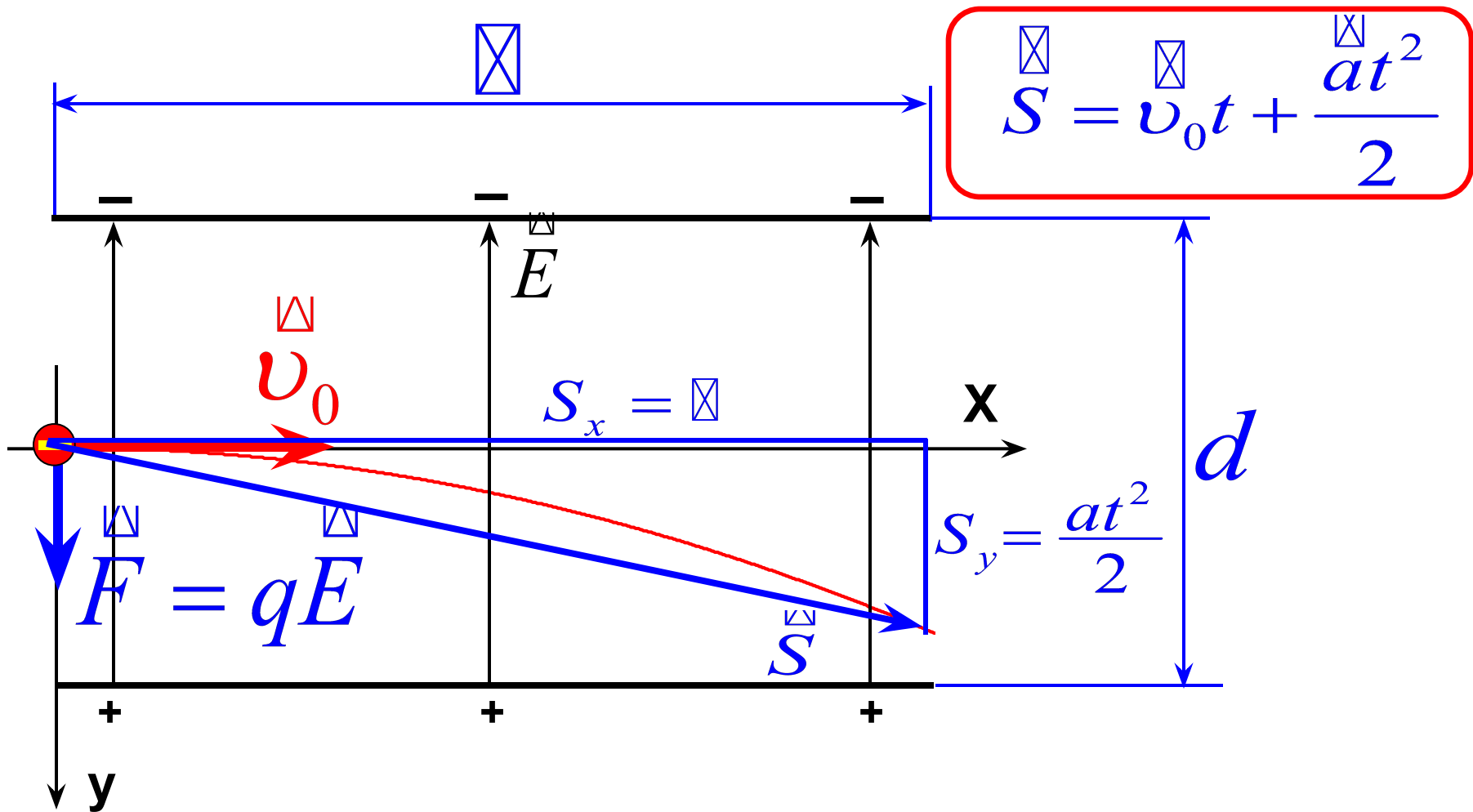
$$E_k = 8 \cdot 10^3 \cdot 1,6 \cdot 10^{-19} \text{ Дж}$$

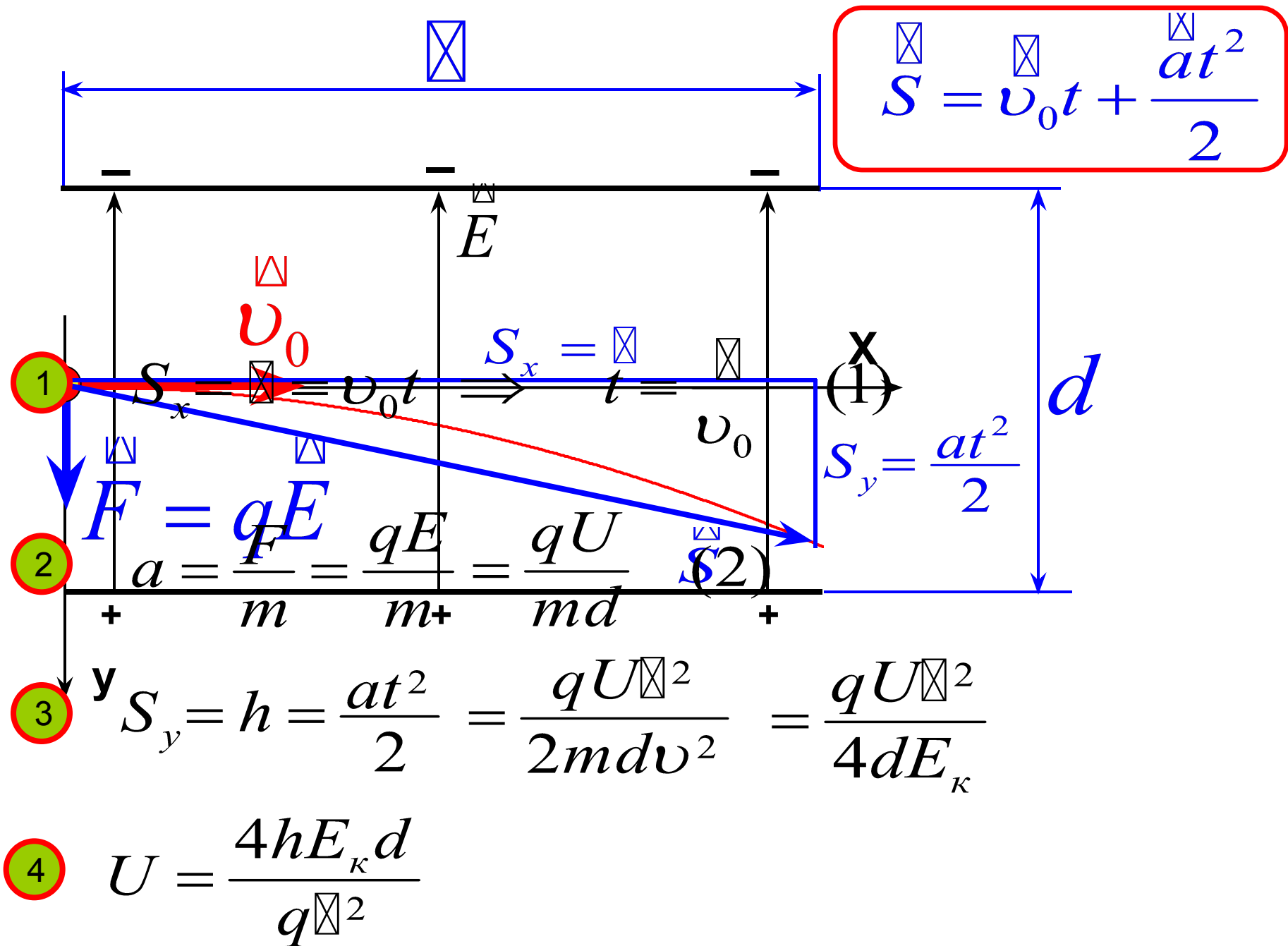
$$d = 2 \cdot 10^{-2} \text{ м}$$

$$h = 8 \cdot 10^{-3} \text{ м}$$

$$q = 1,6 \cdot 10^{-19} \text{ Кл}$$

$U = ?$





Дано:

$$\ell = 4 \cdot 10^{-2} \text{ м}$$

$$E_k = 8 \cdot 10^3 \cdot 1,6 \cdot 10^{-19} \text{ Дж}$$

$$d = 2 \cdot 10^{-2} \text{ м}$$

$$h = 8 \cdot 10^{-3} \text{ м}$$

$$q = 1,6 \cdot 10^{-19} \text{ Кл}$$

$$U = \frac{4hE_k d}{ql^2}$$

$U = ?$

$$U = \frac{4 \cdot 8 \cdot 10^{-3} \cdot 8 \cdot 10^3 \cdot \cancel{1,6 \cdot 10^{-19}} \cdot 2 \cdot 10^{-2}}{\cancel{1,6 \cdot 10^{-19}} \cdot 16 \cdot 10^{-4}} = 3200 \text{ В.}$$

Ответ: $U = 3200 \text{ В}$

Электрон влетает в плоский конденсатор с длиной пластин 10 см и напряженностью электрического поля 40 кВ/м под углом 15° к пластинам. Какова первоначальная энергия электрона, если он вылетел из конденсатора так же под углом 15° к пластинам?

Дано :

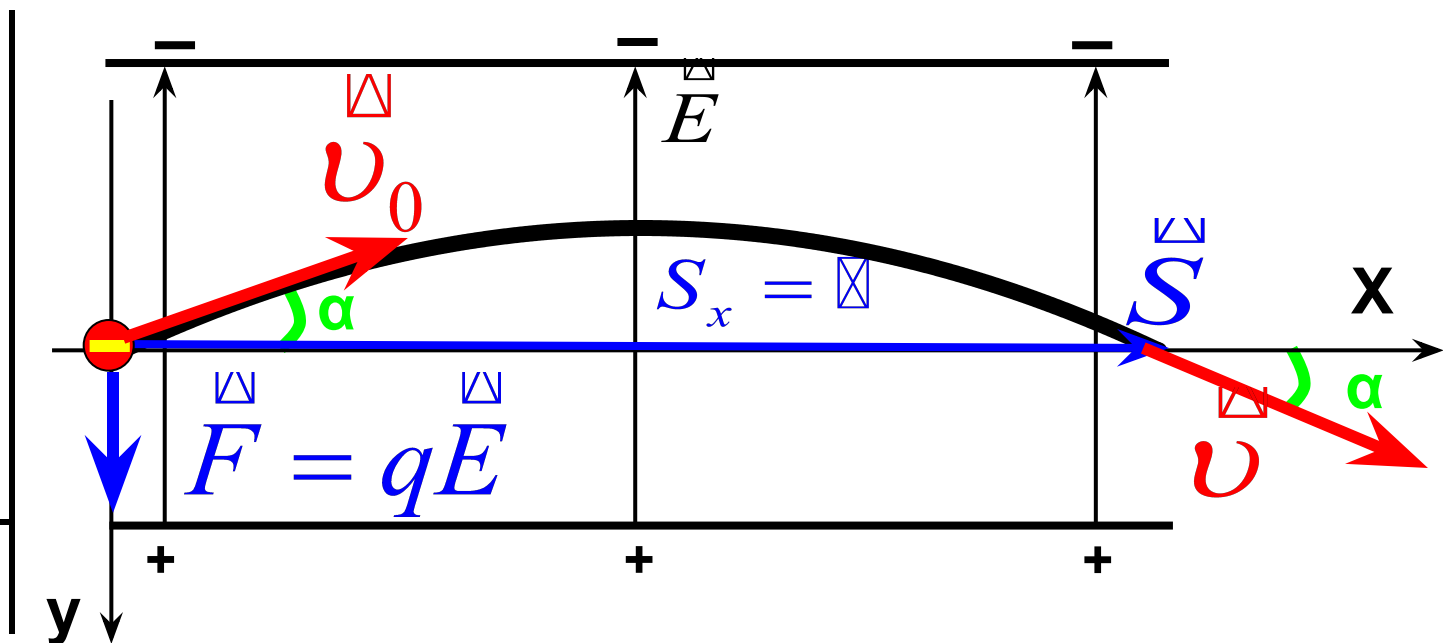
$$q = 1,6 \cdot 10^{-19} \text{ Кл}$$

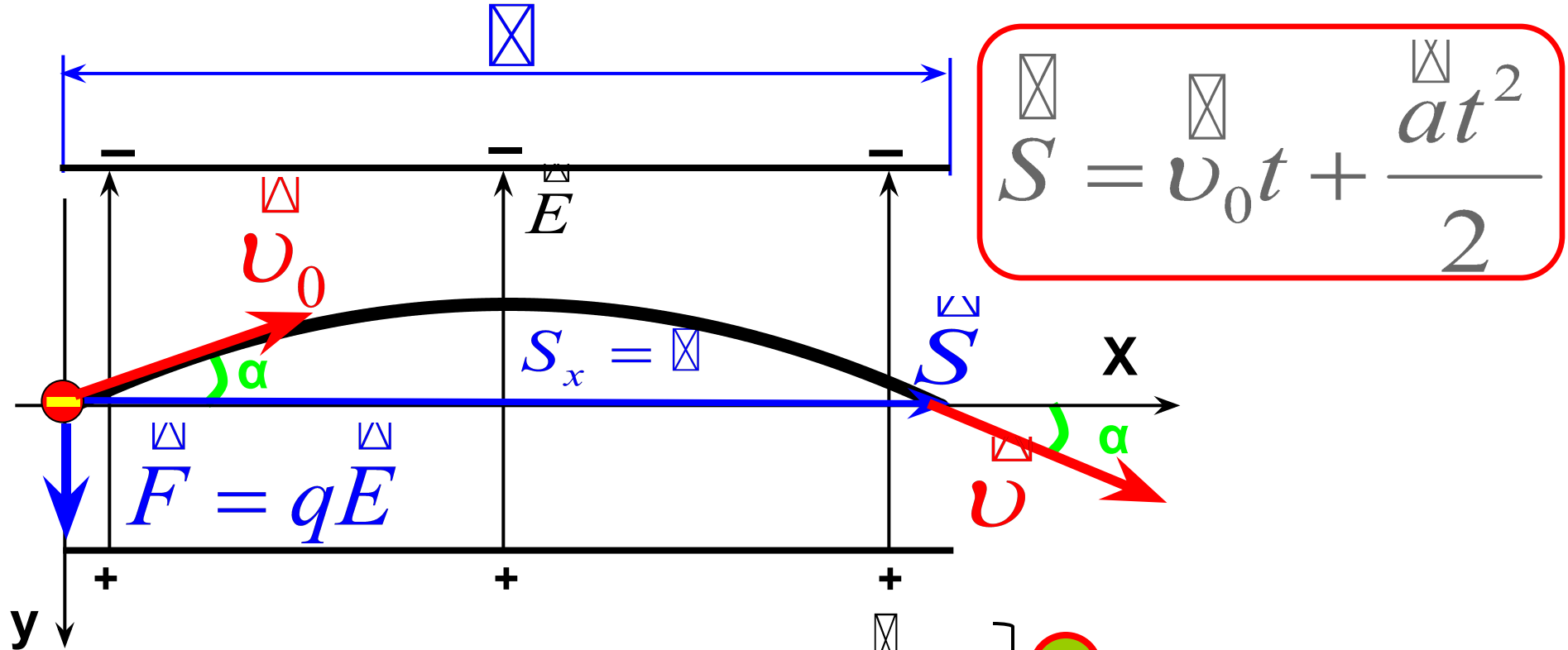
$$l = 10 \text{ см}$$

$$E = 40 \frac{\text{кВ}}{\text{м}}$$

$$\alpha = 15^\circ$$

$$W - ?$$





① $S_x = \boxed{} = v_0 \cos \alpha \cdot t \quad t = \frac{\boxed{}}{v_0 \cos \alpha}$

$S_y = 0 = v_0 \sin \alpha \cdot t - \frac{a t^2}{2} \quad t = \frac{2 v_0 \sin \alpha}{a}$

② $\frac{\boxed{}}{v_0 \cos \alpha} = \frac{2 v_0 \sin \alpha}{a}$

③ $a = \frac{2 v_0 \sin \alpha \cdot v_0 \cos \alpha}{\boxed{}} = \frac{v_0^2 \sin 2\alpha}{\boxed{}} = \frac{F}{m} = \frac{qE}{m}$

Дано:

$$q = 1,6 \cdot 10^{-19} \text{ Кл}$$

$$\ell = 10 \text{ см}$$

$$E = 40 \frac{\text{кВ}}{\text{м}}$$

$$\alpha = 15^\circ$$

$$W - ?$$

4

$$\frac{v_0^2 \sin 2\alpha}{\ell} = \frac{qE}{m}$$

$$W = \frac{mv_0^2}{2} = \frac{qE\ell}{2 \sin 2\alpha}$$

$$W = \frac{qE\ell}{2 \sin 2\alpha} = \frac{1,6 \cdot 10^{-19} \cdot 40 \cdot 10^3 \cdot 0,1}{2 \cdot 0,5} = 6,4 \cdot 10^{-16} \text{ Дж}$$

$$\text{Ответ: } W = \frac{qE\ell}{2 \sin 2\alpha} = 6,4 \cdot 10^{-16} \text{ Дж}$$

На две параллельные сетки, между которыми приложена задерживающая разность потенциалов U , под углом α падает пучок отрицательных ионов. При каких энергиях частицы смогут пройти через сетки, если заряд иона q ?

