

Тема: **Как жили земледельцы и ремесленники в Египте**

Проблема урока:

План.

1. Жители Египта.
2. Труд земледельцев
3. В гостях у египтянина
4. Ремёсла и обмен.
5. Писцы собирают налоги.



Д/З § 7, читать, пересказывать, составить рассказ от имени земледельца.

1. Жители Египта

Население

Египта

Фараон

-

Вельможи

-

Писцы

-

Войско

-

Земледельцы

-

Ремесленники

-


Рабы

Фараон

Вельможи



Писцы



Войско



Словарь

Вельможи - царские советники,
военачальники.

Налоги – часть урожая и приплода
скота в пользу государс



Писец. Древне-египетское изображение.

Работа по группам

1 группа – «Труд земледельцев»

Чем занимались земледельцы Египта?

Опишите их труд и сделайте вывод.

2 группа – «В гостях у египтянина»

Как жили земледельцы Египта?

Ответ запишите в виде плана, сделайте вывод.

3 группа - «Ремёсла и обмен».

Какие виды ремесла существовали в Египте?

Ответ запишите в виде плана, сделайте


вывод.

2. Труд земледельцев

Орошать - пропитывать землю водой.

Шадуф – приспособление для полива.






Шадуф. Рисунок
нашего времени.




Дойка. Древне-
египетская на-
стенная роспись.





Древнеегипетские настенные росписи.

3. В гостях у египтянина



Дом земледельца. Рисунки нашего времени.

4. Ремёсла и обмен



Строительство дома. Древнеегипетская роспись.

5. Писцы собирают налоги.



Сбор налогов. Рисунок в гробнице вельможи.

Писец. Древнеегипетское изображение.

Роль сборщика налогов в Древнем Египте играли писцы.

Если кто-то налоги не платил, то он подвергался телесным наказаниям

Рефлексия

Сегодня на уроке я

- узнал(а)...

- выяснил(а)...

- понял(а)...

A1. Египет расположен:

- 1) между третьим и четвертым порогами Нила
- 2) вдоль побережья Красного моря
- 3) по берегам рек Нил и Евфрат
- 4) в Северо-Восточной Африке

A2. Когда на территории Египта образовались первые государства?

- 1) 40 тысяч лет назад
- 2) в конце 4 тысячелетия до н. э.
- 3) около 3000 г. до н. э.
- 4) в I в. н. э.

A3. Земледелие в Египте стало главным занятием, т. к.:

- 1) в Египте часто шли дожди
- 2) в Египте протекало много полноводных рек
- 3) в долине Нила земля была мягкой и плодородной
- 4) по берегам реки находилось много свободных, пригодных для земледелия полей

A4. Что является признаком государства?

- 1) выборы старейшины
- 2) образование родовых общин
- 3) наличие религиозных верований
- 4) наличие определенной территории и границ

В1. Установите соответствие между понятием и определением. Одному элементу левого столбика соответствует один элемент правого.

Понятие	Определение
А) папирус	1) высокий тростник, из которого делали материал для письма
Б) дельта	2) место впадения реки в море
В) ил	3) каменистая преграда на дне реки
	4) осадок, образующийся на дне водоемов или после разлива реки

A1. Египет расположен:

- 1) в Западной Азии
- 2) от истоков Нила до дельты
- 3) вдоль побережья Средиземного моря
- 4) на берегах Нила от первого порога до Средиземного моря

A2. Единое государство сложилось в Египте примерно:

- 1) 40 тысяч лет назад
- 2) в 4000 г. до н. э.
- 3) в 3000 г. до н. э.
- 4) в I в. н. э.

A3. Греческий ученый Геродот называл Египет «даром Нила», потому что:

- 1) во время разливов Нила почва становилась плодородной
- 2) река была главной достопримечательностью Египта
- 3) первые жители Египта прибыли в страну по реке
- 4) основным занятием египтян было рыболовство

A4. Что является признаком государства?

- 1) появление Человека разумного
- 2) переход на христианское летоисчисление
- 3) использование металлических орудий труда
- 4) наличие правителя, осуществляющего власть в стране

В1. Установите соответствие между понятием и определением. Одному элементу левого столбика соответствует один элемент правого.

Понятие	Определение
А) пороги	1) островок растительности, расположенный около естественного водоема
Б) оазис	2) место впадения реки в море
В) рельеф	3) каменистая преграда на дне реки
	4) выпуклое изображение на камне