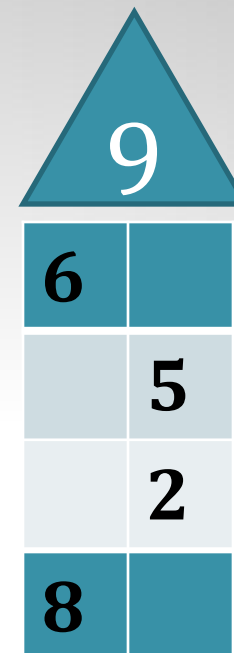

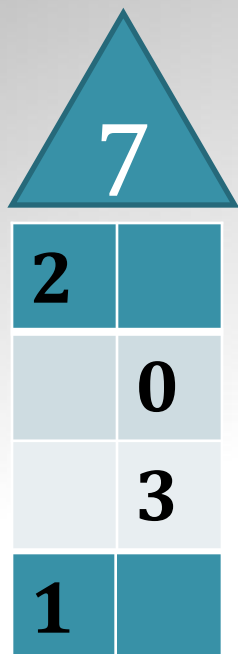


УСНЫЙ СЧЁТ

«ЗАСЕЛЯЕМ ДОМИКИ»



ИГРА «ПРОДОЛЖАЙ – НЕ ЗЕВАЙ»

1, 4, ..., ...;

10, ..., ..., ...;

9, ..., ..., ... ;

0, ..., ...,

ПРОВЕРЬТЕ

1, 4, 7, 10;

10, 7, 4, 1;

9, 6, 3, 0 ;

0, 3, 6, 9 .

ИГРА «НАЗОВИ СОСЕДЕЙ»



ИГРА «УГАДАЙ ЧИСЛО»

$4 + ? = 7$

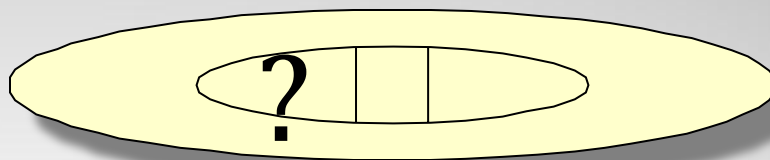

$9 - ? = 7$

$5 + ? = 8$

$? - 3 = 6$

$10 - ? = 8$

СОСТАВЬ ЗАДАЧУ ПО РИСУНКУ



РЕШИТЕ ЗАДАЧУ

СВЯЗАЛА



ОТДАЛА -



ОСТАЛОСЬ -?

РЕШИТЕ ЗАДАЧУ

С яблоками -



С капустой -?, столько же

Сколько всего -?

РЕШИТЕ ПРИМЕРЫ

$8 + 2$

$6 + 3$

$7 + 1$

$9 - 1$

$7 - 2$

$9 - 3$