

# Экономика

А: 4

жизненно важный товар

Б: 2

товар первой необходимости

В: 3

предметы роскоши

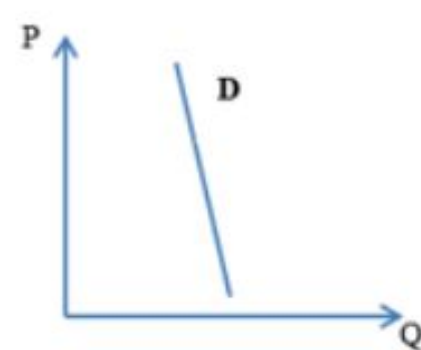
Г: 1

ситуация «все включено»

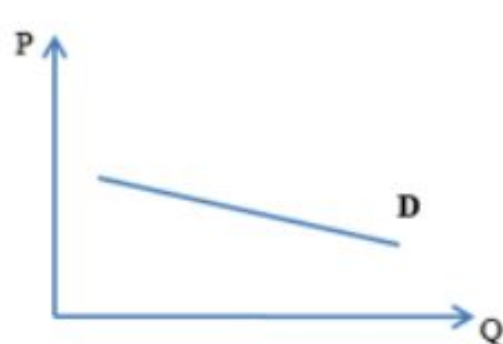
1



2



3



4



A: 3

Уменьшение равновесной цены под влиянием ценовых ожиданий покупателей

B: 4

Уменьшение равновесной цены под влиянием развития технологий (использования новых технологий производства)

B: 5

Увеличение равновесной цены под влиянием роста количества покупателей

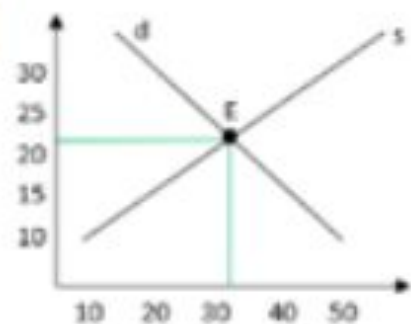
Г: 2

Увеличение равновесной цены под влиянием роста издержек на производство

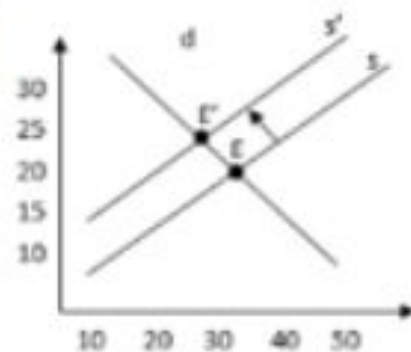
Д: 1

Статическое равновесие, равновесные цена и выпуск установлены

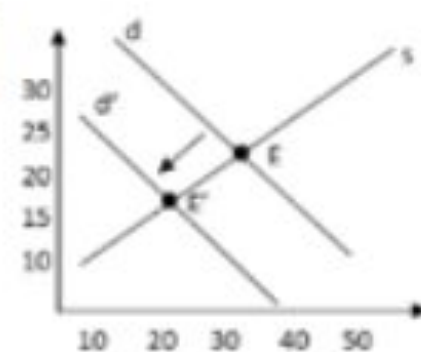
1



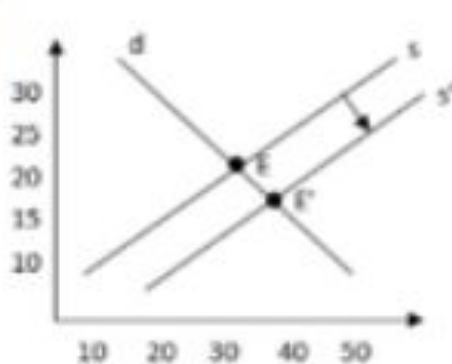
2



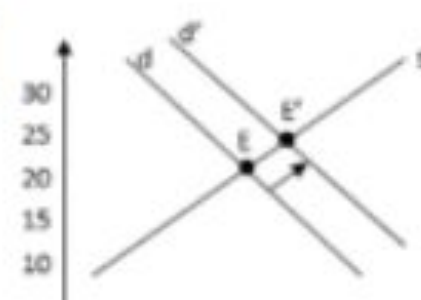
3



4



5



Выберите сделки, которые будут включены в ВВП **текущего года**

*Выберите несколько правильных ответов:*

- стипендия студента
- фирма выпускает продукцию на сумму 1 млн. руб. и хранит ее на складе
- заработная плата учителя
- семья покупает акции компании "А" на сумму 200 тыс. руб.
- фирма приобретает 5 компьютеров, уже бывших в употреблении, у другой фирмы
- семья покупает квартиру в только что построенном доме за 2500 тыс. руб.



Распределите проявления безработицы к фрикционному или структурному типу

Установите соответствие путём перетаскивания маркеров элементов правого списка к маркерам левого списка:

**Проявления безработицы**

А:2

увольнение с места сезонной работы

Б:1

увольнение шахтеров в связи с истощением угольного разреза

В:2

увольнение в связи с переездом в другой город

Г:2

увольнение в связи со сменой работы

Д:1

увольнение бухгалтеров в связи с автоматизацией их труда

Е:1

увольнение в связи с несоответствием квалификации работника современным требованиям рабочего места

**Вид безработицы**

1

Структурная

2

Фрикционная

## Распределите меры налогово-бюджетной политики по типам

Установите соответствие путём перетаскивания маркеров элементов правого списка к маркерам левого списка:

### Меры

А:1

сворачивание крупных строительных проектов

Б:1

снижение государственных расходов на социальную сферу

В:2

снижение ставок налога на прибыль

Г:2

введение новой федеральной целевой программы

Д:2

рост государственных расходов на строительство дорог

Е:1

повышение налогов на производство товаров

### Налогово-бюджетная политика

1

Сдерживающая

2

Стимулирующая

Два периода в году цена букетов/цветов оказывается существенно выше, чем в остальные дни

7-9 марта,

30,31 августа и 1 сентября.

**Выберите основные факторы повышения цен в указанные периоды**

- Повышение налогов
- Ценовые факторы спроса и предложения
- Увеличение объема привозных цветов
- Падение цены товаров-заменителей цветов
- Вкусы потребителей
- Ожидания продавцов
- Количество потребителей данного товара
- Неценовые факторы спроса и предложения

**Выберите рыночные факторы и законы, которые задействованы в данной ситуации**

- Количество покупателей
- Традиции
- Закон предложения
- Ожидания покупателей
- Закон спроса
- Доходы покупателей
- Закон возрастания альтернативных издержек
- Технология производства

Средняя цена цветов, продаваемых у остановки общественного транспорта, оказывается выше, чем те же самые цветы, продаваемые в точке, удаленной от общественных мест.

Выберите микроэкономические факторы, которыми можно объяснить данную закономерность

- Высокий спрос
- Ожидания производителя
- Количество продавцов
- Месторасположение
- Реклама
- Высокое предложение
- Количество покупателей
- Издержки



Если государство увеличит размер импортных пошлин на ввозимые цветы и ужесточит правила ввоза, как это отразится на российском цветочном рынке?

**Из предложенных вариантов определите положительные и отрицательные последствия**

*Установите соответствие путём перетаскивания маркеров элементов правого списка к маркерам левого списка:*

A: 1

Ослабление конкуренции

1

Отрицательные

B: 2

Развитие национального производства

2

Положительные

B: 1

Снижение стимулов к совершенствованию

Г: 1

Рост цен на цветы

Д: 2

Рост спроса на отечественные цветы

Е: 1

Рост издержек импортера

## Распределите издержки как явные или неявные (по основным статьям расходов)

Установите соответствие путём перетаскивания маркеров элементов правого списка к маркерам левого списка:

### Издержки

- А: 2** Расходы на оборудование: покупка швейной машинки
- Б: 2** Сырье и материалы: расходы на ткань, фурнитуру, электроэнергия
- В: 1** Упущенный процент на капитал, с помощью которого произведена закупка всего необходимого для открытия швейной мастерской
- Г: 1** Доход, который можно получить от сдачи в аренду квартиры
- Д: 1** Зарботная плата, которую мог получить владелец квартиры, работая на другом предприятии
- Е: 2** Зарботная плата сотрудников, социальные отчисления

### Тип издержек

- 1** Неявные издержки
- 2** Явные издержки

Допустим ситуацию, в которой бухгалтерская прибыль положительная, а экономическая прибыль при учете всех явных и неявных издержек отрицательная.

Выберите верные варианты ответов

- Данное ателье организовывать не рационально
- Неявные издержки больше явных
- Явные издержки больше неявных
- Владелец ателье не получил заработную плату
- Владелец и сотрудники ателье не получили прибыль
- У ателье образовался убыток после вычета всех затрат, включая альтернативные издержки
- У ателье образовался убыток после вычета всех затрат, не включая альтернативные издержки