

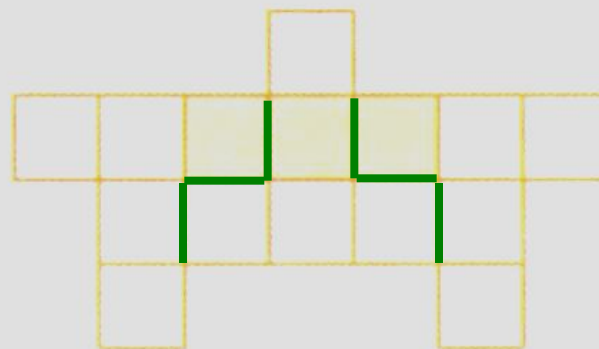


Заполни пустые клетки «магического» квадрата.

Ключ =  
45

22	2	21
14	15	16
9	28	8

4 Разрежь фигуру по линиям сетки на 3 одинаковые части так, чтобы каждая часть содержала закрашенную клетку.





5 В ряду из пяти чисел сумма любых двух соседних чисел равна 12. Первое число равно 9. Чему равно последнее число?

9,  $\boxed{3}$ ,  $\boxed{9}$ ,  $\boxed{3}$ ,  $\boxed{9}$ .

$\underbrace{\quad\quad\quad}_{12}$

# Учебник с.16, № 5

1.  $P = 4 + 4 + 4 + 4 = 16$  см
2.  $16$  см =  $8$  см +  $8$  см
3.  $8 = 6 + 2$ .



1.  $P = 4 + 4 + 4 + 4 = 16$  см
2.  $6 + 6 = 12$  см – две длины
3.  $16 - 12 = 4$  см – две ширины
4.  $4$  см =  $2 + 2$ , ширина –  $2$  см

# Урок 75

## Выражения со скобками

№2

$$(25 + 25) - (65 - 42) = 27$$

1            3            2

50                    23

ТЫ -

МОЛОДЕЦ!