

# Задание 2

Понятие. Отношения между понятиями



## Задание 1

### Упражнение 1

Укажите видовые понятия к следующим родовым:

- 1) Писатель
- 2) Картофель
- 3) Физика

### Упражнение 2

Найдите ближайшие родовые понятия к следующим видовым

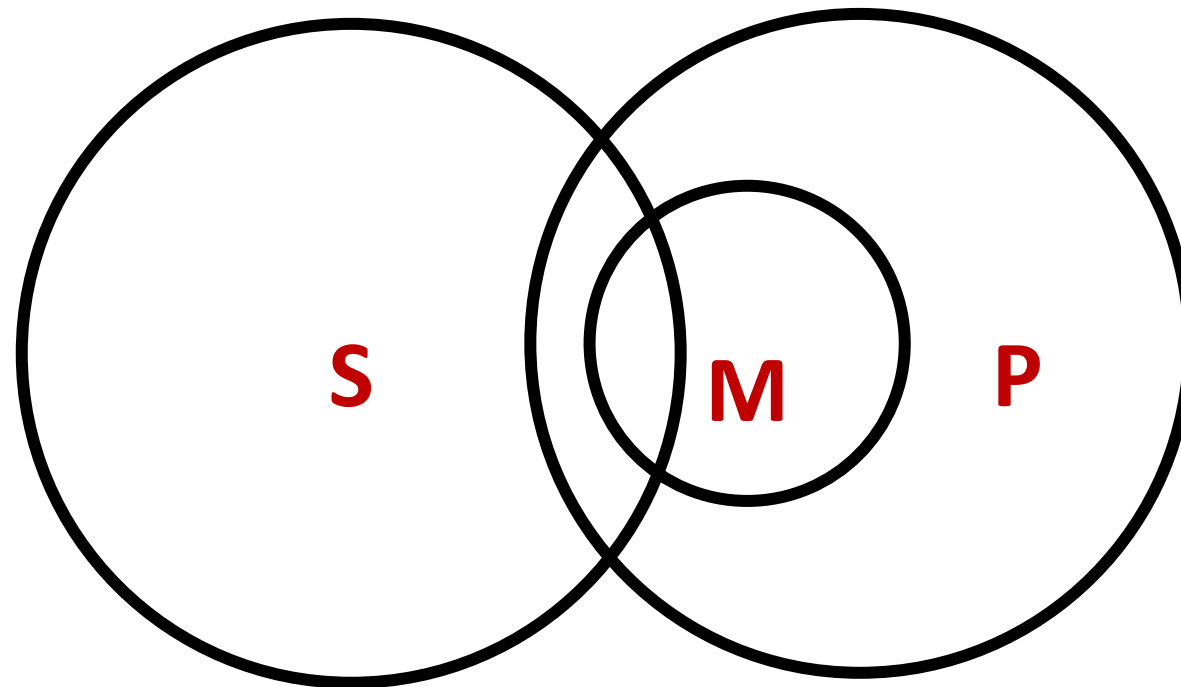
- 1) Карась
- 2) Футболист
- 3) Ижевск



## Задание 2

Подберите понятия к следующим схемам (кругам Эйлера):

### Упражнение 1

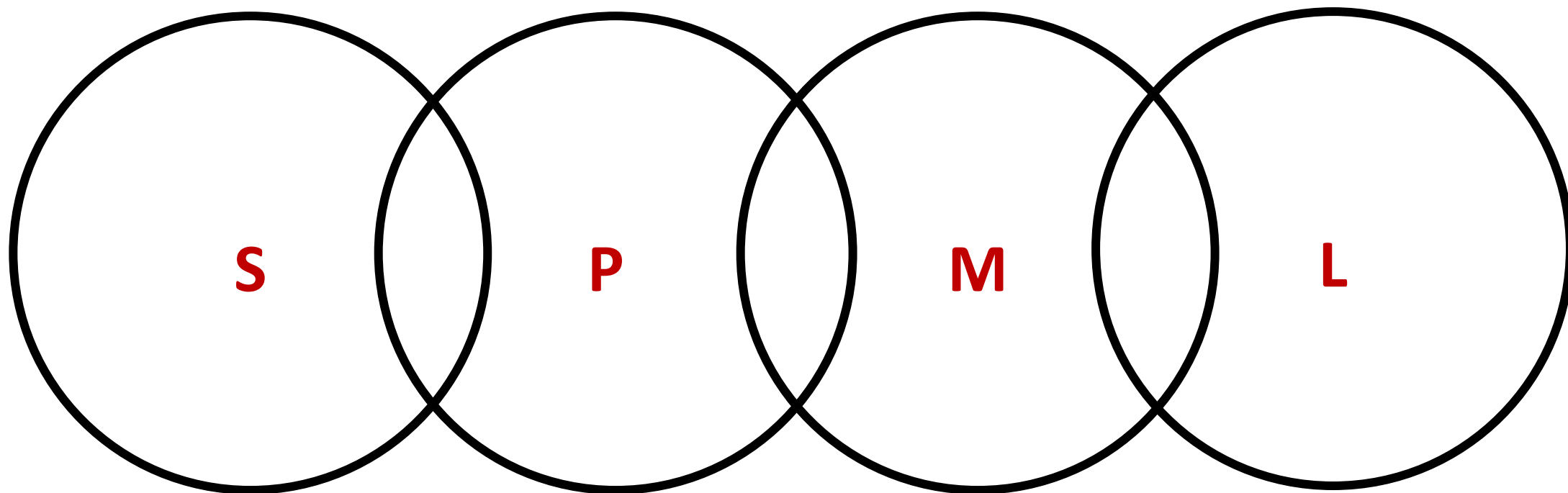




## Задание 2

Подберите понятия к следующим схемам (кругам Эйлера):

### Упражнение 2





### Задание 3


Найдите отношение между понятиями и изобразите его с помощью кругов Эйлера:

#### Упражнение 1

Холодное оружие – огнестрельное оружие – орудие убийства – кирпич, послуживший орудием убийства

#### Упражнение 2

Крупное яблоко – мелкое яблоко – зеленое яблоко – спелый фрукт – яблоко



### Задание 1

#### Упражнение 1

Укажите видовые понятия к следующим родовым:

- 1) Небесное тело
- 2) Помидор
- 3) Ижевский вуз

#### Упражнение 2

Найдите ближайшие родовые понятия к следующим видовым

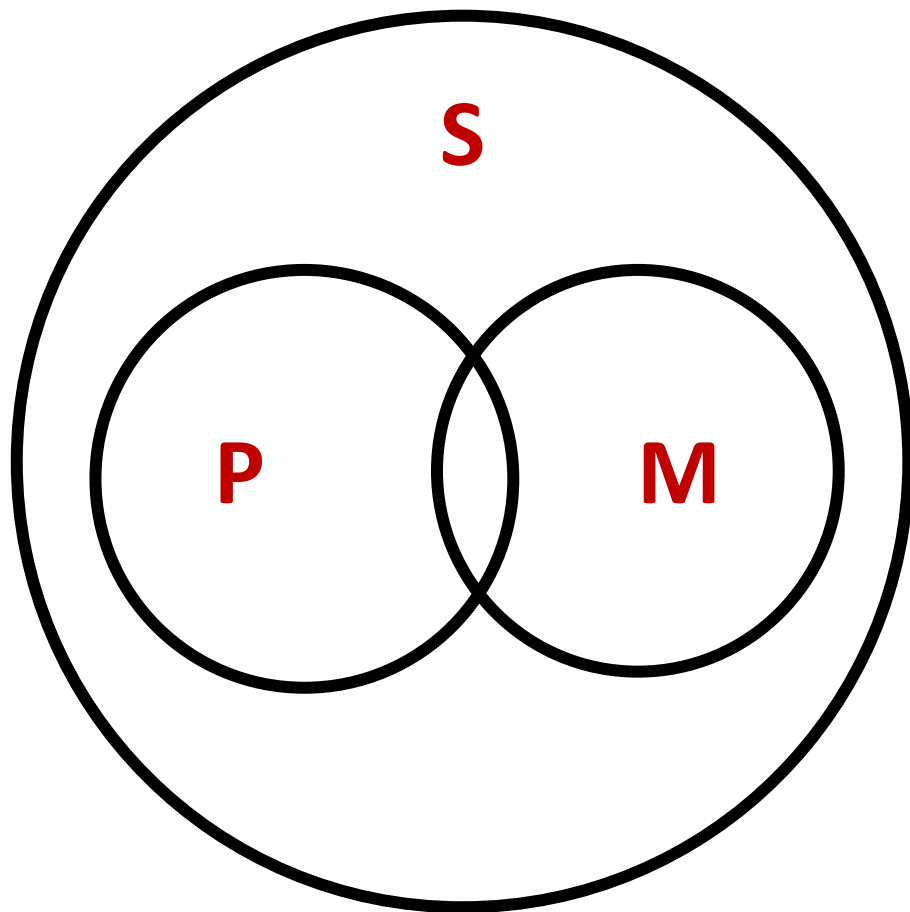
- 1) Солнце
- 2) Молоток
- 3) Малая Пурга



## Задание 2

Подберите понятия к следующим схемам (кругам Эйлера):

### Упражнение 1

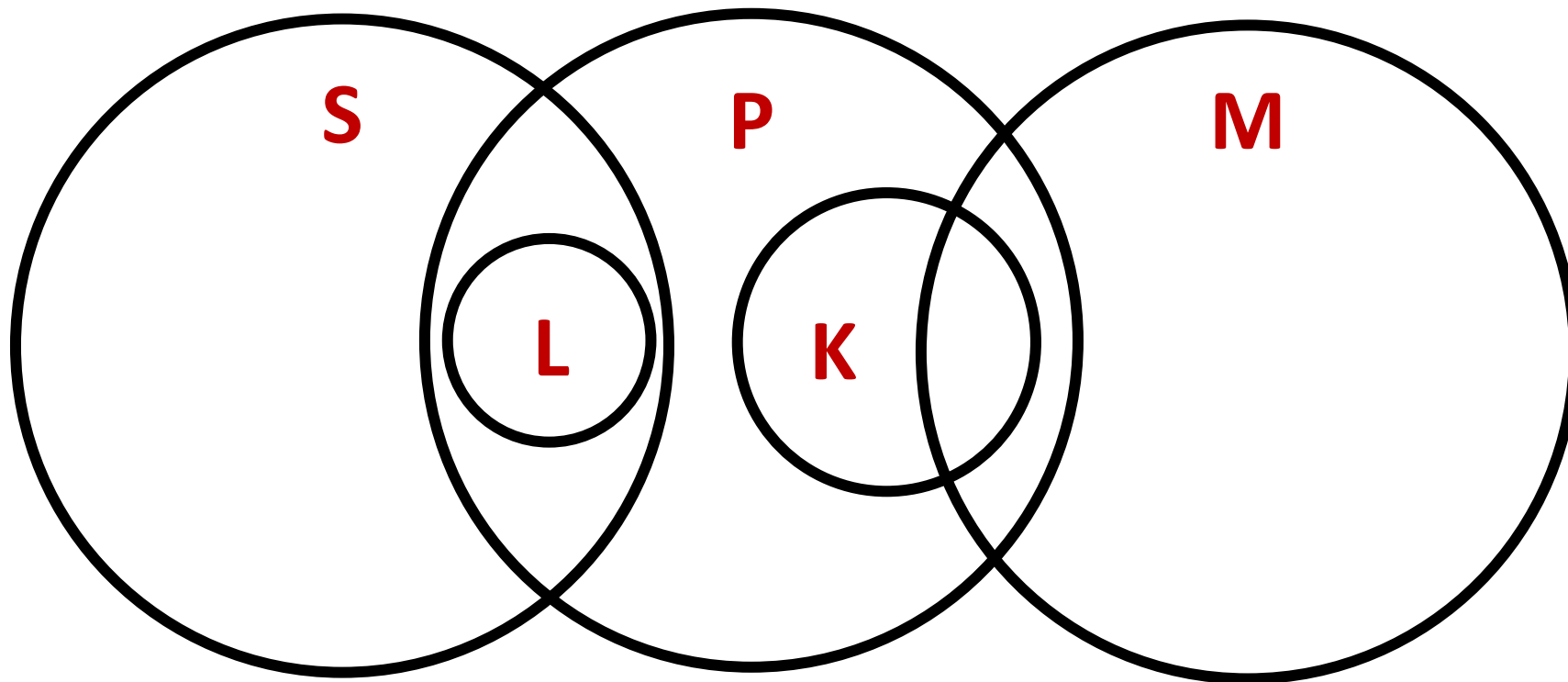




## Задание 2

Подберите понятия к следующим схемам (кругам Эйлера):

### Упражнение 2







### Задание 3

Найдите отношение между понятиями и изобразите его с помощью кругов Эйлера:

#### Упражнение 1

Оружие – финский нож – пистолет – огнестрельное оружие

#### Упражнение 2

Девушка – студент (в т. ч. студентки) – спортсмен (в т. ч. спортсменки) – девушка, участница олимпийских игр – ученица 10 класса



## Задание 1

### Упражнение 1

Укажите видовые понятия к следующим родовым:

- 1) Лес
- 2) Закат
- 3) Русский писатель

### Упражнение 2

Найдите ближайшие родовые понятия к следующим видовым

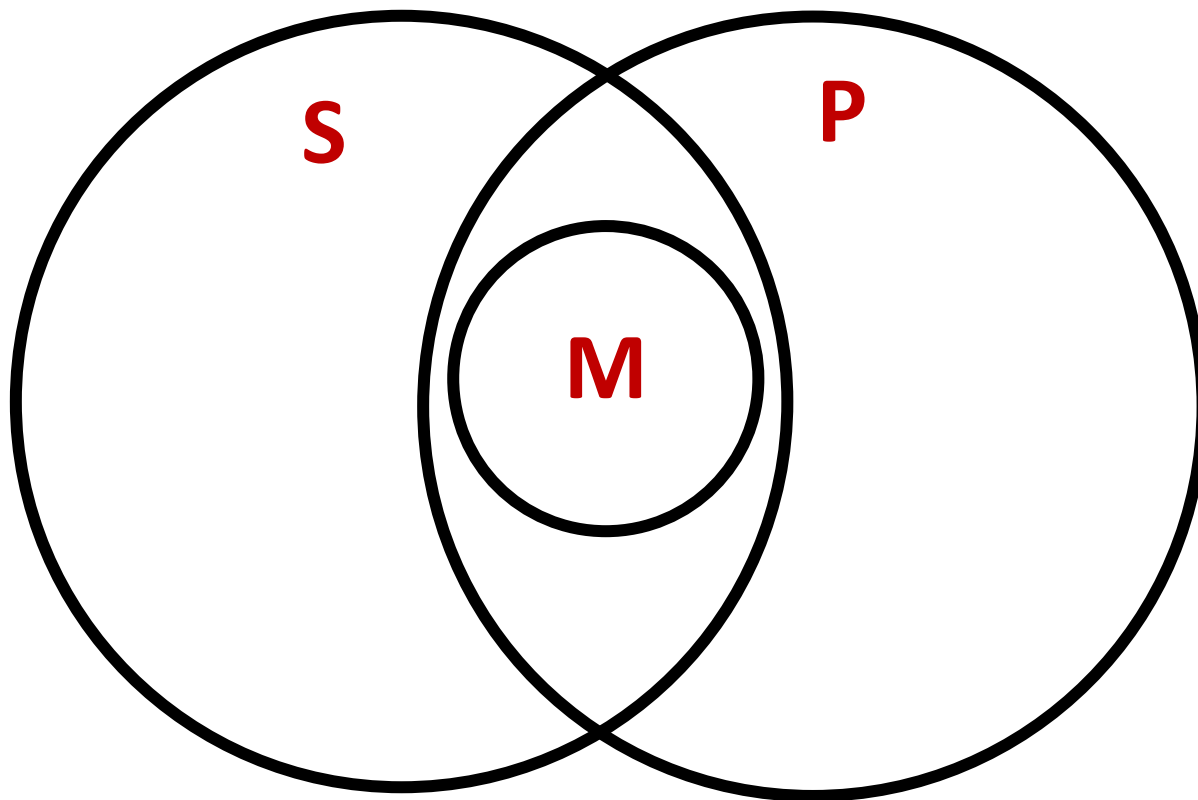
- 1) Слесарь
- 2) Демократия
- 3) Пальто



## Задание 2

Подберите понятия к следующим схемам (кругам Эйлера):

### Упражнение 1

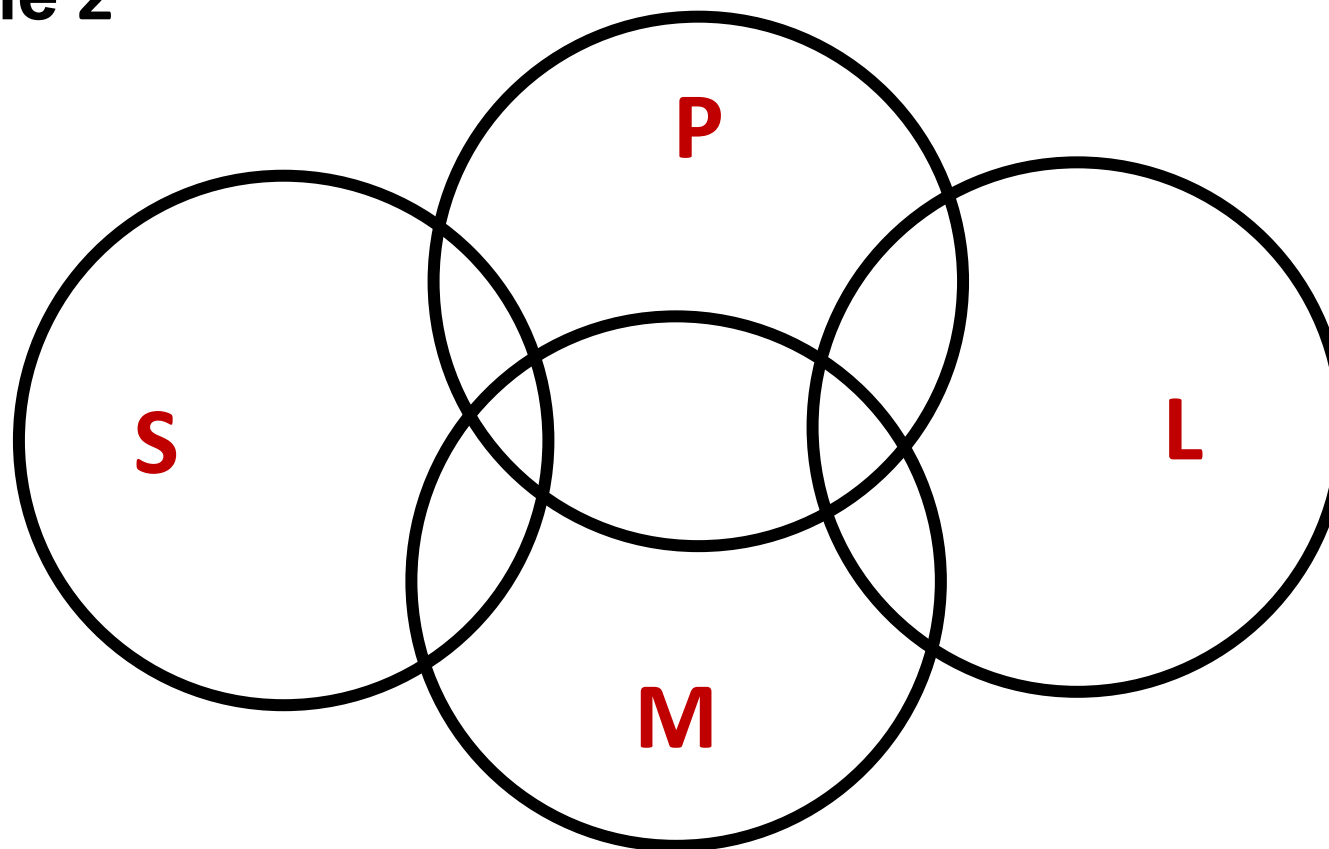




## Задание 2

Подберите понятия к следующим схемам (кругам Эйлера):

### Упражнение 2





### Задание 3

Найдите отношение между понятиями и изобразите его с помощью кругов Эйлера:

#### Упражнение 1

Хлеб – черный хлеб – свежий хлеб – масло

#### Упражнение 2

Мать – дочь – бабушка – внучка – сестра



### Задание 1

#### Упражнение 1

Укажите видовые понятия к следующим родовым:

- 1) Конфета
- 2) Искусство
- 3) Институт УдГУ

#### Упражнение 2

Найдите ближайшие родовые понятия к следующим видовым

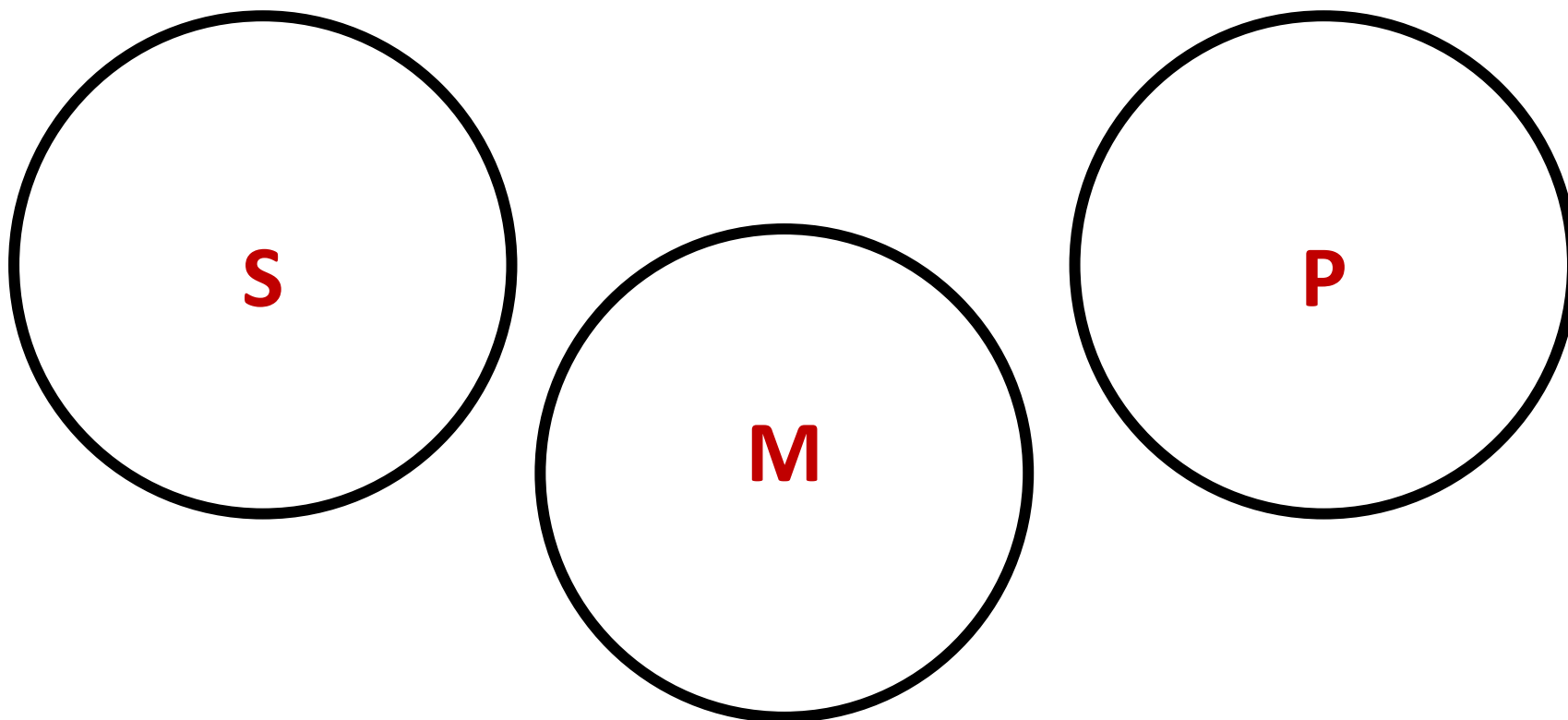
- 1) Женщина
- 2) Республика
- 3) Живопись



## Задание 2

Подберите понятия к следующим схемам (кругам Эйлера):

### Упражнение 1

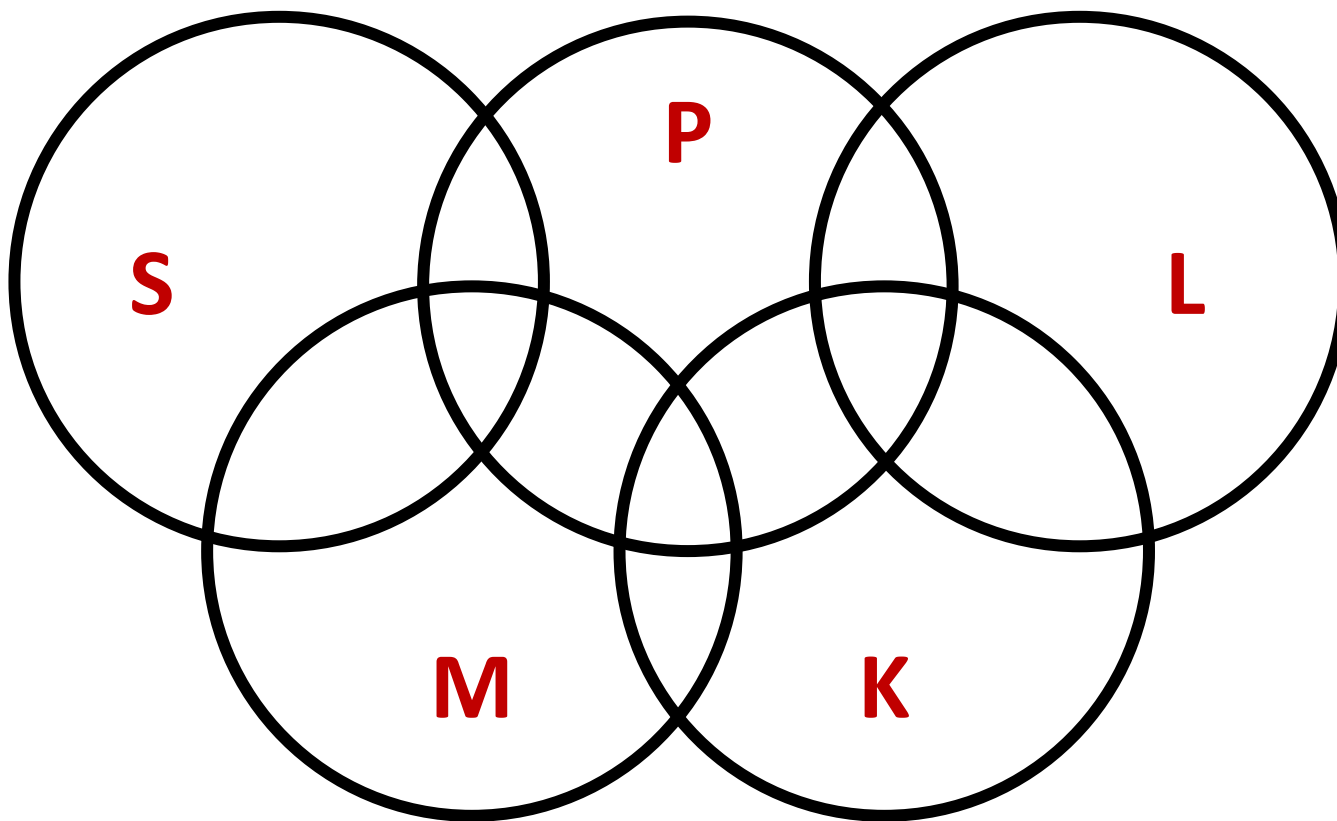




## Задание 2

Подберите понятия к следующим схемам (кругам Эйлера):

### Упражнение 2







### Задание 3

Найдите отношение между понятиями и изобразите его с помощью кругов Эйлера:

#### Упражнение 1

Дерево – двухметровое растение – ель – лес

#### Упражнение 2

Мужчина – сын – отец – дед – брат