

Додавання та віднімання трицифрових чисел



Математика, 3 клас.

Зачепилівська ЗОШ І-ІІІ ступенів,

учитель початкових класів

Галайдич Людмила Володимирівна



$$x + y = z$$

Розв'яжіть приклади

$$308 - 164$$



$$528 + 242$$

$$920 - 714$$

$$264 + 239$$

$$612 + 278$$

$$796 - 549$$

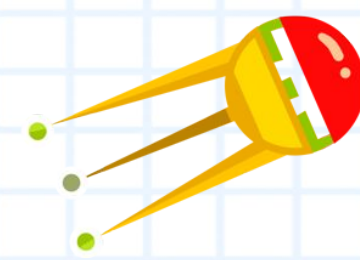






$$x + y = z$$

Перевірка

144 770 206

503 890 247



$a^2 \times b$

Задача 1

У парку посадили 342
тюльпани, а нарцисів – на 129
менше. Скільки всього квітів
посадили в парку?



Розв'язок

$$1) 342 - 129 = 213 \text{ (кв.)} -$$

посадили нарцисів.

$$2) 342 + 213 = 554 \text{ (кв.)} -$$

посадили всього у парку.

Відповідь: 554 квітки посадили в парку всього.

$$x + y = z$$

$x + y = z$

Хто не допустив
жодної помилки –
поставте собі **11** балів

