

**Случаи сложения и  
вычитания основанные на  
знаниях нумерации.**



**Урок № 92**



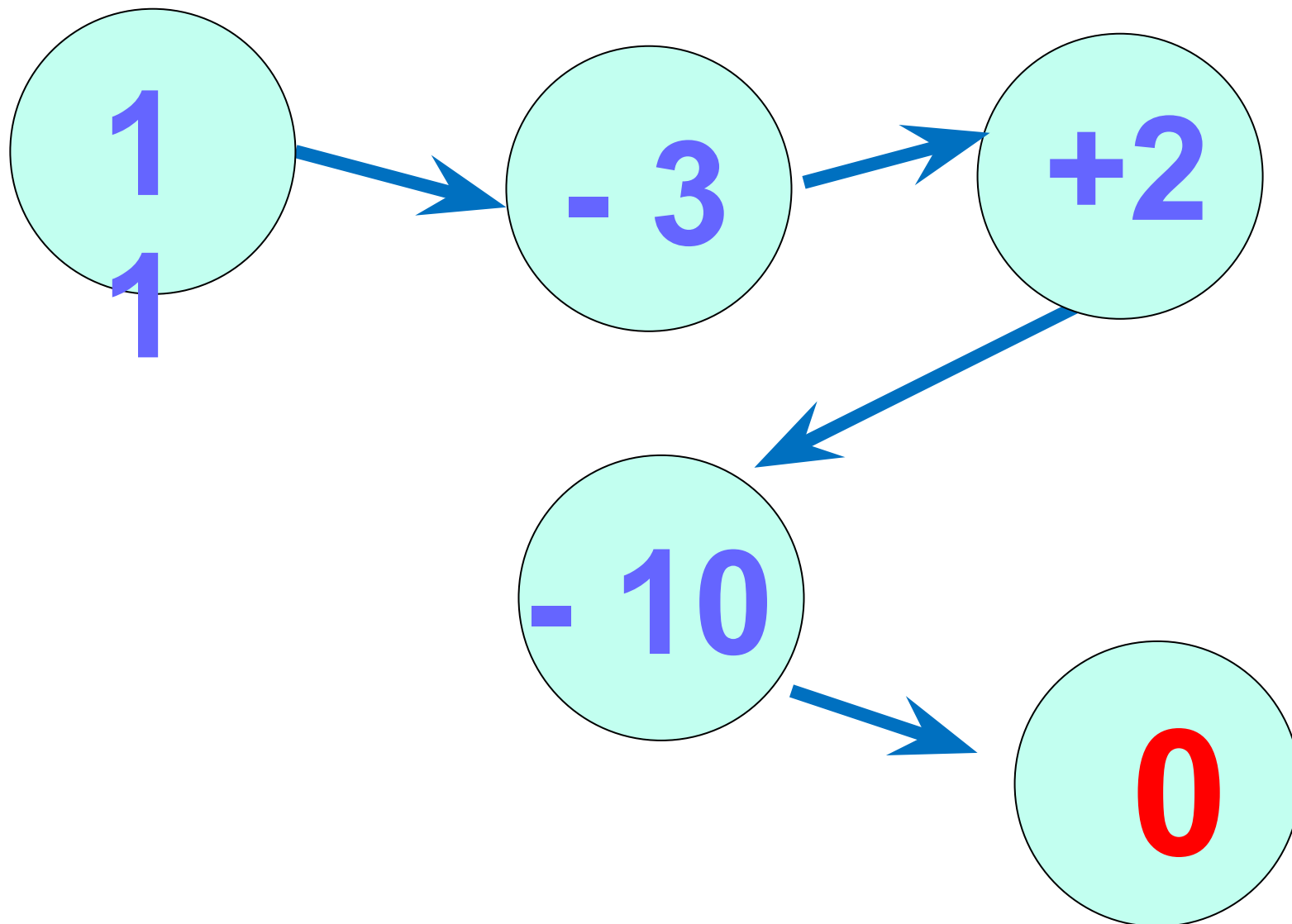
# УСТНЫЙ СЧЁТ

$$2 + 2 =$$

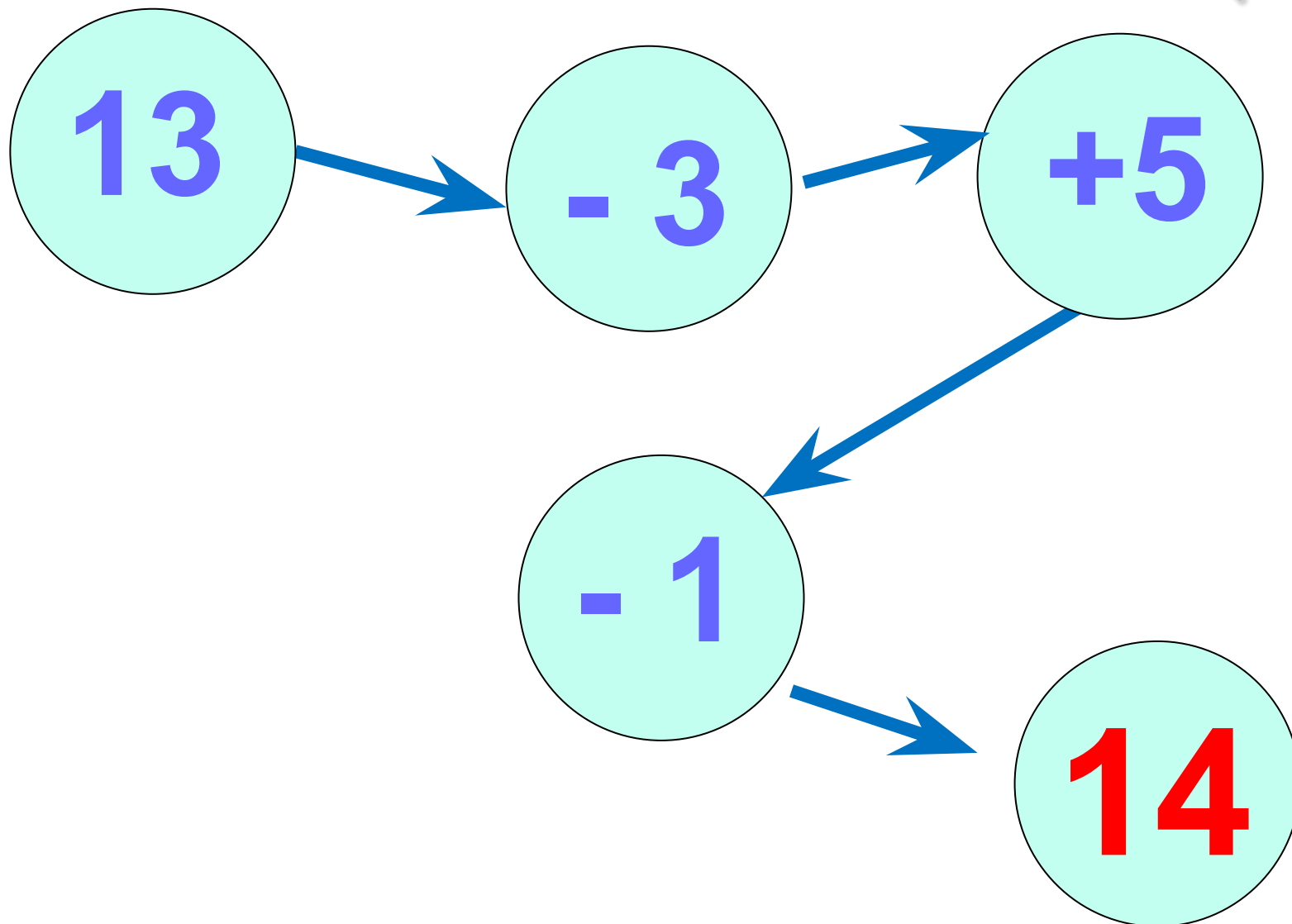
$$6 - 4 =$$



Реши цепочки примеров.



Реши цепочки примеров.



Дополни числа до 10.



7

5

9

6

8

3

5

1

4

2


Катя, Галя и Оля спрятали игрушки – медвежонка, зайчика и утёнка. Кто какую игрушку спрятал, если известно, что Оля не прятала ни зайчика, ни медвежонка. А Катя не прятала зайчика.



Галя

Катя

Оля



У Тани было 5 орехов. Когда она отдала 1 орех брату, то у них стало поровну орехов. Сколько орехов было у брата?



**3 ореха**



.Арбуз весит 3 кг, капуста 1 кг. А тыква столько, сколько капуста и арбуз вместе. Найди массу тыквы.



$$3 + 1 = 4$$

4 кг





# НОВЫЙ МАТЕРИАЛ



Назови в числах количество десятков и единиц.



13

18

15

16

20

Составь примеры на вычитание.



$$10 + 3 = 13$$

$$10 + 7 = 17$$



$$13 - 3 = 10$$

$$17 - 7 = 10$$

$$13 - 10 = 3$$

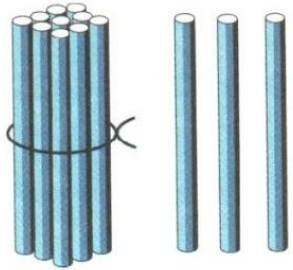
$$17 - 10 = 7$$

# РАБОТА ПО УЧЕБНИКУ

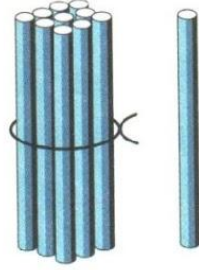


Стр. 52

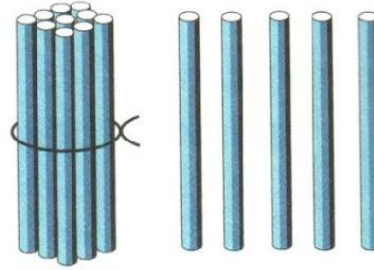
Будем учиться выполнять вычисления вида:  
10 + 7, 17 - 7, 17 - 10.



$$\begin{aligned}10 + 3 &= 13 \\13 - 3 &= 10 \\13 - 10 &= 3\end{aligned}$$



$$\begin{aligned}10 + 1 &= 11 \\11 - 1 &= \square \\11 - 10 &= \square\end{aligned}$$







$$\begin{aligned}10 + 4 &= \square \\14 - 4 &= \square \\14 - 10 &= \square\end{aligned}$$

1.  $10 + 5$        $16 - 6$        $12 - 10$        $10 + 10$   
 $10 + 9$        $17 - 7$        $18 - 10$        $20 - 10$

2. 1) На тарелке было 6 красных помидоров и 2 жёлтых. Сколько всего помидоров?  
2) На тарелке было 8 помидоров. Съели 5 помидоров. Сколько помидоров осталось на тарелке?

3.



4.

Дополни до 10:

8

7

9

6

Увеличь на 10:

5

2

8

6

5.

$3 + 7 - 2$

$16 - 6 + 3$

$20 - 1 - 9$

$6 + 4 - 9$

$17 - 10 + 1$

$20 - 10 + 8$

$2 + 8 - 3$

$14 - 4 + 6$



$20 - 10 - 4$

$10 + 9 = \square$

$19 - \square = 10$

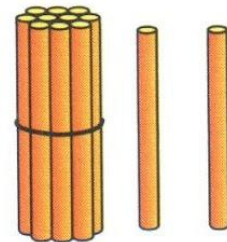

$19 - 9 = \square$

# РАБОТА В ТЕТРАДИ



Стр. 26

1



$10 + 7 =$

$10 + 2 =$


$17 - 7 =$

$12 - 2 =$

$17 - 10 =$

$12 - 10 =$

2





- 1 У Тани 2 синих шарика и 4 красных.  
Сколько всего ... ?

Ответ:

- 2  12  20     14  12     15  17

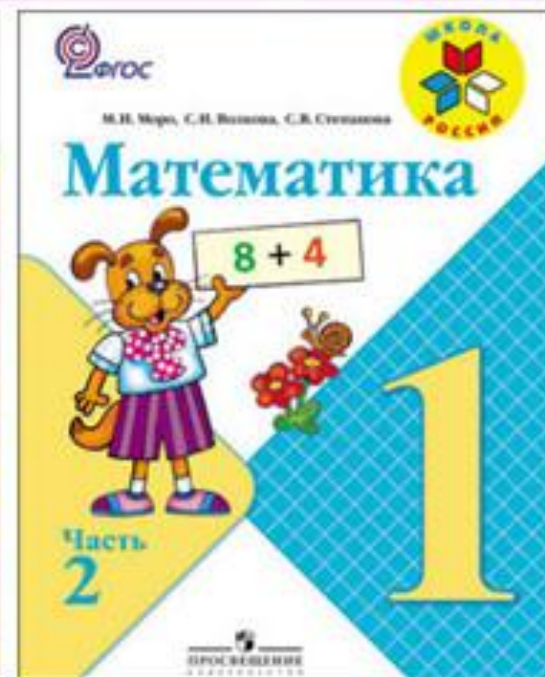



- 3  3 - 3 - 2 =    8 + 2 + 5 =
- 9 - 9 - 4 =    4 + 6 - 3 =
- 6 - 6 - 3 =    7 + 3 + 4 =

- 4 Бабушка взяла несколько морковок и все их  
отдала кроликам: 3 белому и столько же  
серому. Сколько всего ... взяла ... ?

Ответ:

# ЗАКРЕПЛЕНИЕ



Реши примеры.



$$14 - 4 =$$

$$13 - 3 =$$

$$16 - 6 =$$

$$17 - 7 =$$

$$18 - 10 =$$

$$15 - 10 =$$

$$19 - 9 =$$

$$16 - 6 =$$

**конец**