


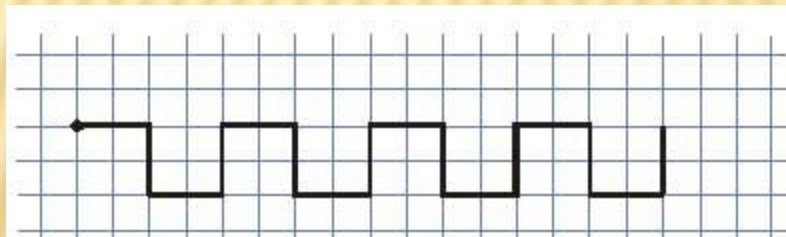
Решение и запись задач в два действия

Минутка чистописания

Вспомни, как пишется цифра 3, из каких элементов состоит. Пропиши через одну клеточку цифру 3



Повтори узор в своей тетради


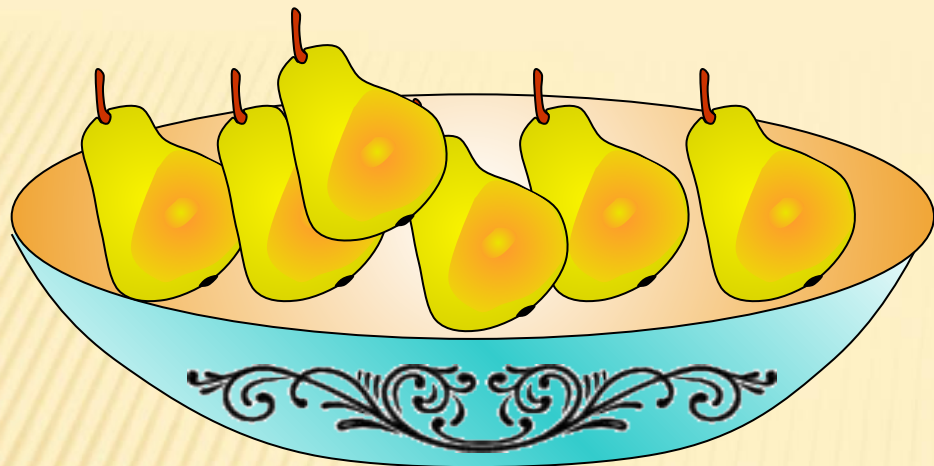


Составь и реши примеры
по картинкам (устно)




$$2 + 3 = 5$$

проверка



$$6 - 2 = 4$$

проверка



$$2 + 2 + 2 = 6$$



проверка



$$5 - 3 = 2$$

проверка

Вспомни ход решения задач в два действия (устно)



На 2 груши больше

?

Задача

Яблоки – 3 фр.

Груши - ? фр., на 2 б.

? фр.

1) $3 + 2 = 5$ (фр.)- во 2 тарелке;

2) $5 + 3 = 8$ (фр.)

Ответ: 8 фруктов в 2 тарелках.

ОТКРОЙ УЧЕБНИК НА С. 63


1. Реши задачу N° 2 (письменно)
2. Реши примеры N° 3 (устно)
3. Реши примеры N° 4 (письменно)

ПРОВЕРЬ СВОЮ РАБОТУ

Задача 2

1 коробка – 6 к.

2 коробка - ? к., на 2 м.



1) $6 - 2 = 4$ (к.) – во 2 коробке;

2) $6 + 4 = 10$ (к.)

Ответ: всего **10** карандашей.

$$10$$
$$12 - 2 - 7 = 3$$

$$13^3 - 10 - 2 = 1$$

$$6^{16} + 10 + 1 = 17$$

$$N^{\circ} 4$$
$$19 - 9 - 1 = 9$$

$$10 + 8 + 0 = 18$$


$$20 - 1 + 0 = 19$$

ОЦЕНИ СВОЮ РАБОТУ

Оцени свою работу



-у меня всё получилось



- я испытываю затруднения



- я ничего не понял