

Соедините стрелкой рисунок анатомического строения листа, стебля с названием экологической группы растений

Перечислите особенности анатомического строения листа, стебля

- 1 _____

- 2 _____

- 3 _____

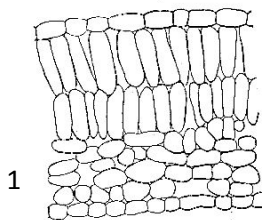
- 4 _____

- 5 _____

- 6 _____

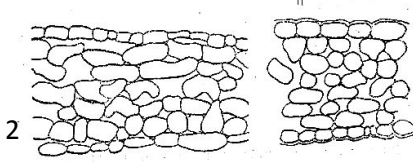
- 7 _____

- 8 _____



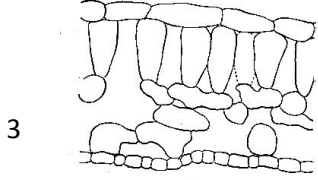
1

ксерофит



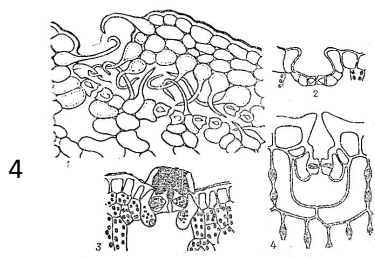
2

гигрофит



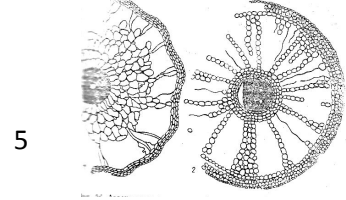
3

гелиофит



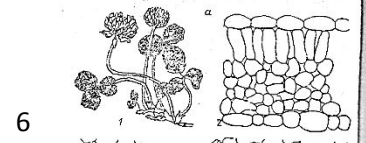
4

мезофит



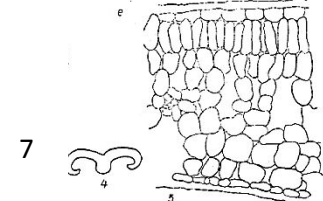
5

строение листа криофитов-подушек



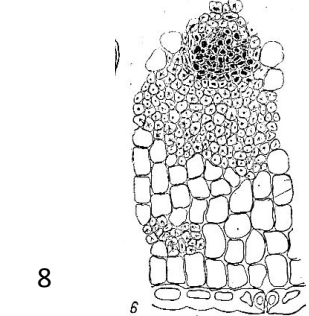
6

сциофит



7

Психрофиты с листьями эрикоидного типа



8