

# Таблица сложения стр. 72

## Урок № 112



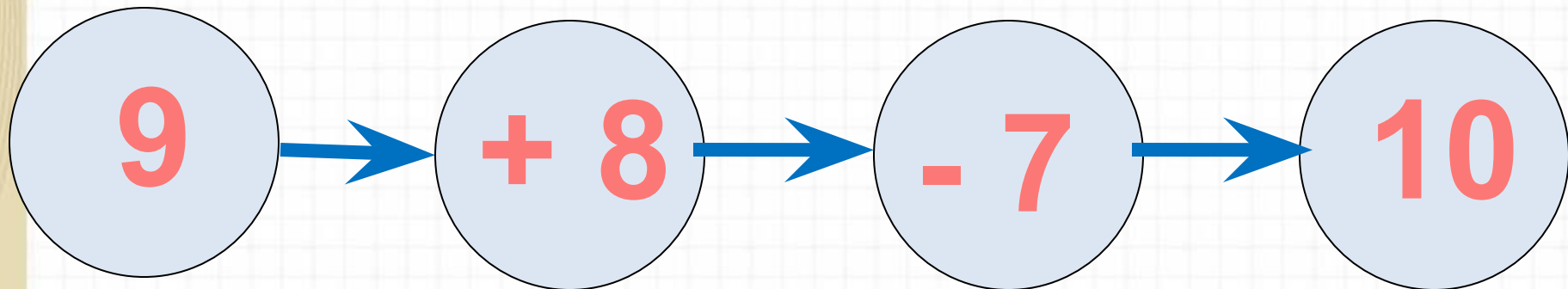
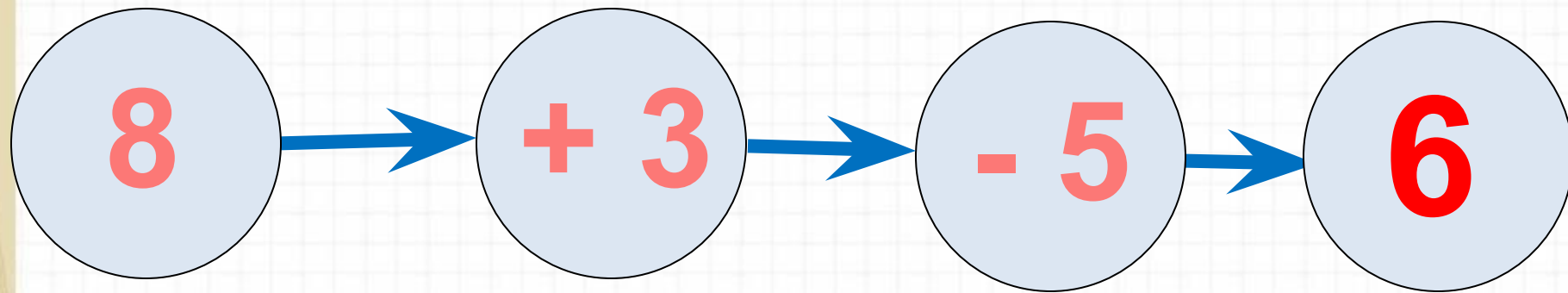
*Школа России  
Математика 1 класс*



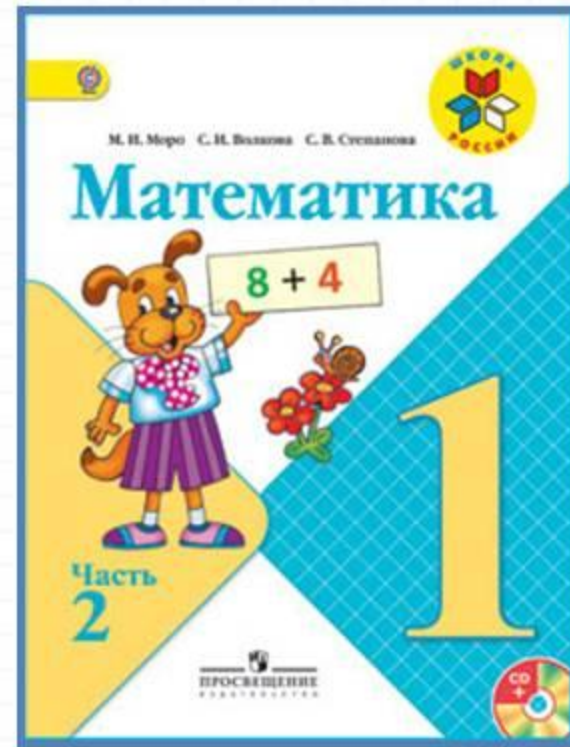


Найди вагончики  
с ответом 14 (устно)

Реши цепочки примеров (устно.)



# Работа по учебнику



стр. 72

Стр.72 № 1 (1)-устно; (2)-  
запиши примеры на  
вычитание ТОЛЬКО для 3  
столбика.

Таблицу выучить!

Стр.73 № 4

# Работа в тетради

стр. 38 (1- 3)



- 1 Мама испекла 5 пирожков, а ватрушек на 2 меньше, чем пирожков. Сколько всего пирожков и ватрушек испекла мама?

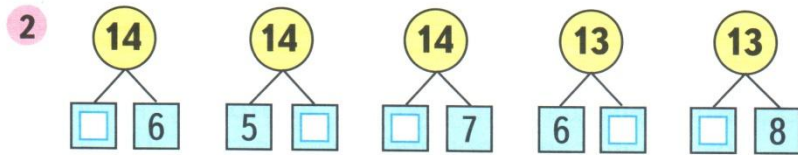
Какой схематический рисунок подходит к этой задаче?

Раскрась его и реши задачу.



Answer grid:

*Ответ:*



- 3 Начерти два отрезка длиной 9 см каждый. На первом отрезке поставь точку так, чтобы получилось два отрезка длиной 4 см и 5 см.

Blank grid for drawing segments.

На втором отрезке поставь точку так, чтобы получилось два отрезка, один из которых на 5 см длиннее другого.