

A world map with a dark background, overlaid with a color-coded map showing population density. The colors range from light blue (low density) to dark red (high density). Major geographical features and regions are labeled in white text: NORTH AMERICA, SOUTH AMERICA, AMAZON BASIN, AFRICA, EUROPE, ASIA, and AUSTRALIA. The map shows high population density in Europe, Asia, and parts of Africa and South America.

НАСЕЛЕНИЕ ЗЕМЛИ

Численность и
воспроизводство
населения

Трудовые ресурсы

ПРОИСХОЖДЕНИЕ ЧЕЛОВЕЧЕСТВА И ЕГО РАСПРОСТРАНЕНИЕ НА ЗЕМЛЕ

АНТРОПОЛОГИЯ – наука, изучающая происхождение, развитие и особенности человека.


НАПРАВЛЕНИЯ АНТРОПОЛОГИИ

Моногенизм	Полигенизм
Единое происхождение для всего человечества	Каждая раса от собственного корня

РОДИНА ЧЕЛОВЕКА - зона Великого Восточно - Африканского рифтового разлома 70-е годы XX в. кенийские ученые Луис и Мэри Лики - останки древнего человека (1,7 млн. лет)

НОМО SAPIENS – 50-100 тыс. лет назад

ГЕОГРАФИЯ НАСЕЛЕНИЯ – **наука о численности и размещении** **населения** **на Земле**



**География
населения**

ДЕМОГРАФИЯ - наука о
закономерностях
воспроизводства населения,
изучающая его численность,
естественный прирост,
возрастной и половой состав

ЭТНОГРАФИЯ – наука
изучающая народы (этнос), их
происхождение, состав,
расселение, культурно-бытовые
особенности

Страны-лидеры по численности населения



ПЕРЕПИСЬ НАСЕЛЕНИЯ –

информация о численности населения

Первые переписи: III век до н.э. - Китай, Индия

**Регулярно: XVIII в. - Австро-Венгрия,
Скандинавские страны, США.**

Почти все страны: XXI –XX вв.

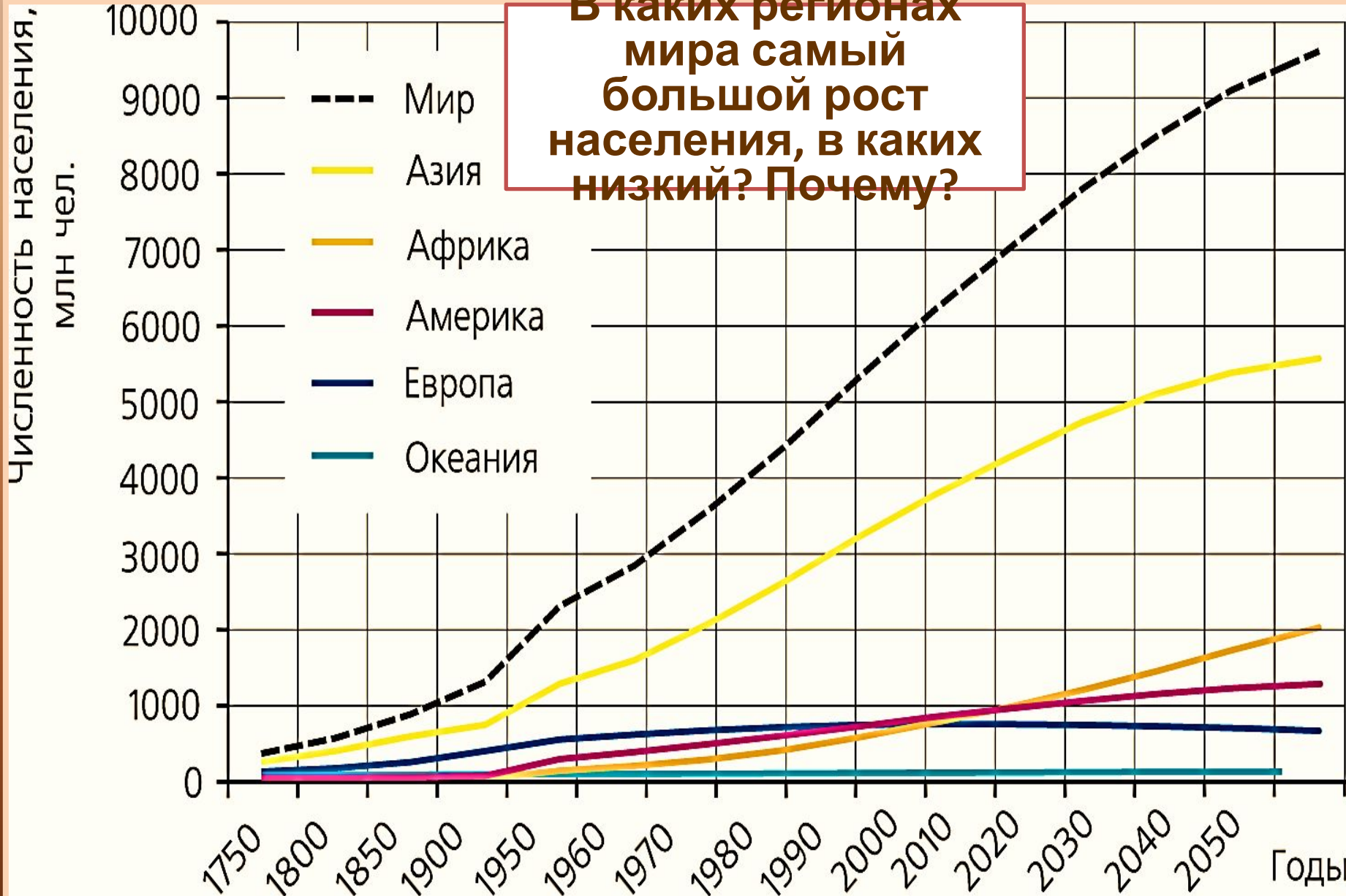
80% населения – 1950 год

ООН – каждые 10 лет

ЗАДАНИЕ

Схема 8 на стр. 92 «Динамика численности населения на Земле». Сделать выводы

ЧИСЛЕННОСТЬ И ДИНАМИКА НАСЕЛЕНИЯ



ЧИСЛЕННОСТЬ И ДИНАМИКА НАСЕЛЕНИЯ МИРА

- ✓ Последние 150 лет население Земли росло высокими темпами
- ✓ Каждую секунду рождается 3 человека
- ✓ Каждый час - 10,5 тысяч человек
- ✓ 70% населения проживает на 7% суши

Демографический взрыв - резкий прирост населения

Земли

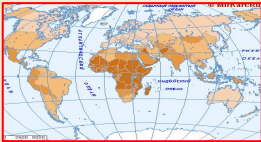
ДЕМОГРАФИЧЕСКИЕ ПОКАЗАТЕЛИ

Абсолютные	Относительные (‰)
Естественный прирост (убыль): рождаемость и смертность	Коэффициент рождаемости
	Коэффициент смертности
Механический рост: сальдо между иммигрантами и эмигрантами	Коэффициент младенческой смертности

ВОСПРОИЗВОДСТВО НАСЕЛЕНИЯ

Воспроизводство (естественное движение) населения - совокупность процессов рождаемости, смертности и естественного прироста, которые обеспечивают непрерывное возобновление и смену людских поколений.

$$ЕП = Р - С$$



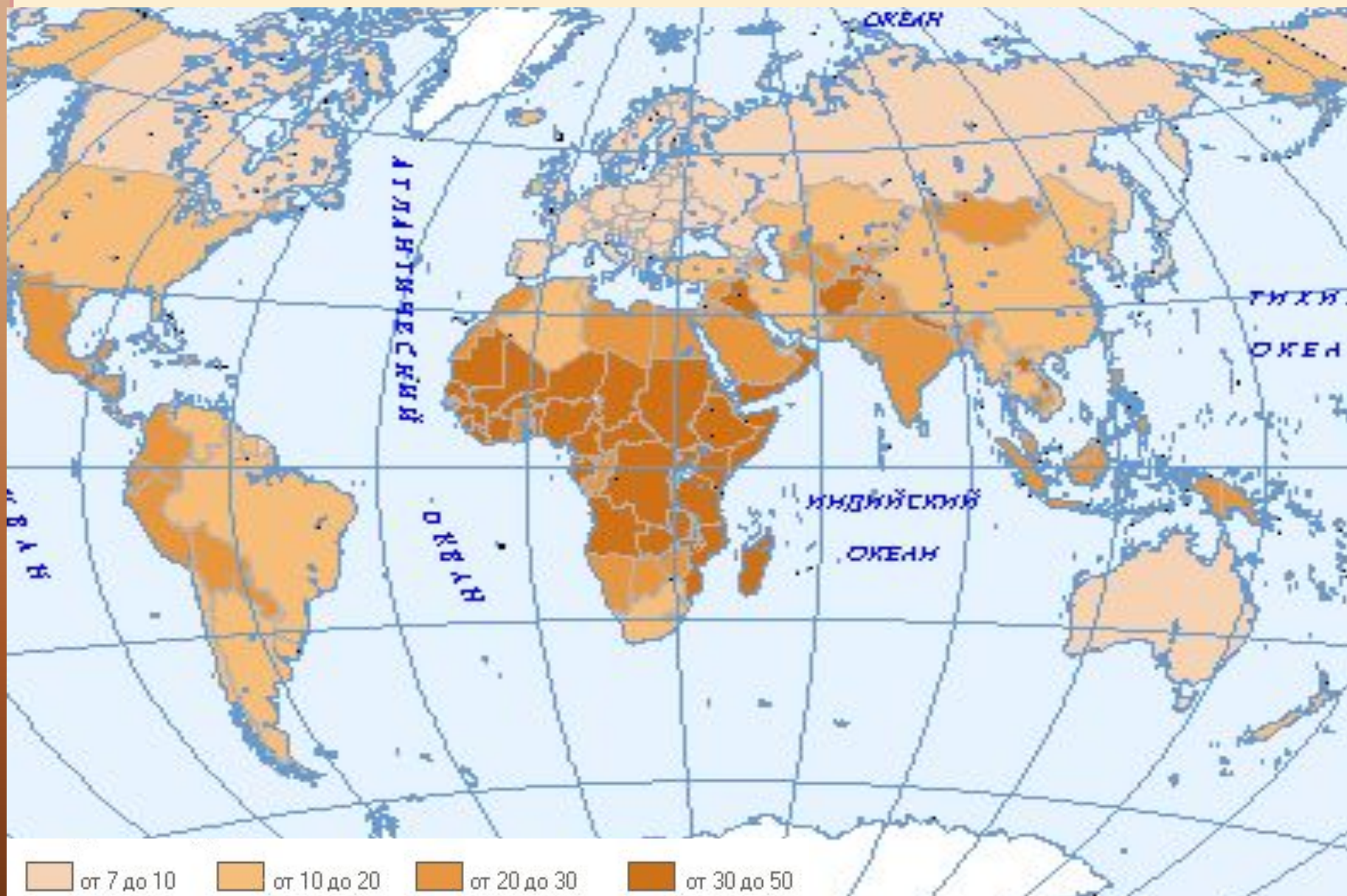
ЕП естественный

Р прирост
рождаемость

С смертность

Естественный прирост может быть
положительным и отрицательным

РОЖДАЕМОСТЬ В СТРАНАХ МИРА



СМЕРТНОСТЬ В СТРАНАХ МИРА



Смертность (%)

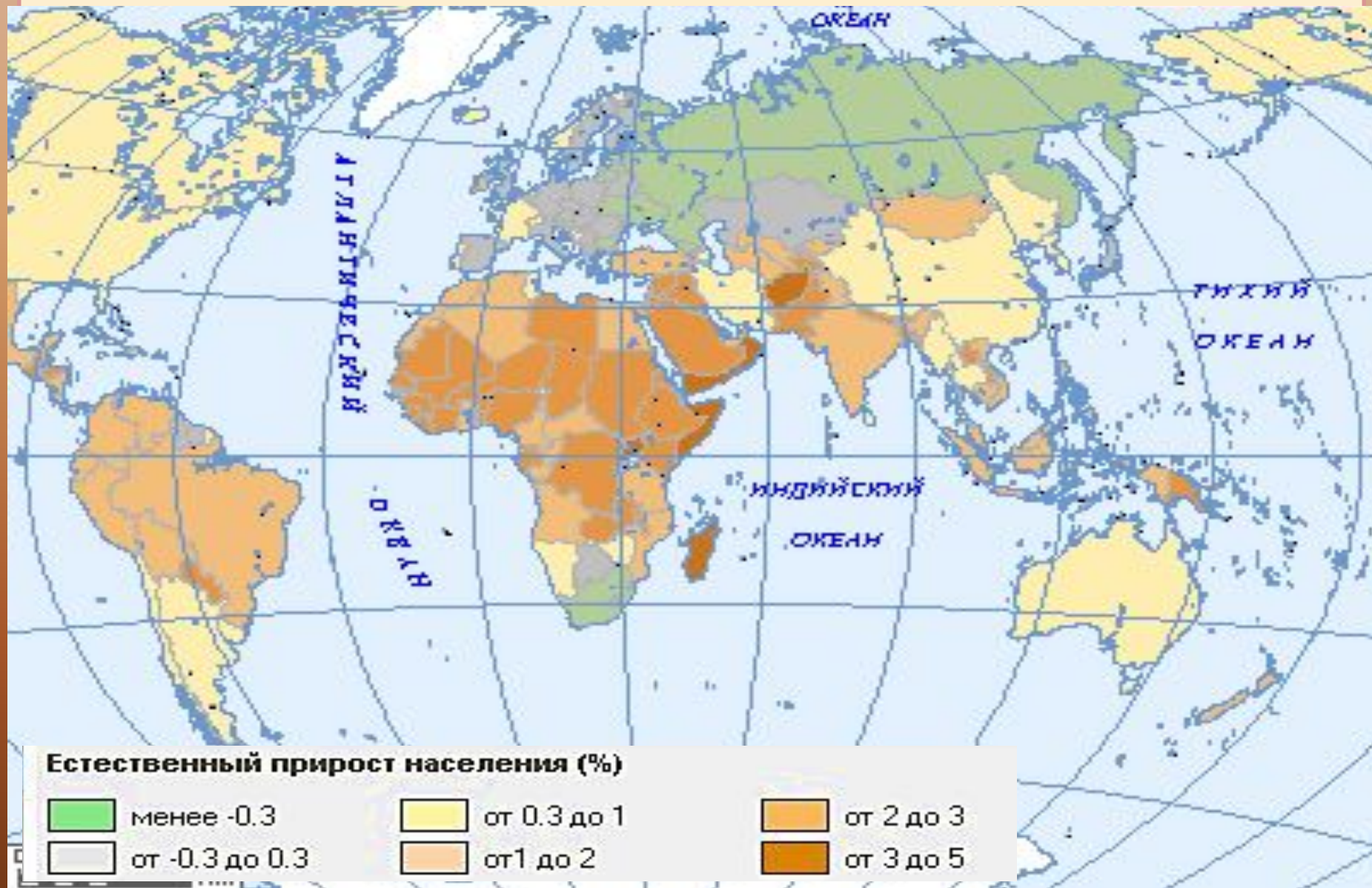
от 2 до 5

от 5 до 10

от 10 до 15

от 15 до 30

ЕСТЕСТВЕННЫЙ ПРИРОСТ



1 вариант

Проанализируйте демографические показатели регионов мира.

Сделайте вывод.
(Схема 9, стр.93)

2 вариант

Сравните среднюю продолжительность жизни в отдельных странах.

Сделайте вывод.
(Схема 10, стр.94)

3. Назовите факторы, влияющие на естественный прирост населения:

- ✓ Уровень жизни, в том числе материальные факторы;
- ✓ Условия жизни людей, уровень развития и доступности здравоохранения, питания, условия труда и быта;
- ✓ Структура населения (половая, возрастная, брачная);
- ✓ Образ жизни (городской и сельский):

низкий

2‰

Болгария, Австрия, Италия, Россия

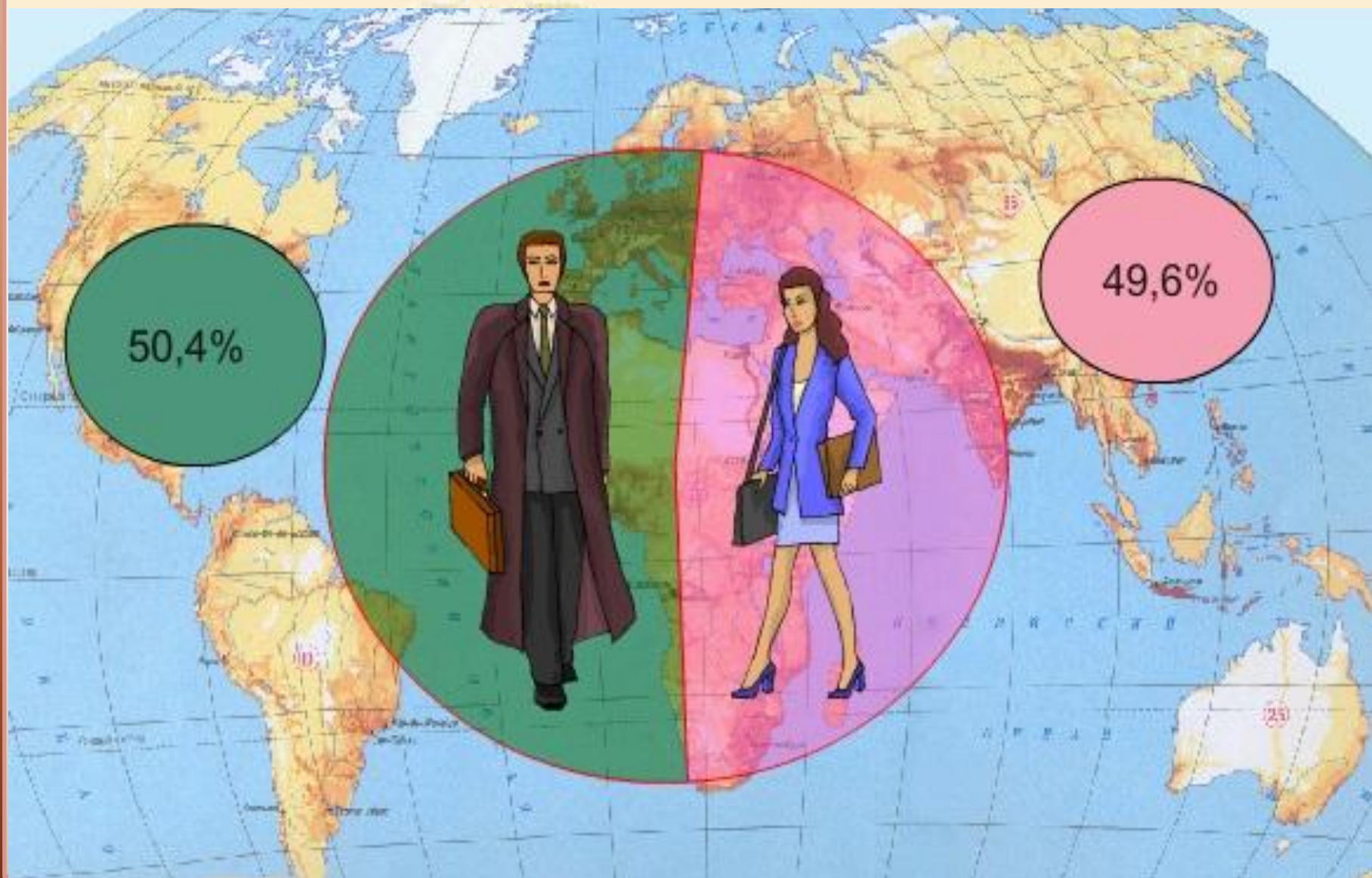
✓ Занятость женщин в общественном производстве:

ТИПЫ ВОСПРОИЗВОДСТВА НАСЕЛЕНИЯ

Тип		Показатель			Регион	Особенности
		Р	С	ЕП		
1	Современный	Н	Н	Н	Европа, США, Россия, Австралия, Канада Австралия, Япония	До 14 лет - 22% От 65 лет - до 15%
	Переходный	В	Н	В	Латинская Америка, Азия, Океания	Высокая рождаемость при снижении смертности
2	Традиционный	О В	В	ОВ	Африка, Азия (начальбыль страны)	До 14 лет - 45% От 65 лет - до 2%

Депопуляция – естественная убыль населения

ФАКТЫ...



ДЕМОГРАФИЧЕСКАЯ ПОЛИТИКА

Демографическая политика – это система мер (административных, экономических), направленных на регулирование процесса воспроизводства населения

Демографическая политика (современный

Демографическая политика



стерилизация
населения

ПОЛОВОЗРАСТНАЯ СТРУКТУРА ПОКАЗЫВАЕТ СООТНОШЕНИЕ ПОЛОВ И ВОЗРАСТОВ

Возрастной состав населения мира

1	Прогрессивны й	Высокий удельный вес детей в численности населения	Схема 11 стр. 97 Приведите примеры стран
2	Стационарны й	Доля детей и пожилых людей приблизительной одинакова	
3	Регрессивный	Увеличение доли пожилых людей в общей численности населения	

ПОЛОВОЙ СОСТАВ НАСЕЛЕНИЯ МИРА



Периодического
запыла

ВОЗРАСТНО-ПОЛОВАЯ ПИРАМИДА



В развитых странах основание пирамиды узкое. Это свидетельствует о низкой доли детей в возрастной структуре населения и высокой доли пожилого населения

ВОЗРАСТНО-ПОЛОВАЯ ПИРАМИДА



Дайте характеристику половозрастной структуры населения Республики Казахстан (схема 12, стр. 98).

Сделайте вывод.
населения развивающихся стран

ТРУДОВЫЕ РЕСУРСЫ МИРА

Возрастная структура населения определяет его производительную силу: трудовые ресурсы.

Удельный вес трудовых ресурсов – 61,2%.

Экономически активное население – показатель вовлечения населения в производство.

ЭАН – работающие и безработные (в активном поиске работы)

Средний показатель экономически активного населения - 45% (около 3 млрд человек)

Регионы	ЭАН в %
Страны Зарубежной Европы, Россия, Северная Америка	50-60%
Страны Азии, Африки, Латинской Америки	25-30%
Казахстан	52%

ОТРАСЛИ ЗАНЯТОСТИ

Первичный сектор	Лесное и сельское хозяйство, рыболовство и охота
Вторичный сектор	Промышленность, строительство и транспорт
Непроизводственный сектор	Аппарат управления, образование, наука и научное обслуживание, культура, медицина, искусство

По схеме 13, стр. 100 сравните показатели современной структуры рынка труда в развитых и развивающихся странах с мировыми показателями.

Чем объяснить различный удельный вес работающих в отраслях экономики?

**Назовите страны с численностью населения
более 1 млрд. человек**



Найди лишнее



1. Страны 1 типа воспроизводства
2. Страны 2 типа воспроизводства
3. Высокая доля молодого населения
4. Высокая плотность населения
5. Страны Азии
6. Высокая доля пожилого населения
7. В этих странах наблюдается «демографический взрыв»
8. В этих странах наблюдается «демографический кризис»

ТЕСТ

1. Выберите страну, которая по численности населения выше, чем в России?

А. Германия

★ В. Япония

2. Что такое «демографический взрыв»?

А. Резкое снижение смертности ★ В. Резкое увеличение прироста населения

3. В какой из перечисленных стран средняя продолжительность жизни населения наибольшая?

★ А. Испания

В. Перу

Б. Руанда

Г. Киргизия

4. Выберите страну, в которой численность населения наибольшая?

А. США

В. Россия

5. Из перечисленных стран наибольшая смертность характерна для:

★ Б. Мексика

Г. Германия






А. Афганистана и Чада

В. Дании и Австрии

Б. ОАЭ и Бахрейна

Г. Аргентины и Эквадора

ТЕСТ

1. Возрастная структура населения с высокой долей пожилых людей и низкой долей детей свойственна странам:
А. Развивающимся  Б. Развитым
2. Деление населения на группы по половому, возрастному и другим показателям называется:
А. Сортировкой  В. Структурой
Б. Группировкой Г. Классификацией
3. Мужское население преобладает в странах:
А. России и Иране  Б. Китае и Саудовской Аравии В. Германии и Франции
Г. Ни в одной из стран
4. В какой из стран доля пожилого населения является наиболее  высокой:
А. Япония В. Кения
5. Часть трудоспособного населения, занятого в материальном производстве и сфере услуг, называется:
А. Трудовыми ресурсами  Б. Экономически активным населением

Назовите страны в которых доля молодых людей высокая, пожилых - низкая



Судан



Германия



Эфиопия



Швеция



Дания



Нигерия



Непал



Италия



Люксембург



Сомали

Судан
Эфиопия
Нигерия
Непал
Сомали

Назовите страны с 1 типом воспроизводства



Судан



Германия



Эфиопия



Швеция



Дания



Нигерия



Непал



Италия



Люксембург



Сомали

Германия
Швеция
Дания
Италия
Люксембург

ЧИСЛЕННОСТЬ И ВОСПРОИЗВОДСТВО

НАСЕЛЕНИЕ

1

Наука о закономерностях воспроизводства населения, изучающая его численность, естественный прирост, возрастной и половой состав

2

Естественная убыль населения

3

Наука о происхождении народов и взаимоотношениях между ними

4

Система административных, экономических, пропагандистских мероприятий, направленных на регулирование рождаемости

5

Резкое увеличение численности населения

СОСТАВ НАСЕЛЕНИЯ МИРА

1

Часть трудоспособного населения, занятая в материальном производстве и непроизводственной сфере

2

Прогрессивная, стационарная, регрессивная

3

В Китае, Индонезии, Кувейте, Индии

4

В развивающихся странах

5

Неработающих, но активно ищущих работу

Выберите верные утверждения		Да	Нет
1	«Демографический взрыв» характерен прежде всего для развитых стран		<input checked="" type="radio"/>
2	Первенство по численности населения принадлежит Китаю	<input checked="" type="radio"/>	
3	Для первого типа воспроизводства характерны высокая рождаемость и смертность		<input checked="" type="radio"/>
4	Демографическая политика развитых стран направлена на повышение рождаемости	<input checked="" type="radio"/>	<input checked="" type="radio"/>
5	Основной прирост населения Земли происходит за счет развитых стран		<input checked="" type="radio"/>
6	Современный тип воспроизводства отличается высокой рождаемостью и высокой смертностью		<input checked="" type="radio"/>
7	Россия по численности населения опережает Пакистан и Нигерию		

Выберите верные утверждения

Да

Нет

1	В мире преобладает женское население		<input checked="" type="radio"/>
2	Население в стране считается старым, если доля жителей старше 65 лет во всем населении превышает 7-10%	<input checked="" type="radio"/>	
3	Структура занятости населения зависит от уровня социально-экономического развития страны	<input checked="" type="radio"/>	
4	Доля детей в отдельных странах Африки, Азии и Латинской Америки достигает 40%	<input checked="" type="radio"/>	
5	Один из наибольших показателей численности детских возрастов характерен для Зарубежной Европы		<input checked="" type="radio"/>
6	В развивающихся странах большая часть населения занята в промышленности		<input checked="" type="radio"/>
7	В Азии преобладает женское населения		<input checked="" type="radio"/>

Самостоятельная работа

1. Численность населения Земли в настоящее время составляет:

А. 10,1млрд.
чел

В. 15,3 млрд.
чел

Б. 3,5 млрд.чел

Г. > 7 млрд.чел



2. Какая из перечисленных стран входит в пятерку крупнейших стран по численности населения?

А. Япония

В. Мексика

Б. Франция

Г. Индонезия



3. В какой из перечисленных стран рождаемость населения выше?

А. Ангола

В. США

Б. Франция

Г. Япония



1. Расположите страны в порядке возрастания в них численности населения.

А. Индия

В. Беларусь

Б. Россия

Г. Ватикан

Ответ

1	2	3	4
Г	В	Б	А

2. Расположите страны в порядке возрастания естественного прироста населения (на 1 тыс. жителей)

А. Замбия

В. Бразилия

Б. Литва

Г. США

Ответ

1	2	3	4
Б	Г	В	А

1. В какой из перечисленных стран доля детей (до 15 лет) в возрастной структуре населения выше?



А. Саудовская
Аравия

Б. Канада

В. Испания

Г. Япония

2. В какой из перечисленных стран в половой структуре населения преобладают мужчины?

А. Канада

Б. Германия



В. Пакистан

Г. Финляндия

3. В какой из перечисленных стран в половой структуре населения преобладают женщины?

А. Турция

Б. ОАЭ



В. Австрия

Г. Алжир


ВОПРОСЫ

1. Какой из типов воспроизводства появился раньше? Почему?

2. Почему в развивающихся странах сохраняется традиция большой семьи?

3. На что направлена демографическая политика?

4. Каким образом возрастная структура зависит от типа воспроизводства населения?
Население каких групп преобладает в каждом типе производства?



Объясните разницу в

Прогрессивная > детей