

**20 апреля.
Классная работа.**



Расположите числа в порядке возрастания:

75

97

52

26



41


39


18


83






 $8 + 4 =$ 

 $6 + 8 = 14$


 $- 8 = 7$


16  $= 8$


$11 - 5 =$ 

 $+ 8 = 17$

 $9 = 9$

$12 - 4 =$ 

$12 - 3 =$ 

7  $= 14$

16	26
6	25

Поста



СКОЛЬКО
КВАДРАТОВ?



26. 1) Прибавляй к трём по 3 до 30.
2) Вычитай из 30 по 3 до нуля.

27. Не вычисляя значений выражений, проверь, верны ли равенства.

$$60 - 47 = 58 - 45$$

$$26 + 65 = 65 + 26$$

$$48 \cdot 2 = 2 \cdot 48$$

$$14 \cdot 5 = 5 \cdot 14$$

28. 3 см 5 мм 35 мм | 2 см 4 мм 42 мм
7 дм 6 см 8 дм | 1 дм 9 см 15 см

29. Вычисли удобным способом.

$$8 + 39 + 12 + 21$$

$$6 + 17 + 14 + 3$$

$$28 + 27 + 2 + 3$$

$$65 + 7 + 5 + 23$$

$$38 + 19 + 2 + 1$$

$$56 + 25 + 4 + 5$$

30. Запиши выражения и вычисли их значения:

- 1) Из числа 80 вычтешь сумму чисел 6 и 9.
2) Сумму чисел 35 и 45 уменьшить на 60.

31. В букете у Юли было 35 цветков: ромашки и васильки. На сколько больше было васильков, если ромашек было 15?

32. В ведре столько литров воды, сколько в большой и маленькой лейках вместе. В большой лейке 8 л воды, а в маленькой на 3 л меньше. Сколько литров воды в ведре?

33. 1) Найди длину ломаной.
2) Начерти ломаную такой же длины, но из двух звеньев.
3) Запиши в таблице, какой длины может быть при этом каждое звено ломаной в сантиметрах.

Длина первого звена	1 см					
Длина второго звена	11 см					

34. В
30

35. 85
71

36. П
1)
2)

37. За
1)
2)

38. П
и
4
6

39. Н
д

40. Р
д

41. Д
в
п

42. К
и
н
в

43. Е
н

44. У

у за

Стр.68 №26

1) $3 + 3 = 6$

$6 + 3 = 9$

$9 + 3 = 12$

$12 + 3 = 15$

$15 + 3 = 18$

$18 + 3 = 21$

$21 + 3 = 24$

$24 + 3 = 27$

$27 + 3 = 30$

2) $30 - 3 = 27$

$27 - 3 = 24$

$24 - 3 = 21$

$21 - 3 = 18$

$18 - 3 = 15$

$15 - 3 = 12$

$12 - 3 = 9$

$9 - 3 = 6$

$6 - 3 = 3$

$3 - 3 = 0$

Стр.68 №28

28. Сравни

$$3 \text{ см } 5 \text{ мм} = 35 \text{ мм}$$

$$35 \text{ мм} = 35 \text{ мм}$$

$$7 \text{ дм } 6 \text{ см} < 8 \text{ дм}$$

$$76 \text{ см} < 80 \text{ см}$$

$$2 \text{ см } 4 \text{ мм} < 42 \text{ мм}$$

$$24 \text{ мм} < 42 \text{ мм}$$

$$1 \text{ дм } 9 \text{ см} > 15 \text{ см}$$

$$19 \text{ см} > 15 \text{ см}$$