



Просторові відношення

Емоційне налаштування.



Встало сонечко давно,
Заирнуло у вікно.
На урок час поспішати,
Математику вивчати.



Організація класу. Вправа «Криголам»

- ❖ Яким ви уявляєте наш урок?
- ❖ Без чого не можна обійтися на уроці?
- ❖ Що вона нам несе?
- ❖ Які наші очікування від уроку?

Успіх, усмішка,
уважність.

У

Розуміння, руху,
роботи.

Р

Ознайомлення,
організованість.

О

Користь.

К



Психологічне налаштування на урок. Вправа - правила уроку
«Дай мені 5».



Вправа - правила уроку «Дай мені 5».



**РОТИК
МОВЧИТЬ**



Вправа - правила уроку «Дай мені 5».



Очі
ДИВЛЯТЬСЯ



Вправа - правила уроку «Дай мені 5».



Руки, ноги не
рухаються



Вправа - правила уроку «Дай мені 5».



Голова
працює




Дай мені
5

Розминка. Перевір, чи відповідає кількість зображених об'єктів числу.



A collection of illustrations with numbers, used for a counting exercise. The illustrations are: 3 fish (top left), 2 mice (top middle), 5 frogs (top right), 8 ants (top far right), 6 chickens (middle left), 1 cat (middle middle), 10 wheat stalks (bottom middle), 9 donuts (bottom left), 4 mushrooms (bottom middle), and 6 apples (bottom right). Each illustration is enclosed in a light-colored oval and has a number in a pink box connected to it by a line.

Відповідає кількість зображених об'єктів числам?



Гра «Хто уважніший?»

Розгляньте уважно класну кімнату.
Що у класі можна
позначити
цифрами 1, 2, 3
...?



1 КНИЖКА
2 ВІКНА
3 СТІЛЬЦЯ

Повідомлення теми та завдань уроку



- Сьогодні ми будемо говорити про просторові відношення та лічити предмети.



Робота за малюнком

- ❖ Скільки метеликів; папуг?
- ❖ Скільки тварин? Хто де?




Робота з підручником. Робота за малюнком

Скільки рибин у лівій
руці хлопчика в
кепці? А в хлопчика
без кепки? Скільки в
правій?



Робота з підручником. Робота за малюнком










- ❖ Якого кольору шапинки грибів ліворуч від ялинки?
- ❖ А праворуч?








Попрацюйте з математичними матеріалами.



Лічба предметів. Скільки цеглинок на полі? Скільки червоних?
Жовтих? Зелених? Синіх?



Уважно виконуй інструкцію, щоб правильно розташувати цеглинки.



Рухлива вправа



РУХЛИВА

ВПРАВА



Рухлива вправа



РУХЛИВА

ВПРАВА




Робота в зошиті сторінка 6




Настанова вчителя. Сиди правильно. Пиши правильно



Тренувальні вправи.




Тренувальні вправи. Розфарбуйте м'ячик під столом.




Тренувальні вправи. Підкресли рибок, які пливуть зліва від каменя.






Розфарбуйте пірамідку, що у правій руці.



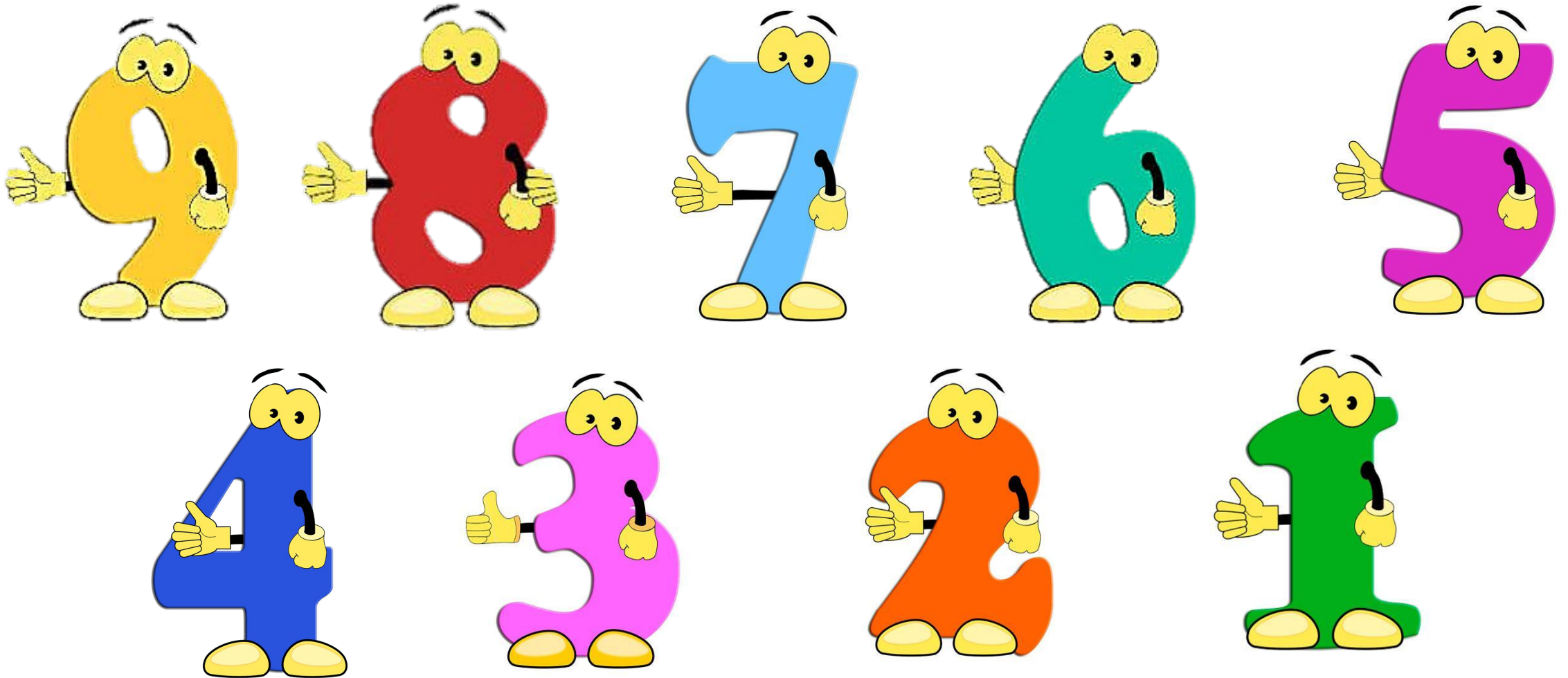
Обведи іграшки, що розміщені між м'ячем та дзигією.




Полічи цифри на полі по порядку від 1 до 9.



Полічи цифри на полі по порядку від 9 до 1.



Рефлексія «Емоційна ромашка». Оберіть відповідну цеглинку
LEGO



Мені під силу
всі завдання

Було складно
та не зрозуміло

Все було
легко та

Мені
потрібна