

Проверочная работа по биологии 6 класс ПРИРОДНЫЕ ЗОНЫ



(пустыня)

учитель МОУ "СОШ № 124"
Перевалова С.В.

Из предложенных растений выберите только те, которые произрастают в тундре.

Наведите курсор мыши на рисунок, если ничего не происходит, значит вы выбрали не верный рисунок.

Пустыня


Саксаул



Пустыня

Перекасти-
поле

Саксаул







Верблюжья
колючка

Пустыня

Перекаати-
поле



Саксаул






Верблюжья
колючка

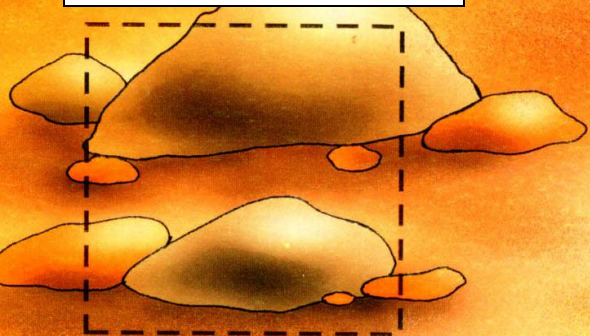


Пустыня



Перекаати-
поле



Песчаная акация



Саксаул





Верблюжья
колючка



Ревень

Пустыня


Перекаати-
поле



Саксаул



Песчаная акация





Верблюжья
колючка



Пустыня

Перекаати-
поле




Ревень







Песчаная акация



Песчаная
осока



Саксаул





Верблюжья
колючка



Ревень




Пустыня

Перекаати-
поле







Саксаул



Песчаная акация



Песчаная
осока



В каждом ряду одно растение
лишнее.

Найдите это растение!

1.



2.



3.



1.



2.



3.



1.



2.



3.



1.



2.



3.

