

# МИРОВОЕ ХОЗЯЙСТВО

---

ПРОВЕРКА ДЗ

1. Что такое НТР. Расшифруйте аббревиатуру и дайте определение.

2. Какие производства следует называть наукоемкими?

В чем заключается разница между эволюционным и революционным путем развития техники и технологий в эпоху НТР?

В чем разница между прогрессом и революцией?

---

Какие значимые быстрые изменения происходили на фоне прогресса в сфере труда?

Главные направления развития производства в эпоху НТР



# МИРОВОЕ ХОЗЯЙСТВО



# СЕКТОРЫ ЭКОНОМИКИ В ХОЗЯЙСТВЕ КАЖДОЙ СТРАНЫ

# СЕКТОРЫ ЭКОНОМИКИ В ХОЗЯЙСТВЕ КАЖДОЙ СТРАНЫ

Первичный – добыча/сельское хозяйство – доиндустриальные страны



# СЕКТОРЫ ЭКОНОМИКИ В ХОЗЯЙСТВЕ КАЖДОЙ СТРАНЫ

**Первичный** – добыча/сельское хозяйство – доиндустриальные страны



**Вторичный** – переработка – индустриальные страны



# СЕКТОРЫ ЭКОНОМИКИ В ХОЗЯЙСТВЕ КАЖДОЙ СТРАНЫ

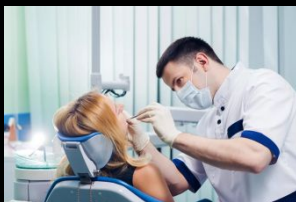
**Первичный** – добыча/сельское хозяйство – доиндустриальные страны



**Вторичный** – переработка – индустриальные страны




**Третичный** – сфера услуг – постиндустриальные страны



# БОЛЬШАЯ СЕМЁРКА ЭКОНОМИЧЕСКИ ВЫСОКОРАЗВИТЫХ СТРАН

1. США 

2. КАНАДА 

3. ГЕРМАНИЯ 

4. ВЕЛИКОБРИТАНИЯ 

5. ФРАНЦИЯ 

6. ИТАЛИЯ 

7. ЯПОНИЯ 

Мировое хозяйство – это

В основе **мирового хозяйства** лежит **мировой рынок**  
А в основе мирового рынка лежит **торговля**

---



В основе **мирового хозяйства** лежит **мировой рынок**  
А в основе мирового рынка лежит **торговля**

**Торговля** → **Мировой рынок** → **Мировое хоз-во**

В основе **мирового хозяйства** лежит **мировой рынок**  
А в основе мирового рынка лежит **торговля**

**Торговля** → **Мировой рынок** → **Мировое хоз-во**

Толчком для развития торговли являлся **взаимообмен товарами** еще на заре становления цивилизации

Толчком для образования мирового рынка являлась **эпоха ВГО**

Толчком для образования мирового хозяйства являлась **промышленная революция**

---

# МГРТ ИЛИ ЗАБОТА О ДРУГИХ

МГРТ – это

# МГРТ ИЛИ ЗАБОТА О ДРУГИХ

МГРТ – это

Основные принципы МГРТ:

1. Производство определенной продукции больше, чем необходимо самой стране
  2. Условия доставки выгодны стране-импортеру
-

Используя данные таблицы, приведенной ниже, сравните долю сельского хозяйства в ВВП и долю сельского хозяйства в общем объеме экспорта Афганистана и Португалии. Сделайте вывод о том, в какой из этих стран сельское хозяйство играет большую роль в экономике. Для обоснования своего ответа запишите необходимые числовые данные или вычисления.

Социально-экономические показатели развития  
Афганистана и Португалии в 2007 г.

Страна	Численность населения, млн чел.	Объем ВВП, млн долл.	Отраслевая структура ВВП, %			Общий объем экспорта, млн долл.	Объем сельскохозяйственного экспорта, млн долл.
			Сельское хоз-во	Сфера услуг	Промышленность		
Афганистан	32,7	21 500	38	38	24	500	200
Португалия	10,6	203	7	65	29	47 000	3800

Установите соответствие между страной и диаграммой, отражающей распределение её экономически активного населения по секторам экономики: к каждой позиции, данной в первом столбце, подберите соответствующую позицию из второго столбца.

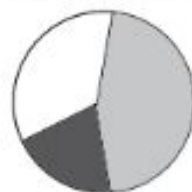
■ – промышленность    ■ – сельское хозяйство    □ – сфера услуг

СТРАНА

РАСПРЕДЕЛЕНИЕ ЭКОНОМИЧЕСКИ АКТИВНОГО НАСЕЛЕНИЯ

А) Дания

1)



Б) Вьетнам

2)



В) Эфиопия

3)



Запишите в ответ цифры, расположив их в порядке, соответствующем буквам:

А	Б	В

Используя данные таблицы, приведённой ниже, сравните доли населения, занятого в сельском хозяйстве, и доли сельского хозяйства в общем объёме экспорта Боливии и Алжира. Сделайте вывод о том, в какой из этих стран сельское хозяйство играет большую роль в экономике. Для обоснования своего ответа запишите необходимые числовые данные или вычисления.

**Социально-экономические показатели развития  
Боливии и Алжира в 2009 г.**

Страна	Численность населения, млн человек	Структура занятости населения, %			Общий объём экспорта, млрд долл.	Объём сельскохозяйственного экспорта, млрд долл.
		Сельское хоз-во	Промышленность	Сфера услуг		
Боливия	9,8	40	17	43	4,8	0,7
Алжир	36,0	14	30	56	60,0	1,0


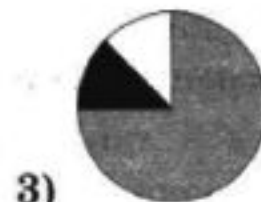
Установите соответствие между страной и диаграммой, отражающей распределение ее экономически активного населения по секторам экономики: к каждой позиции, данной в первом столбце, подберите соответствующую позицию из второго столбца.

■ – промышленность    ■ – сельское хозяйство    □ – сфера услуг

**СТРАНА**

**РАСПРЕДЕЛЕНИЕ  
ЭКОНОМИЧЕСКИ АКТИВНОГО  
НАСЕЛЕНИЯ**

- А) Австрия
- Б) Чад
- В) Китай



Запишите в ответ цифры, расположив их в порядке, соответствующем буквам:

А	Б	В



# САМОСТОЯТЕЛЬНО

1. Бразилия
2. Норвегия
3. Великобритания
4. Судан
5. Пакистан
6. Канада
7. Бангладеш
8. Китай
9. Япония
10. Уругвай

Первичный сектор :

Вторичный сектор :

Третичный сектор :

# САМОСТОЯТЕЛЬНАЯ РАБОТА

Страна	Отрасль международной специализации
--------	-------------------------------------

Не менее 7 стран

