



# Страна чисел



**Страна  
чисел**

**Солнце**

**Гора  
Мозголом**

**Лес  
Дремучка**

**Озеро**

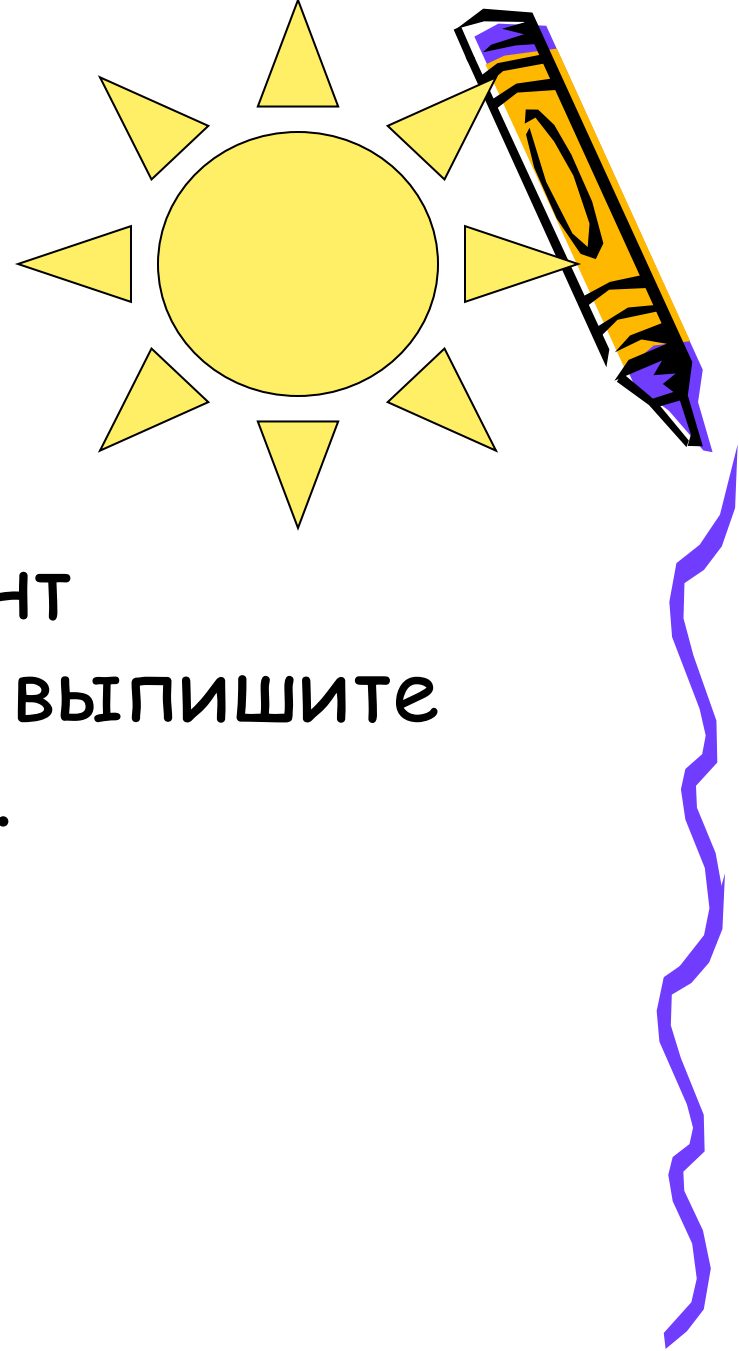
**Замок  
кроссвордный**

**Поляна**

**Дополнительный  
этап**



# 1 этап:



- Математический диктант «Солнечная система» - выпишите все услышанные числа.
- Ответ: 47 чисел





## 2 этап:



- «Замок кроссвордный» - решите кроссворд

- *Ответы:*

1 команда - ПЛЮС, ОТРЕЗОК,  
НЕПРАВИЛЬНАЯ, РАЗРЯД

2 команда - ЗАПЯТАЯ, ДВЕНАДЦАТЬ,  
УМНОЖЕНИЕ, ДЕЛИМОЕ

3 команда - ПЕРЕМЕСТИТЕЛЬНЫЙ,  
КЛАСС, ЕДИНИЦА, УРАВНЕНИЕ




## 3 этап:

- «Озеро» - составите слова
- ЧИСЛИТЕЛЬ
- ЗНАМЕНАТЕЛЬ
- ТРАНСПОРТИР







## 4 этап:



- «Поляна» - составьте числа по возрастанию и узнайте зашифрованное слово
- «Золотник» - старинная русская мера веса = 4 г. Применялась для взвешивания мелких, но дорогих товаров.
- «Гривенник» - старинная русская монета = 10 коп.
- «Десятина» - старинная русская мера измерения длины для измерения площадей земельных участков



# 5 этап:



- «Лес Дремучка»
- 1. Из первой строки выберите наименьшее число
- 2. Из второй строки выберите наибольшее число
- 3. Из третьей строки выберите среднее число
- 4. Найдите сумму этих чисел, это и будет длина тела бобра в дм


Ответ: 7,5 дм



## 6 этап:

- «Горы Мозгодром» - выполните цепочки вычислений
- Какое животное бежит быстрее?
- Гепард 7
- Какая птица может ходить по дну водоёма?
- Олянка 1,7
- Какого зверя отпугивает громкий крик?

Медведь 7







## Дополнительный этап:


- В магазин привезли 200 кг овощей, 15% из них свекла. Сколько кг свеклы привезли в магазин?
- Ответ: 30 кг
- Туристы проплыли на плотах 60 км, что составляет 10% всего пути. Какова длина пути?
- Ответ: 600 км
- Площадь круга возросла от 5 см<sup>2</sup> до 10 см<sup>2</sup>. На сколько процентов возросла его площадь?
- Ответ: 100%





# Подведение итогов

## Спасибо за участие!



№1

# Поздравляем победителей!

