

Однозначные и двузначные числа

Урок № 6



Школа России
Математика 2 класс





Устный счёт



Какое число при счёте следует за
числом:

29 40 58 79 87 99



Какое число при счёте называют перед
числом:

69 48 51 80 37 99



Назови пропущенные числа.



66 67 ... 69 70 ...

... 50 51 52 ... 54

87 88 ... 90 91 ...

В каждой строчке найди самое большое число и самое маленькое.



34 68 89 55 41

84 38 80 42 51

День рождения у
Оксаны.
Я принёс ей **3**
тюльпана,
А Серёжа алых роз
Ровно **9** штук принёс.
Вот беда –она не
может

Сосчитать свои цветы.

Кт
по
Со

12

ЦВЕТОВ

$$3 + 9 = 12$$



После того как девочки съели **3** пирожных, на тарелке

осталось **11** штук. Сколько пирожных было на та

$$11 + 3 = 14 \text{ (п.)}$$



14

На сколько цветов в первой вазе больше, чем во второй?



$$12 - 5 = 7 \text{ (цв.)}$$

на 7

цветов

5



12



Задания на смекалку



Алик, Ваня и Боря жили в разных домах. Два дома были в 3 этажа, один в 2 этажа. Алик и Боря жили в разных домах, Боря и Ваня тоже в разных домах. Кто где жил?




Ван
я

Али
к

Боря



Сколько треугольников на
рисунке?



12 треугольников