


МАТЕМАТИКА



Тема.

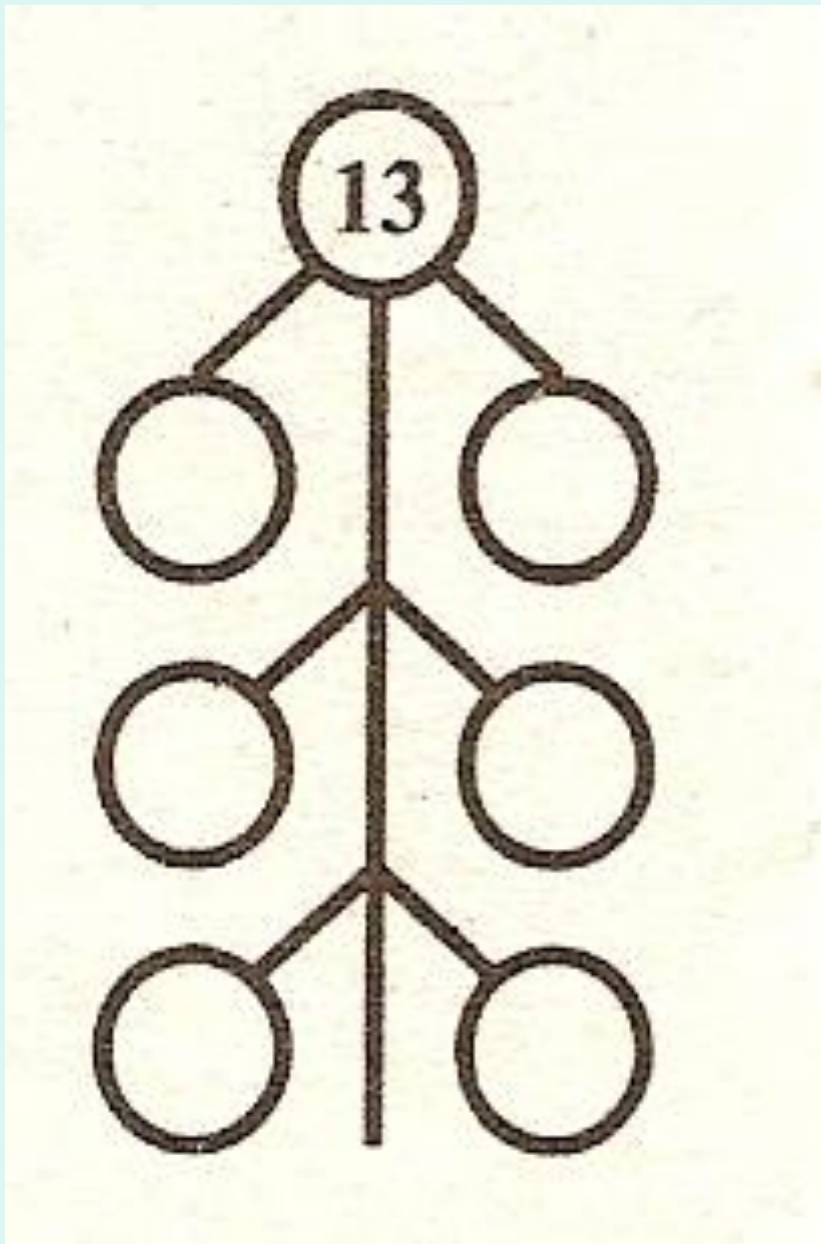
Вычитание вида $13 - \square$



Устный счёт



15, 12, 16.



9

4

8

5

7

6

ЗАПОМНИ

$$13 - 4 = 9$$

$$13 - 5 = 8$$

$$13 - 6 = 7$$

$$13 - 7 = 6$$

$$13 - 8 = 5$$

$$13 - 9 = 4$$

2. Составь по кратким записям задачи и реши их.

У Вали — 10

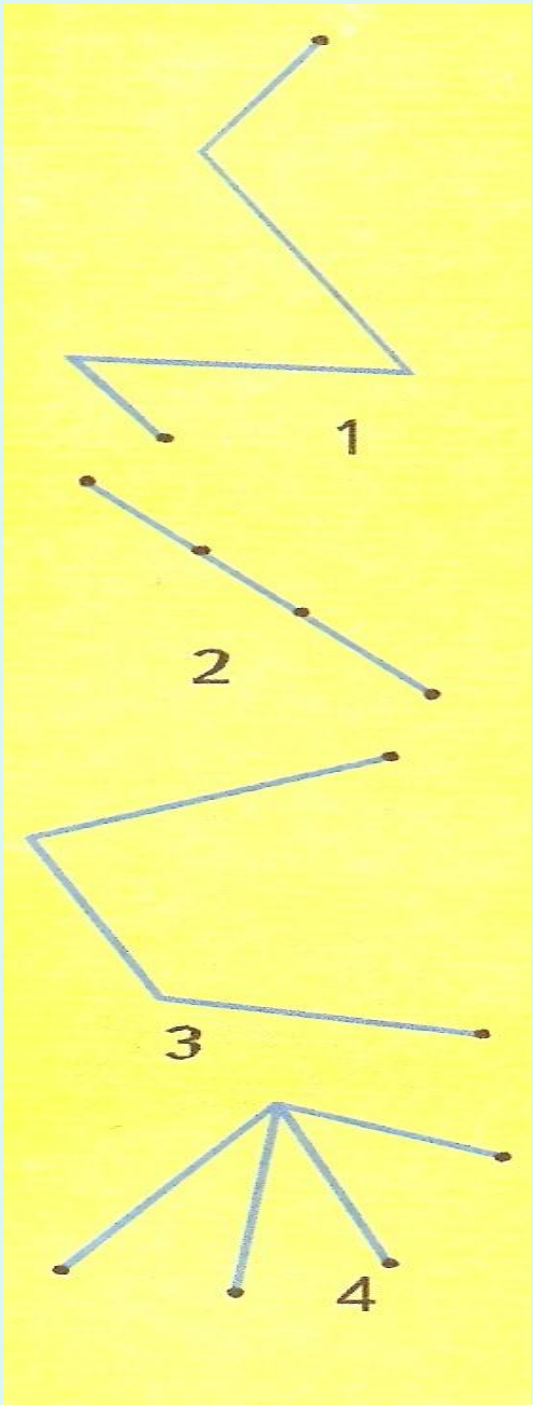
У Лиды — на 2 меньше.

Всего — ... ?

Было — 8

Съели — 5

Осталось — ... ?



1

3

Сравни: $>$ $<$ $=$

$$17 * 10 + 7$$

$$19 * 20 - 1$$

$$1 \text{ дм } 2 \text{ см } * 13 \text{ см}$$

$$1 \text{ дм } 5 \text{ см } * 20 \text{ см}$$

Итог урока

- Что нового для себя вы узнали на уроке?
- Как вы оцениваете свою работу ?

