



Математика

*Вспоминаем,
повторяем.*

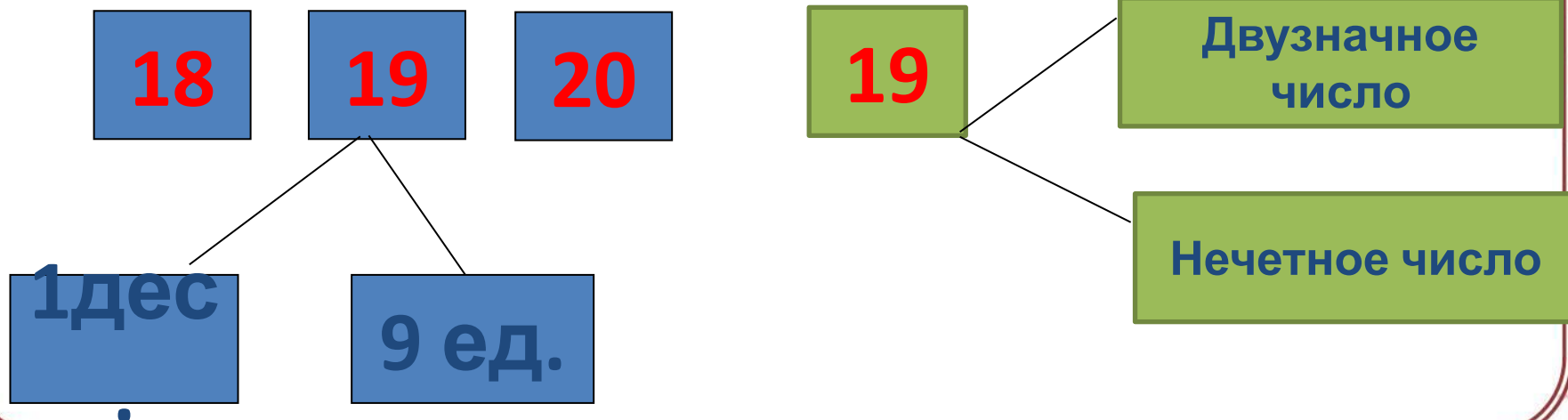




19 мая. Классная работа.



Какие цифры использовали для записи числа **19**?





Выпишите числа, в которых есть 3 десятка.

3, 10, 30, 13, 35.

30,35

Поставьте знак $>$ или $<$.

$9 < 21$

$10 > 0$

$25 < 28$

$47 < 67$

Вычислите:

$40 + 5 = \dots\dots$

$50 + 30 = \dots\dots$

$62 + 6 = \dots\dots$

$38 - 8 = \dots\dots$

$70 - 20 = \dots\dots$

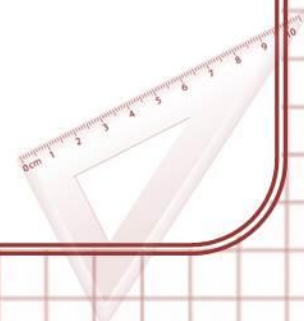
$59 - 4 = \dots\dots$

Исправьте ошибки в вычислениях.

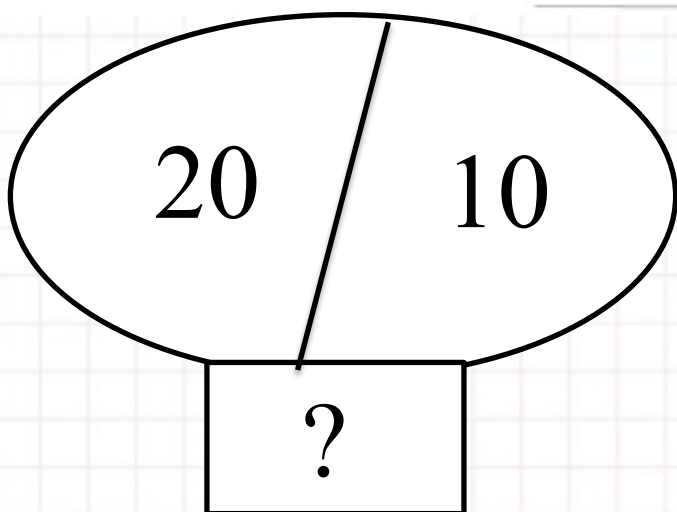
$32 + 4 = \boxed{36}$

$47 - 20 = 27$

$54 + 10 = \boxed{54}$

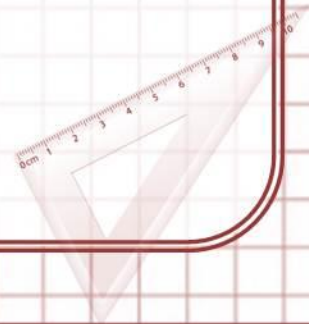


В саду 20 яблонь. Посадили ещё 10 яблонь.
Сколько яблонь стало в саду?




$$20 + 10 = 30(\text{я.})$$

Ответ: 30 яблонь.



Начертите ломаную из трёх звеньев. Одно звено равно 3 см, второе 4 см, а третье 6 см. Найдите длину этой ломаной.



Не вычисляя, определите, в каком случае в ответе получится самое большое число.

- Запишите это выражение.

$37 + 2,$ $37 - 2,$ $37 - 20,$ $37 + 20.$



В магазин привезли игрушки. Рассмотрите таблицу.

Машинки	Куклы	Мячи	Всего
40	30	20	

Сколько привезли игрушек?

Найдите числовое выражение, которое поможет ответить на этот вопрос.

$$40 - 30 - 20$$

$$40 + 30 + 20$$

Запишите решение задачи.

$$40 + 30 + 20 = 90 \text{ (игр.)}$$

Ответ: 90 игрушек всего.



Домашнее задание:

**Выполнить итоговую
контрольную работу на
Учи.ру**