



# 7 саны және цифры

## Сен

- 7 саны нені білдіретінін түсінесің;
- 7 санын қалай алуға болатынын білесің;
- 7 цифрын жазып үйренесің.



## Тірек сөз



**Жеті** саны сандық сәуледе алты санынан кейін тұрады.



## Түстер палитрасы

Әрбір палитрада жеті түстен болу үшін әрқайсысына неше бояудан қосу керек?



**Кемпірқосақта неше түс бар?**

Оларды ата.



## Сандарды салыстыр.

Қай белгіге (>, =, <) бояу жағылып кетті?

- 7 1    6 7
- 7 5    7 2
- 4 7    3 7
- 7 7    6 4

**Шығарып көр**  
 Руслан неше жасқа толды?  
 Сен оны қалай білдің?



## Мысалдар құрастыр және шығар.


+ = ?  
 + = ?  
 + = ?

## Орындап көр

Музыкалық ноталарды ата. Олардың саны қанша?



## Есте сақта!



Все права принадлежат АОО "Назарбаев Интеллектуальные школы"

Все права принадлежат АОО "Назарбаев Интеллектуальные школы"

## **Сабақтың мақсаты**

**Сенің білетінің:** Бір таңбалы сандарды оқу, жазу және салыстыру. Бір таңбалы сандардың құрамын анықтау.

**Сенің меңгеретінің:** 7 саны нені білдіретінін түсіну;  
7 санын қалай алуға болатынын білу;  
7 цифрын жазып үйрену;

# Қызыл, сары, жасылды, Көкте бір зат асылды

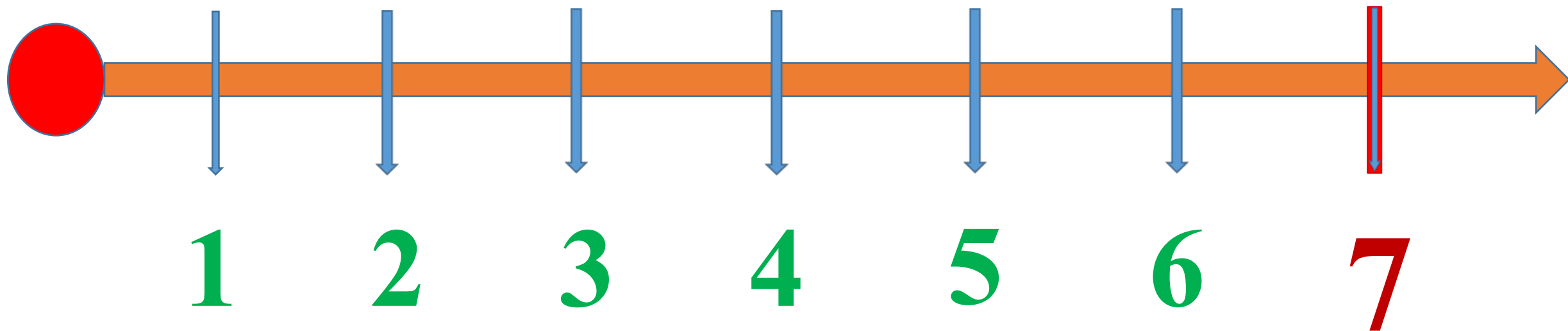
Кемпірқосақта  
неше түс бар?

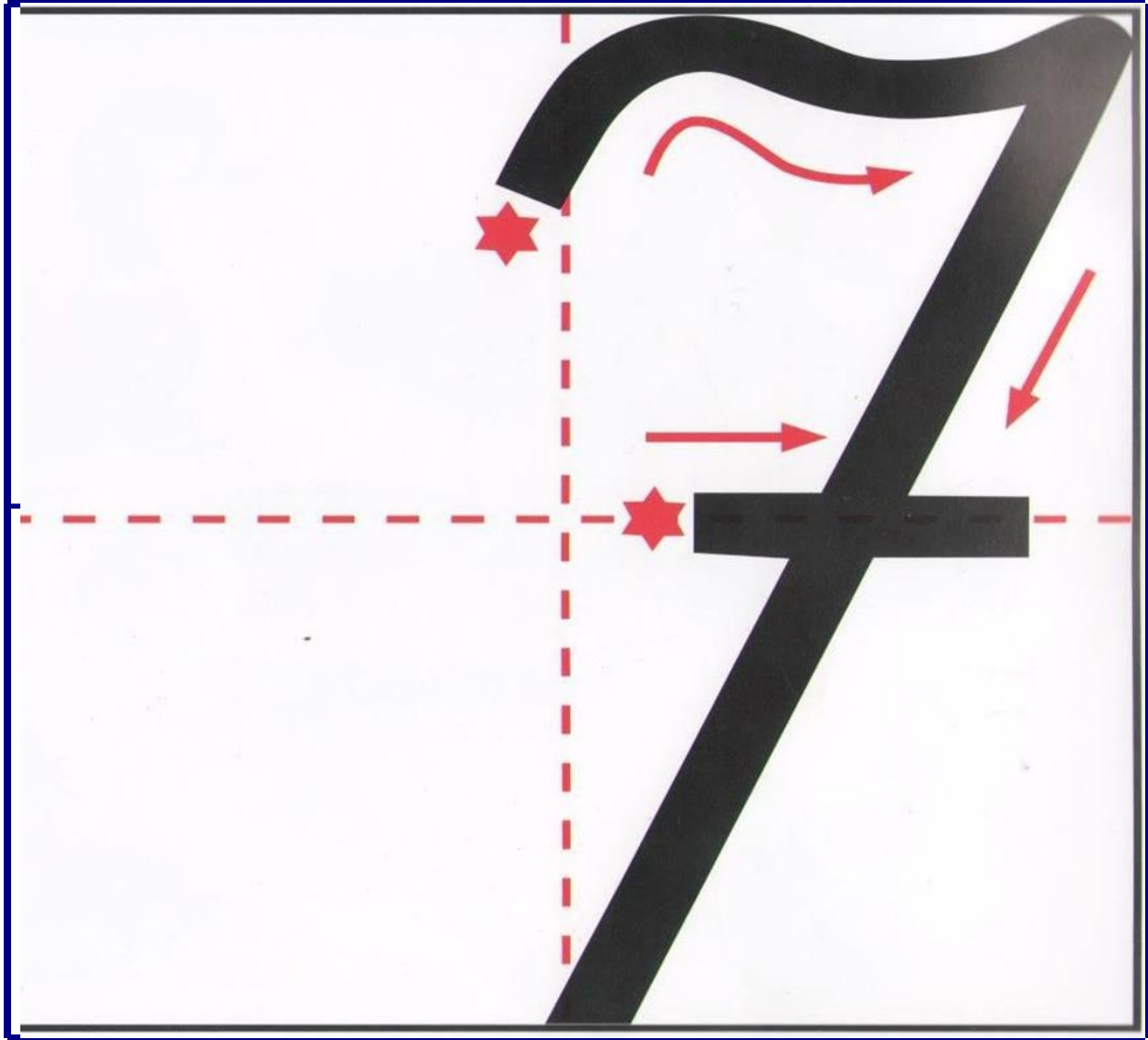
Оларды ата.






**Жеті** саны сандық сәуледе алты санынан кейін тұрады.







## Сандарды салыстыр.

Қай белгіге (>, =, <)  
бояу жағылып кетті?

$7 > 1$

$6 < 7$

$7 > 5$

$7 > 2$

$4 < 7$

$3 < 7$

$7 = 7$

$6 > 4$



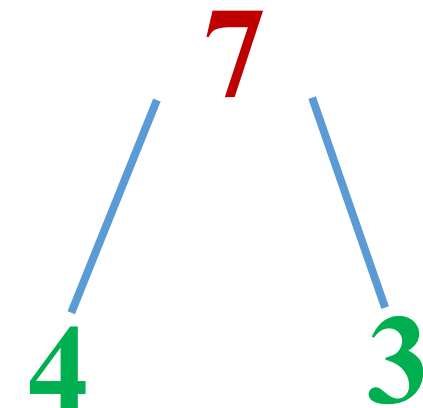
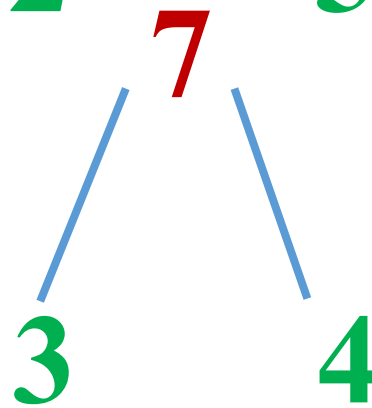
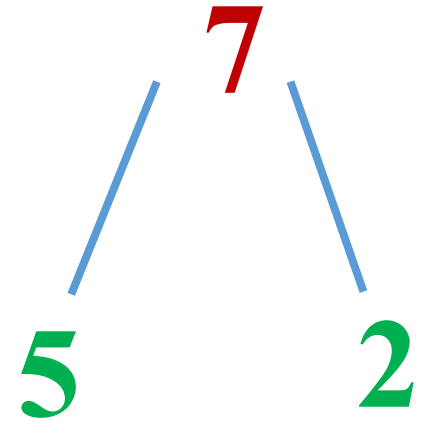
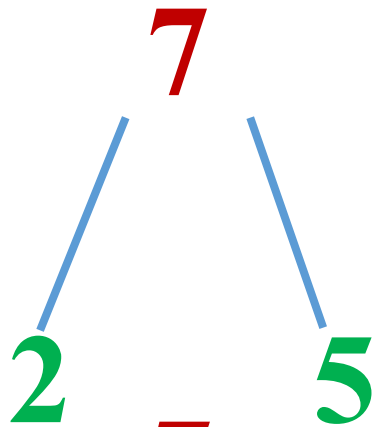
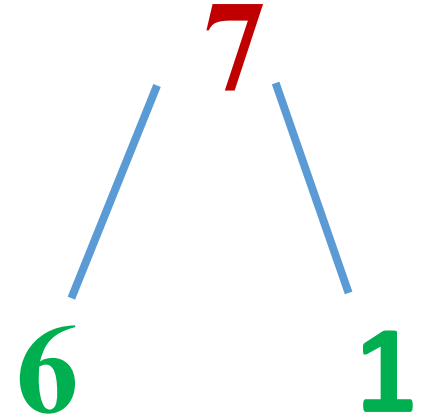
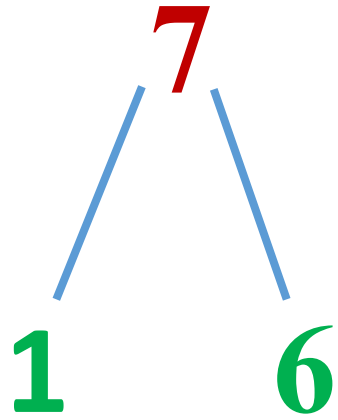


# Мысалдар құрастыр және шығар.



**Есте сақта!**

$$\square + \square = \square 7$$



# Жетістік баспалдағы



Тапсырманы  
орындай  
алмадым



Тапсырманы  
жартылай  
орындадым



Тапсырманы  
орындап  
шықтым

