

# «ЮНЫЙ ГЕНИЙ»

## Задания с ответами


### Проверь себя!




Вопрос — укажите точное количество человеческих лиц,  
нарисованных на картинке.

Ответ — начиная от верхушки, заканчивая прикорневой  
зоной, с каждой стороны можно четко увидеть 5 лиц.

Общее количество — 10.



Ответ – апрель с водою,  
а май с травою



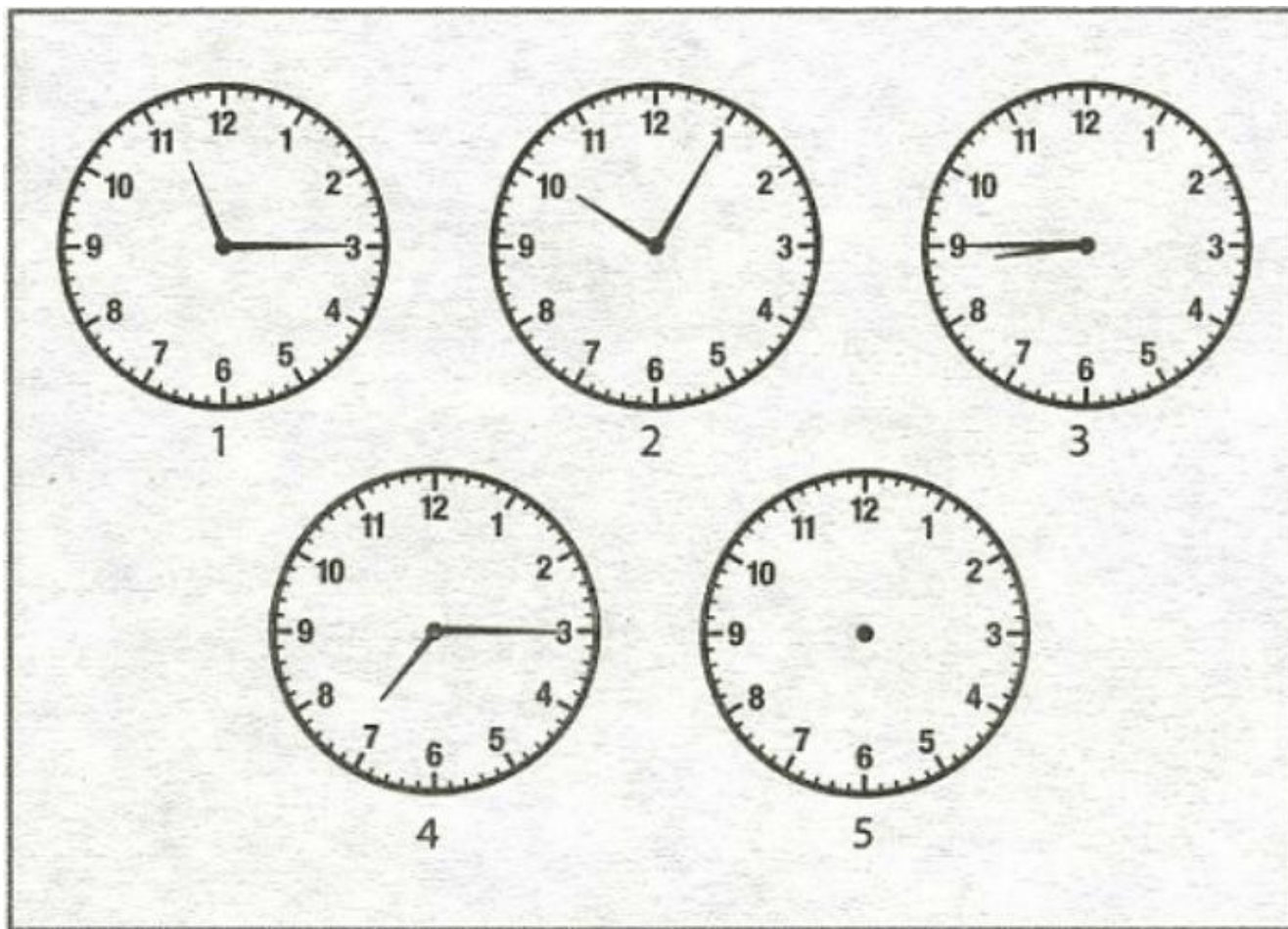
The clock dial features Cyrillic letters: С, А, С, В, П, Ю, М, Т, Б, Д, А, Р, Ю, О, О, Е, Р, А, Л, О, А, В, С. The numbers 1 through 12 are also present. A cat is sitting in the center, surrounded by flowers and a butterfly.

19.30	13.00	16.30	19.00	20.30	15.00	
12.00	22.00	17.30	15.30	21.00	13.30	22.30
		23.30		14.00	21.30	18.30
23.00	14.30	20.00	16.00	12.30	18.00	17.00

Замени время на буквы и узнай слова.

На всех часах, изображенных на картинке, имеется определенная последовательность. Ребенок должен прорисовать стрелки на часах №5 таким образом, чтобы ее не нарушить.

Ответ – 17.35



Ответ – дача, дело, дама, гора, мало, задача, роза, молоко, рота, рама, тара, коза, сало, лото, засада, ракета, мода, города, колода, кода.



Проверьте мышление ребёнка на вариативность! Составьте слова из слогов на картинке за 3 минуты! Больше 15 слов - хороший результат!

$$\text{Cat} + \text{Mouse} + \text{Wolf} = 100$$

$$4 \times \text{Cat} + \text{Mouse} + \frac{1}{4} \times \text{Wolf} = 100$$

$$\text{Cat} = ? \quad \text{Mouse} = ? \quad \text{Wolf} = ?$$

Ответ должен быть в целых положительных  
числах

Ответ - кошки соответствуют 15, кот обозначают 1,  
мышки — это 84.

Все буквы перепутались. Что же написано здесь, о чём идёт речь?


Ответ – шёл баран, по крутым горам,  
вырвав травку, положил на лавку,  
кто её возьмёт, тот и вон пойдёт.



ЁЛШ РААБН  
ОП МЫТУРК МАГОР,  
ЛАВРЫВ КУВРАТ,  
ЖИЛОПОЛ АН КУЛАВ,  
ТОК ЁЕ МЁЗЬВОТ –  
ОТТ И НОВ ДОЙТЁП.

Ответ — на картинке зашифровано слово  
— ДОКТОР.

Отгадайте слово. Начните с красной буквы,  
а каждую последующую букву возьмите  
с карточки, на которой найдёте такой же  
предмет, как на предыдущей.





Составитель и художник Валентина Черняева



# Задачи со спичками

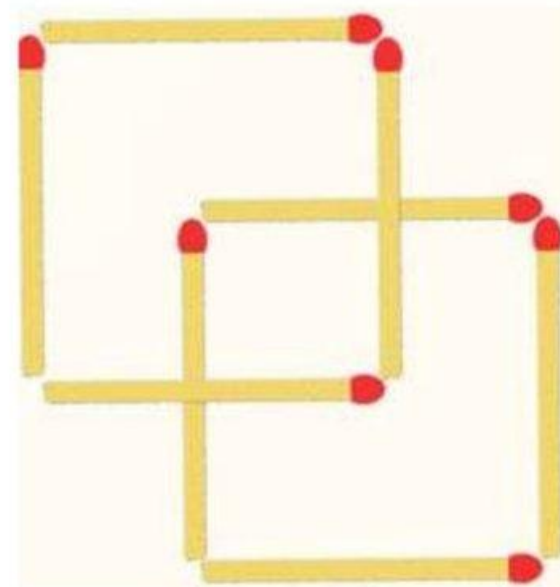

- Переложите 3 спички, чтобы стрела поменяла своё направление на противоположное.



Задачи со спичками

Задача 3

Как из **8 спичек** сложить **3 квадрата**.  
Спички ломать нельзя.



Надеюсь, вы справились правильно со всеми заданиями. А у кого получилось с ошибками, не расстраивайтесь.

Все задания составлены на разный возраст и разные возможности. Участвуй дальше, развивай свои интеллектуальные возможности без границ!

