

ИСТОРИЯ РОССИЙСКОЙ КУЛЬТУРЫ С АНАСТАСИЕЙ МАНОХИНОЙ

КУЛЬТУРА ДРЕВНЕЙ РУСИ X-НАЧАЛА XII

- способ существования человечества, социума;
- то, что отличает человека от животного,
- создаваемую человеком часть окружения.
- Самое простое определение культуры – «то, что создано человеком».

Ремесло́ — мелкое
ручное производство,
основанное на применении
ручных орудий труда.

Кольчуга



САМЫЕ РАСПРОСТРАНЕННЫЕ ВИДЫ ЮВЕЛИРНЫХ ИЗДЕЛИЙ В ДРЕВНОСТИ:



СЕРЬГИ В
ТЕХНИКЕ ЗЕРНИ

СЕРЬГИ В
ТЕХНИКЕ СКАНИ




1. СЕРЬГИ

САМЫЕ РАСПРОСТРАНЕННЫЕ ВИДЫ ЮВЕЛИРНЫХ ИЗДЕЛИЙ В ДРЕВНОСТИ:



ВИСОЧНЫЕ КОЛЬЦА

САМЫЕ РАСПРОСТРАНЕННЫЕ ВИДЫ ЮВЕЛИРНЫХ ИЗДЕЛИЙ В ДРЕВНОСТИ:




1-2 - Владимирские курганы; 3-4 - Гловские курганы; 5 - Новгород; 7 - кург. у с. Васильки Владимирской обл.; 8 - Новгород; 9 - кург. у пос. Вознесенский Владимирской губ.; 10 - Гловские курганы; 11-13 - С.-Петербургские курганы; 14 - курганы у д. Босна Костромской обл.; 15 - Гловские курганы; 16 - Вятские курганы; 17 - Старая Рязань; 18 - С.-Петербургские курганы; 19 - Новгород; 20 - Новгород; 21 - Новгород; 22 - курганы у д. Колчино Калужской обл.; 23 - Нов-

гор: 24-25 - Гловские курганы; 26 - С.-Петербургские курганы; 27 - Новгород; 28 - Новгород; 29 - С.-Петербургские курганы; 30 - Новгород; 31 - Новгород; 32 - Новгород; 33 - Новгород; 34 - Гродно; 35 - Гловские курганы; 36 - С.-Петербургские курганы; 37 - Новгород; 38-39 - Шарово, клад, Московская обл.; 40 - курган у Николово Московской обл.; 41-42 - Гловские курганы; 43 - Новгород; 44 - Новгород; 45 - Новгород

ПЕРСТНИ

САМЫЕ РАСПРОСТРАНЕННЫЕ ВИДЫ ЮВЕЛИРНЫХ ИЗДЕЛИЙ В ДРЕВНОСТИ:



БРАСЛЕТЫ

ТЕХНИКА СКАНИ :

на поверхность изделия наносился орнамент из скрученной тонкой серебряной или золотой проволоки.



Техника зерни :
мельчайшие серебряные или золотые
зерна накладывали по рисунку на
пластины и припаивали, создавая
сложный орнамент.



Зернь

Техника черни:

на металлические пластины мастера наносили резцом рисунок, затем в углубления разогретых пластин вбивали молоточком тонкие серебряные нити, а пространство между ними покрывали чернью .

- Чернь по серебру




Перегородчатая эмаль:

стекловидная масса разных оттенков покрывала пространство между припаянными золотыми или серебряными полосами.

Перегородчатая эмаль




Гончарный круг




Письменность на Руси

XII век

863г



XI век





Середина
XIV века

Литература-Летописание(летопись)

Повесть
временных лет
Нестор

До 1113 .
Смерть
Святополка

X-XI вв.



Литература-житийный жанр

Древнерусская литература (основные жанры)

Культура Древней Руси.
Христианская культура и
языческие традиции



Летописание. Нестор – Повесть
временных лет, 1113г.

Житие (агиография).
Житие князей Бориса и Глеба

Слово (поучение). Митрополит
Илларион – Слово о Законе
и благодати

Хождения (хожения). Хождение
игумена Даниила в пустыню

Слово о Законе и Благодати

Иларион



Поучение детям



Владимир
Мономах

Устное народное творчество

```
graph TD; A[Устное народное творчество] --> B[песни]; A --> C[былины]; A --> D[пословицы]; A --> E[загадки]; C --> F[сказки]; C --> G[легенды];
```

песни

былины

пословицы

загадки

сказки


легенды

Каменное строительство

Крещение
Руси


988г.

Десятинная церковь в Киеве реконструкция
М.Н. Холостенко



996г.

XI в.



нефы

арки

апсиды


купола

своды

закомары

плинфы

Техника мозаики



Техника фрески




Спасо-Преображенский собор в Чернигове

30-е годы XI в.



Софийский собор в Новгороде



XI в.

**Софийский
собор
в
Новгороде**



Георгиевский собор Юрьева монастыря под Новгородом

п.п XII в.

Георгиевский собор Юрьева монастыря в Новгороде



В.М. Васнецов Богатыри.

1881-1898 гг.



В.М. Васнецов Прощание Олега с конем

1899г.



М.О. Микешин «Тысячелетие России» Великий Новгород



1862г

-1000 г.
=862г.



Нестор-летописец С.А. Никитина



М.М. Антакольский
Нестор летописец, 1890




Нестор летописец
Реконструкция С.А.Никитина

М.М. Антокольский Нестор- летописец 1890г



М.М. Антакольский
Нестор летописец, 1890



Нестор летописец
Реконструкция С.А.Никитина

Рассмотрите изображение и выполните задания 1–2.



1) Какие суждения о данном изображении являются верными? Выберите два суждения из пяти предложенных. Запишите в таблицу цифры, под которыми они указаны.

- 1) Один из авторов памятника — М. О. Микешин.
- 2) А. С. Пушкин был современником установки памятника.
- 3) В создании памятника принимал участие И. П. Мартос.
- 4) Памятник установлен в Новгороде при Александре II.
- 5) Монумент установлен на территории Московского Кремля.

Ответ:

2) Какие из представленных репродукций картин относятся к тому же событию, которое дало название памятнику, изображённому в задании 1? В ответе запишите две цифры, под которыми они указаны.



Ответ:

Рассмотрите изображение и выполните задания 3–4.



3

Какие суждения о данном изображении являются верными? Выберите два суждения из пяти предложенных. Запишите в таблицу цифры, под которыми они указаны.

- 1) Князь правил в X в., погиб во время сбора дани с племени древлян.
- 2) Князь известен походами в Дунайскую Болгарию, погиб от рук печенегов на днепровских порогах.
- 3) Преемник(-ца) князя провел(-а) реформу, изменившую систему сбора налогов.
- 4) Князь был правителем в Новгороде-Северском.
- 5) О военном походе князя против половцев создано замечательное литературное поэтическое произведение.

Ответ:

<input type="text"/>	<input type="text"/>
----------------------	----------------------

4

Какие из представленных репродукций картин могут отражать события из жизни князя, изображённого на памятной монете, представленной в задании 3? В ответе запишите две цифры, под которыми они указаны.

1)



3)



2)



4)



Ответ:

--	--

Рассмотрите изображения и выполните задания 5–6.



Вид спереди



Вид сзади

5

Какие суждения о данном изображении являются верными? Выберите два суждения из пяти предложенных. Запишите в таблицу цифры, под которыми они указаны.

- 1) Памятник Ярославу Мудрому, автор работы — И. П. Мартос.
- 2) Работа скульпторов П. К. Клодта и А. А. Тона; памятник находится в Киеве.
- 3) Памятник установлен в Новгороде, автор — М. О. Микешин.
- 4) Князь, которому поставлен памятник, известен как Великий, Креститель, Святой, Красное Солнышко.
- 5) Князь, которому установлен памятник, принял свод законов, известный как Русская Правда.

Ответ:

--	--

6

Какие из представленных монет были отчеканены в период правления князя, памятник которому вы видите в задании 5? В ответе запишите две цифры, под которыми они указаны.

1)



3)



2)



4)



Ответ:

Рассмотрите изображение и выполните задания 7–8.



7

Какие суждения о данном изображении являются верными? Выберите два суждения из пяти предложенных. Запишите в таблицу цифры, под которыми они указаны.

- 1) Летопись сообщает, что для постройки собора «...Дарова ему [государю] Бог двух мастеров русских по реку [по имени] Постника и Барму, и была премудры и удобны таковому чудному делу».

- 2) Для постройки собора «Мастера же присланы были от императора Фридерика Первого [Фридриха Барбароссы], с которым [князь] Андрей в дружбе был».
- 3) Архитектурный ансамбль, расположенный на острове Кижы Онежского озера, состоящий из двух церквей и колокольни, окружённых единой оградой.
- 4) В начале XV в. для украшения храма были приглашены художники Андрей Рублёв и Даниил Чёрный, часть их росписей сохранилась.
- 5) Собор построен по приказу Ярослава Мудрого.

Ответ:

--	--

8

На каких из представленных марок показаны архитектурные памятники, построенные в том же веке, что и храм, изображённый в задании 7? В ответе запишите две цифры, под которыми они указаны.



1)



3)



2)

4)

Ответ:

--	--

Рассмотрите изображение и выполните задания 9–10.



9

Какие суждения о данном изображении являются верными? Выберите два суждения из пяти предложенных. Запишите в таблицу цифры, под которыми они указаны.

- 1) Великий князь правил в X в., при нём Русь приняла крещение.
- 2) Он был строителем первых оборонительных рубежей на южной русской границе.
- 3) Князь имел прозвище, которое в переводе на русский язык звучит как «Единоборец».
- 4) Князь известен как законодатель, ему приписывается введение сборника правовых норм Древнерусского государства.
- 5) По приказу князя были построены соборы Святой Софии в Киеве и Новгороде.

Ответ:

--	--

10

На каких из представленных реконструкций портретов по черепам исторических деятелей показаны два государственных деятеля, принадлежавших к той же династии русских князей, что и князь, чьё изображение дано в задании 9? В ответе запишите две цифры, под которыми они указаны.

1)



3)



2)



4)



Ответ:



11

Какие суждения о данном изображении являются верными? Выберите два суждения из пяти предложенных. Запишите в таблицу цифры, под которыми они указаны.

- 1) Собор постройки XIV в.
- 2) Собор постройки XII в.
- 3) Собор построен по приказу московского князя, имевшего прозвище Донской.
- 4) Собор сооружён по приказу Всеволода Большое Гнездо.
- 5) Собор находится в Новгороде Великом.

Ответ:

--	--

12

На каких из представленных изображений показаны архитектурные памятники, построенные в том же веке, что и собор, показанный в задании 11? В ответе запишите две цифры, под которыми они указаны.

1)



3)



2)



4)



Рассмотрите изображение и выполните задания 13–14.



13

Какие суждения о данном изображении являются верными? Выберите два суждения из пяти предложенных. Запишите в таблицу цифры, под которыми они указаны.

- 1) Советская боевая награда — орден для командного состава периода Великой Отечественной войны.
- 2) Показанный знак ордена был учреждён Екатериной I в 1725 г. и предназначался для награждения как военных, так и гражданских лиц.
- 3) Русский князь, чьим именем назван орден, жил в XIII в.
- 4) Князь, чьим именем назван орден, прославил своё имя в борьбе с Золотой Ордой.
- 5) Орден был высшей боевой наградой в имперский и советский периоды.

Ответ:

<input type="text"/>	<input type="text"/>
----------------------	----------------------

14

В каких из представленных на марках событий князь, чьё изображение даётся в задании 13, принимал непосредственное участие? В ответе запишите две цифры, под которыми они указаны.



Ответ:

Рассмотрите изображение и выполните задания 1–2.



1. Какие суждения о данном изображении являются верными? Выберите два суждения из пяти предложенных. Запишите в таблицу цифры, под которыми они указаны.

- 1) Данная монета выпущена в период существования СССР.
- 2) Событие, которому посвящена медаль, связано с именем князя Владимира Святого.
- 3) На данном изображении представлен символ царской власти в России.
- 4) Одним из авторов памятника, изображённого на монете, является А.М. Опекушин.
- 5) Частью памятника, представленного на монете является изображение державы – символа власти российского монарха.

Ответ:

--	--

2. Какие из представленных зданий находятся в том же городе, что и памятник, изображённый на монете? В ответе запишите две цифры, которыми обозначены эти здания.

1)



2)



3)



4)



Рассмотрите изображение и выполните задания 3–4.



3. Какие суждения о городе, старинный план которого вы видите, являются верными? Выберите два суждения из пяти предложенных. Запишите в таблицу цифры, под которыми они указаны.

- 1) В отличие от других русских земель в этом городе редко созывалось народное вече.
- 2) В период политической раздробленности русских земель в этом городе установилась сильная княжеская власть.
- 3) С 1113 по 1125 г. в городе правил князь Владимир Мономах.
- 4) Через этот город в древности проходил торговый путь «из варяг в греки».
- 5) Город, изображённый на плане, был присоединён к Московскому государству в 1478 г.

Ответ:

--	--

4. Какие из представленных памятников архитектуры были построены в том же веке, в котором изображённый на плане город был присоединён к Московскому государству? В ответе запишите две цифры, которыми обозначены эти памятники архитектуры.

1)



2)



3)



4)



Ответ: _____



*Князь Рюрик. Фреска.
Грановитая палата Московского Кремля*

1. Какие суждения о данном изображении являются верными? Выберите два суждения из пяти предложенных. Запишите в таблицу **цифры**, под которыми они указаны.
- 1) Этот князь был приглашен на княжение вместе со своими братьями в 862 г.
 - 2) Этот князь объединил Киев и Новгород.
 - 3) При этом князе была принята Русская Правда.
 - 4) С именем Рюрика связано начало русской государственности.
 - 5) Князь был убит во время Дунайских походов.

Ответ:

--	--

2. Кто из представленных ниже правителей принадлежал к династии Рюриковичей? В ответе запишите **две цифры**, под которыми они указаны.



1)

Князь Олег



2)

Князь Ярослав Мудрый



3)

Царь Михаил Федорович



4)

Царь Федор Алексеевич

Ответ:

--	--

Рассмотрите изображение и выполните задания.



7

1. Какие суждения о данном изображении являются верными? Выберите два суждения из пяти предложенных. Запишите в таблицу **цифры**, под которыми они указаны.

- 1) Это памятник княгине Ольге.
- 2) Памятник установлен в Киеве.
- 3) Время ее правления — XIV в.
- 4) Ко времени ее правления относится принятие Русской Правды.
- 5) С именем этой княгини связано Крещение Руси.

Ответ:

<input type="text"/>	<input type="text"/>
----------------------	----------------------

2. Кто из представленных ниже лиц был современником этой княгини?
В ответе запишите две цифры, под которыми они указаны.



1)

Князь Иван III



2)

Князь Игорь



3)

Князь Владимир Мономах



4)

Князь Святослав

Ответ:

--	--

Рассмотрите изображение и выполните задания.



1. Какие суждения о данном изображении являются верными? Выберите два суждения из пяти предложенных. Запишите в таблицу **цифры**, под которыми они указаны.
- 1) Эта скульптура установлена в Москве.
 - 2) На изображении представлен памятник князю Владимиру Святославичу.
 - 3) Этот князь вошел в историю как князь Владимир Красное Солнышко.
 - 4) С именем этого князя связаны Дунайские походы.
 - 5) Этот князь объединил Киев и Новгород.

Ответ:

--	--

2. Какие из памятников, представленных ниже, относятся к эпохе Древней Руси? В ответе запишите две цифры, под которыми они указаны.



1)

*Храм
Василия Блаженного*



2)

*Памятник
основателям Киева*



3)

*Памятник К. Минину
и Д. Пожарскому*



4)

*Золотые ворота
в Киеве*

Ответ:

--	--

Рассмотрите изображение и выполните задания.



В.М. Васнецов. Андрей Боголюбский

10

1. Какие суждения о данном изображении являются верными? Выберите два суждения из пяти предложенных. Запишите в таблицу **цифры**, под которыми они указаны.
- 1) Андрей Боголюбский — сын князя Юрия Владимировича Долгорукого.
 - 2) С именем Андрея Боголюбского связано создание одного из шедевров русского зодчества — храма Покрова на Нерли.
 - 3) С именем Андрея Боголюбского связано сражение с монголами на реке Сити.
 - 4) При этом князе был заложен белокаменный Московский Кремль.
 - 5) Этому князю посвящена древнерусская повесть «Задонщина».

Ответ:

<input type="text"/>	<input type="text"/>
----------------------	----------------------

2. Какие из представленных ниже памятников зодчества были возведены при этом князе? В ответе запишите две цифры, под которыми указаны эти памятники зодчества.



1)

*Успенский собор
во Владимире*



2)

*Софийский собор
в Киеве*



3)

*Софийский собор
в Новгороде*



4)

*Церковь Покрова
на Нерли*

Ответ:

--	--

Рассмотрите изображение и выполните задания.



1. Какие суждения о данном изображении являются верными? Выберите два суждения из пяти предложенных. Запишите в таблицу **цифры**, под которыми они указаны.
- 1) Монумент был воздвигнут в 1862 г. в честь тысячелетнего юбилея легендарного призвания варягов на Русь.
 - 2) Монумент был воздвигнут в Киеве.
 - 3) В числе изображенных на памятнике исторических деятелей — вся династия Романовых.
 - 4) Памятник находится в Великом Новгороде.
 - 5) Автор монумента — скульптор П. Клодт.

Ответ:

--	--

2. Какие из представленных ниже памятников зодчества находятся в том же городе, что и изображенный выше? В ответе запишите **две цифры**, под которыми они указаны.



1)

*Спасский собор
Андроникова монастыря*



2)

*Золотые ворота
во Владимире*



3)

*Церковь
Федора Стратилата*



4)

*Георгиевский собор
Юрьева монастыря*

Ответ:

--	--

Вариант 1

Рассмотрите изображение и выполните задания 18 и 19.



18. Какие суждения о картине являются верными? Выберите два суждения из пяти предложенных. Запишите в таблицу цифры, под которыми они указаны.

- 1) На картине изображен момент призвания варягов на княжение в северные русские земли.
- 2) Один из изображенных на картине варягов является основателем Русского государства.
- 3) Братьев-варягов, изображенных на картине, пригласил новгородский староста Гостомysl.
- 4) Сыном старшего из изображенных на картине братьев-варягов был будущий князь Олег Вещий.
- 5) Событие, изображенное на картине, произошло в 882 г.

Ответ:

--	--

19. Какие из представленных ниже изображений посвящены событиям, происходившим в том же веке, что и событие, изображенное на картине? В ответе запишите две цифры, которыми обозначены эти изображения.



Ответ:

Рассмотрите изображение и выполните задания 18 и 19.




18. Какие суждения о картине являются верными? Выберите два суждения из пяти предложенных. Запишите в таблицу цифры, под которыми они указаны.

- 1) Событие, изображенное на картине, произошло в 911 г.
- 2) Изображенный на картине князь воевал с Византийской империей.
- 3) Изображенный в центре картины князь включил в состав единого Русского государства племя вятичей.
- 4) У изображенного на картине князя было прозвище «Старый».
- 5) Князь, изображенный на картине, ввел на Руси христианство.

Ответ:

<input type="text"/>	<input type="text"/>
----------------------	----------------------

19. Какие из представленных ниже изображений посвящены событиям, происходившим в том же веке, что и событие, изображенное на картине? В ответе запишите две цифры, которыми обозначены эти изображения.



Ответ:

Рассмотрите изображение и выполните задания 18 и 19.





18. Какие суждения о картине являются верными? Выберите два суждения из пяти предложенных. Запишите в таблицу цифры, под которыми они указаны.

- 1) Событие, изображенное на картине, произошло в 945 г.
- 2) Изображенный на картине князь воевал с Хазарским каганатом.
- 3) Изображенный в центре картины князь включил в состав единого Русского государства племя вятичей.
- 4) У изображенного на картине князя было прозвище «Святой».
- 5) Князь, изображенный на картине, взошел на престол в результате междоусобицы.


Ответ:

<input type="text"/>	<input type="text"/>
----------------------	----------------------

19. Какие из представленных ниже изображений посвящены событиям, происходившим в том же веке, что и событие, изображенное на картине? В ответе запишите две цифры, которыми обозначены эти изображения.



Ответ:



18. Какие суждения о картине являются верными? Выберите два суждения из пяти предложенных. Запишите в таблицу цифры, под которыми они указаны.

- 1) Событие, изображенное на картине, произошло в 972 г.
- 2) Изображенный в центре картины князь воевал с Византийской империей.
- 3) Изображенный в центре картины князь воевал с кочевниками-половцами.
- 4) У изображенного на картине князя было прозвище «Святой».
- 5) Князь, изображенный на картине, вззошел на престол в результате междоусобицы.

Ответ:

--	--

19. Какие из представленных ниже изображений посвящены событиям, происходившим в том же веке, что и событие, изображенное на картине? В ответе запишите две цифры, которыми обозначены эти изображения.

1)



2)



3)



4)



Ответ:

--	--

Рассмотрите изображение и выполните задания 18 и 19.



18. Какие суждения об изображенном государственном деятеле являются верными? Выберите два суждения из пяти предложенных. Запишите в таблицу цифры, под которыми они указаны.

- 1) Изображенный князь до получения титула великого князя правил в Новгородской земле.
- 2) Изображенный князь убил своего отца, чтобы стать великим князем.
- 3) Данное скульптурное изображение выполнено в XIX веке.
- 4) Изображенный князь активно использовал такой политический инструмент, как династические браки
- 5) Правление изображенного князя относится ко второй половине XII века.

Ответ:

19. Какие из зданий, представленных ниже, были построены в годы руководства страной государственного деятеля, изображенного на скульптурном портрете? В ответе запишите две цифры, которыми обозначены эти изображения.


1)



2)



3)



4)



Ответ:

