





Работа с картами

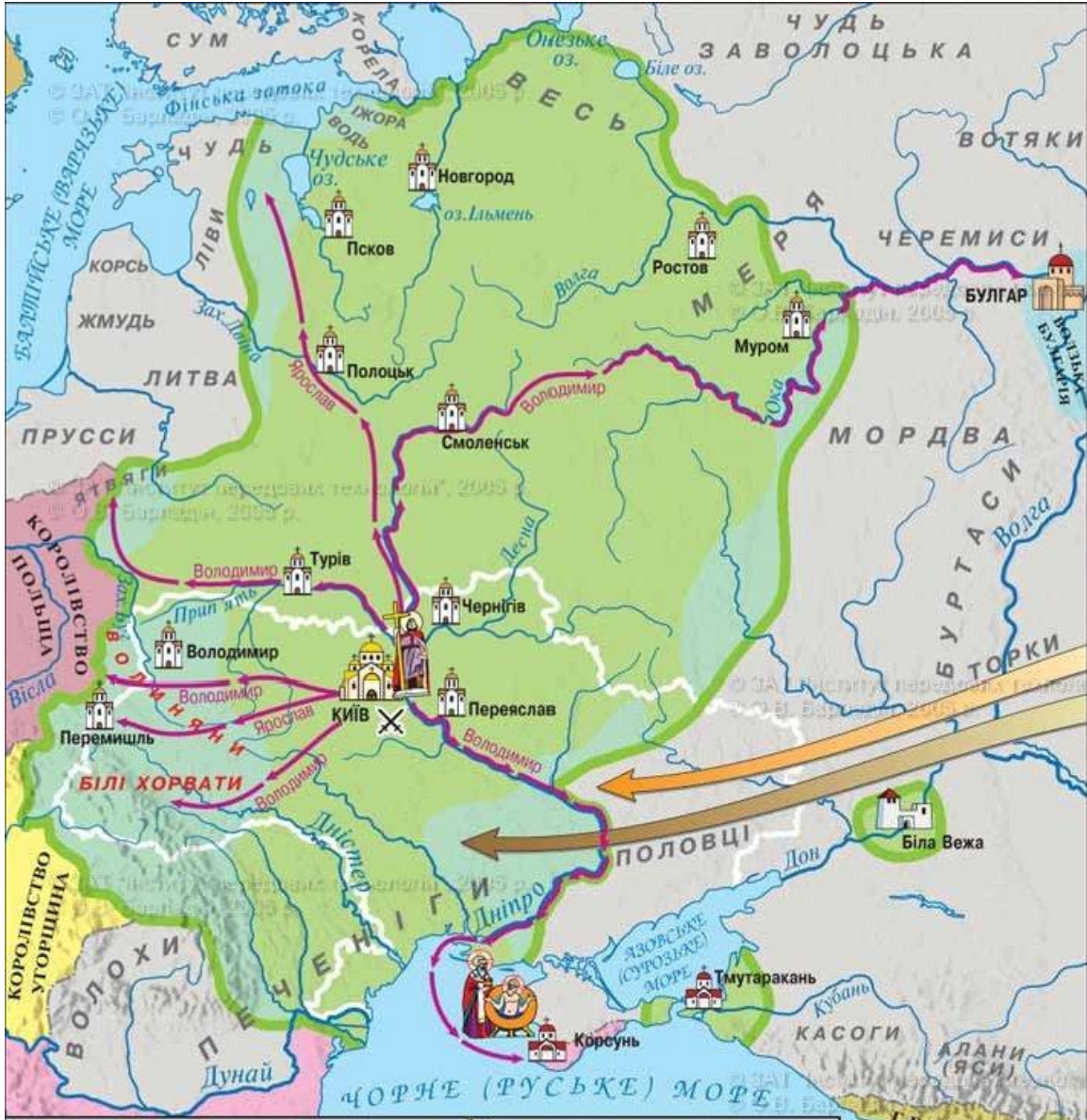
10-14 века





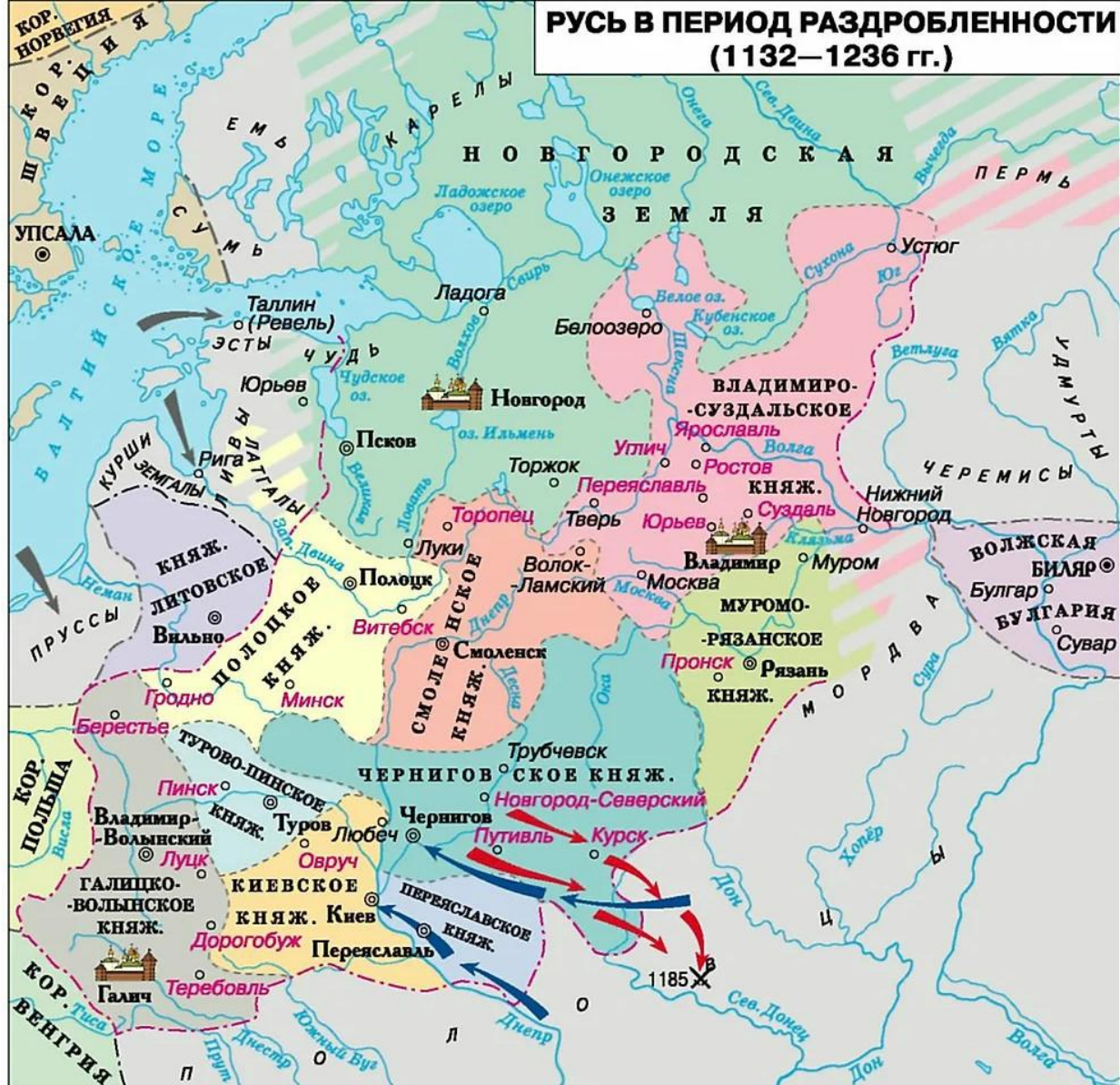


-  Походы князя Святослава
-  АЛАНЫ Народы, обложенные Святославом данью
-  Походы войск Иоанна I Цимисхия
-  Поход печенегов на Киев



	Київська Русь на початку правління Володимира		Хрещення Русі
	Походи київських князів		Території, приєднані Володимиром і Ярославом
	Місце хрещення князя Володимира		Перемога над печенігами (1036 р.)
			Кордони Русі наприкінці правління Ярослава

РУСЬ В ПЕРИОД РАЗДРОБЛЕННОСТИ (1132—1236 гг.)



--- Общая граница русских княжеств в начале XIII в.

⋯ Границы русских княжеств в последней четверти XII в.

Осваиваемые и зависимые территории

⊙ Полоцк Центры сложившихся удельных княжеств

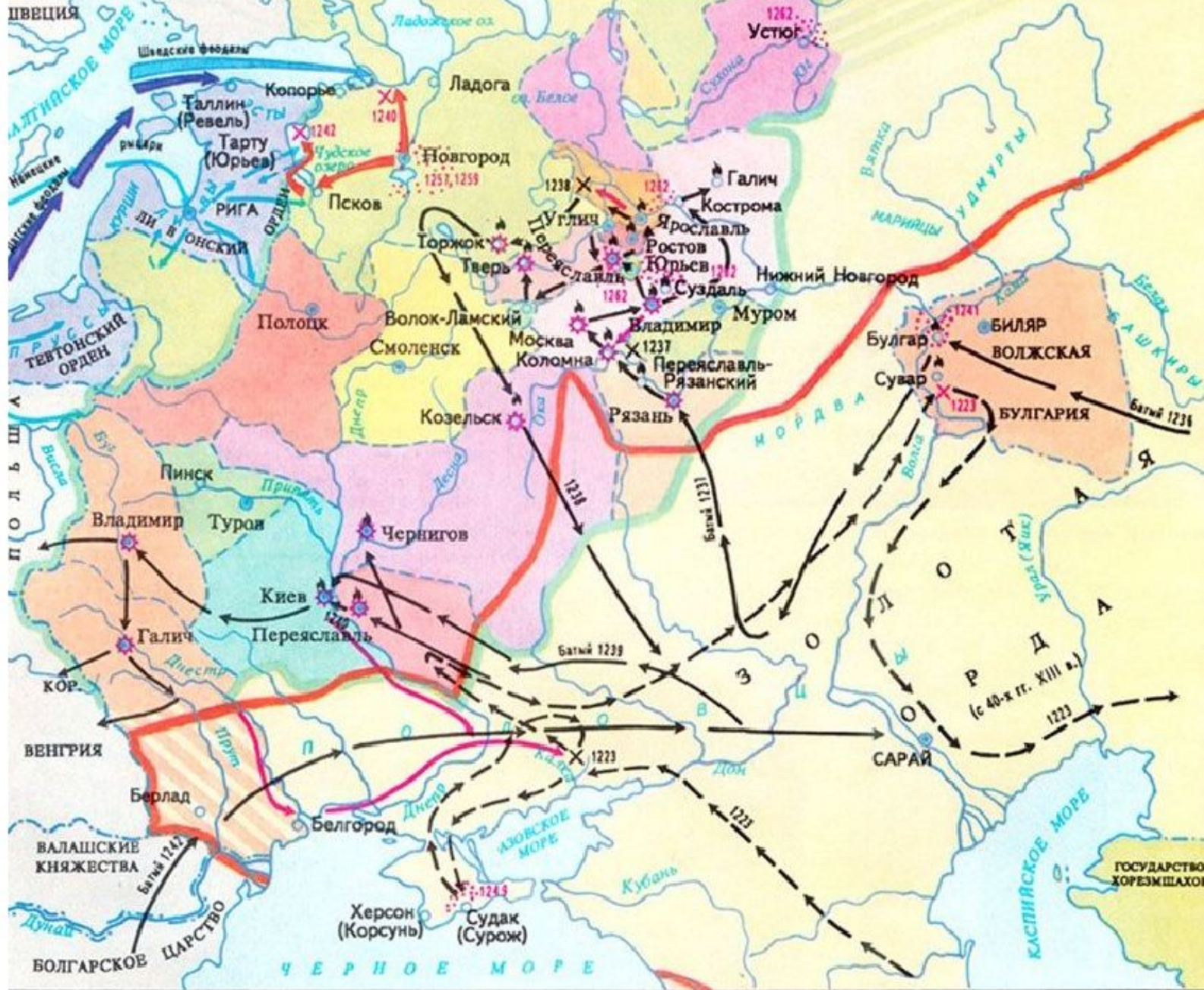
Ростов Центры формирующихся удельных княжеств

➔ Основные направления вторжений крестоносцев в Прибалтику

➔ Основные направления набегов половцев на Русь

➔ Поход князя Игоря Святославича против половцев в 1185 г.

✕ 1185 Места и годы сражений



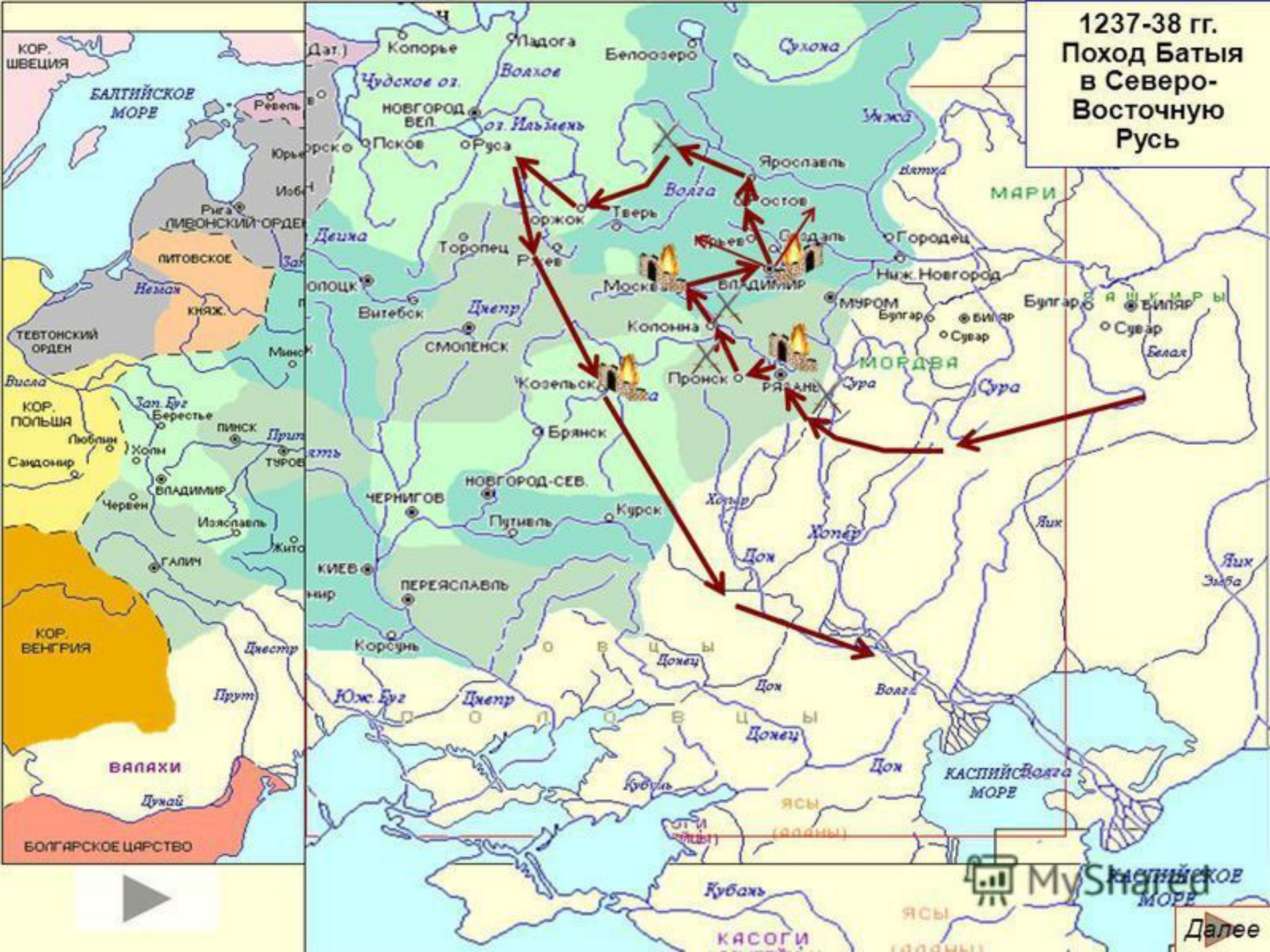
Общая граница русских княжеств в начале XIII в. (до 1237 г.)

Завоевательные походы монголо-татар:
 Чингисхана и его полководцев в 1219-1223 гг.

Места и годы восстаний против монголо-татарского ига

Граница Золотой Орды

1237-38 гг.
Поход Батыея
в Северо-
Восточную
Русь



Разрушив Киев, Батый двинулся далее на запад и разорил Волынские и Галицкие земли.



- Движение основных сил Батыя
- Движение отдельных монголо-татарских отрядов «облавы»
- Укрепленные линии Южной Руси
- ⊗ Города, разрушенные монголо-татарами накануне нашествия на Южную Русь
- ⊙ Города Южной Руси, разрушенные Батыем во время зимнего похода 1240 г.

НЕВСКАЯ БИТВА. 15 июля 1240 г.



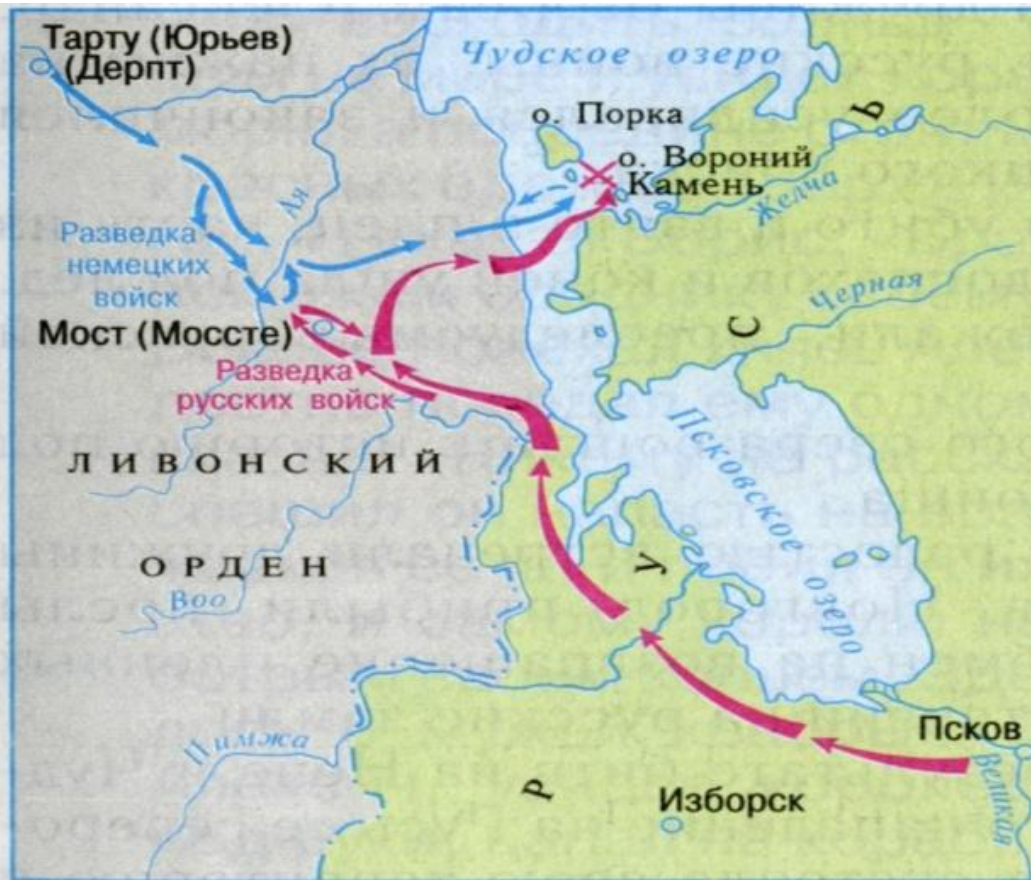
Положение войск
перед битвой:








Направления ударов
русских войск



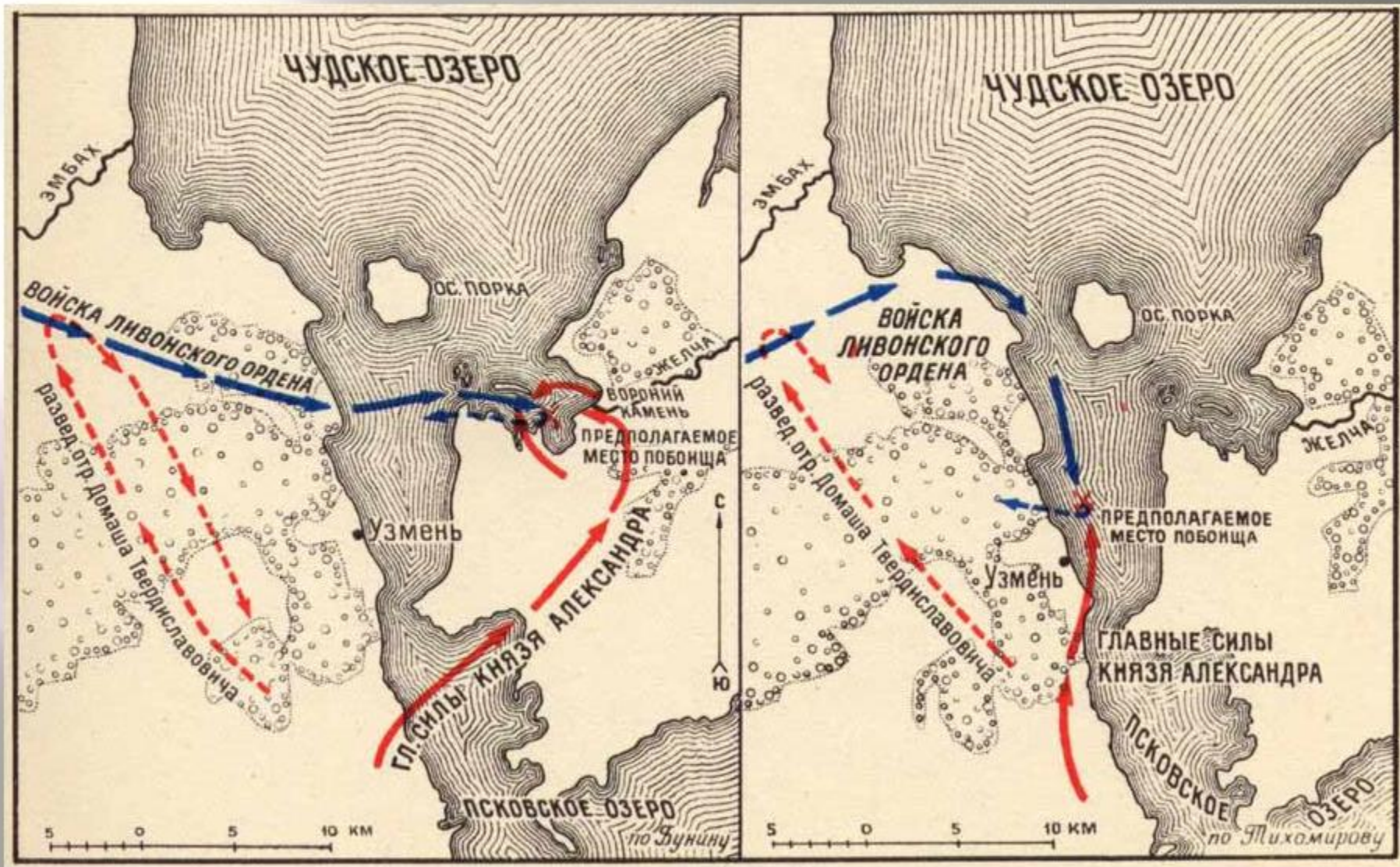
Бегство шведских войск



-  Земли, захваченные немецкими феодалами
-  Движение немецких рыцарей
-  Поход войск Александра Невского
-  Место Ледового побоища 5 апреля 1242 г.
-  Бегство немецких рыцарей



Ледовое побоище





Районы сосредоточения войск перед сражением:



русского войска



войска Ливонского ордена



Удар ливонских рыцарей по передовому полку русских



Контрудары русского войска



Бегство ливонцев и преследование их русскими

Куликовская битва



Направление движения войск Мамаю
 ←
 русских войск
 ←
 литовских войск

⊠ 8 сентября 1380 г. Место и дата Куликовской битвы

Поход союзного Мамаю вел. князя литовского Ягайлы (не дошел одного дня пути)

--- Границы княжеств
 ⊙ Москва
 ○ Мценск
 ⊠ (hatched square) Войска вел. князя Олега Ивановича
 ⊠ (red hatched square) Лагерь 6-7 сентября
 ⊠ (black hatched square) Место сбора русских войск
 ⊠ (green hatched square) Место и дата Куликовской битвы
 ⊠ (purple hatched square) Верховские княжества

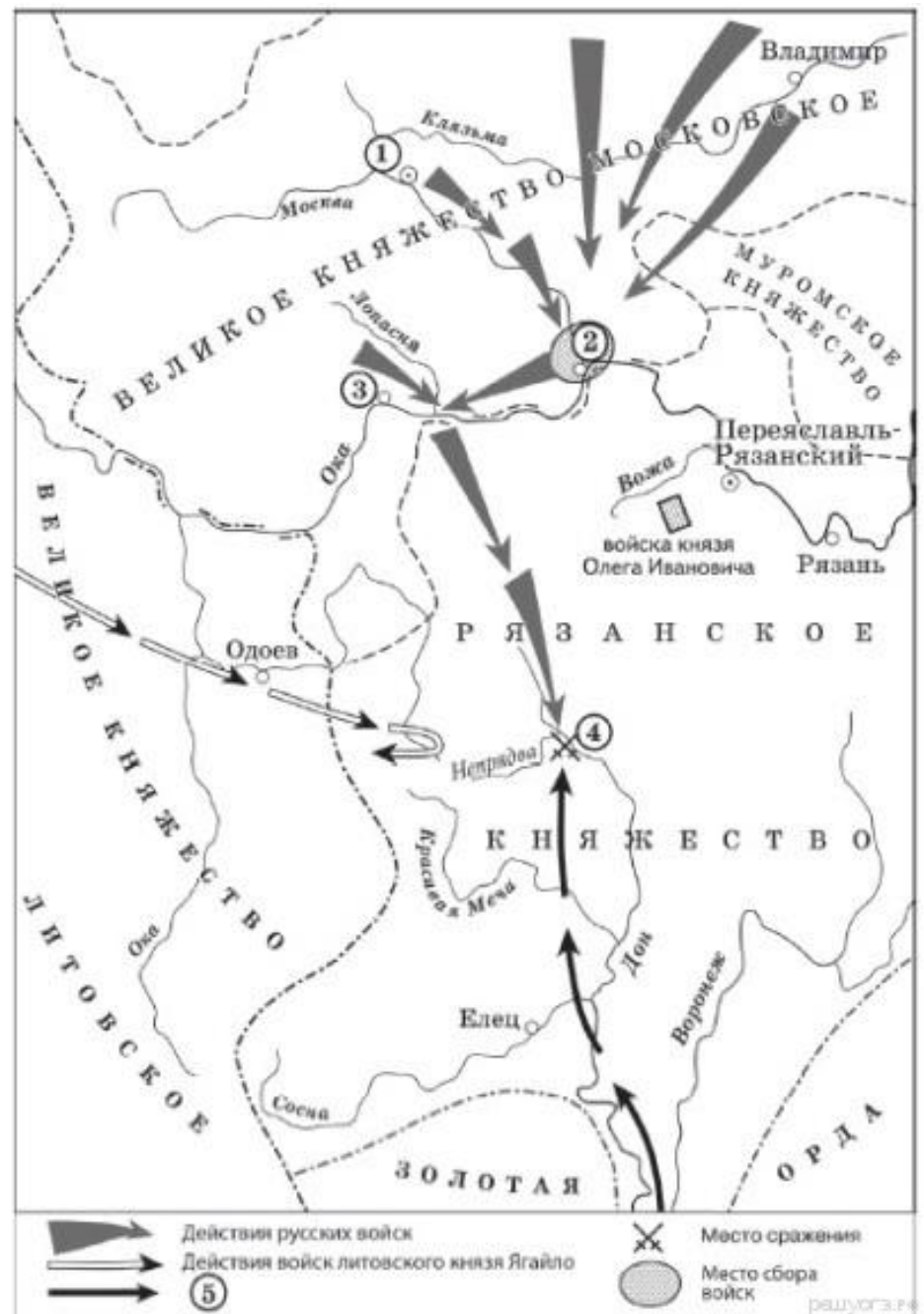
Куликовская битва (8.9.1380 г.)



Карта
сражения

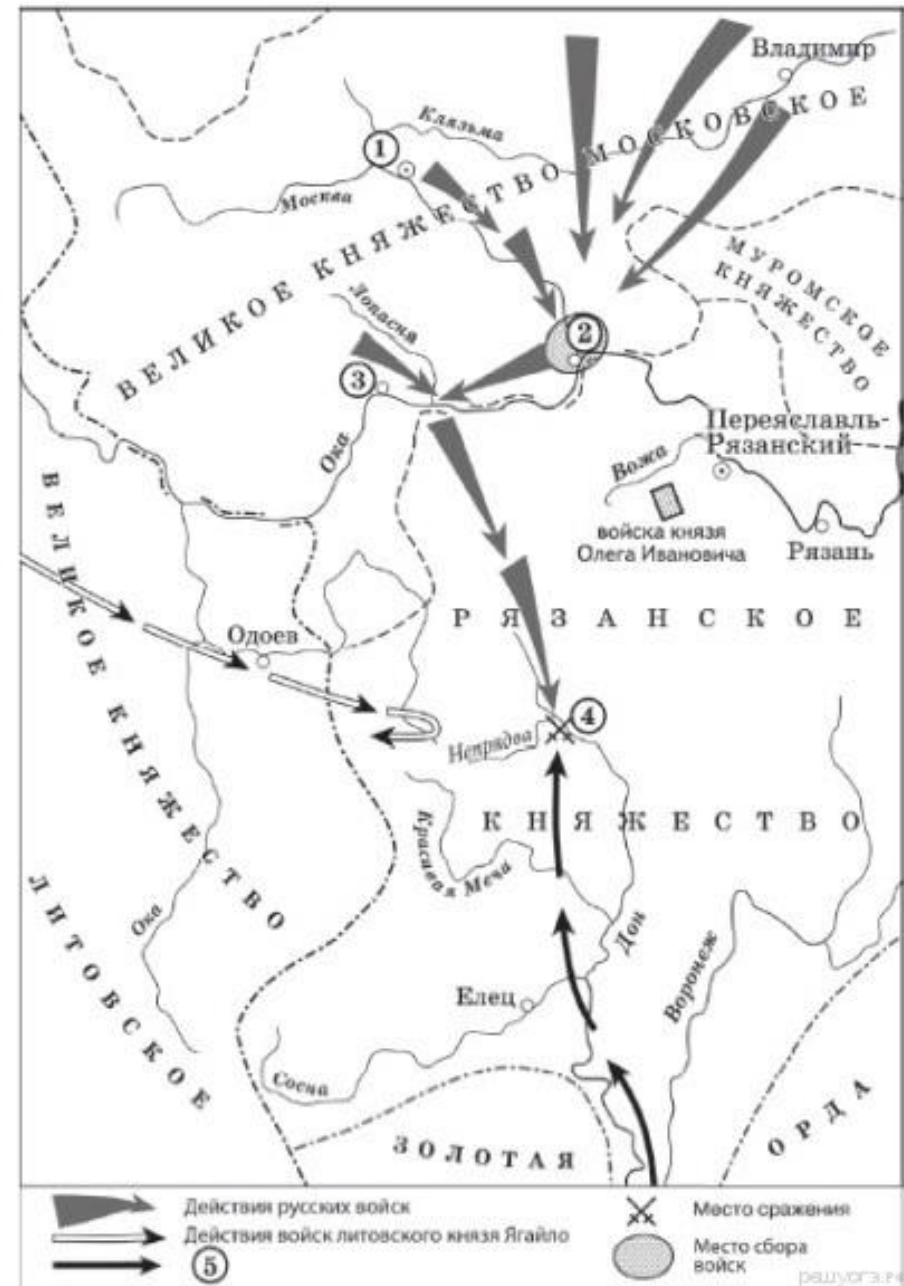
1. Укажите век, когда произошли события, обозначенные на схеме. Ответ запишите словом.

2. Назовите военачальника, командующего войском, поход которого обозначен в легенде схемой цифрой «5».



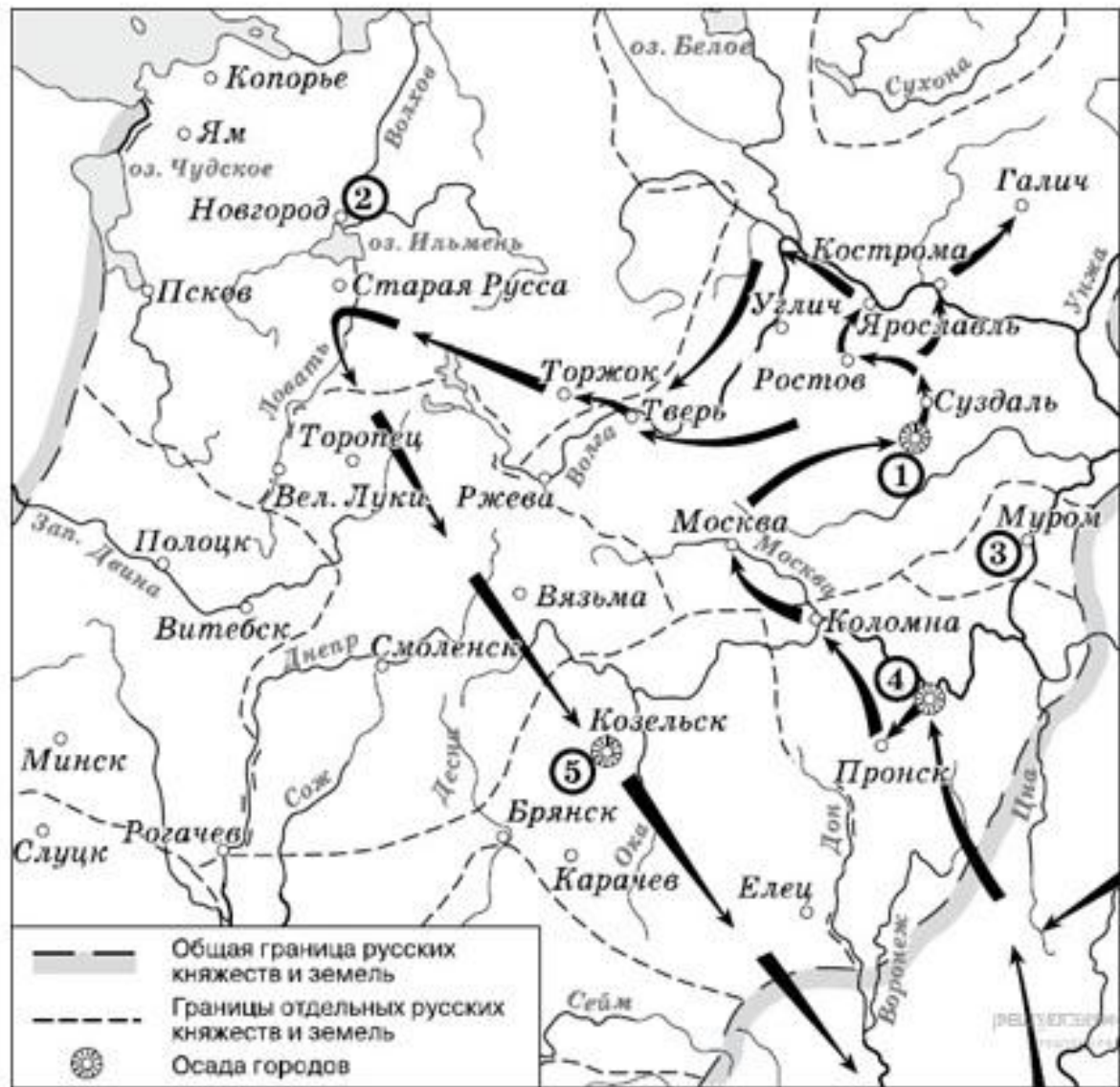
3. «Московский князь призвал всех головы свои положить за землю русскую. Местом сбора русских войск был назначен город _____.

25 августа великий князь московский прибыл в этот город. Его встретили на берегу реки Северки, притоке Москвы-реки. На утро следующего дня было приказано всем воеводам с войсками выехать за город на Девичье поле. Здесь состоялся смотр русских войск перед походом. После совета воевод русские полки 26 августа оставили город и



4. Укажите век, когда произошли события, обозначенные на схеме. Ответ запишите словом.

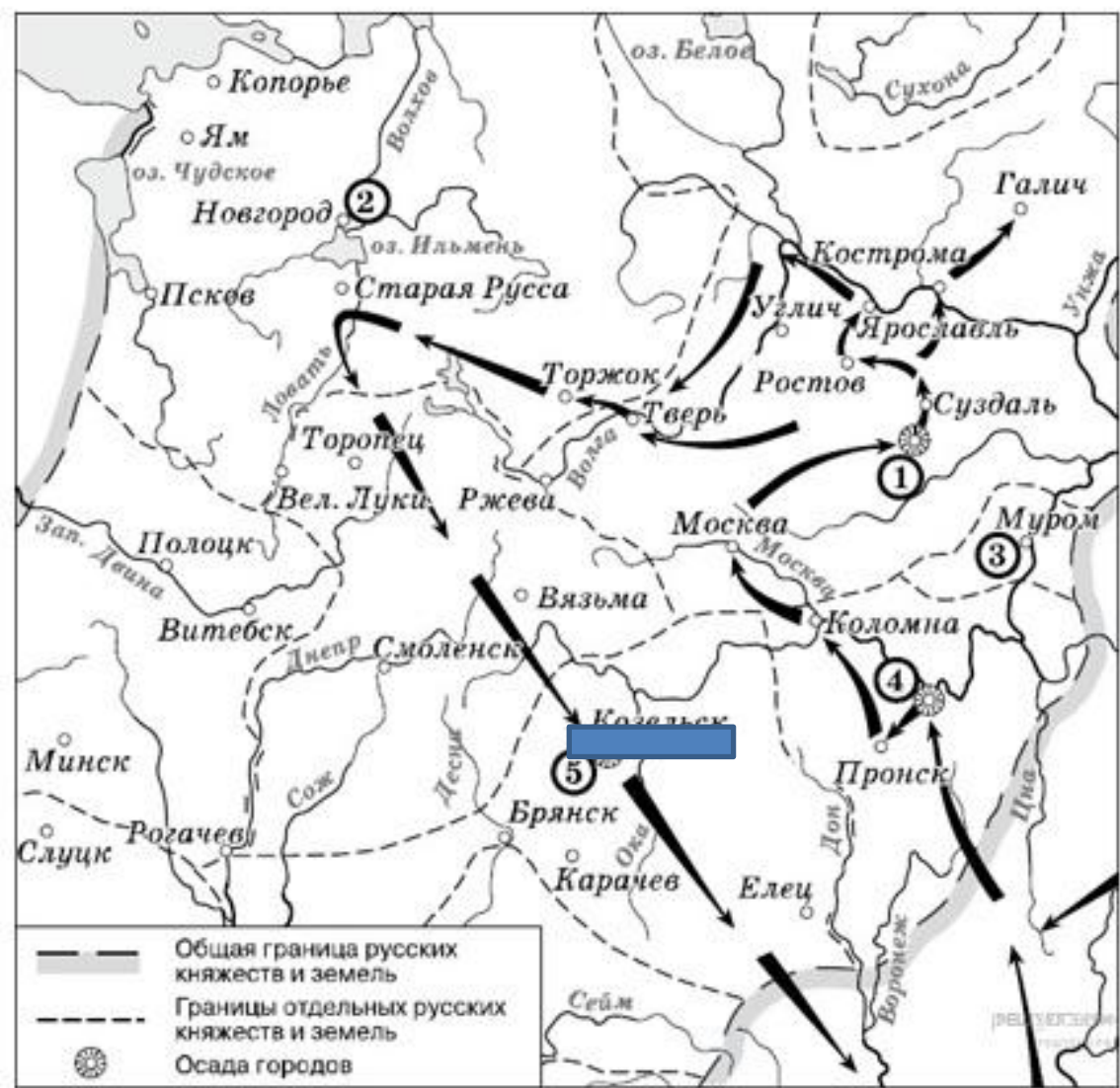
5. Укажите название города, обозначенного на карте цифрой «4».



[ИЯ К ЭТОМУ ТЕКСТУ](#)

6. «Подойдя к городу, войска монголов потребовали его сдачи. Жители

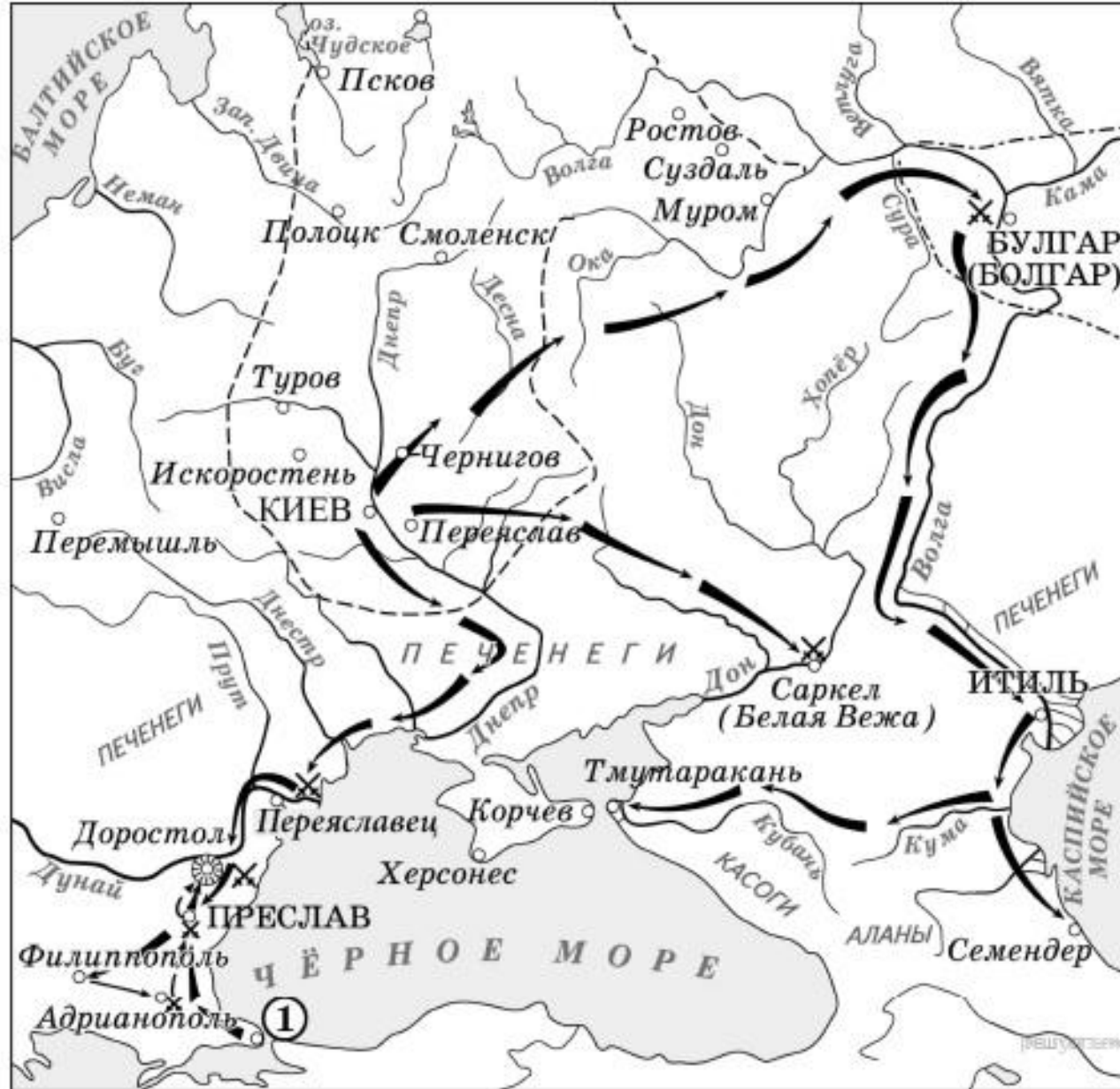
решили на совете: «Наш Князь младенец, но мы, как правоверные, должны за него умереть, чтобы в мире оставить по себе добрую славу а за гробом принят венец бессмертия» «главы своя положить за христианскую веру». Началась семинедельная осада»



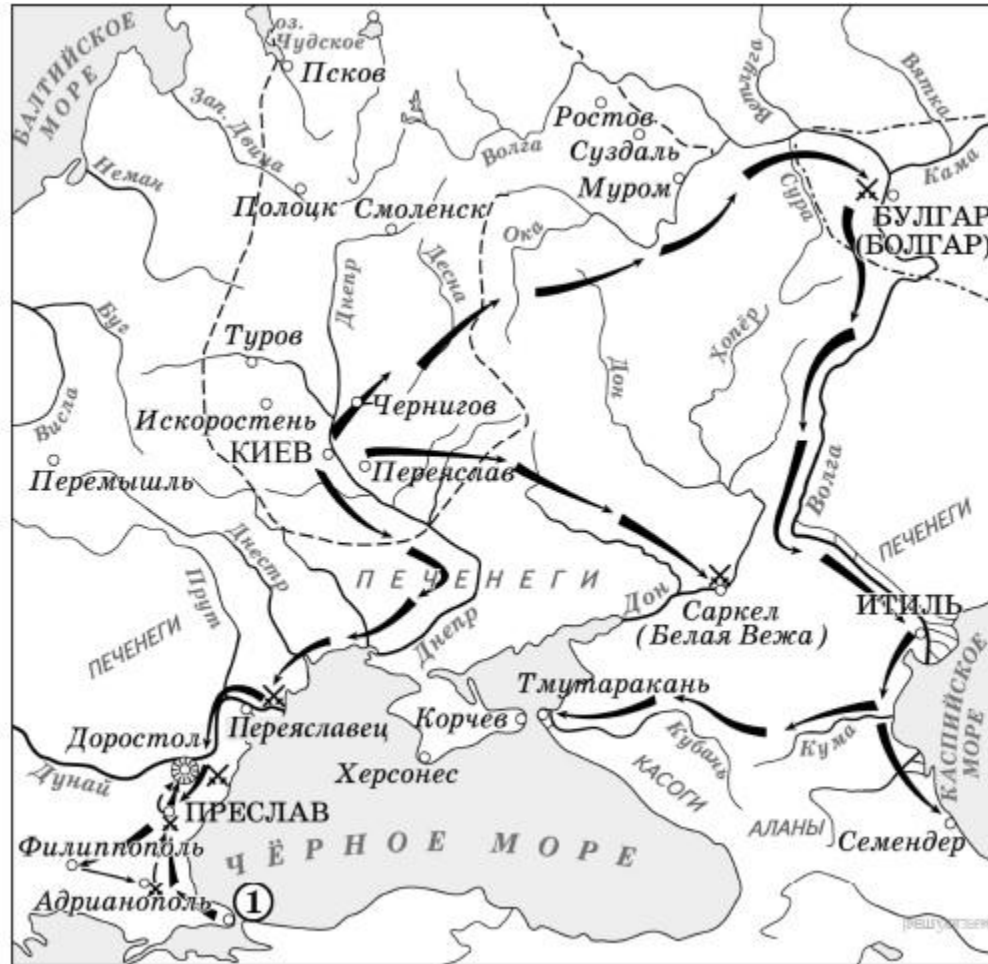
[идя к этому тексту](#)

7. Укажите век, когда произошли события, обозначенные на схеме. Ответ запишите словом.

8. Укажите название города обозначенного на карте цифрой «1».

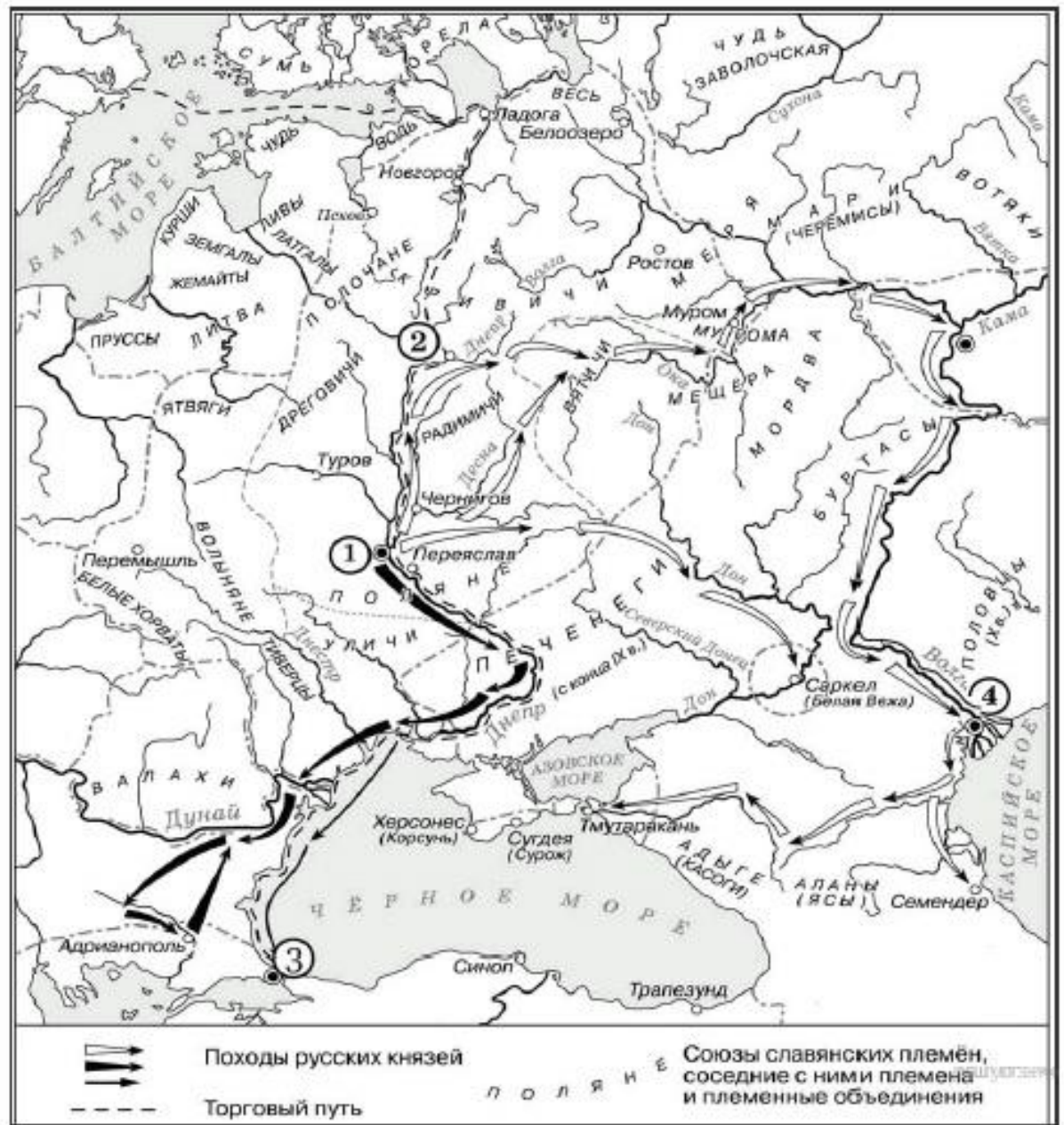


9. «Когда _____ вырос и возмужал, стал он собирать много воинов храбрых, и быстрым был, словно пардус, и много воевал. В походах же не возил за собою ни возов, ни котлов, не варил мяса, но, тонко нарезав конину, или зверину, или говядину и зажарив на углях, так ел; не имел он шатра, но спал, постилая потник с седлом в головах, — такими же были и все остальные его воины. И посылал в иные земли [посланников, как правило, перед объявлением войны] со словами: «Иду на вы!»»

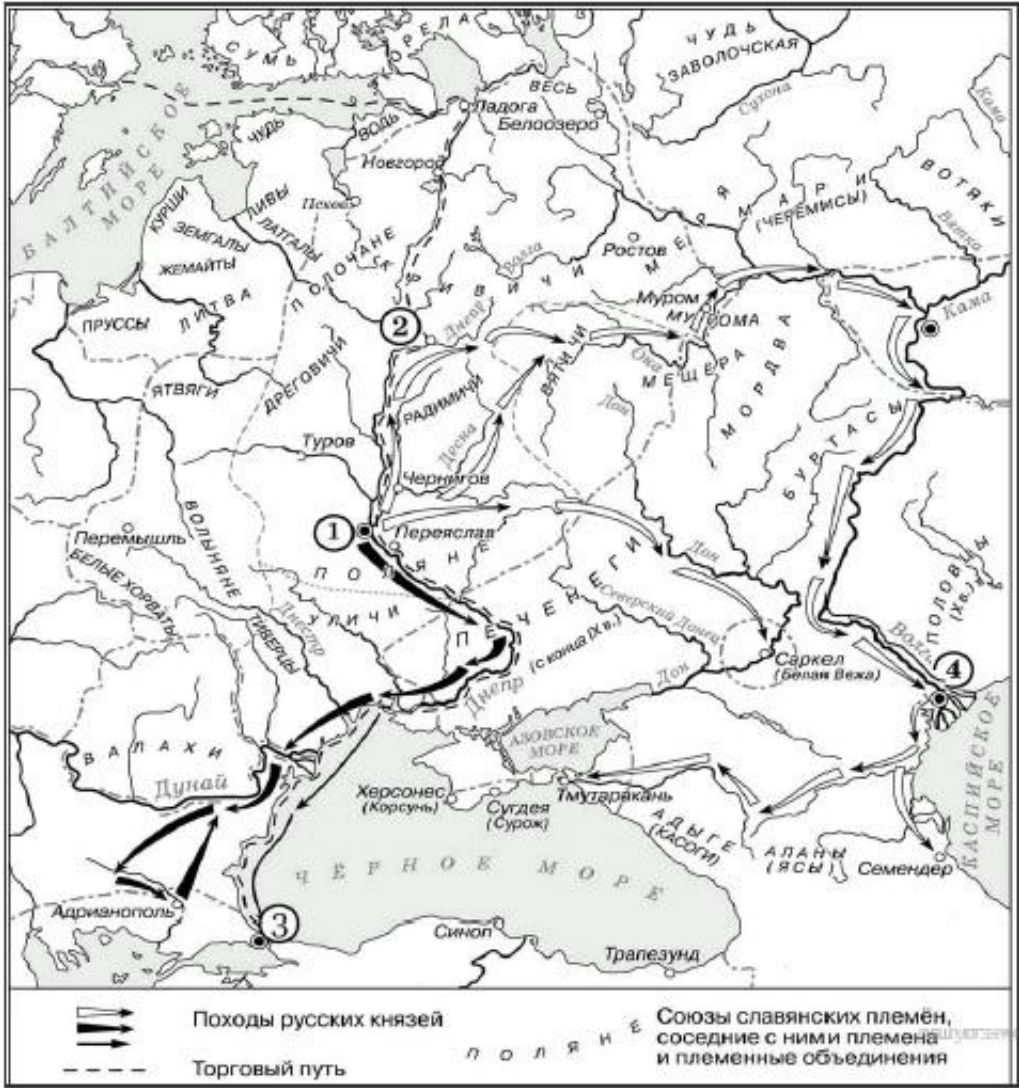


10. Укажите век, когда произошли события, обозначенные на схеме. Ответ запишите словом

11. Укажите название города, обозначенного на карте цифрой «1»

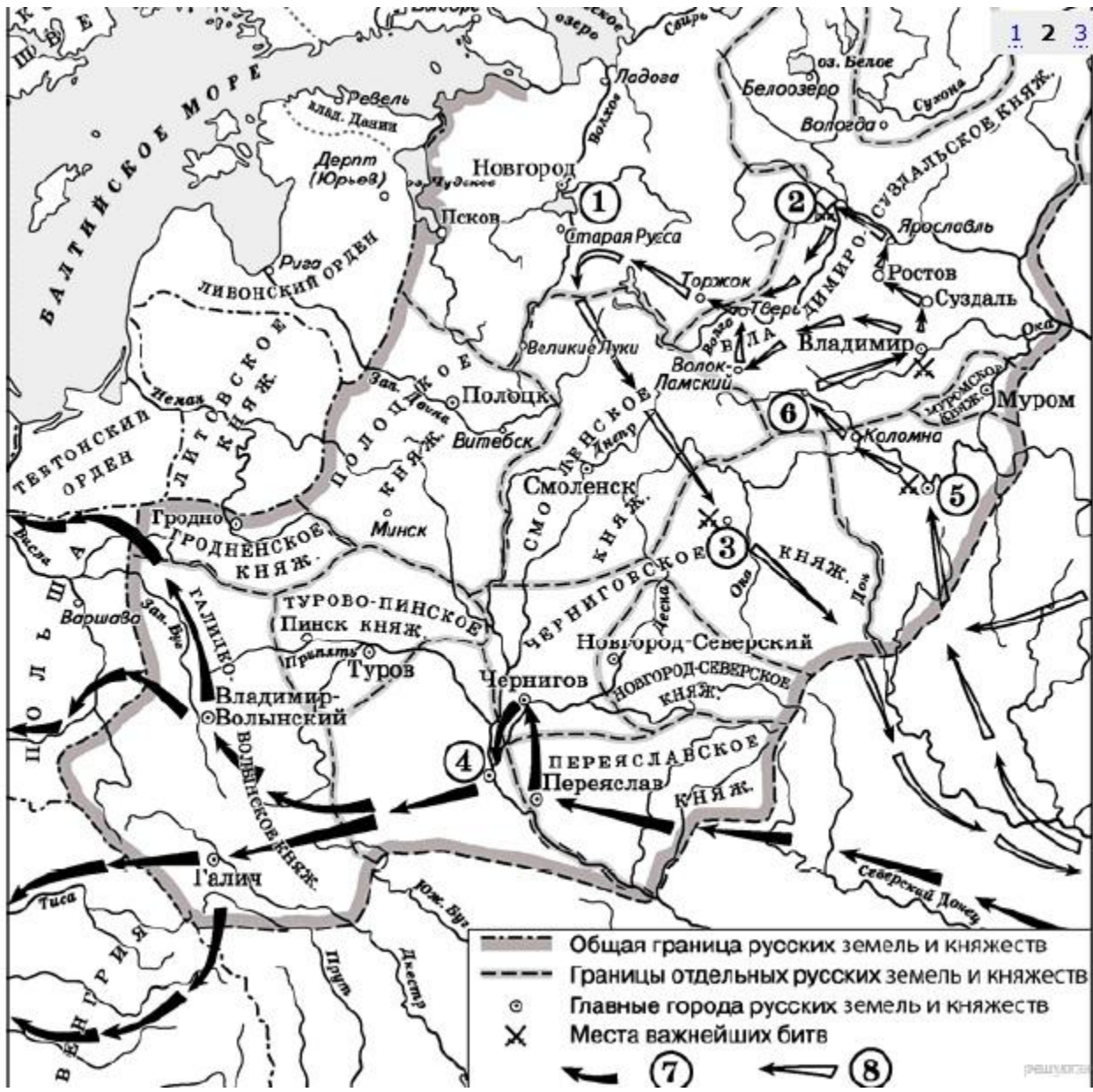


12. «Конфликт разразился при вокняжении князя Святослава Игоревича. Возможно, состоялся один большой поход, либо имели место два похода. Первый — направлен против Саркела (хазарская застава на Дону), второй — против территории Хазарии в Прикаспии. Он мог проходить уже без непосредственного участия Святослава, так как согласно русской летописи князь в это время находился в Киеве. В ходе военных действий, русы разбили хазарское войско во главе с каганом, захватили Саркел, который с этого времени стал русским городом Белая Вежа, подчинили ясов и касогов в Прикубанье. Далее русы разграбили обе части

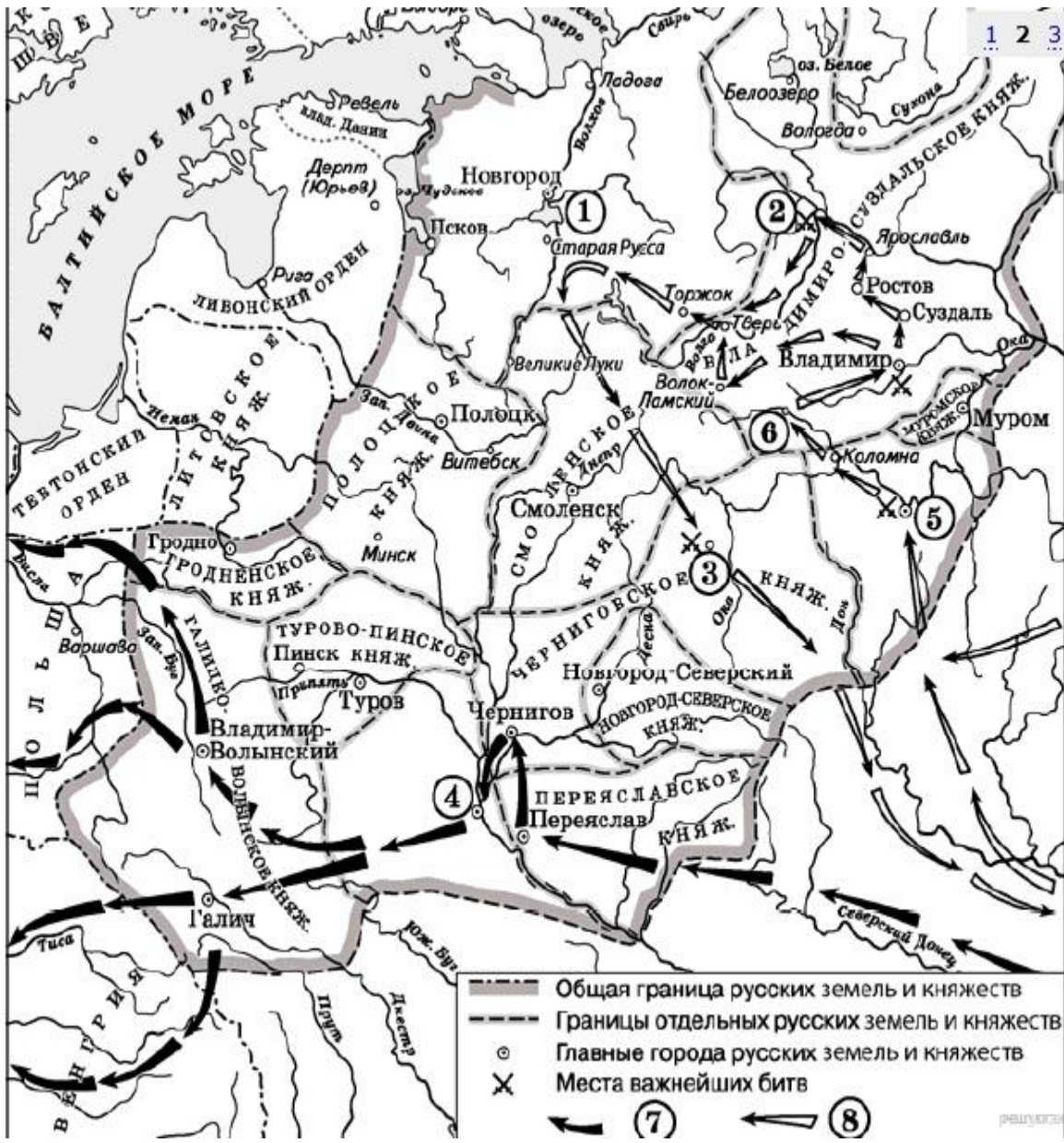


13. Укажите век, когда произошли события, обозначенные на схеме. Ответ запишите словом.

14. Укажите название города, обозначенного на карте цифрой «4».

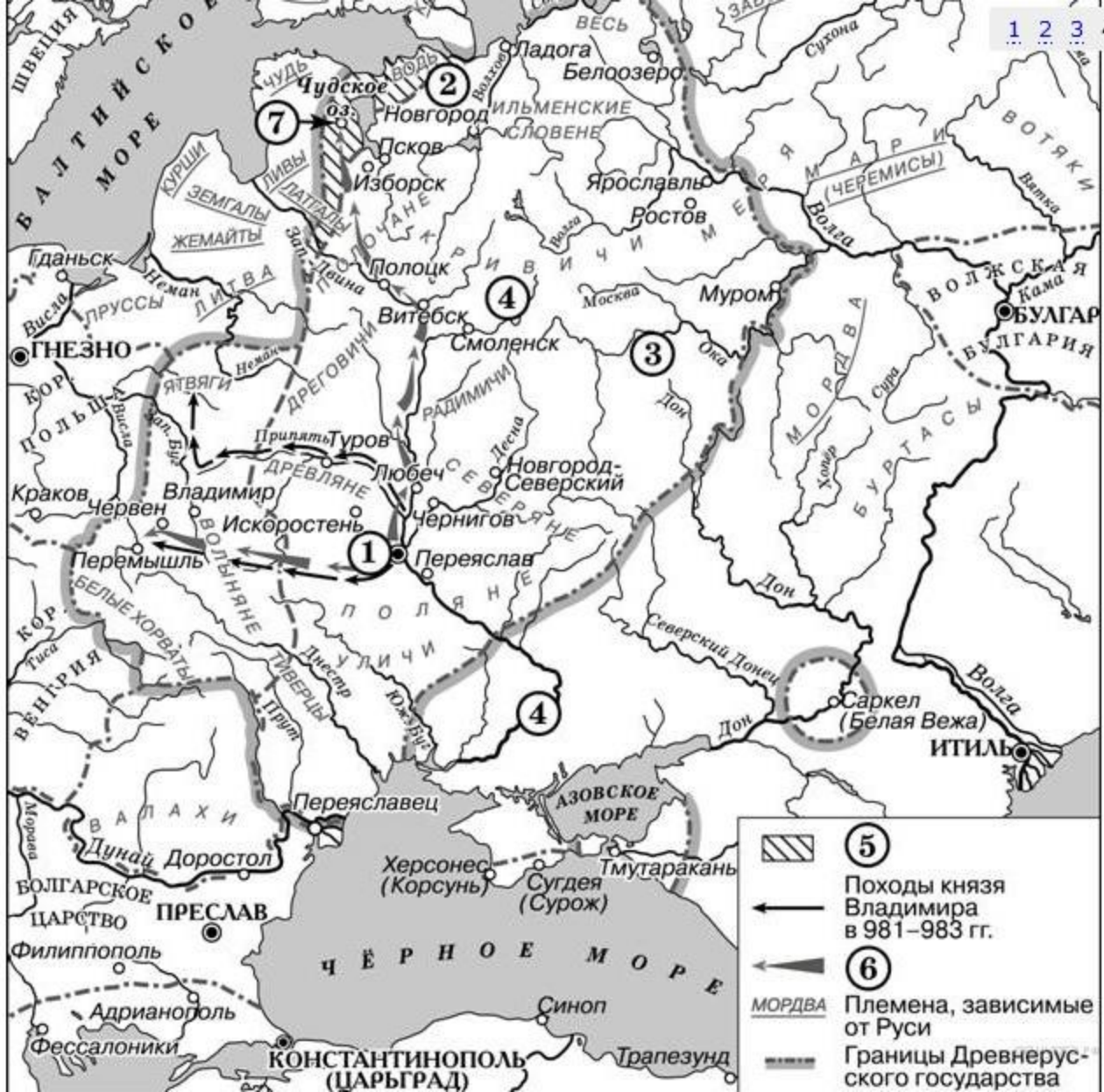


15. «Во время Монгольского нашествия на Русь, [данное] княжество оказалось первым из русских княжеств на пути завоевателей. Осенью орда Батыя вторглась в [его] пределы. Перебив посланное князем посольство и разгромив его дружинь в пограничном сражении, монголотатары разорили Пронск и ряд других городов и затем осадили _____ . После ожесточенного штурма город был захвачен и разрушен, наседошице было

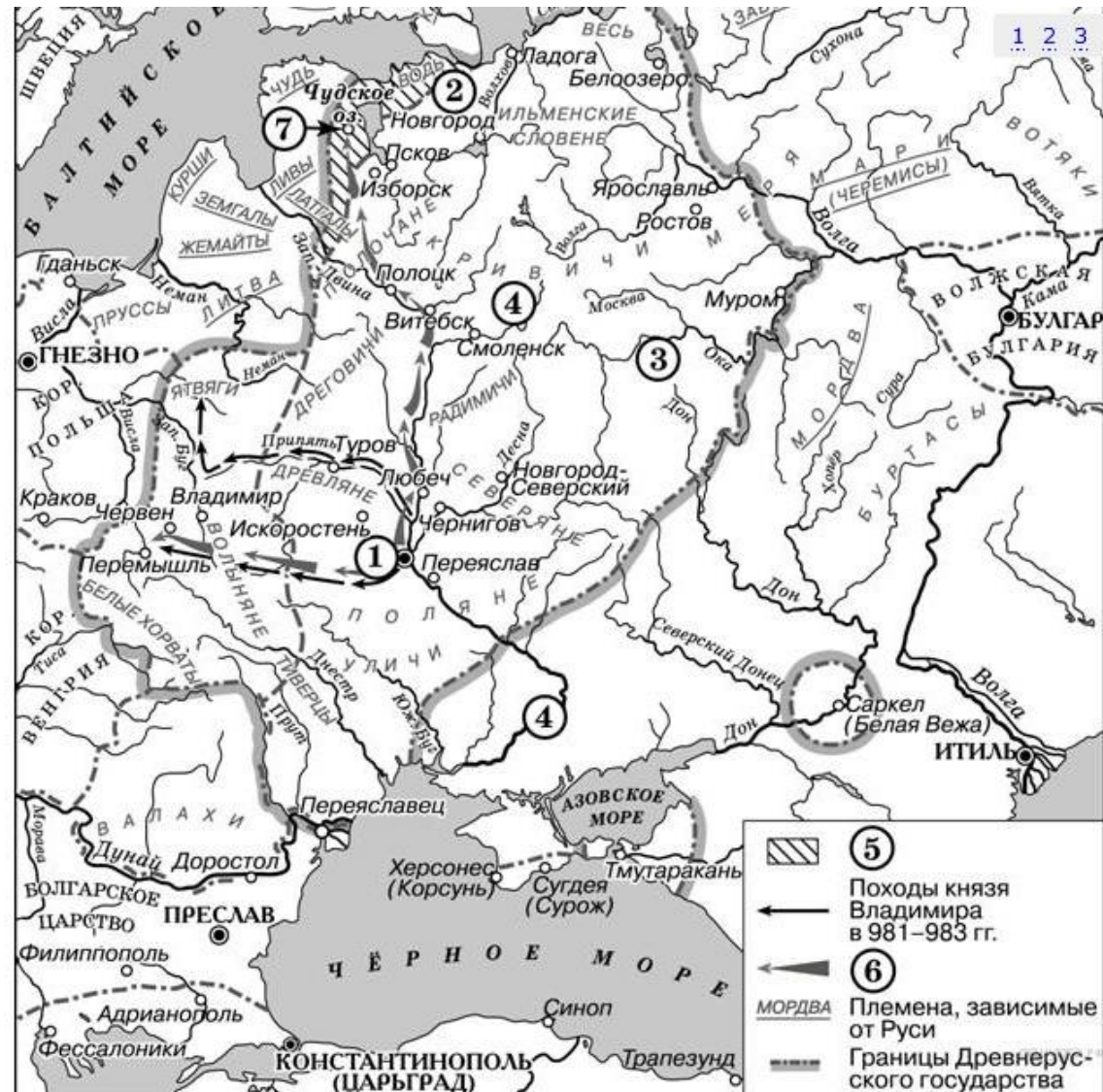


16. Укажите век, когда произошли события, обозначенные на схеме. Ответ запишите словом.

17. Укажите название города, который обозначен на схеме цифрой «1».

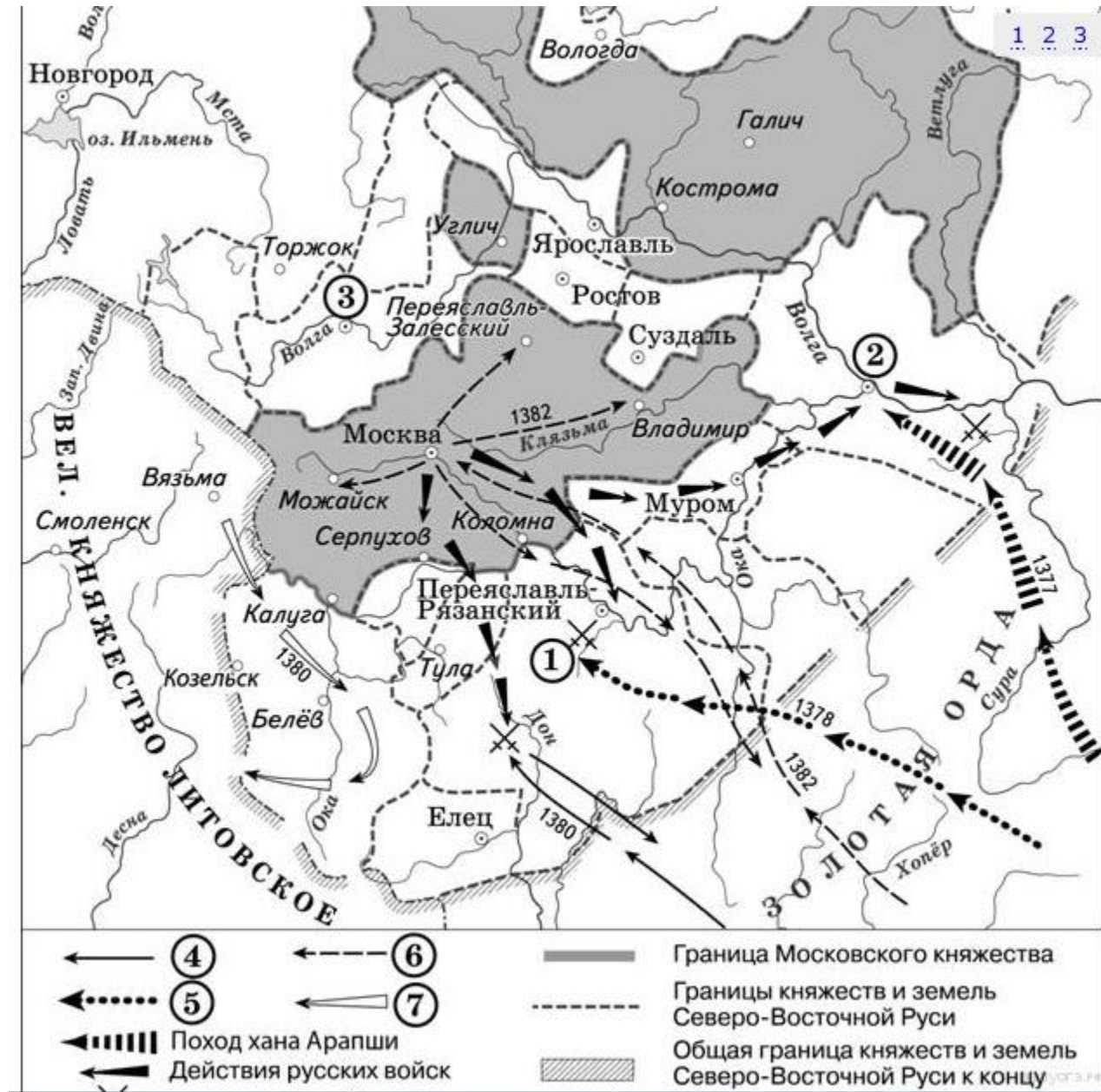


18. «По свидетельствам источников они были прекрасными степными наездниками и имели свой военный строй. Занятиями _____ были кочевое скотоводство (разведение рогатого скота, коней, овец, верблюдов) и ремесло. Тем не менее, они имели и постоянные летние и зимние стойбища. Природа степей немало способствовала развитию и процветанию кочевого скотоводства. С другой стороны, положение кочевников было довольно трудным в холодные зимы. Золото и серебро они добывали грабежом и торговлей. Есть версия, что городов _____ не строили, хотя в их землях упоминаются города Шарукань, Сугров, Чешуев, заложенные именно _____. Кроме того, Шарукань был столицей _____»

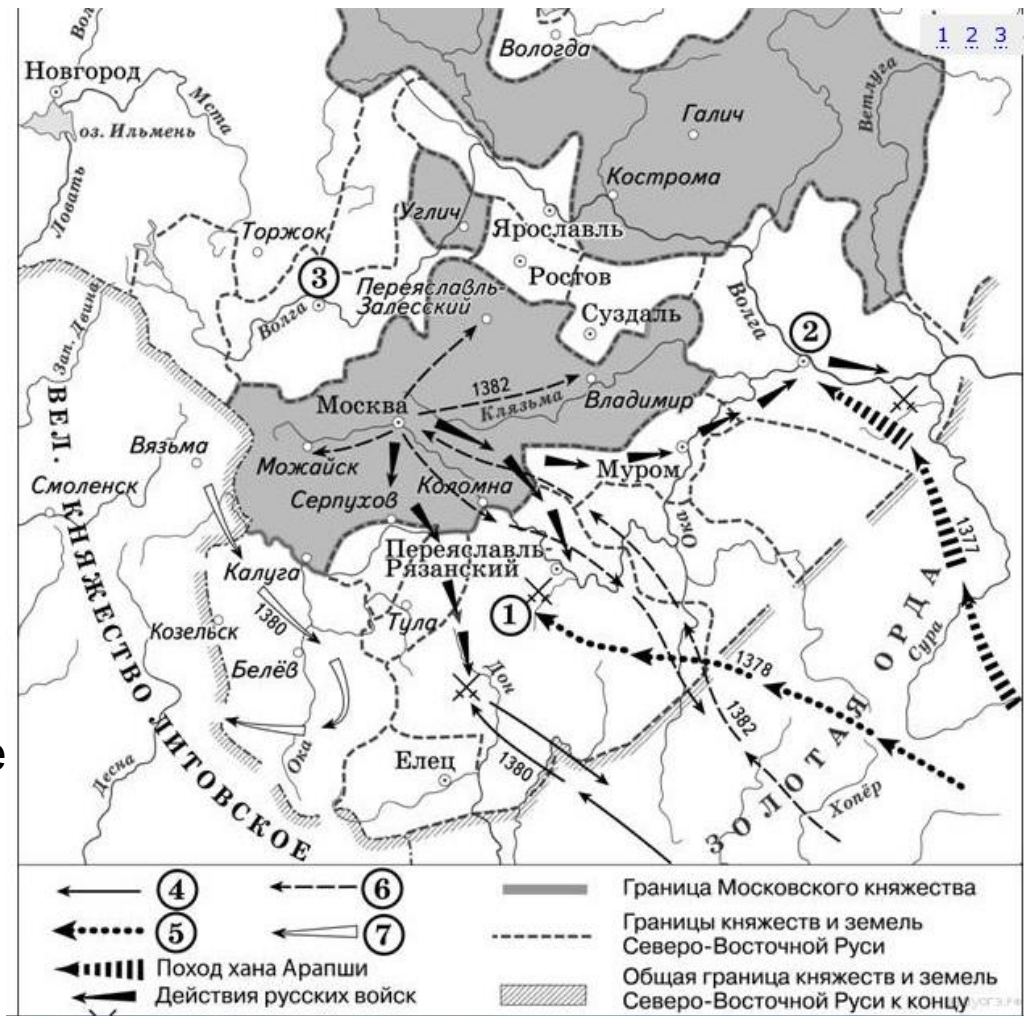


19. Укажите век, когда произошли события, обозначенные на схеме. Ответ запишите словом.

20. Укажите название города, который обозначен на схеме цифрой «3».

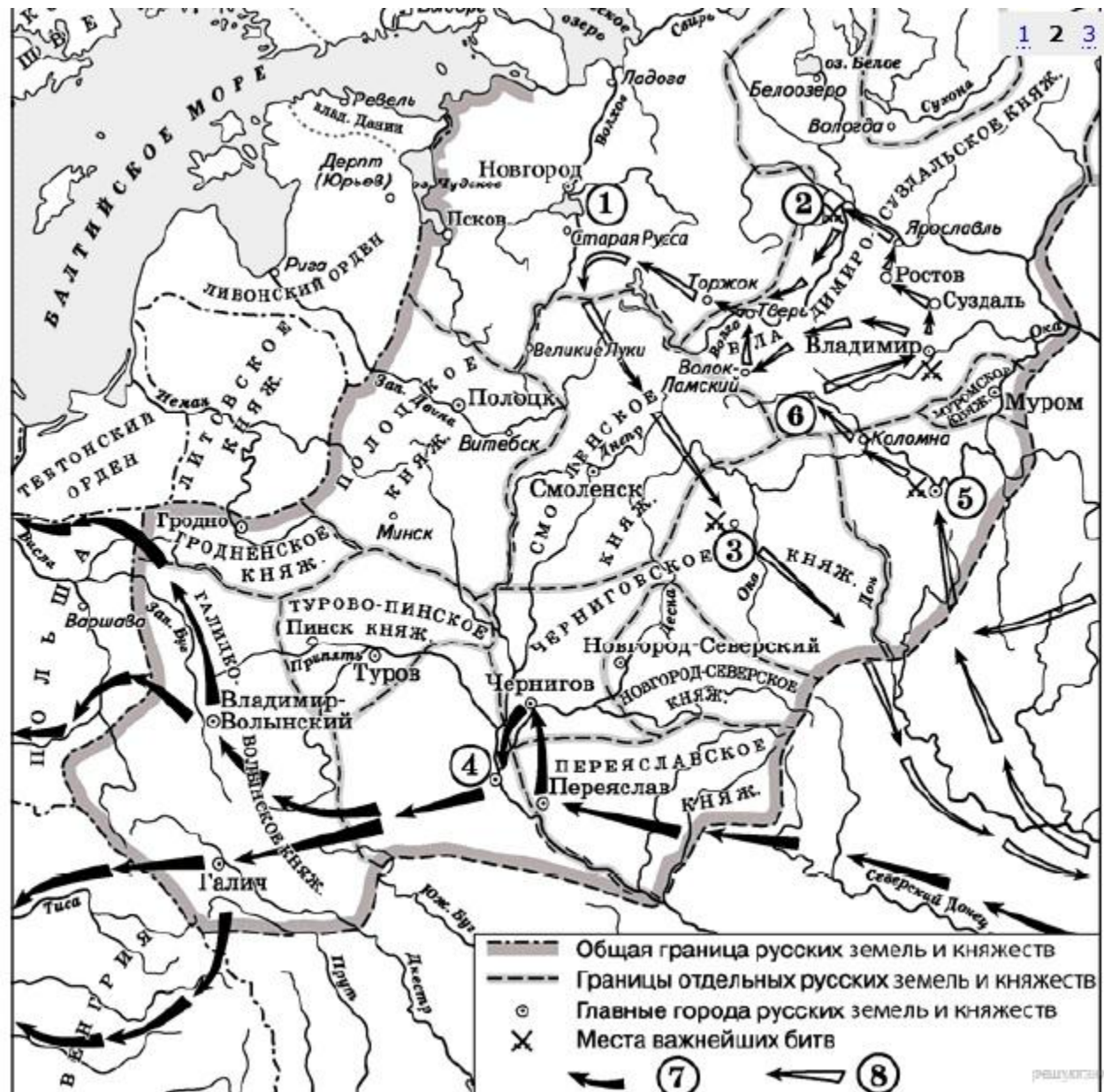


21. «_____» учел уроки Куликовской битвы и принял все меры для того, чтобы его нападение было неожиданным. Это ему удалось. Дмитрий Иоаннович покинул столицу и уехал в Кострому собирать войска. 23 августа ордынское войско подошло к Москве, 3 дня продолжался безуспешный штурм города. Лишь с помощью обмана хан сумел занять и разграбить столицу Московского княжества. После захвата города _____ стал рассылать по Московской земле свои отряды. Когда до него дошли известия, что один из отрядов был уничтожен войсками кн. Владимира Храброго, а в Костроме с войсками стоит Дмитрий Иоаннович, то хан поспешил увести свои войска в Орду, разграбив по пути Рязанскую землю. После этого набега среди князей, ранее признававших политическое верховенство Москвы, начались колебания. Сыновья нижегородского князя встречали ордынское войско на границе владений отца, затем вместе с ним под стенами

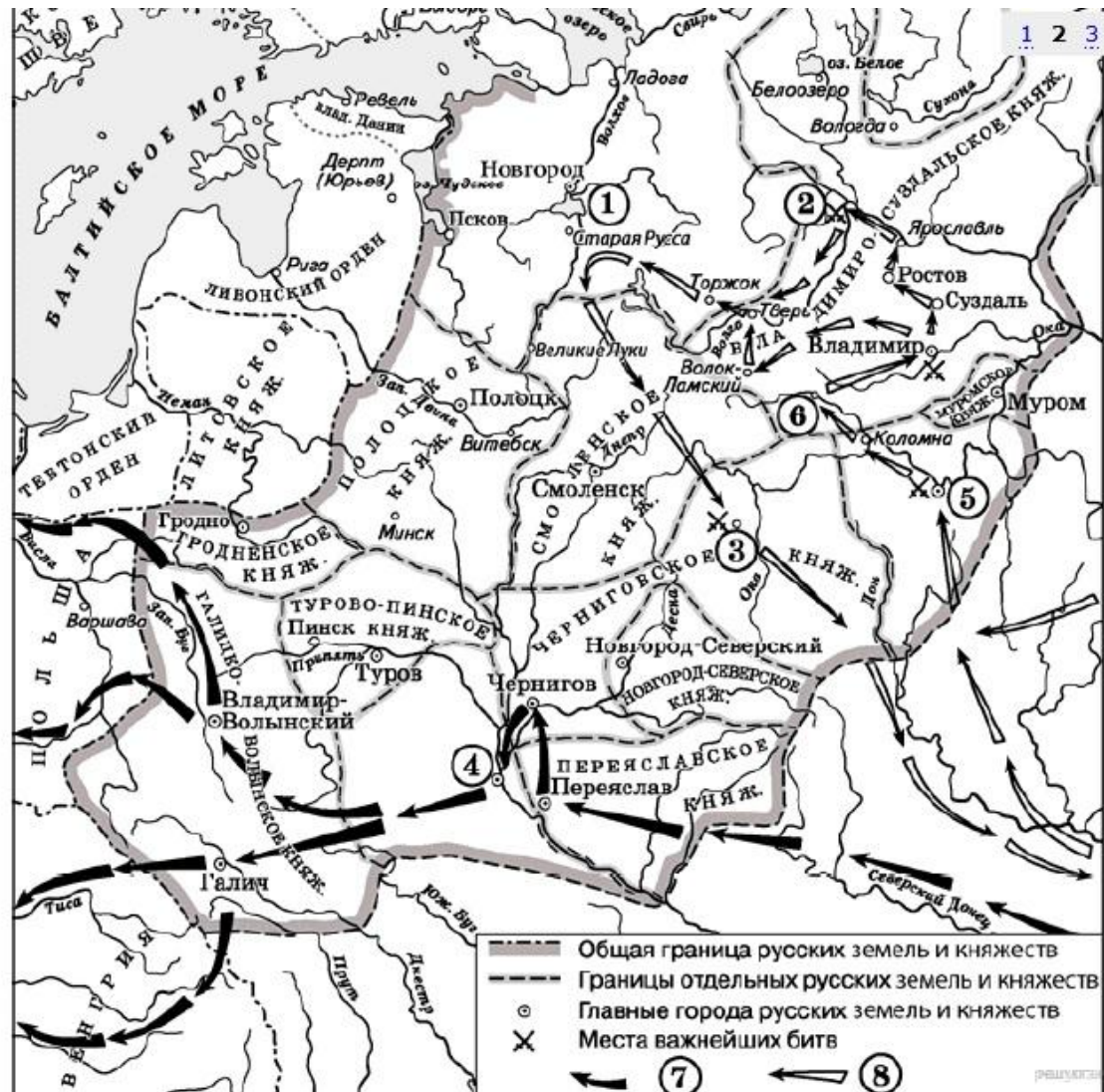


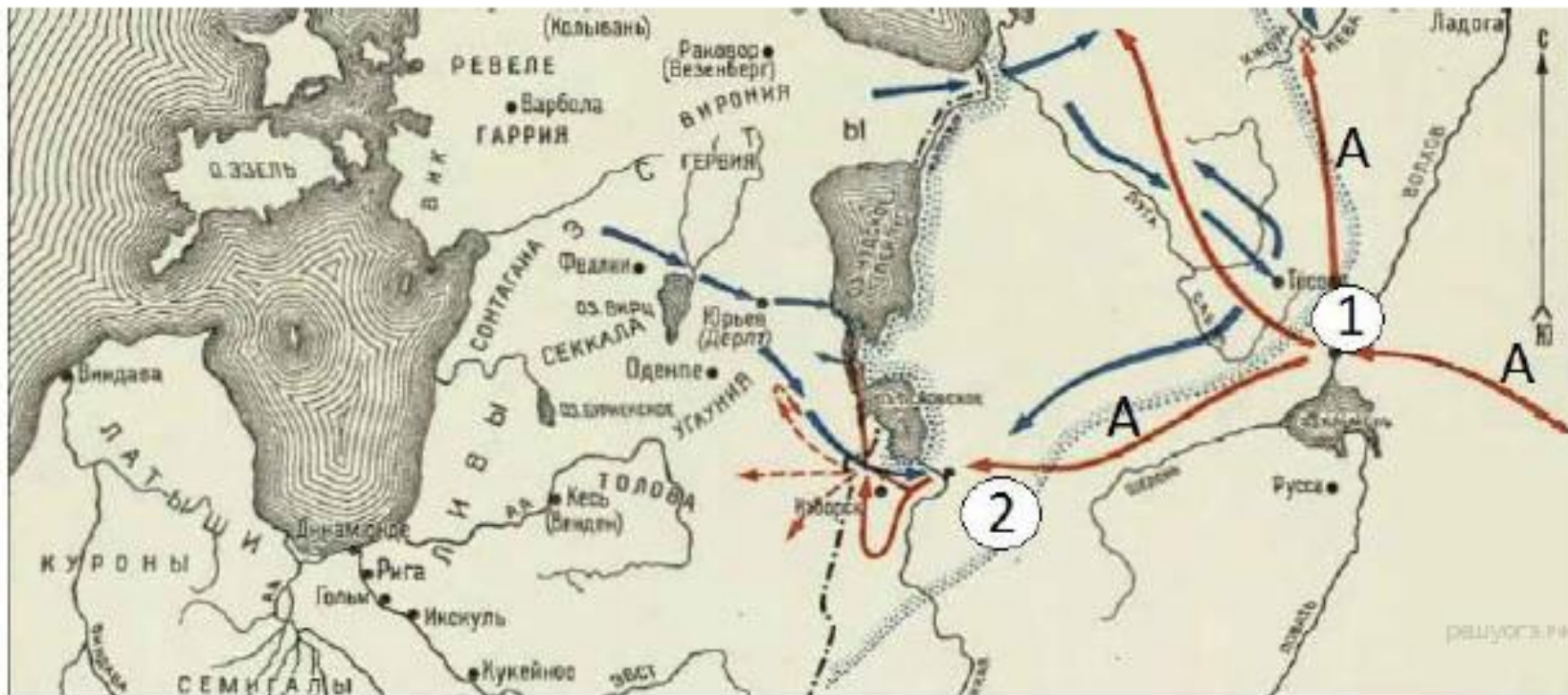
22. Укажите век, когда произошли события, обозначенные на схеме. Ответ запишите словом.

23. Назовите военачальника, возглавлявшего походы, обозначенные в легенде схемы цифрами «7» и «8».



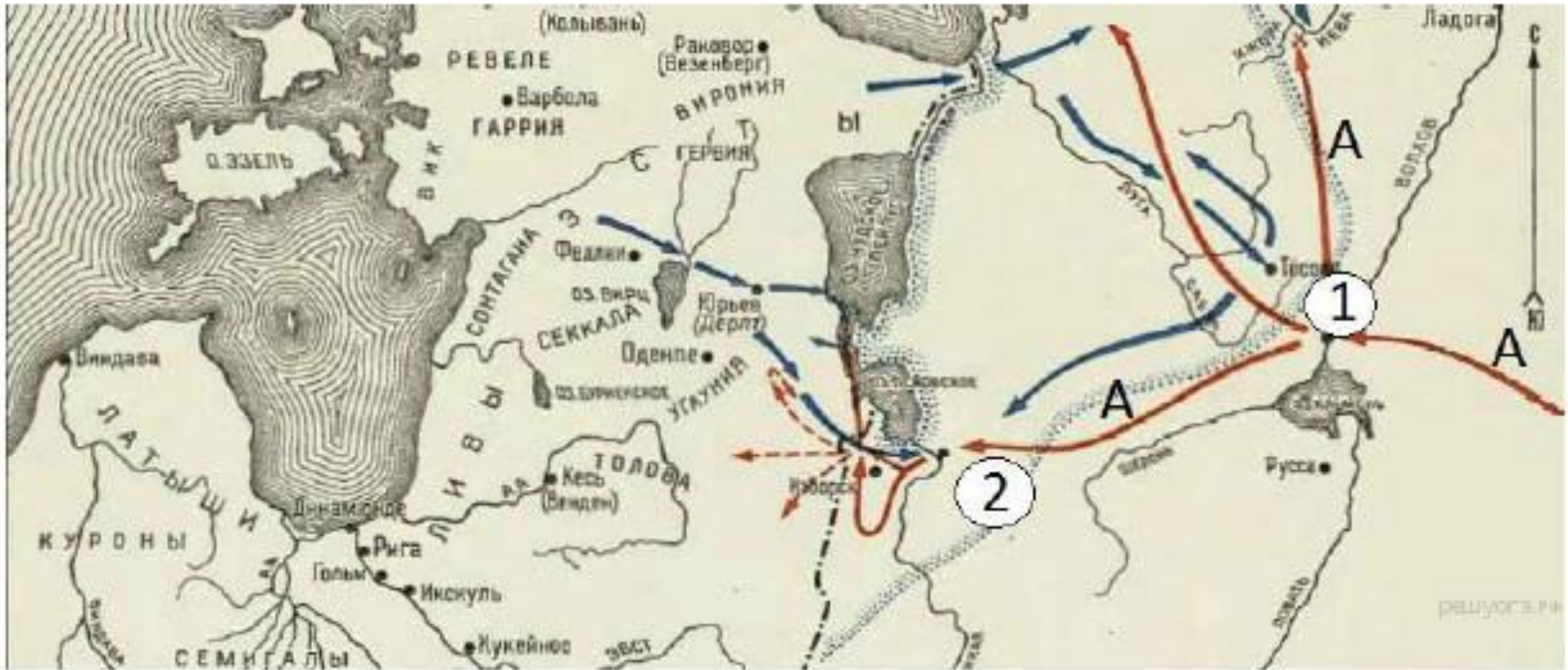
24. «Разорив Рязань, завоеватели двинулись во Владимиро-Суздальскую землю. У Коломны вражеская рать встретилась со сторожевым отрядом, высланным владимирским князем Юрием Всеволодовичем, и с рязанским полком во главе с князем Романом Ингваревичем. В ожесточённом бою пало много воинов, был убит и князь Роман. Далее на пути завоевателей лежала _____, обороной которой руководил воевода Филипп Нянка. Сопротивление жителей было сломлено, город и окрестные села сожжены неприятелем, жители перебиты «от старца и до младенца», а юный князь Владимир Юрьевич взят в





25. Укажите век, когда произошли события, обозначенные на схеме. Ответ запишите словом.

26. Назовите военачальника, командующего войском, поход которого обозначен буквой «А» на схеме. В ответ запишите его имя и прозвание (например, Иван Грозный)



- 27. «В этой обстановке значение союза _____ с князем должно было возрасти неизмеримо. В летописном рассказе о событиях этих лет фигура князя занимает центральное место. Князь возглавляет поход на Неву [из этого города] и прославляет своё имя в победоносной Невской битве со шведами. Можно предполагать, что усиление роли князя сопровождалось уже в это время и более активным его вмешательством в городские республиканские порядки».