

Числа 1, 2.
Цифры 1, 2.



Без корзинки, без
лукошка

В лес пошёл лисёнок
крошка.

Походил он,
побродил

И грибок нашёл....

(один).



СКОЛЬКО ГРИБОЧКОВ НА КАРТИНКЕ?




Бежал зайчик вдоль равнин.

Значит зайчик был ...



Цифра 1



**Эта цифра – единица.
Видишь, как она
гордится.
А, вы, знаете почему?
Начинает счёт всему.**



СКОЛЬКО ПИРАМИДОК ?



СКОЛЬКО ЁЖИКОВ ?



2





2





Сколько перчаток? Сапог? Ботинок?



2

пара





1

2



На какие две группы можно
разделить данные предметы?

1

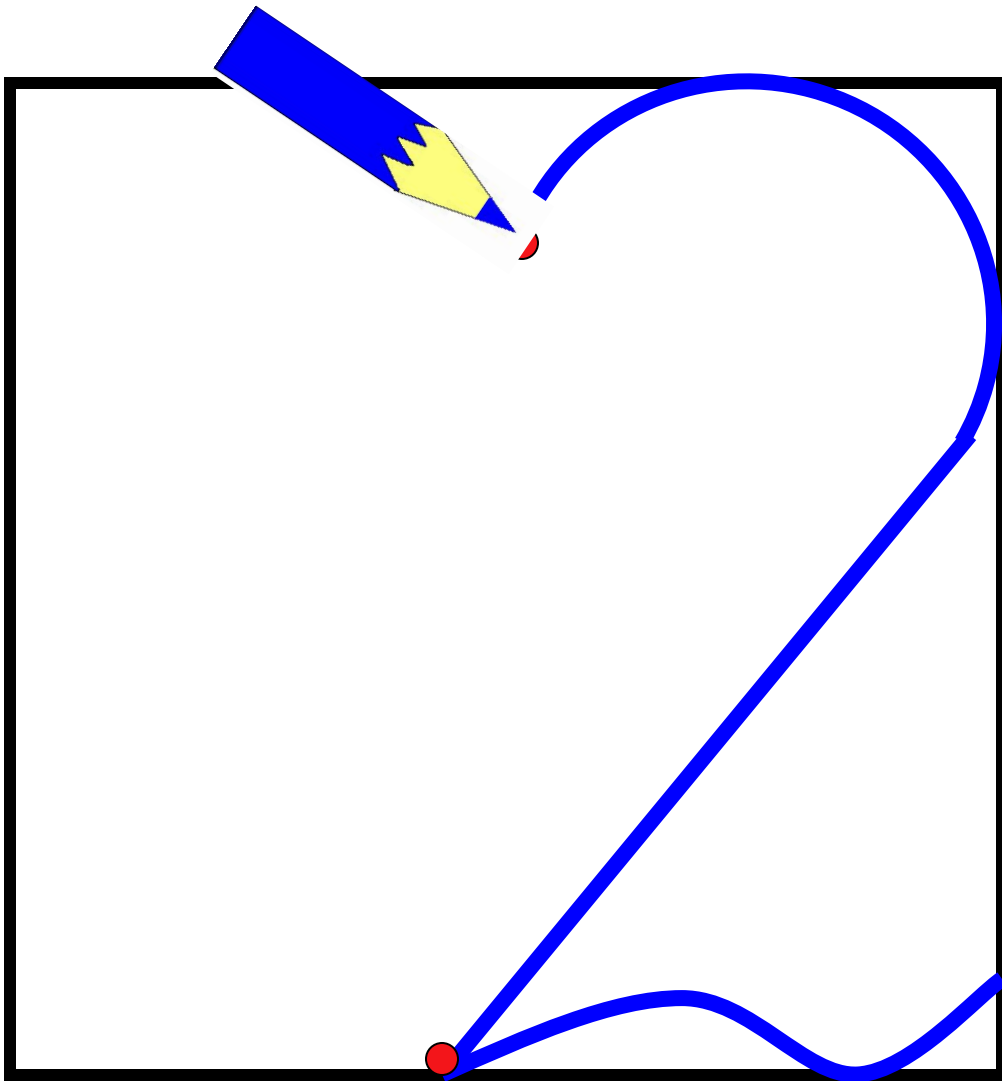


2




2







1. Рассмотрни рисунки. Сосчитай, сколько предметов на каждом из них. Нужное число обведи, ненужное — зачеркни.



2. В синюю кастрюлю положи столько красных яблок разного размера, сколько показывает число на кастрюле. В голубую кастрюлю положи столько же больших яблок разного цвета.




1

Рассмотри рисунки. Сосчитай, сколько предметов на каждом из них. Нужное число обведи, ненужное — зачеркни.



1

Рассмотри рисунки. Сосчитай, сколько предметов на каждом из них. Нужное число обведи, ненужное — зачеркни.




2

В синюю кастрюлю положи столько красных яблок разного размера, сколько показывает число на кастрюле. В голубую кастрюлю положи столько же больших яблок разного цвета.



2 В синюю кастрюлю положи столько красных яблок разного размера, сколько показывает число на кастрюле. В голубую кастрюлю положи столько же больших яблок разного цвета.



3 Какая картинка лишняя? Почему? Зачеркни её.

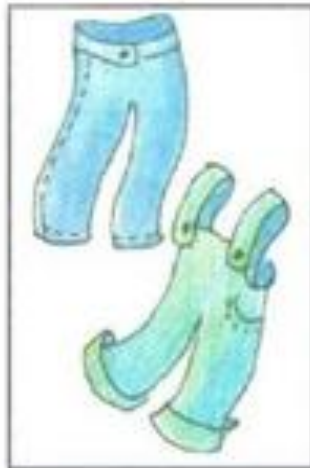



4 Мальчик с двумя шариками живёт в высоком доме с одним окном. Мальчик, у которого один шар, живёт в низком доме с двумя окнами. Нарисуй дорожки. Найди один предмет и два предмета и соедини с нужным числом.



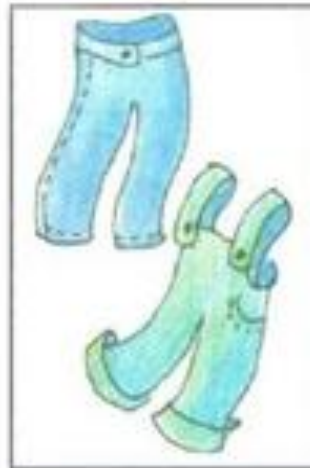
3

Какая картинка лишняя? Почему? Зачеркни её.



3

Какая картинка лишняя? Почему? Зачеркни её.



4 Мальчик с двумя шариками живёт в высоком доме с одним окном. Мальчик, у которого один шар, живёт в низком доме с двумя окнами. Нарисуй дорожки. Найди один предмет и два предмета и соедини с нужным числом.



- 4 Мальчик с двумя шариками живёт в высоком доме с одним окном. Мальчик, у которого один шар, живёт в низком доме с двумя окнами. Нарисуй дорожки. Найди один предмет и два предмета и соедини с нужным числом.



1



2



Молодцы!

