


Урок математики


17.09



Тема урока

Миллиметр

**Закреплени
е**




Давай
вспомним!

$$1 \text{ дм} = 10 \text{ см}$$

$$1 \text{ см} = 10 \text{ мм}$$

$$1 \text{ дм} = 100 \text{ мм}$$



Выполни устно №1 на стр.

11.

Проверяем

1) $28 - 2$ дес. 8 ед.; $46 - 4$ дес. 6 ед.; $99 - 9$ дес. 9 ед.; $80 - 8$ дес. 0 ед.


2) $2 \text{ см} = 20 \text{ мм}$; $4 \text{ см } 2 \text{ мм} = 42 \text{ мм}$

3) $30 \text{ мм} = 3 \text{ см}$; $10 \text{ дм} = 100 \text{ см}$



4) $8 \text{ см } 5 \text{ мм} = 85 \text{ мм}$; $3 \text{ см } 2 \text{ мм} = 32 \text{ мм}$; $1 \text{ дм} = 100 \text{ мм}$

**Выполни устно №2 на стр.
11.**

**Измерь
толщину ...**



Как определить размер шапки?



Выполни письменно

№4

Проверяем

1) 100, 90, 80, 70, 60

...

2) 12, 23, 34, 45 ...

3) 98, 88, 78, 68 ...

50

40

30

20

10

56

67

78

89

58

48

38

28

Выполни самостоятельно №5

Ты многому уже научился,
справишься и с этим
заданием! Я верю в тебя!

