

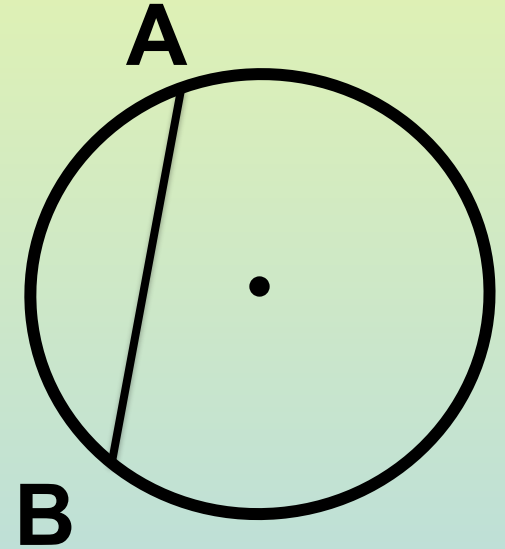
# ***Тест***

## ***«Обыкновенные дроби»***

Составитель: Муратова А.В.  
(с использованием контрольно-  
измерительных материалов.  
Математика 5 класс/ составитель Л.  
П.Попова)

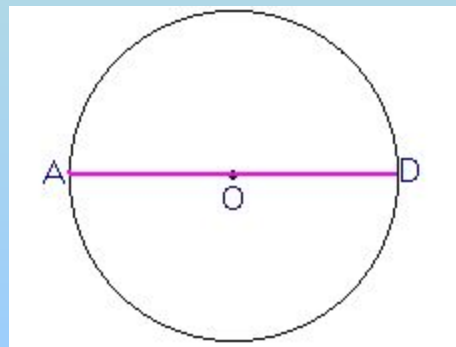
# Как называют отрезок АВ на чертеже?

- диаметр окружности
- радиус окружности
- хорда окружности
- дуга окружности



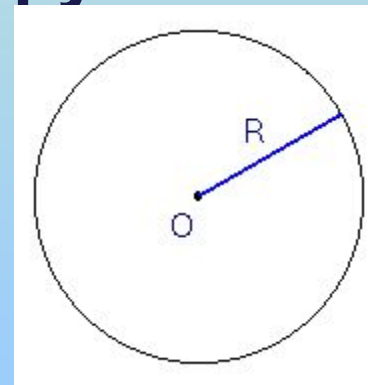
# Диаметр окружности – это отрезок, который ...

- соединяет две произвольные точки окружности
- соединяет центр с произвольной точкой окружности
- соединяет две точки окружности и проходит через центр окружности
- пересекает две точки окружности



# Радиус окружности – это отрезок, который ...

- соединяет две произвольные точки окружности
- соединяет центр с произвольной точкой окружности
- соединяет две точки окружности и проходит через центр окружности
- проходит через центр окружности



# Выберите верное высказывание

- Диаметр окружности равен радиусу
- Диаметр окружности равен половине радиуса
- Радиус окружности равен половине диаметра
- Радиус окружности равен двум диаметрам



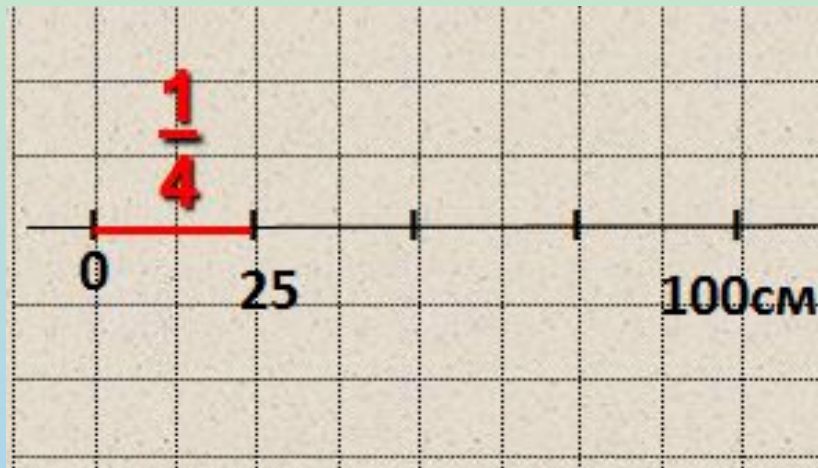
# Сколько сантиметров в четверти метра?

50 см.

25 см.

20 см.

25 дм.



# Какая часть фигуры закрашена красным цветом?

$\frac{3}{8}$

$\frac{5}{8}$

$\frac{3}{5}$

$\frac{5}{3}$

